

بِسْمِ اللَّهِ الرَّحْمَنِ الرَّحِيمِ

زیست شناسی (۲)

رشته علوم تجربی

پایه یازدهم

دوره دوم متوسطه




وزارت آموزش و پرورش سازمان پژوهش و برنامه‌ریزی آموزشی

زیست‌شناسی (۲) - پایه یازدهم دوره دوم متوسطه - ۱۱۱۲۱۶
سازمان پژوهش و برنامه‌ریزی آموزشی
دفتر تألیف کتاب‌های درسی عمومی و متوسطه نظری
علی آل محمد، محمد ابراهیمی، مریم انصاری، علیرضا ساری، الهه علوی، اعظم غلامی و بهمن فخریان (اعضای شورای برنامه‌ریزی)
علی آل محمد، محمد ابراهیمی، مریم انصاری، الهه علوی و بهمن فخریان (اعضای گروه تألیف) - بهمن فخریان (ویراستار علمی) - محمد کاظم بهنیا (ویراستار ادبی)
اداره کل نظارت بر نشر و توزیع مواد آموزشی
احمدرضا امینی (مدیر امور فنی و چاپ) - مجید ذاکری بونسی (مدیر هنری) - احسان رضوانی (نگاشتارگر [طراح گرافیک]، طراح جلد و صفحه‌آرا) - عزیز عذار (عکاس تشریح اندام‌ها) - فاطمه باقری مهر، فاطمه گیتی جبین، زهرا رشیدی مقدم، فاطمه پزشکی، فاطمه رئیس‌یان فیروزآباد (امور آماده‌سازی)
تهران: خیابان ایرانشهر شمالی - ساختمان شماره ۴ آموزش و پرورش (شهید موسوی)
تلفن: ۸۸۸۳۱۱۶۱-۹، دورنگار: ۹۲۶۶۰۸۸۳، کد پستی: ۱۵۸۴۷۴۷۳۵۹
وبگاه: www.chap.sch.ir و www.irtextbook.ir
شرکت چاپ و نشر کتاب‌های درسی ایران تهران: کیلومتر ۱۷ جاده مخصوص کرج - خیابان ۶۱ (داروپخش)
تلفن: ۴۴۹۸۵۱۶۱-۵، دورنگار: ۴۴۹۸۵۱۶۰، صندوق پستی: ۳۷۵۱۵-۱۳۹
شرکت چاپ و نشر کتاب‌های درسی ایران «سهامی خاص»
چاپ دوم ۱۳۹۷

نام کتاب:
پدیدآورنده:
مدیریت برنامه‌ریزی درسی و تألیف:
شناسه افزوده برنامه‌ریزی و تألیف:
مدیریت آماده‌سازی هنری:
شناسه افزوده آماده‌سازی:
نشانی سازمان:
ناشر:
چاپخانه:
سال انتشار و نوبت چاپ:

شابک ۹۷۸-۹۶۴-۰۵-۲۷۸۵-۶
ISBN: 978-964-05-2785-6



جوان‌ها قدر جوانیشان را
بدانند و آن را در علم و تقوا
و سازندگی خودشان صرف
کنند که اشخاصی امین و
صالح بشوند. مملکت ما با
اشخاص امین می‌تواند مستقل
باشد.

امام خمینی
«قدس سره الشریف»

کلیه حقوق مادی و معنوی این کتاب متعلق به سازمان پژوهش و برنامه‌ریزی آموزشی وزارت آموزش و پرورش است و هرگونه استفاده از کتاب و اجزای آن به صورت چاپی و الکترونیکی و ارائه در پایگاه‌های مجازی، نمایش، اقتباس، تلخیص، تبدیل، ترجمه، عکس برداری، نقاشی، تهیه فیلم و تکثیر به هر شکل و نوع، بدون کسب مجوز ممنوع است و متخلفان تحت پیگرد قانونی قرار می‌گیرند.

فهرست

۱	فصل ۱ - تنظیم عصبی
۲	گفتار ۱ - یاخته‌های بافت عصبی
۹	گفتار ۲ - ساختار دستگاه عصبی
۱۹	فصل ۲ - حواس
۲۰	گفتار ۱ - گیرنده‌های حسی
۲۳	گفتار ۲ - حواس ویژه
۳۳	گفتار ۳ - گیرنده‌های حسی جانوران
۳۷	فصل ۳ - دستگاه حرکتی
۳۸	گفتار ۱ - استخوان‌ها و اسکلت
۴۵	گفتار ۲ - ماهیچه و حرکت
۵۳	فصل ۴ - تنظیم شیمیایی
۵۴	گفتار ۱ - ارتباط شیمیایی
۵۶	گفتار ۲ - غده‌های درون‌ریز
۶۳	فصل ۵ - ایمنی
۶۴	گفتار ۱ - نخستین خط دفاعی: ورود ممنوع
۶۶	گفتار ۲ - دومین خط دفاعی: واکنش‌های عمومی اما سریع
۷۲	گفتار ۳ - سومین خط دفاعی: دفاع اختصاصی
۷۹	فصل ۶ - تقسیم یاخته
۸۰	گفتار ۱ - کروموزوم
۸۴	گفتار ۲ - میتوز
۹۲	گفتار ۳ - میوز و تولید مثل جنسی
۹۷	فصل ۷ - تولید مثل
۹۸	گفتار ۱ - دستگاه تولید مثل در مرد
۱۰۲	گفتار ۲ - دستگاه تولید مثل در زن
۱۰۸	گفتار ۳ - رشد و نمو جنین
۱۱۵	گفتار ۴ - تولید مثل در جانوران
۱۱۹	فصل ۸ - تولید مثل نهان دانگان
۱۲۰	گفتار ۱ - تولید مثل غیر جنسی
۱۲۴	گفتار ۲ - تولید مثل جنسی
۱۳۰	گفتار ۳ - از یاخته تخم تا گیاه
۱۳۷	فصل ۹ - پاسخ گیاهان به محرک‌ها
۱۳۸	گفتار ۱ - تنظیم‌کننده‌های رشد در گیاهان
۱۴۶	گفتار ۲ - پاسخ به محیط
۱۵۳	فهرست منابع

کتاب زیست‌شناسی ۲ دومین کتاب زیست‌شناسی دوره دوم متوسطه است که برای پایه یازدهم رشته علوم تجربی تألیف و چاپ شده است. این کتاب ادامه اجرای برنامه ۱۲ ساله حوزه تربیت و یادگیری علوم تجربی در موضوع زیست‌شناسی است که از دوره ابتدایی آغاز و در سه سال اول متوسطه در قالب کتاب های علوم تجربی ادامه یافته و با کتاب زیست ۱ پایه دهم به دوره دوم متوسطه رسید.

برنامه درسی زیست‌شناسی براساس برنامه درسی حوزه تربیت و یادگیری علوم تجربی و در چارچوب برنامه درسی ملی تدوین شده است. اهداف این برنامه مطابق با برنامه درسی ملی در چهار عرصه ارتباط با خدا، ارتباط با خود، خلق و خلقت تعریف شده و در جهت تقویت پنج عنصر (تفکر و تعقل، ایمان، علم، عمل و اخلاق) پیش می‌رود. بر این اساس مهم‌ترین شایستگی های مدنظر حوزه علوم تجربی که درس زیست‌شناسی تلاش می‌کند در دانش آموز تحقق یابد در زیر فهرست شده اند. انتظار می‌رود دانش آموز بتواند:

نظام مندی طبیعت را به عنوان بخشی از خلقت، براساس درک و تحلیل مفاهیم، الگوها و روابط بین پدیده های طبیعی به عنوان آیات الهی کشف و گزارش کند و نتایج آن را برای حل مسائل حال و آینده در ابعاد فردی و اجتماعی در قالب ایده یا ابزار ارائه دهد / به کار گیرد.

با ارزیابی رفتارهای متفاوت در ارتباط با خود و دیگران در موقعیت های گوناگون زندگی، رفتارهای سالم را انتخاب کند / گزارش کند / به کار گیرد.

با درک ماهیت، روش و فرایند علم تجربی، امکان به کارگیری این علم را در حل مسائل واقعی زندگی (حال و آینده)، تحلیل و محدودیت ها و توانمندی های علوم تجربی را در حل این مسائل گزارش کند. با استفاده از منابع علمی معتبر و بهره گیری از علم تجربی، بتواند ایده هایی مبتنی بر تجارب شخصی، برای مشارکت در فعالیت های علمی ارائه دهد و در این فعالیت ها با حفظ ارزش ها و اخلاق علمی مشارکت کند.

کتاب زیست‌شناسی ۲ در ادامه کتاب زیست‌شناسی ۱ به معرفی سازوکارهای مهم در انسان و سایر جانداران برای تنظیم فعالیت های زیستی و نیز حفظ و پایداری نسل می‌پردازد. دانش آموزان با مطالعه این کتاب با فرایندها و ساختارهایی آشنا می‌شوند که با وجود تنوع در دنیای زنده از اصول ثابتی پیروی می‌کنند. محتوای این کتاب در تم و زمینه «تنظیم و پایداری» در نه فصل، ارائه شده است.

محتوای این نه فصل شامل تنظیم عصبی و شیمیایی، حس و حرکت، ایمنی، تقسیم یاخته ای، تولیدمثل در انسان، جانوران و گیاهان نهاندانه و پاسخ گیاهان به محرک هاست که در قالب متن، تصویر و فعالیت های گوناگون سازماندهی شده است.

مفاهیم اساسی در این کتاب با توجه به بازخوردهای حاصل از آموزش های قبلی، اصلاح و متناسب با یافته های جدید در علم زیست شناسی، به روز شده است.

انتخاب و سازماندهی محتوا در این کتاب با محور قرار دادن انسان انجام شده است. نقطه شروع ارائه محتوا در این کتاب مانند کتاب زیست شناسی ۱ آموخته های دانش آموزان در دوره اول متوسطه بوده است. در ارائه محتوا، اولویت با آنهایی است که دانش آموز در زندگی با آن مواجه می شود. همچنین بر اساس تجربیات به دست آمده از آموزش مفاهیم زیست شناسی، سعی شده تا حد امکان از محتواهای صرفاً دانشی پرهیز شود.

آموزش این کتاب مستلزم به کار گیری ظرفیت دانش آموزان در کلاس درس و مشارکت هر چه بیشتر آنها در امر یادگیری است. معلم در این جایگاه نقش تسهیل گر آموزش و نه انتقال دهنده دانش را ایفا می کند.

در تألیف این کتاب چند نکته مدنظر مؤلفان و شورای تألیف بوده است:

- حجم کتاب با ساعت اختصاص یافته به آن (۴ ساعت در هفته) متناسب باشد.
- مباحث مطرح شده در دوره اول متوسطه در این کتاب کامل تر شده و به صورت تخصصی تر به آن پرداخته شده است، البته سعی شده از تکرار مطالب دوره اول خودداری شود.
- در بعضی از قسمت های کتاب تصاویری از دوره اول متوسطه آمده است. هدف از این کار یادآوری آموخته های قبلی است.
- در بیشتر قسمت های کتاب بحث با انجام فعالیت همراه با طرح سؤالاتی شروع می شود هدف از این روش درگیر کردن دانش آموز با مبحث، بارش فکری و تا حدی مفهوم سازی توسط خود دانش آموز است.
- سعی شده مباحث گیاهی و جانوری جداگانه مطرح شوند تا دانش آموزان انگیزه بیشتری برای یادگیری داشته باشند.

گروه زیست شناسی

■ دفتر تألیف کتاب های درسی عمومی و متوسطه نظری

■ مطالب «بیشتر بدانید» و «واژه شناسی» در این کتاب، صرفاً جنبه آگاهی بخشی

دارد و نباید در ارزشیابی، آزمون ها و کنکور مورد پرسش قرار گیرد.

■ طرح پرسش ها و مسئله های عددی و محاسباتی از مطالب این کتاب در

ارزشیابی آزمون ها و کنکور ممنوع است.



فصل ۱

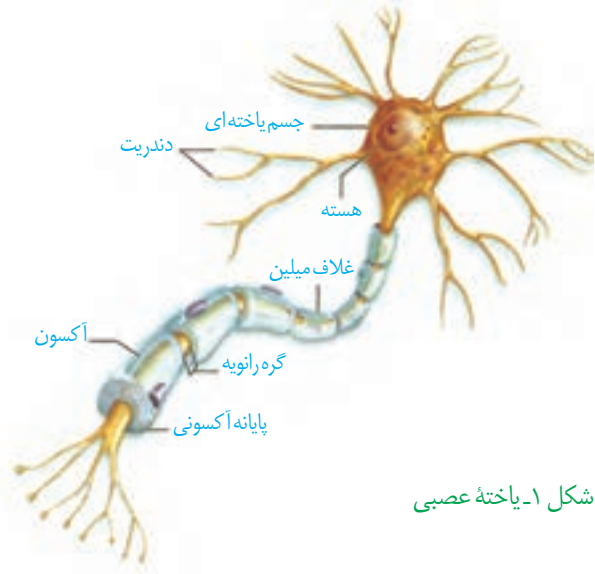
تنظیم عصبی

متخصصان برای بررسی فعالیت‌های مغز از نوار مغزی استفاده می‌کنند. نوار مغزی، جریان الکتریکی ثبت شده، یاخته‌های عصبی (نورون‌های) مغز است. چگونه در یاخته‌های عصبی، جریان الکتریکی ایجاد می‌شود؟ جریان الکتریکی در فعالیت این یاخته‌ها چه نقشی دارد؟ برای پاسخ به این پرسش‌ها باید با ساختار یاخته‌های عصبی و دستگاه عصبی بیشتر آشنا شویم.

می‌دانید بافت عصبی از یاخته‌های عصبی و یاخته‌های پشتیبان (نوروگلیاها) تشکیل شده است. شکل زیر، یک یاخته عصبی را نشان می‌دهد. این یاخته عصبی از چه بخش‌هایی تشکیل شده است؟ یاخته‌های عصبی سه عملکرد دارند: این یاخته‌ها تحریک پذیرند و پیام عصبی تولید می‌کنند؛ آنها این پیام را هدایت و به یاخته‌های دیگر منتقل می‌کنند.

دارینه (دندریت) رشته‌ای است که پیام‌ها را دریافت و به جسم یاخته عصبی وارد می‌کند.

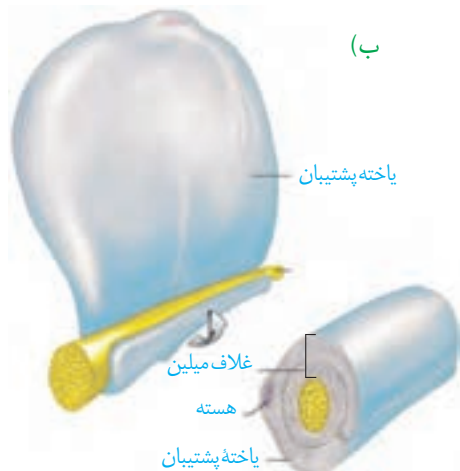
آسه (آکسون) رشته‌ای است که پیام عصبی را از جسم یاخته عصبی تا انتهای خود که پایانه آکسونی نام دارد، هدایت می‌کند. پیام عصبی از محل پایانه آکسون یک یاخته عصبی به یاخته دیگر منتقل می‌شود. جسم یاخته‌ای محل قرار گرفتن هسته و انجام سوخت و ساز یاخته‌های عصبی است و می‌تواند پیام نیز دریافت کند. همان‌طور که در شکل ۱ می‌بینید، این یاخته عصبی، پوششی به نام **غلاف میلین** دارد. غلاف میلین، رشته‌های آکسون و دندریت بسیاری از یاخته‌های عصبی را می‌پوشاند و آنها را عایق‌بندی می‌کند. غلاف میلین پیوسته نیست و در بخش‌هایی از رشته قطع می‌شود. این بخش‌ها را **گره رانویه** می‌نامند که با نقش آنها در ادامه درس، آشنا خواهید شد.



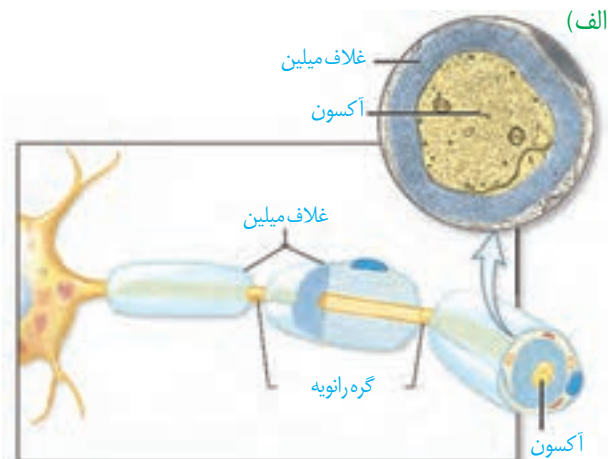
شکل ۱- یاخته عصبی

غلاف میلین را یاخته‌های پشتیبان بافت عصبی می‌سازند. شکل ۲ را ببینید، یاخته پشتیبان به دور رشته عصبی می‌پیچد و غلاف میلین را به وجود می‌آورد. تعداد یاخته‌های پشتیبان چند برابر یاخته‌های عصبی است و انواع گوناگونی دارند. این یاخته‌ها داربست‌هایی را برای استقرار یاخته‌های عصبی ایجاد می‌کنند؛ آنها در دفاع از یاخته‌های عصبی و حفظ هم‌ایستایی مایع اطراف آنها (مثل حفظ مقدار طبیعی یون‌ها) نیز نقش دارند.

شکل ۲- الف) غلاف میلین ب) چگونگی ساخت آن



(ب)



(الف)

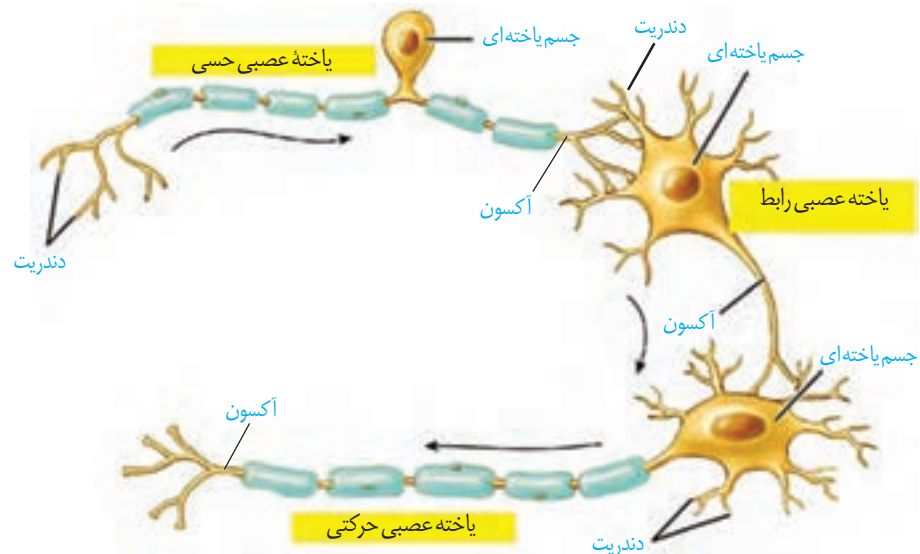
انواع یاخته‌های عصبی

واژه‌شناسی

آسه (axon / آکسون) هر دو کلمه به معنی محور است. آسه از کلمه آس گرفته شده است که به محور سنگ آسیا گفته می‌شود.

دارینه (dendrite / دندریت) هر دو کلمه به معنی درخت و درخت‌وار است. دارینه از کلمه دار به معنی درخت و (ینه) که پسوند شباهت است ساخته شده که در کل آنچه شبیه درخت است معنی می‌دهد.

شکل ۳، انواع یاخته‌های عصبی را نشان می‌دهد. **یاخته‌های عصبی حسی** پیام‌ها را از گیرنده‌های حسی به سوی بخش مرکزی دستگاه عصبی (مغز و نخاع) می‌آورند. **یاخته‌های عصبی حرکتی** پیام‌ها را از بخش مرکزی دستگاه عصبی به سوی اندام‌ها (مانند ماهیچه‌ها) می‌برند. نوع سوم یاخته‌های عصبی شکل ۳، **یاخته‌های عصبی رابط** اند که در مغز و نخاع قرار دارند. این یاخته‌ها ارتباط لازم بین یاخته‌های عصبی حسی و حرکتی را فراهم می‌کنند.



شکل ۳- انواع یاخته‌های عصبی


در شکل ۳، ساختار سه نوع یاخته عصبی را مقایسه کنید.

فعالیت ۱

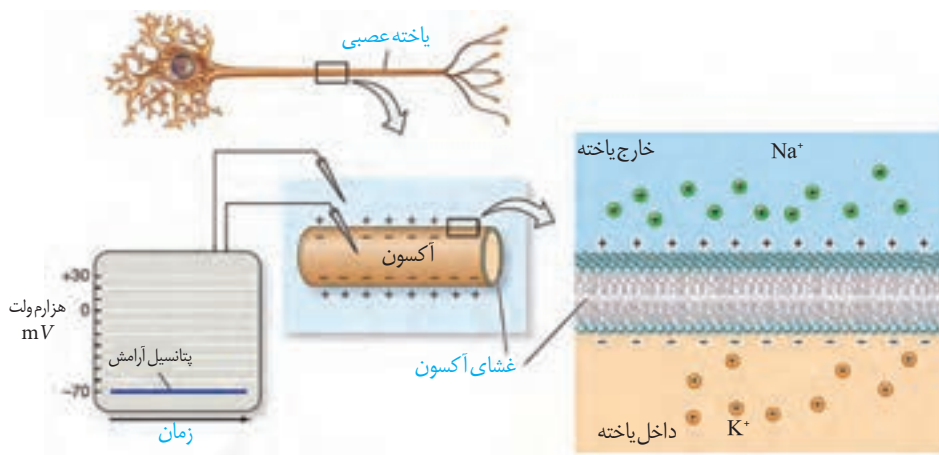
پیام عصبی چگونه ایجاد می‌شود؟

پیام عصبی در اثر تغییر مقدار یون‌ها در دو سوی غشای یاخته عصبی به وجود می‌آید. از آنجا که مقدار یون‌ها در دو سوی غشا، یکسان نیستند، بار الکتریکی دو سوی غشای یاخته عصبی، متفاوت است و در نتیجه بین دو سوی آن، اختلاف پتانسیل الکتریکی وجود دارد. شکل ۴، اندازه‌گیری این اختلاف پتانسیل را نشان می‌دهد.

شکل ۴- اندازه‌گیری اختلاف پتانسیل الکتریکی دو سوی غشای یاخته عصبی



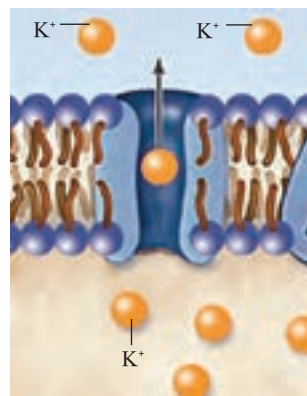
پتانسیل آرامش: وقتی یاخته عصبی فعالیت عصبی ندارد، در دو سوی غشای آن اختلاف پتانسیلی در حدود -70 میلی‌ولت برقرار است (شکل ۵). این اختلاف پتانسیل را **پتانسیل آرامش** می‌نامند. چگونه این اختلاف پتانسیل ایجاد می‌شود؟ برای پاسخ به این پرسش، درباره یاخته‌های عصبی باید بیشتر بدانیم.



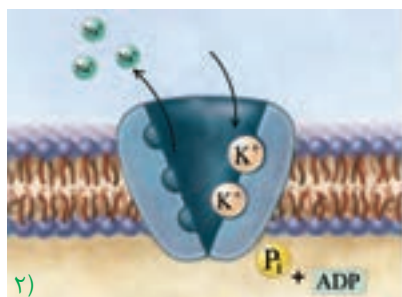
شکل ۵- پتانسیل آرامش

در حالت آرامش، مقدار یون‌های سدیم در بیرون غشا یاخته‌های عصبی زنده از داخل آن بیشتر است و در مقابل، مقدار یون‌های پتاسیم درون یاخته، از بیرون آن بیشتر است. در غشای یاخته‌های عصبی، مولکول‌های پروتئینی وجود دارند که به عبور یون‌های سدیم و پتاسیم از غشا کمک می‌کنند. یکی از این پروتئین‌ها، **کانال‌های نشتی** هستند که یون‌ها می‌توانند به روش انتشار تسهیل شده عبور کنند (شکل ۶ الف). از راه این کانال‌ها، یون‌های پتاسیم، خارج و یون‌های سدیم به درون یاخته عصبی وارد می‌شوند. تعداد یون‌های پتاسیم خروجی بیشتر از یون‌های سدیم ورودی است؛ زیرا غشا به این یون، نفوذپذیری بیشتری دارد.

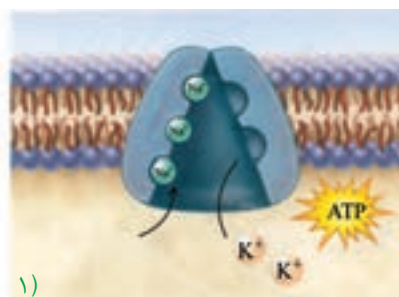
پمپ سدیم - پتاسیم، پروتئین دیگری است که در سال گذشته با آن آشنا شدید. در هر بار فعالیت این پمپ، سه یون سدیم از یاخته عصبی خارج و دو یون پتاسیم وارد آن می‌شوند. این پمپ از انرژی مولکول ATP استفاده می‌کند (شکل ۶ ب).



(الف)



۲)



۱)

شکل ۶- الف) کانال نشتی
ب) چگونگی کار پمپ
سدیم - پتاسیم

(ب)

در گروه خود درباره پرسش‌های زیر گفت و گو و نتیجه را به کلاس گزارش کنید.

۱- کار پمپ سدیم-پتاسیم و کانال‌های نشستی را با هم مقایسه کنید.

۲- چرا در حالت آرامش، بار مثبت درون یاخته‌های عصبی از بیرون آنها کمتر است؟

بیشتر بدانید

در دهه ۱۹۵۰ دو دانشمند به نام‌های هاجکین^۱ و هاگسلی^۲ برای بررسی تغییرات الکتریکی غشای یاخته عصبی از آکسون قطور نرم‌تن مرکب استفاده کردند. آنان پتانسیل الکتریکی غشای آکسون را اندازه‌گیری و ترکیب شیمیایی درون آکسون و اثر یون‌های سدیم و پتاسیم بر فعالیت‌های الکتریکی آن را نیز بررسی کردند. حاصل کار آنها یافته‌های جدیدی درباره عملکرد غشای تحریک‌پذیر یاخته عصبی به دنیای علم عرضه و جایزه نوبل رشته فیزیولوژی - پزشکی سال ۱۹۶۳ را نصیب این دانشمندان کرد.

۱- Alan Lloyd Hodgkin

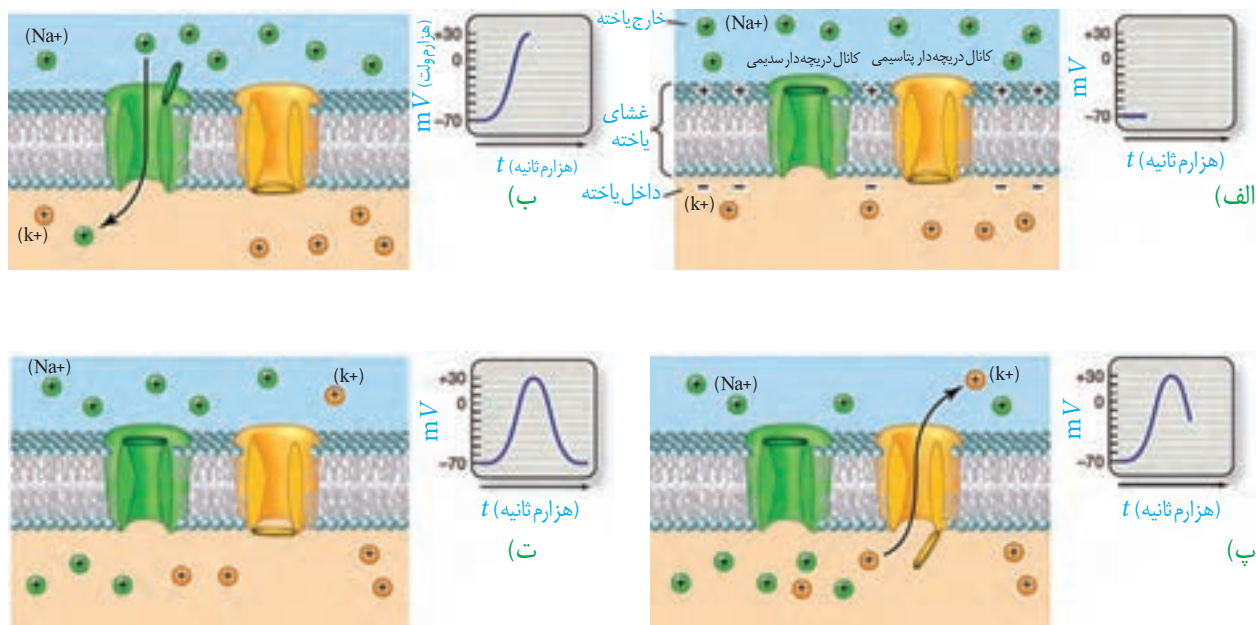
۲- Andrew Fielding Huxley

پتانسیل عمل: دانستید که در حالت آرامش، بار مثبت درون غشا از بیرون آن کمتر است. وقتی یاخته عصبی تحریک می‌شود، در محل تحریک، اختلاف پتانسیل دو سوی غشای آن به طور ناگهانی تغییر می‌کند و داخل یاخته از بیرون آن، مثبت‌تر می‌شود و پس از زمان کوتاهی، اختلاف پتانسیل دو سوی غشا، دوباره به حالت آرامش برمی‌گردد. این تغییر را **پتانسیل عمل** می‌نامند.

هنگام پتانسیل عمل، در یاخته عصبی چه اتفاقی می‌افتد؟

در غشای یاخته‌های عصبی، پروتئین‌هایی به نام **کانال‌های دریچه‌دار** وجود دارند که با تحریک یاخته عصبی باز می‌شوند و یون‌ها از آنها عبور می‌کنند. وقتی غشای یاخته تحریک می‌شود، ابتدا **کانال‌های دریچه‌دار سدیمی** باز می‌شوند و یون‌های سدیم فراوانی وارد یاخته و بار الکتریکی درون آن، مثبت‌تر می‌شود. پس از زمان کوتاهی این کانال‌ها بسته می‌شوند و **کانال‌های دریچه‌دار پتاسیمی** باز و یون‌های پتاسیم خارج می‌شوند. این کانال‌ها هم پس از مدت کوتاهی بسته می‌شوند (شکل ۷). به این ترتیب، دوباره پتانسیل غشا به حالت آرامش (-۷۰) بر می‌گردد. در پایان پتانسیل عمل، غلظت یون‌های سدیم و پتاسیم در دو سوی غشای یاخته، با حالت آرامش تفاوت دارد. فعالیت بیشتر پمپ سدیم - پتاسیم موجب می‌شود غلظت یون‌های سدیم و پتاسیم در دو سوی غشا دوباره به حالت آرامش باز گردد.


شکل ۷- چگونه ایجاد پتانسیل عمل



وقتی پتانسیل عمل در یک نقطه از یاخته عصبی ایجاد می‌شود، نقطه به نقطه پیش می‌رود تا به انتهای رشته عصبی برسد. این جریان را پیام عصبی می‌نامند (شکل ۸). رشته عصبی آکسون یا دندریت بلند است.

گره‌های رانویه چه نقشی دارند؟

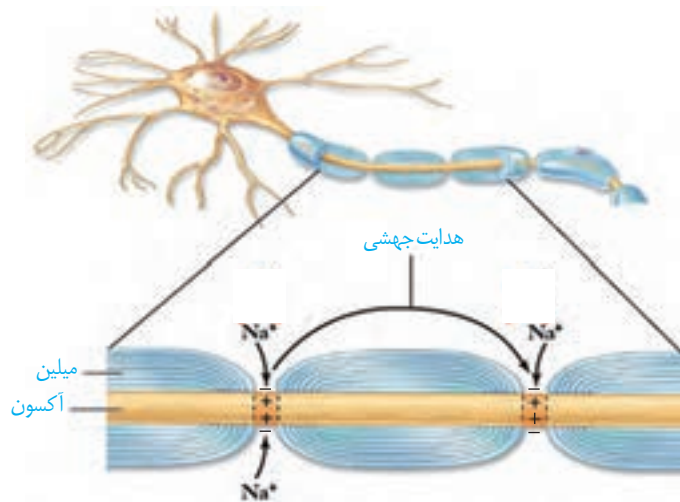
هدایت پیام عصبی در رشته‌های عصبی میلین دار از رشته‌های بدون میلین هم قطر سریع‌تر است؛ درحالی که میلین عایق است و از عبور یون‌ها از غشا جلوگیری می‌کند. دانستید در یاخته‌های عصبی میلین دار، گره‌های رانویه وجود دارد. در محل این گره‌ها، میلین وجود ندارد و رشته عصبی با محیط بیرون از یاخته ارتباط دارد. بنابراین، در این گره‌ها پتانسیل عمل ایجاد می‌شود و پیام عصبی درون رشته عصبی از یک گره به گره دیگر هدایت می‌شود. در این حالت به نظر می‌رسد پیام عصبی از یک گره به گره دیگر می‌جهد. به همین علت، این هدایت را هدایت جهشی می‌نامند (شکل ۹). در ماهیچه‌های اسکلتی سرعت ارسال پیام اهمیت زیادی دارد. بنابراین، نورون‌های حرکتی آنها میلین دار است. کاهش یا افزایش میزان میلین به بیماری منجر می‌شود؛ مثلاً در بیماری مالتیپل اسکلروزیس^۱ (MS) یاخته‌های پشتیبانی که در سیستم عصبی مرکزی میلین می‌سازند، از بین می‌روند. در نتیجه ارسال پیام‌های عصبی به درستی انجام نمی‌شود. بینایی و حرکت، مختل و فرد دچار بی‌حسی و لرزش می‌شود.



شکل ۸- هدایت پیام عصبی

بیشتر بدانید

سرعت هدایت پیام در رشته‌های عصبی از 0.2 m/s در رشته‌های نازک بدون میلین تا 120 m/s در رشته‌های میلین دار قطور متفاوت است.



شکل ۹- هدایت جهشی در نورون میلین دار

پژوهشگران بر این باورند که در گره‌های رانویه، تعداد زیادی کانال دریچه‌دار وجود دارد، ولی در فاصله بین گره‌ها، این کانال‌ها وجود ندارند. این موضوع با هدایت جهشی چه ارتباطی دارد؟

یاخته‌های عصبی، پیام عصبی را منتقل می‌کنند

بیشتر بدانید

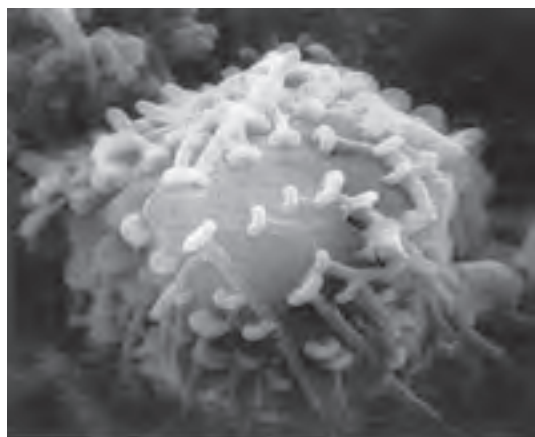
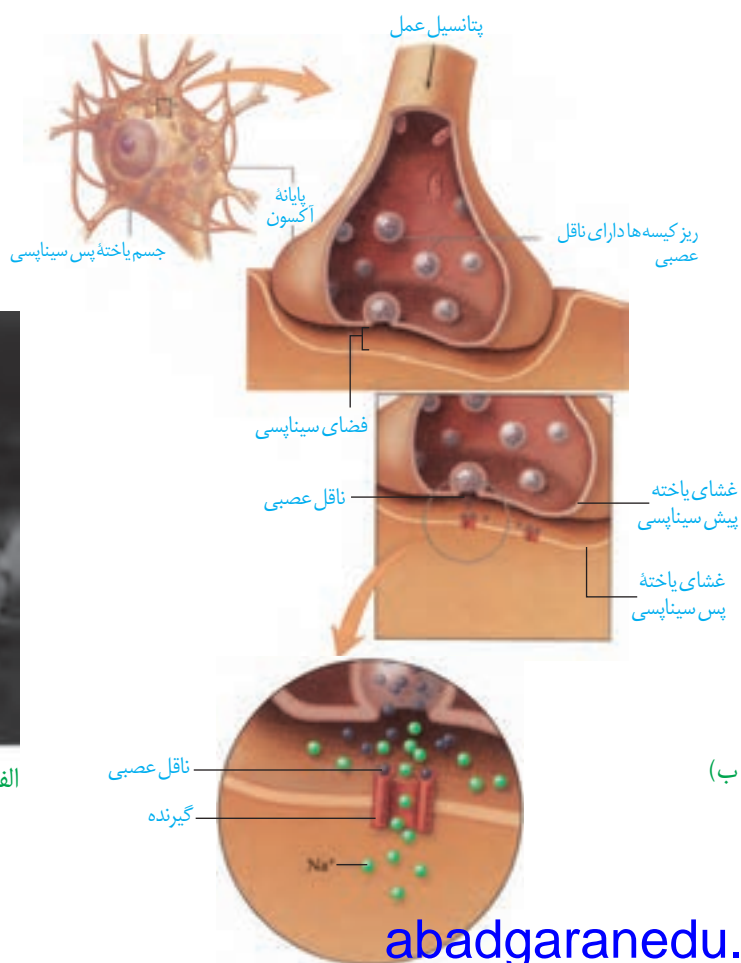
برخی مواد می‌توانند از باز شدن کانال‌های دریچه‌دار سدیمی و در نتیجه هدایت پیام عصبی، جلوگیری کنند. این مواد، بی‌حس‌کننده‌های موضعی نام دارند.

دانستید پیام عصبی در طول آکسون هدایت می‌شود تا به پایانه آن برسد. همان طور که در شکل ۱۰ می‌بینید، یاخته‌های عصبی به یکدیگر نچسبیده‌اند. پس چگونه پیام عصبی از یک یاخته عصبی به یاخته دیگر منتقل می‌شود؟

یاخته‌های عصبی با یکدیگر ارتباط ویژه‌ای به نام **همایه (سیناپس)** برقرار می‌کنند. بین این یاخته‌ها در محل سیناپس، فضایی به نام **فضای سیناپسی** وجود دارد. برای انتقال پیام از یاخته عصبی انتقال دهنده یا یاخته عصبی **پیش سیناپسی**، ماده‌ای به نام **ناقل عصبی** در فضای سیناپسی آزاد می‌شود. این ماده بر یاخته دریافت کننده، یعنی یاخته **پس سیناپسی** اثر می‌کند. ناقل عصبی در یاخته‌های عصبی ساخته و درون ریز کیسه‌ها ذخیره می‌شود. این کیسه‌ها در طول آکسون هدایت می‌شوند تا به پایانه آن برسند. وقتی پیام عصبی به پایانه آکسون می‌رسد، این کیسه‌ها با برون رانی، ناقل را در فضای سیناپسی آزاد می‌کنند (شکل ۱۰). یاخته‌های عصبی با یاخته‌های ماهیچه‌ای نیز سیناپس دارند و با ارسال پیام موجب انقباض آنها می‌شوند.

بیشتر بدانید

در بخش‌های مختلف دستگاه عصبی، مواد گوناگونی به‌عنوان ناقل عصبی فعالیت می‌کنند. دوپامین، سروتونین، هیستامین، آمینو اسیدهایی مانند گاما آمینو بوتیریک اسید، گلوتامات، گلايسين و گاز نیتریک اکساید از این موادند. معمولاً گاما آمینو بوتیریک اسید و گلايسين، مهارکننده و گلوتامات تحریک کننده‌اند.



شکل ۱۰- الف) تصویر سیناپس با میکروسکوپ الکترونی
ب) آزاد شدن ناقل عصبی و اثر آن بر یاخته پس سیناپسی

(الف)

(ب)

همایه (synapse/سیناپس) هر دو کلمه به معنای به هم پیوستن و به هم متصل شدن هستند. همایه از فعل به هم آمدن و در معنای به هم پیوستن ساخته شده است.

ناقل عصبی پس از رسیدن به غشای یاختهٔ پس سیناپسی، به پروتئینی به نام گیرنده متصل می‌شود. این پروتئین همچنین کانالی است که با اتصال ناقل عصبی به آن باز می‌شود. به این ترتیب، ناقل عصبی با تغییر نفوذ پذیری غشای یاختهٔ پس سیناپسی به یون‌ها، پتانسیل الکتریکی این یاخته را تغییر می‌دهد. براساس اینکه ناقل عصبی تحریک کننده یا بازدارنده باشد، یاختهٔ پس سیناپسی تحریک، یا فعالیت آن مهار می‌شود.

پس از انتقال پیام، مولکول‌های ناقل باقی مانده، باید از فضای سیناپسی تخلیه شوند تا از انتقال بیش از حد پیام جلوگیری و امکان انتقال پیام‌های جدید فراهم شود. این کار با جذب دوبارهٔ ناقل به یاختهٔ پیش سیناپسی انجام می‌شود، همچنین آنزیم‌هایی ناقل عصبی را تجزیه می‌کنند. تغییر در میزان طبیعی ناقل‌های عصبی از دلایل بیماری و اختلال در کار دستگاه عصبی است.

بیشتر بدانید

رعشه (پارکینسون): در این بیماری، یاخته‌های بخشی از مغز که ناقل عصبی دوپامین ترشح می‌کنند، تخریب می‌شوند. در نتیجه عضلات بدن سفت و حرکات کند می‌شود؛ دست و پای فرد در حالت استراحت لرزش دارند. برای بهبود اختلال‌های حرکتی این بیماری دارویی را تجویز می‌کنند که در مغز به ناقل عصبی دوپامین تبدیل می‌شود.

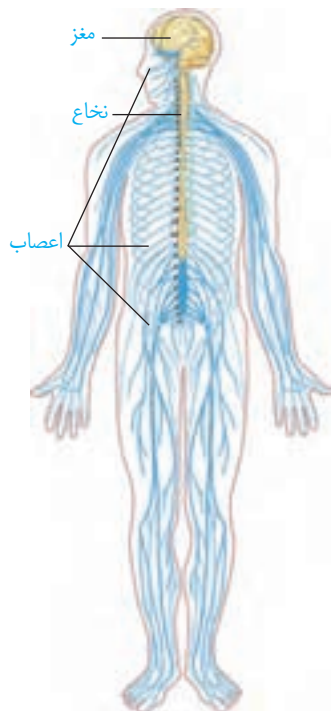
آلزایمر: بیماری آلزایمر یک نوع اختلال پیش رونده، تحلیل برنده و کشندهٔ مغز است که به زوال عقل و ناتوانی فرد در انجام فعالیت‌های روزانه منجر می‌شود. در این بیماری، یاخته‌های عصبی مغز بر اثر تجمع نوعی پروتئین تخریب می‌شوند و میزان ناقل عصبی استیل کولین کاهش می‌یابد. فراموشی، ناتوانی در تکلم، اختلال در حس به‌ویژه در بینایی و راه رفتن، از عوارض بیماری آلزایمر است. با پیشرفت بیماری، فرد نیازمند مراقبت مداوم خواهد بود. تجویز دارویی تواند پیشرفت بیماری را آهسته کند. فعالیت بدنی و ورزش منظم، تغذیه سالم، معاشرت با دیگران، فعالیت‌های فکری مانند حفظ کردن شعر، آموختن یک زبان جدید به پیشگیری از بیماری آلزایمر کمک می‌کند.

بیشتر بدانید

ثبت نوار مغزی

(الکتروانسفالوگرافی^۱): فعالیت الکتریکی مغز را می‌توان با دستگاه الکتروانسفالوگراف ثبت و بررسی کرد. الکترودهای دستگاه را به پوست سر متصل می‌کنند. جریان الکتریکی مغز به شکل منحنی‌های الکتروانسفالوگرام (نوار مغز) روی نوار کاغذی، یا صفحه نمایش دستگاه ثبت می‌شود. متخصصان از این منحنی‌ها برای بررسی فعالیت‌های مغز و تشخیص بیماری‌های آن استفاده می‌کنند.

۱ - Electro Encephalo Graphy (EEG)



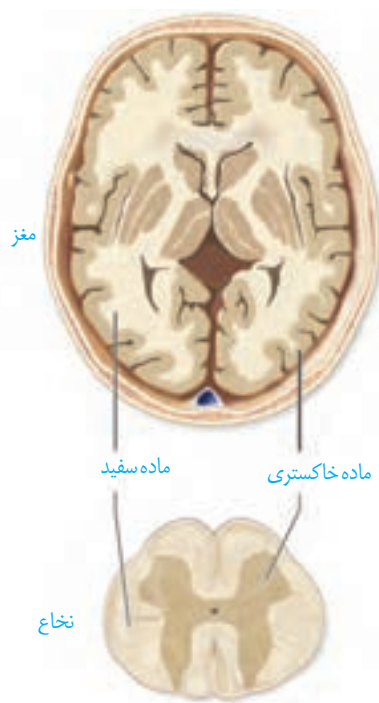
شکل ۱۱- دستگاه عصبی مرکزی (رنگ زرد) و محیطی (رنگ آبی)

شکل ۱۲- برش عرضی مغز و نخاع

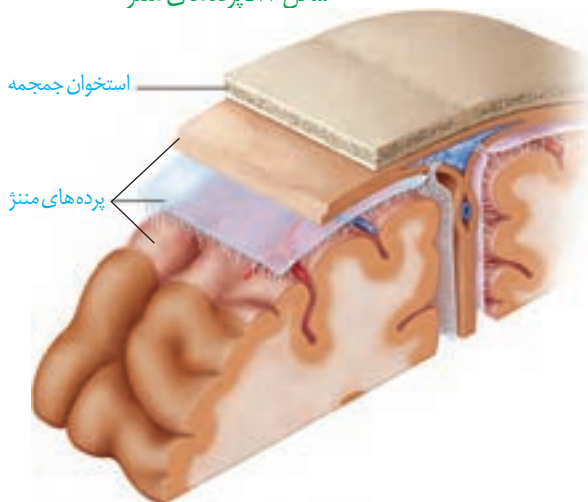
در گذشته آموختید که دستگاه عصبی دو بخش مرکزی و محیطی دارد (شکل ۱۱). به نظر شما چرا دو بخش این دستگاه را مرکزی و محیطی نامیده اند؟

دستگاه عصبی مرکزی

دستگاه عصبی مرکزی شامل مغز و نخاع است که مراکز نظارت بر فعالیت‌های بدن اند. این دستگاه، اطلاعات دریافتی از محیط و درون بدن را تفسیر می‌کند و به آنها پاسخ می‌دهد. مغز و نخاع از دو بخش **ماده خاکستری و ماده سفید** تشکیل شده‌اند. شکل ۱۲ را ببینید و محل قرار گرفتن ماده خاکستری و ماده سفید در مغز و نخاع را مقایسه کنید. ماده خاکستری شامل جسم یاخته‌های عصبی و رشته‌های عصبی بدون میلین و ماده سفید، اجتماع رشته‌های میلین دار است.



شکل ۱۳- پرده‌های مننژ

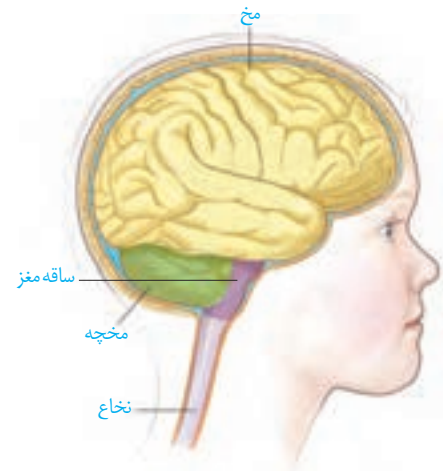


حفاظت از مغز و نخاع: علاوه بر استخوان‌های جمجمه و ستون مهره، سه پرده از نوع بافت پیوندی به نام **پرده‌های مننژ** از مغز و نخاع حفاظت می‌کنند (شکل ۱۳). فضای بین پرده‌ها را **مایع مغزی-نخاعی** پر کرده است که مانند یک ضربه گیر، دستگاه عصبی مرکزی را در برابر ضربه حفاظت می‌کند.

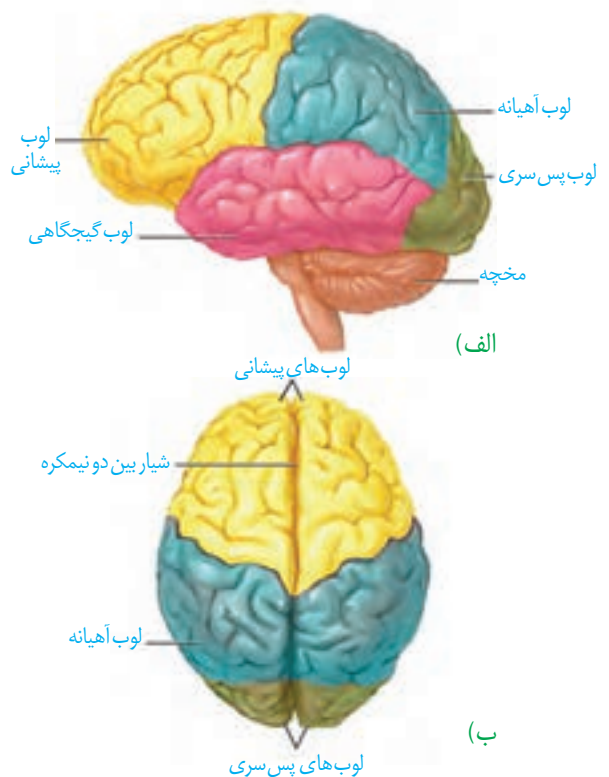
در سال گذشته با انواع مویرگ‌ها آشنا شدید. مویرگ‌های دستگاه عصبی مرکزی از کدام نوع اند و چه ویژگی دارند؟ یاخته‌های بافت پوششی مویرگ‌های مغز به یکدیگر چسبیده‌اند و بین آنها منفذی

بیشتر بدانید

مننژیت: التهاب پرده‌های مننژ، مننژیت نام دارد و از علامت‌های آن سردرد، تب و خشکی گردن است. مننژیت در اثر عفونت‌های ویروسی یا باکتریایی ایجاد می‌شود.



شکل ۱۴ - سه بخش اصلی مغز



شکل ۱۵ - لوب‌های مخ
(الف) از نیم‌رخ (ب) از بالا

وجود ندارد. در نتیجه بسیاری از مواد و میکروب‌ها در شرایط طبیعی نمی‌توانند به مغز وارد شوند. این عامل حفاظت‌کننده **سدخونی - مغزی** نام دارد. البته مولکول‌هایی مثل اکسیژن، گلوکز و آمینواسیدها و برخی داروها می‌توانند از این سد عبور کنند و به مغز وارد شوند.

مغز

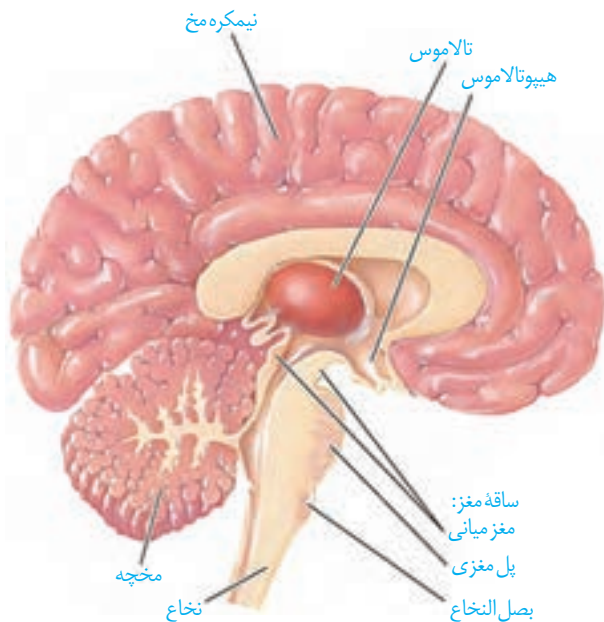
می‌دانید مغز از سه بخش اصلی مخ، مخچه و ساقه مغز تشکیل شده است (شکل ۱۴). در ادامه با ساختار و کار بخش‌های تشکیل‌دهنده مغز بیشتر آشنا می‌شوید.

نیمکره‌های مخ: در انسان بیشتر حجم مغز را مخ تشکیل می‌دهد. دو نیمکره مخ با رشته‌های عصبی به هم متصل‌اند. رابط‌های سفید رنگ به نام **رابط پینه‌ای** و **سه گوش** از این رشته‌های عصبی‌اند که هنگام تشریح مغز آنها را می‌بینید. دو نیمکره به‌طور هم‌زمان از همه بدن، اطلاعات را دریافت و پردازش می‌کنند تا بخش‌های مختلف بدن به‌طور هماهنگ فعالیت‌کنند. هر نیمکره کارهای اختصاصی نیز دارد؛ مثلاً بخش‌هایی از نیمکره چپ به توانایی در ریاضیات و استدلال مربوط‌اند و نیمکره راست در مهارت‌های هنری تخصص یافته است.

بخش خارجی نیمکره‌های مخ، یعنی قشر مخ از ماده خاکستری است و سطح وسیعی را با ضخامت چند میلی‌متر تشکیل می‌دهد. قشر مخ، چین خورده است و شیارهای متعددی دارد. شکل ۱۵ را ببینید، شیارهای عمیق هر یک از نیمکره‌های مخ را به چهار لوب پس سری، گیجگاهی، آهیانه و پیشانی تقسیم می‌کنند. قشر مخ شامل بخش‌های **حسی، حرکتی و ارتباطی** است. بخش‌های حسی، پیام‌های حسی را دریافت می‌کنند. بخش‌های حرکتی به ماهیچه‌ها و غده‌ها، پیام می‌فرستند. بخش‌های ارتباطی بین بخش‌های حسی و حرکتی ارتباط برقرار می‌کنند. قشر مخ، جایگاه پردازش نهایی اطلاعات ورودی به مغز است که نتیجه آن یادگیری، تفکر و عملکرد هوشمندانه است.

ساقه مغز: ساقه مغز از مغز میانی، پل مغزی و بصل‌النخاع تشکیل شده است (شکل ۱۶).

مغز میانی در بالای پل مغزی قرار دارد و یاخته‌های عصبی آن، در فعالیت‌های مختلف از جمله شنوایی، بینایی و حرکت نقش دارند. **برجستگی‌های چهارگانه** بخشی از مغز میانی‌اند که هنگام تشریح مغز می‌توانید آنها را ببینید.



شکل ۱۶ - نیمه چپ مغز

پل مغزی در تنظیم فعالیت‌های مختلف از جمله تنفس، ترشح بزاق و اشک نقش دارد.

بصل النخاع پایین‌ترین بخش مغز است که در بالای نخاع قرار دارد. بصل النخاع، فشار خون و زنبق را تنظیم می‌کند و مرکز انعکاس‌هایی مانند عطسه، بلع، سرفه و مرکز اصلی تنظیم تنفس است. **مخچه:** مخچه در پشت ساقه مغز قرار دارد و شامل دو نیمکره و بخشی به نام **کرمینه** در وسط آنهاست. این اندام مرکز تنظیم وضعیت بدن و تعادل آن است. مخچه به طور پیوسته از بخش‌های دیگر مغز، نخاع و اندام‌های حسی، مانند گوش‌ها پیام را دریافت و بررسی می‌کند تا فعالیت ماهیچه‌ها و حرکات بدن را در حالت‌های گوناگون به کمک مغز و نخاع هماهنگ کند.

فعالیت ۵

با استفاده از آنچه آموختید در گروه خود درباره پرسش‌های زیر گفت‌وگو و پاسخ را به کلاس گزارش کنید.

- ۱- هنگام ورزش چگونه تعادل خود را حفظ می‌کنید؟
- ۲- هنگام راه رفتن با چشمان بسته، چه تغییری در راه رفتن ایجاد می‌شود؟ علت تغییر را توضیح دهید.
- ۳- چگونه ممکن است با وجود سلامت کامل چشم‌ها، فرد قادر به دیدن نباشد؟

ساختارهای دیگر مغز

بیشتر بدانید

استخراج مایع مغزی- نخاعی:

متخصصان می‌توانند با استفاده از سرنگ مقداری از مایع مغزی- نخاعی را از بین مهره‌های کمر خارج کنند و با بررسی آن بیماری‌های احتمالی دست‌گاه عصبی را تشخیص دهند، یا از این راه، داروهای مورد نیاز را به بدن وارد کنند.

واژه‌شناسی

کناره‌ای (Limbic/لیمبیک) این کلمه از ریشه فرانسوی Limbe به معنای حاشیه و کناره گرفته شده است و واژه کناره‌ای همان معنا را می‌دهد.

نهنج‌ها (تالاموس‌ها) محل پردازش اولیه و تقویت اطلاعات حسی است. اغلب پیام‌های حسی در تالاموس گرد هم می‌آیند تا به بخش‌های مربوط در قشر مخ، جهت پردازش نهایی فرستاده شوند.

زیر نهنج (هیپوتالاموس) که در زیر تالاموس قرار دارد، دمای بدن، تعداد ضربان قلب، فشار خون، تشنگی، گرسنگی و خواب را تنظیم می‌کند.

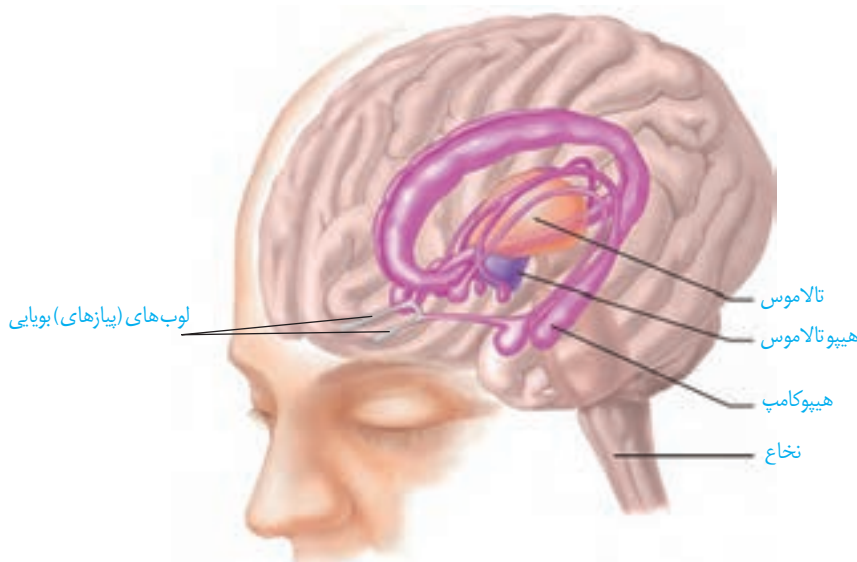
سامانه کناره‌ای (لیمبیک) که با قشر مخ، تالاموس و هیپوتالاموس ارتباط دارد و در احساسات مانند ترس، خشم، لذت و نیز حافظه نقش ایفا می‌کند (شکل ۱۶).

اسبک مغز (هیپوکامپ) یکی از اجزای سامانه لیمبیک است که در تشکیل حافظه و یادگیری نقش دارد. حافظه افرادی که هیپوکامپ آنان آسیب دیده، یا با جراحی برداشته شده است، دچار اختلال می‌شود. این افراد نمی‌توانند نام افراد جدید را حتی اگر هر روز با آنها در تماس باشند، به خاطر بسپارند. نام‌های جدید، حداکثر فقط برای چند دقیقه در ذهن این افراد باقی می‌ماند. البته آنان برای به یاد آوردن خاطرات مربوط به قبل از آسیب دیدگی، مشکل چندانی ندارند. پژوهشگران بر این باورند که هیپوکامپ در ایجاد حافظه کوتاه مدت و تبدیل آن به حافظه بلند مدت نقش دارد؛ مثلاً وقتی شماره تلفنی را می‌خوانیم، یا می‌شنویم، ممکن است پس از زمان کوتاهی آن را از یاد ببریم، ولی وقتی آن

بیشتر بدانید

کُما: کما حالت بیهوشی عمیق است که در آن، فرد زنده است، ولی نمی‌تواند حرکت کند و به محرک‌های محیطی پاسخ هدفمند بدهد. کُما معمولاً با آسیب وسیع مغز به ویژه بخش‌هایی از آن که با حفظ هوشیاری در ارتباط‌اند همراه است. فرد در حالت کما ممکن است بهبود پیدا کند، یا به حالت زندگی نباتی برود.

شکل ۱۷- سامانه لیمبیک (بخش‌های بنفش رنگ)



بیشتر بدانید

زندگی نباتی: در زندگی نباتی بخش خودمختار مغز فعالیت دارد؛ ضربان قلب، تنفس و فشار خون تنظیم می‌شود و فرد حرکات غیر ارادی نیز نشان می‌دهد؛ اما به محرک‌های محیطی پاسخ معنا داری نمی‌دهد؛ صداهایی تولید می‌کند ولی نمی‌تواند سخن بگوید؛ فعالیتی انجام دهد و نیازهای خود را برآورده کند.

بیشتر بدانید

مرگ مغزی: چهار رگ اصلی به مغز خون‌رسانی می‌کنند، اگر این رگ‌ها بسته شوند، خون‌رسانی به مغز مختل شده و اکسیژن‌رسانی به آن انجام نمی‌شود و مغز به‌طور غیر قابل برگشتی تخریب می‌شود. در نوار مغزی هیچ علامتی از فعالیت مغز دیده نمی‌شود. فرد به محرک‌ها هیچ پاسخی نمی‌دهد، حتی بدون دستگاه تنفس مصنوعی نمی‌تواند نفس بکشد. البته در این حالت، اندام‌های دیگر بدن مانند قلب، کبد و کلیه‌ها برای مدتی فعال‌اند که در صورت اهدای آنها زندگی افراد دیگری نجات پیدا می‌کند.

را بارها به کار بریم، در حافظه بلند مدت ذخیره می‌شود.

اعتیاد: اعتیاد وابستگی همیشگی به مصرف یک ماده، یا انجام یک رفتار است که ترک آن مشکلات جسمی و روانی برای فرد به وجود می‌آورد. وابستگی به اینترنت یا بازی‌های رایانه‌ای نیز نمونه‌ای از اعتیادهای رفتاری‌اند. مواد گوناگون مانند الکل، کوکائین، نیکوتین، هروئین، مورفین و حتی کافئین قهوه اعتیادآورند. اعتیاد نه فقط سلامت جسمی و روانی فرد مصرف‌کننده، بلکه سلامت خانواده او و نیز افراد دیگر اجتماع را به خطر می‌اندازد.

مواد اعتیادآور و مغز: نخستین تصمیم برای مصرف مواد اعتیادآور در اغلب افراد اختیاری است، اما استفاده مکرر از این مواد، تغییراتی را در مغز ایجاد می‌کند که فرد دیگر نمی‌تواند با میل شدید برای مصرف مقابله کند. این تغییرات ممکن است دائمی باشند. به همین علت، اعتیاد را بیماری برگشت‌پذیر می‌دانند که حتی سال‌ها پس از ترک مواد، فرد در خطر مصرف دوباره قرار دارد. مواد اعتیادآور بیشتر بر بخشی از سامانه لیمبیک اثر می‌گذارند و موجب آزاد شدن ناقل‌های عصبی از جمله دوپامین می‌شوند که در فرد احساس لذت و سرخوشی ایجاد می‌کند. در نتیجه فرد، میل شدیدی به مصرف دوباره آن ماده دارد. با ادامه مصرف، دوپامین کمتری آزاد می‌شود و به فرد احساس کسالت، بی‌حوصلگی و افسردگی دست می‌دهد. برای رهایی از این حالت و دستیابی به سرخوشی نخستین، فرد مجبور است، ماده اعتیادآور بیشتری مصرف کند. مواد اعتیادآور بر بخش‌هایی از قشر مخ تأثیر می‌گذارند و توانایی قضاوت، تصمیم‌گیری و خودکنترلی فرد را کاهش می‌دهند. این اثرات به ویژه در مغز نوجوانان شدیدتر است؛ زیرا مغز آنان در حال رشد است. مصرف مواد اعتیادآور ممکن است تغییرات برگشت‌ناپذیری را در مغز ایجاد کند. شکل ۱۸ اثر یک ماده اعتیادآور بر فعالیت مغز را با بررسی مصرف‌کننده در آن نشان می‌دهد.

با بررسی مصرف‌کننده در آن نشان می‌دهد.

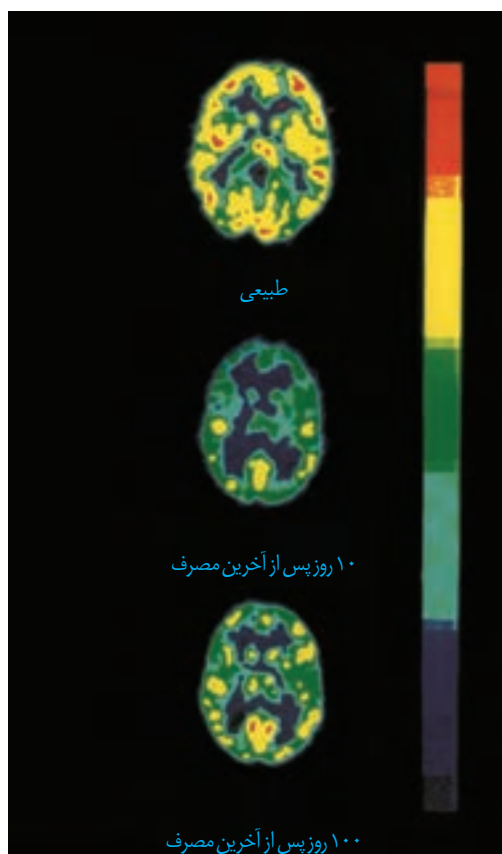
شکل ۱۸ - تصویرها مصرف گلوکز را در مغز فرد سالم و فرد مصرف کننده کوکائین نشان می دهند. رنگ های آبی تیره و روشن مصرف کم گلوکز و رنگ زرد و قرمز مصرف زیاد آن را نشان می دهند. توجه کنید بهبود فعالیت مغز به زمان طولانی نیاز دارد؛ بخش پیشین مغز بهبود کمتری را نشان می دهد.

بیشتر بدانید

مصرف الکل، زمان واکنش به محرک را افزایش می دهد. بنابراین، رانندگی پس از مصرف الکل، جان خود و دیگران را به خطر می اندازد. وجود الکل را در خون، ادرار و هوای بازدمی می توان سنجید.

بیشتر بدانید

در گذشته تصور می کردند تولید یاخته های عصبی فقط در دوران جنینی انجام می شود. اما نتایج پژوهش های آتمن در دهه هفتاد میلادی، این باور را تغییر داد. پژوهش روی پستانداران بالغ نشان داده است که در بخش هایی از هیپوکامپ تولید یاخته های عصبی رخ می دهد. تولید یاخته های عصبی شامل تکثیر، مهاجرت و تمایز یاخته های بنیادی به یاخته های عصبی است. الکل بر تکثیر یاخته ای و بقای یاخته ها اثر نامطلوب دارد. در افراد معتاد به الکل حجم هیپوکامپ کاهش پیدا می کند.



اعتیاد به الکل: مقدار الکل (اتانول) در نوشیدنی های الکلی متفاوت است؛ حتی مصرف کمترین مقدار الکل، بدن را تحت تأثیر قرار می دهد. الکل در دستگاه گوارش به سرعت جذب می شود و چون در چربی محلول است از غشای یاخته های عصبی بخش های مختلف مغز عبور و فعالیت های آنها را مختل می کند. الکل علاوه بر دوپامین، بر فعالیت انواعی از ناقل های عصبی تحریک کننده و بازدارنده تأثیر می گذارد. الکل کاهش دهنده فعالیت های بدنی است. موجب آرام سازی ماهیچه ها و ایجاد ناهماهنگی در حرکات بدن، اختلال در گفتار، کاهش درد و اضطراب، خواب آلودگی، اختلال در حافظه، گیجی و کاهش هوشیاری می شود. الکل فعالیت مغز را کند می کند و در نتیجه زمان واکنش فرد به محرک های محیطی افزایش پیدا می کند. مشکلات کبدی، سکتۀ قلبی و انواع سرطان از پیامدهای مصرف بلند مدت الکل است.

فعالیت ۶

در بارۀ درستی یا نادرستی عبارات های زیر اطلاعاتی را جمع آوری کرده و به کلاس ارائه کنید.

● استفاده از قلیان به اندازه سیگار خطرناک نیست.

● فرد با یک بار مصرف ماده اعتیاد آور، معتاد نمی شود.

● مصرف تنباکو با سرطان دهان، حنجره و شش ارتباط مستقیم دارد.

● مصرف مواد اعتیاد آوری که از گیاهان به دست می آیند، خطر چندانی ندارد.

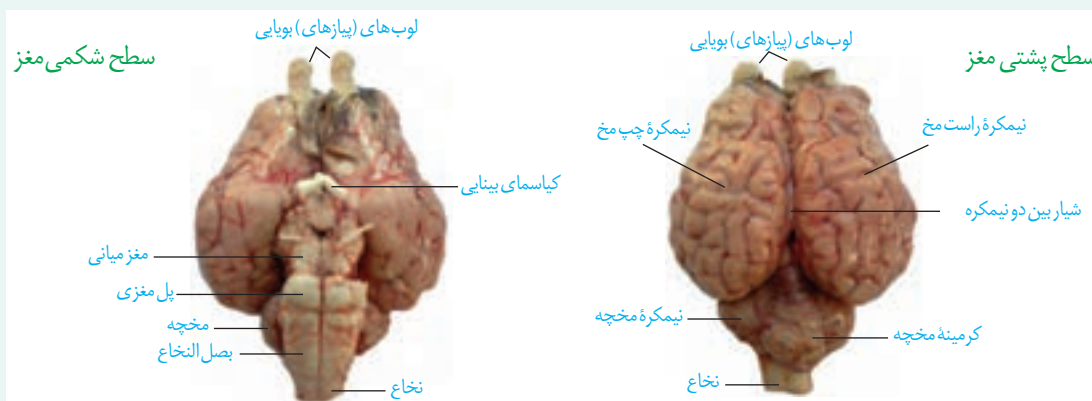
مواد و وسایل لازم: مغز سالم گوسفند (یا گوساله)، وسایل تشریح، دستکش

با کمک معلم مغز را برای تشریح آماده کنید.

۱- بررسی بخش های خارجی مغز

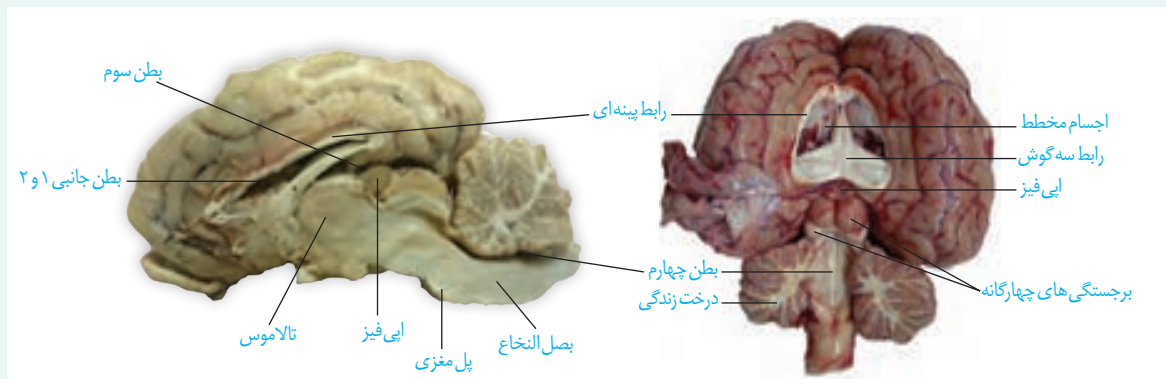
الف) مشاهده سطح پشتی: مغز را مانند شکل در ظرف تشریح قرار دهید. روی مغز بقایای پرده مننژ وجود دارد. آنها را جدا کنید تا شیارهای مغز بهتر دیده شوند. کدام بخش های مغز را با مشاهده سطح پشتی آن می توانید ببینید؟

ب) مشاهده سطح شکمی مغز: مغز را برگردانید، باقیمانده مننژ را به آرامی جدا کنید و بخش های مغز را در این سطح مشاهده کنید.



۲- مشاهده بخش های درونی مغز: مغز را طوری در ظرف تشریح قرار دهید که سطح پشتی آن را ببینید. با انگشتان شست، به آرامی دو نیمکره را از محل شیار بین آنها از یکدیگر فاصله دهید و بقایای پرده های مننژ را از بین دو نیمکره خارج کنید تا نوار سفید رنگ **رابط پینه ای** را ببینید.

در حالی که نیمکره های مخ از هم فاصله دارند، با نوک چاقوی جراحی، در جلوی رابط پینه ای، برش کم عمقی ایجاد کنید و به آرامی فاصله نیمکره ها را بیشتر کنید تا **رابط سه گوش** را در زیر رابط پینه ای مشاهده کنید. دو طرف این رابط ها، فضای **بطن های ۱ و ۲ مغز** و داخل آنها، **اجسام مخطط** قرار دارند. شبکه های مویرگی که مایع مغزی-نخاعی را ترشح می کند نیز درون این بطن ها دیده می شوند.



در مرحله بعد به کمک چاقوی جراحی در رابط سه گوش، برش طولی ایجاد کنید تا در زیر آن، تالاموس‌ها را ببینید. دو تالاموس با یک رابط به هم متصل اند و با کمترین فشار از هم جدا می‌شوند.

در عقب تالاموس‌ها، **بطن سوم** و در لبه پایین این بطن، **رومغزی (اپی فیز)** را ببینید. در عقب اپی فیز برجستگی‌های **چهارگانه** قرار دارند.

در مرحله بعدی **کرمینه مخچه** را در امتداد شیار بین دو نیمکره مخچه برش دهید تا درخت زندگی و **بطن چهارم** مغز را ببینید.

نخاع: نخاع درون ستون مهره‌ها از بصل النخاع تا دومین مهره کمر کشیده شده است. نخاع، مغز را

به دستگاه عصبی محیطی متصل می‌کند و مسیر عبور پیام‌های حسی از اندام‌های بدن به مغز و ارسال

پیام‌ها از مغز به اندام‌هاست. علاوه بر آن،

نخاع مرکز برخی انعکاس‌های بدن است.

هر عصب نخاعی دو ریشه دارد

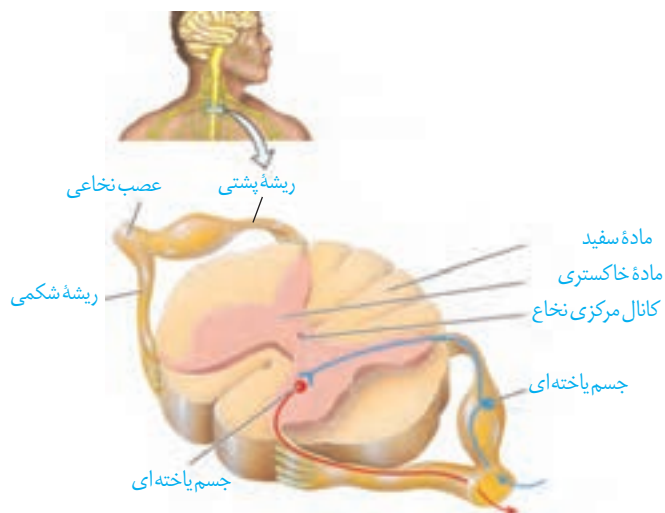
(شکل ۱۹). **ریشه پشتی** عصب نخاعی

حسی و **ریشه شکمی** آن حرکتی است.

ریشه پشتی، اطلاعات حسی را به نخاع

وارد و ریشه شکمی پیام‌های حرکتی را از

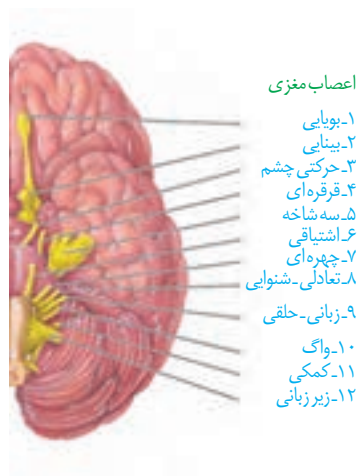
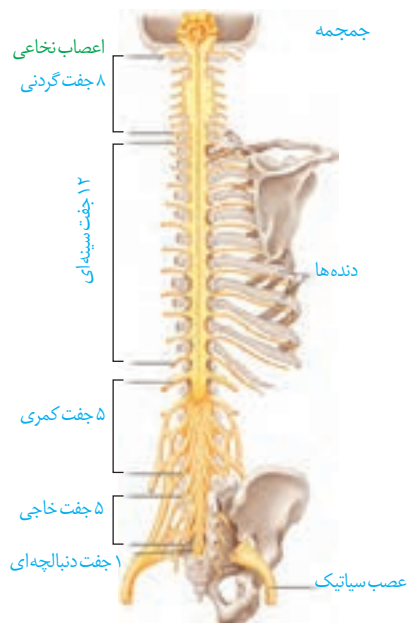
نخاع خارج می‌کند.



شکل ۱۹- عصب نخاعی

بیشتر بدانید

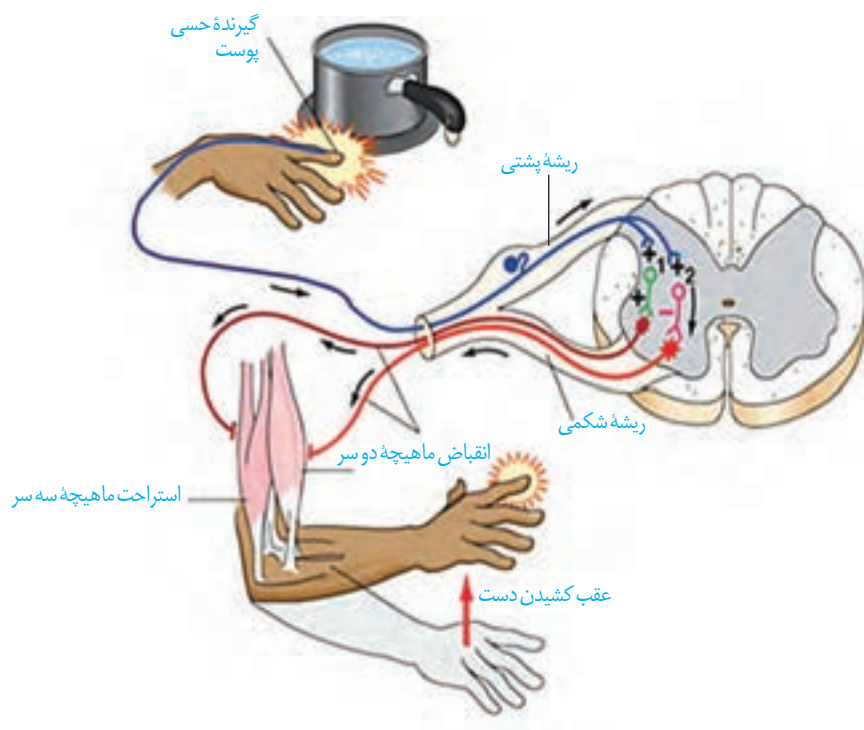
اعصاب مغزی و نخاعی را در شکل‌های زیر ببینید.



دستگاه عصبی محیطی

بخشی از دستگاه عصبی که مغز و نخاع را به بخش‌های دیگر مرتبط می‌کند، **دستگاه عصبی محیطی** نام دارد. ۱۲ جفت عصب مغزی و ۳۱ جفت عصب نخاعی، دستگاه عصبی مرکزی را به بخش‌های دیگر بدن، مانند اندام‌های حس و ماهیچه‌ها مرتبط می‌کنند. هر عصب مجموعه‌ای از رشته‌های عصبی است که درون بافت پیوندی قرار گرفته‌اند. دستگاه عصبی محیطی شامل دو بخش حسی و حرکتی است. با بخش حسی این دستگاه در فصل بعد آشنا خواهید شد. بخش حرکتی این دستگاه پیام عصبی را به اندام‌های اجرا کننده مانند ماهیچه‌ها می‌رساند. بخش حرکتی دستگاه عصبی محیطی، خود شامل دو بخش **پیکری و خودمختار** است.

بخش پیکری: این بخش پیام‌های عصبی را به ماهیچه‌های اسکلتی می‌رساند. فعالیت این ماهیچه‌ها به شکل ارادی و غیر ارادی تنظیم می‌شود. وقتی تصمیم می‌گیرید کتاب را از روی میز بردارید، یاخته‌های عصبی بخش پیکری، دستور مغز را به ماهیچه‌های دست می‌رسانند. فعالیت ماهیچه‌های اسکلتی به شکل انعکاسی نیز تنظیم می‌شود. می‌دانید انعکاس پاسخ سریع و غیر ارادی ماهیچه‌ها در پاسخ به محرک‌هاست. همان‌طور که در شکل ۲۰ می‌بینید، دست فرد با برخورد به جسم داغ، به عقب کشیده می‌شود. مرکز تنظیم این انعکاس نخاع است.



شکل ۲۰- انعکاس عقب کشیدن دست

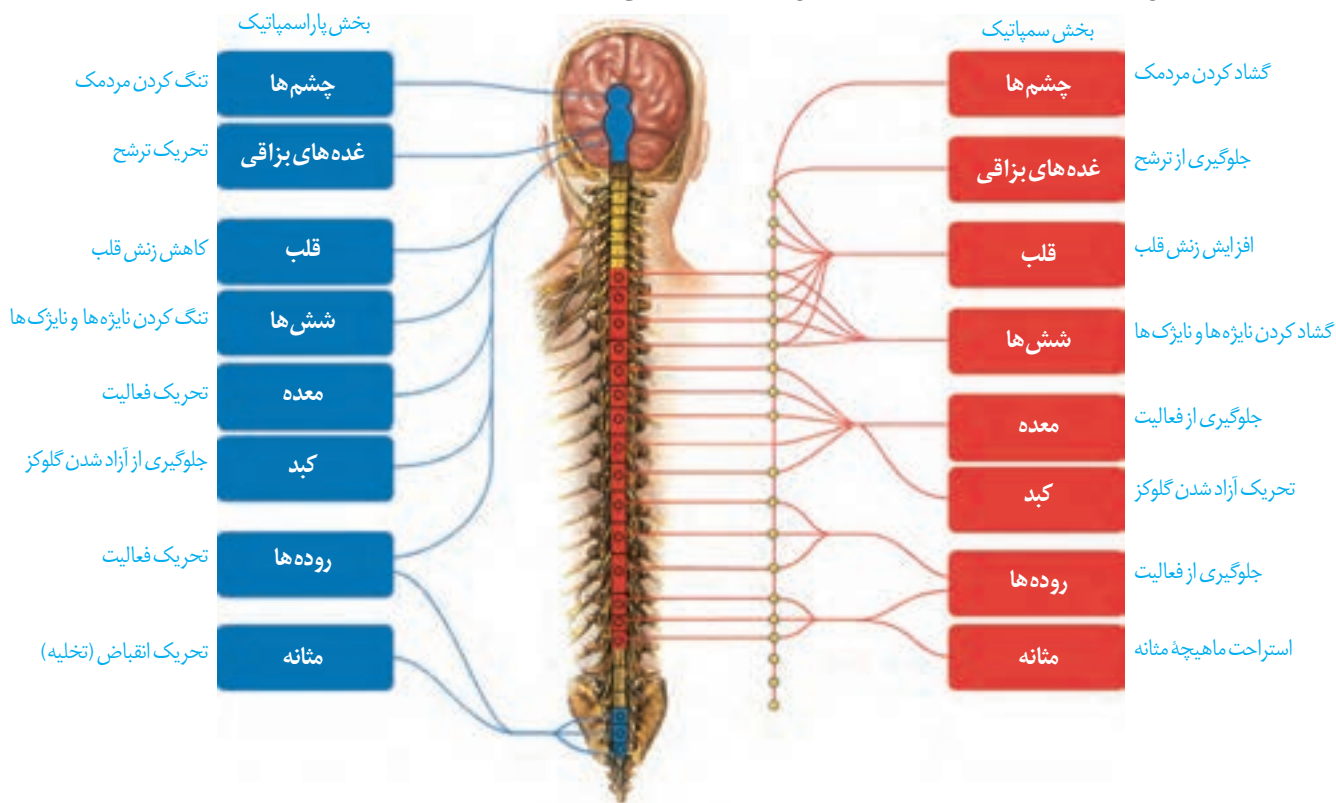
با استفاده از شکل ۲۰ به این پرسش‌ها پاسخ دهید:

- ۱- پس از احساس درد، چه رویدادهایی رخ می‌دهد تا فرد دست خود را عقب بکشد؟
- ۲- در مسیر عقب کشیدن دست، کدام سیناپس‌ها تحریک کننده و کدام مهارکننده‌اند؟

بخش خود مختار: بخش خود مختار دستگاه عصبی محیطی، کار ماهیچه‌های صاف، ماهیچه قلب و غده‌ها را به صورت ناآگاهانه تنظیم می‌کند و همیشه فعال است. این دستگاه از دو بخش هم‌حس (سمپاتیک) و پادهم‌حس (پاراسمپاتیک) تشکیل شده است که معمولاً بر خلاف یکدیگر کار می‌کنند تا فعالیت‌های حیاتی بدن را در شرایط مختلف تنظیم کنند. فعالیت پاراسمپاتیک باعث برقراری حالت آرامش در بدن می‌شود. در این حالت، فشار خون کاهش یافته، ضربان قلب کم می‌شود. بخش سمپاتیک هنگام هیجان بر بخش پاراسمپاتیک غلبه دارد و بدن را در حالت آماده‌باش نگه می‌دارد. ممکن است این حالت را هنگام شرکت در مسابقه ورزشی تجربه کرده باشید. در این وضعیت، بخش سمپاتیک سبب افزایش فشار خون، ضربان قلب و تعداد تنفس می‌شود و جریان خون را به سوی قلب و ماهیچه‌های اسکلتی هدایت می‌کند.

بیشتر بدانید

در شکل زیر، نقش دستگاه سمپاتیک و پاراسمپاتیک را در بخش‌های مختلف بدن می‌بینید.



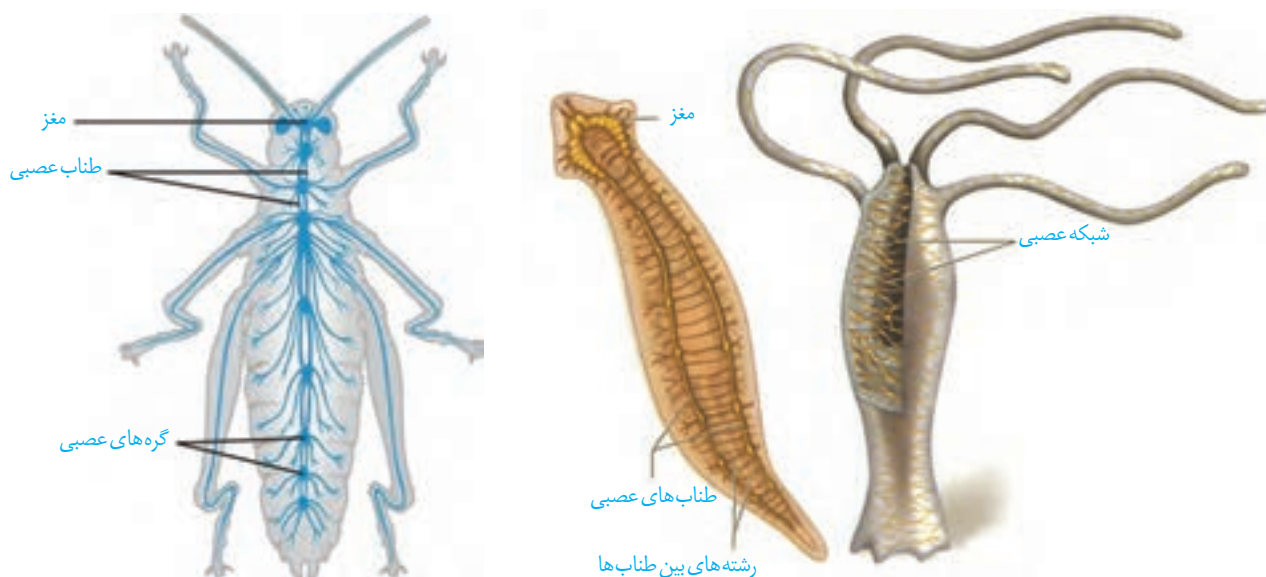
دستگاه عصبی جانوران

ساده‌ترین ساختار عصبی، شبکه عصبی در هیدر است. شبکه عصبی مجموعه‌ای از نورون‌های پراکنده در دیواره بدن هیدر است که با هم ارتباط دارند. تحریک هر نقطه از بدن جانور در همه سطح آن منتشر می‌شود. شبکه عصبی یاخته‌های ماهیچه‌ای بدن را تحریک می‌کند. در پلاناریا دو گره عصبی در سر جانور، مغز را تشکیل داده‌اند. هر گره مجموعه‌ای از جسم یاخته‌های عصبی است. دو طناب عصبی متصل به مغز که در طول بدن جانور کشیده شده‌اند، با رشته‌هایی به هم متصل‌اند و ساختار نردبان مانند را ایجاد می‌کنند. این مجموعه بخش مرکزی دستگاه عصبی جانور است. رشته‌های جانبی متصل به آن نیز، بخش محیطی دستگاه عصبی را تشکیل می‌دهند.

مغز حشرات از چند گره به هم جوش خورده تشکیل شده است. یک طناب عصبی شکمی که در طول بدن جانور کشیده شده است، در هر بند از بدن، یک گره عصبی دارد. هر گره فعالیت ماهیچه‌های آن بند را تنظیم می‌کند (شکل ۲۱).

در مهره داران طناب عصبی پشتی است و بخش جلویی آن برجسته شده و مغز را تشکیل می‌دهد. طناب عصبی درون سوراخ مهره‌ها و مغز درون جمجمه‌ای غضروفی، یا استخوانی جای گرفته است. در مهره داران نیز مانند انسان، دستگاه عصبی شامل دستگاه عصبی مرکزی و محیطی است. در بین مهره داران اندازه نسبی مغز پستانداران و پرندگان نسبت به وزن بدن از بقیه بیشتر است.

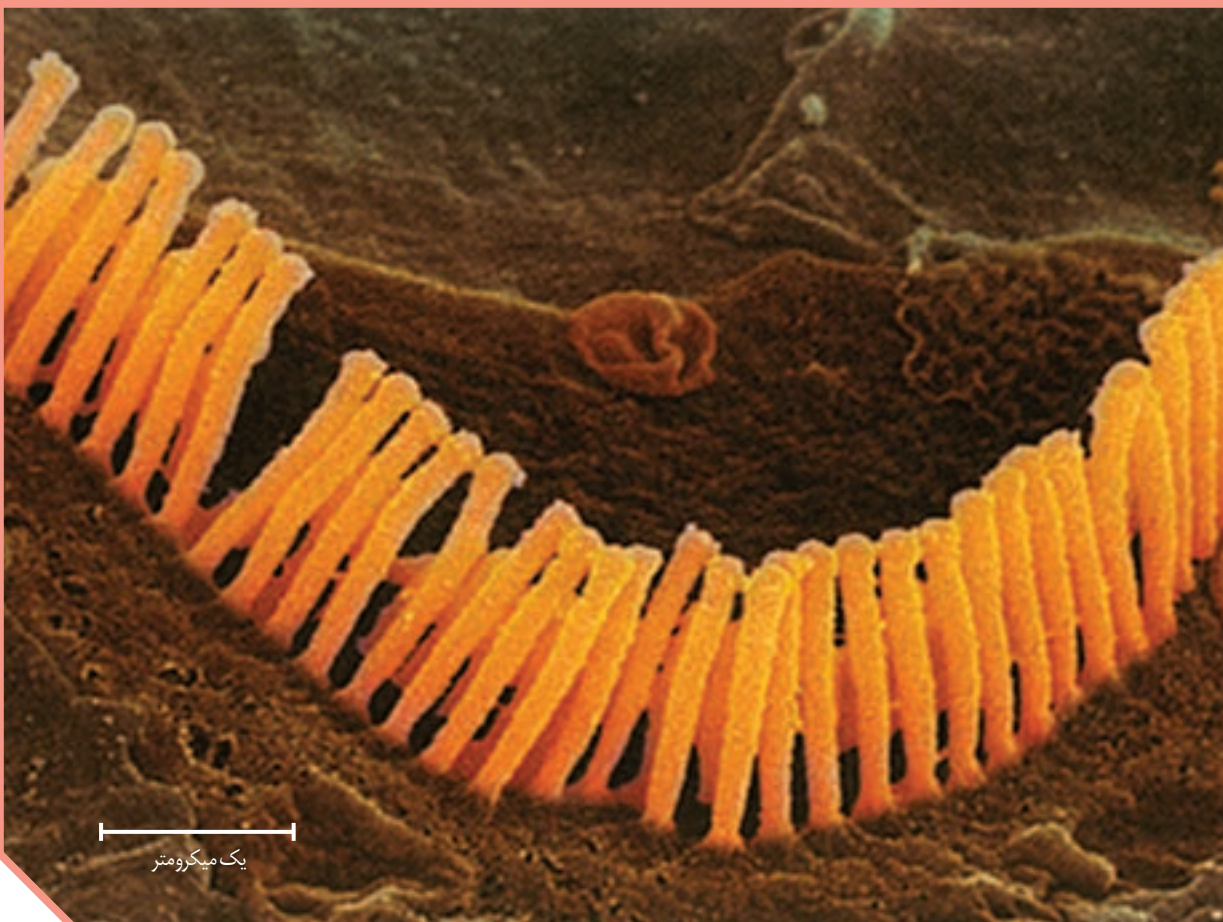
شکل ۲۱- ساختارهای عصبی چند جانور



پ) ملخ

ب) پلاناریا

الف) هیدر



یک میکرومتر

فصل ۲

حواس

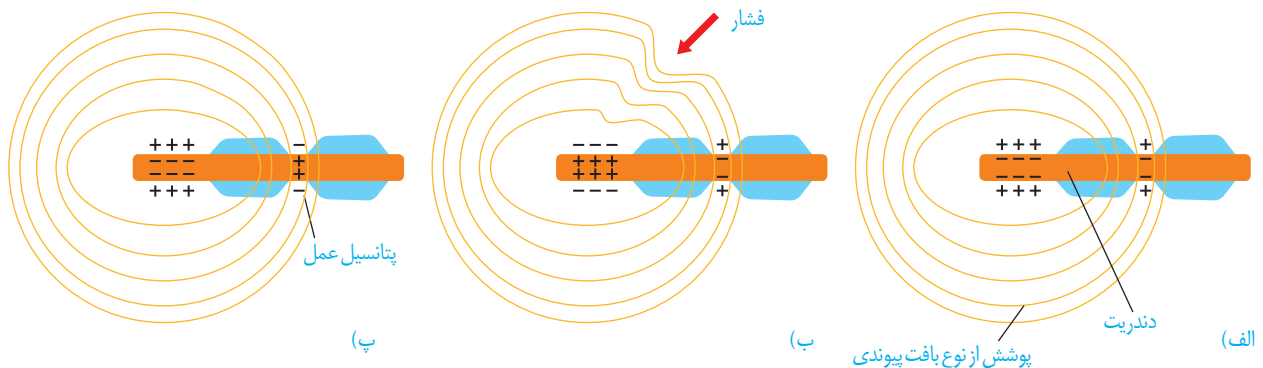
اکنون که این متن را می‌خوانید، چشم‌های شما، پیام‌های بینایی را به مغز ارسال می‌کنند. وقتی به صفحه کتاب دست می‌زنید، اطلاعاتی از پوست به دستگاه عصبی مرکزی می‌رسد. در این حالت، دستگاه عصبی از وضعیت نشستن شما و میزان اکسیژن خون شما نیز آگاه است. بدن چگونه اطلاعات گوناگون را دریافت می‌کند و به آنها پاسخ می‌دهد؟ چرا گاهی تماس ساعت یا عینک با پوست خود را احساس نمی‌کنیم؟ چرا فردی که تحت عمل جراحی قرار دارد، دردی احساس نمی‌کند؟ چرا برخی جانوران می‌توانند اطلاعاتی را دریافت کنند که ما بدون استفاده از ابزار مناسب، نمی‌توانیم آنها را درک کنیم؟

تصویر مژک‌های باخته‌گیرنده شنوایی با میکروسکوپ الکترونی

گیرنده حسی، یاخته یا بخشی از آن است که اثر محرک را دریافت می‌کند. اثر محرک به پیام عصبی تبدیل می‌شود. صدا، فشار، اکسیژن، گرما و نور نمونه‌هایی از این محرک‌ها هستند که هر کدام گیرنده ویژه‌ای را در بدن تحریک می‌کنند. گیرنده‌های حسی انسان گوناگون‌اند؛ ولی می‌توان آنها را براساس نوع محرک، در پنج دسته کلی طبقه‌بندی کرد: گیرنده‌های مکانیکی، شیمیایی، دمایی، نوری و درد. در ادامه درس با این گیرنده‌ها آشنا می‌شوید.

کار گیرنده‌های حسی

گیرنده چگونه اثر محرک را دریافت و به پیام عصبی تبدیل می‌کند؟ در فصل قبل با چگونگی ایجاد پیام عصبی در یاخته‌های عصبی آشنا شدید. عوامل گوناگونی مانند تغییر شکل در اثر فشار، مواد شیمیایی و تغییر دما، نفوذپذیری غشای گیرنده به یون‌ها و در نتیجه پتانسیل غشای آن را تغییر می‌دهند. شکل ۱، یک گیرنده فشار پوست را نشان می‌دهد. این گیرنده انتهای دارینه (دندریت) یک نورون حسی است که درون پوششی چند لایه و انعطاف‌پذیر از نوع بافت پیوندی قرار دارد. فشرده شدن این پوشش، رشته دندریت را تحت فشار قرار می‌دهد و در آن تغییر شکل ایجاد می‌کند. در نتیجه کانال‌های یونی غشای گیرنده، باز و پتانسیل الکتریکی غشا تغییر می‌کند. به این ترتیب در دندریت پیام عصبی ایجاد و به دستگاه عصبی مرکزی ارسال می‌شود.



شکل ۱- ایجاد پیام عصبی به وسیله گیرنده فشار.

(الف) ساختار گیرنده.

(ب) وارد آمدن تحریک (فشار)

(پ) تبدیل اثر محرک به پیام عصبی (هدایت پیام عصبی)

گیرنده‌ها سازش پیدا می‌کنند

شاید توجه کرده باشید که بوی غذا یا عطر را پس از گذشت مدتی، دیگر احساس نمی‌کنیم. در این حالت، آیا مولکول‌های بودار در محیط کم می‌شوند، یا گیرنده‌های بو درست کار نمی‌کنند؟ وقتی گیرنده‌ها مدتی در معرض محرک ثابتی قرار گیرند، پیام عصبی کمتری ایجاد می‌کنند، یا اصلاً پیامی ارسال نمی‌کنند. این پدیده را سازش گیرنده‌ها می‌نامند. سازش گیرنده‌ها چه فایده‌ای دارد؟

پدیده سازش گیرنده‌های فشار پوست، موجب می‌شود وجود لباس را روی بدن حس نکنیم. در این حالت، اطلاعات کمتری به مغز ارسال می‌شود. در نتیجه مغز می‌تواند اطلاعات مهم‌تری را پردازش کند. مثال‌های دیگری از سازش گیرنده‌ها را که تجربه کرده‌اید بیان کنید.

فعالیت ۱

گیرنده‌های زیر را در پنج گروه گیرنده که با آنها آشنا شدید، طبقه‌بندی کنید.
گیرنده‌های چشایی روی زبان، گیرنده‌های میزان اکسیژن در ائورت، گیرنده‌های شبکیه چشم، گیرنده‌های گرم، گیرنده‌های فشار پوست، گیرنده‌های بینایی، گیرنده‌های فشار خون دیواره رگ‌ها

بیشتر بدانید

اندام خیالی: مغز ممکن است احساس‌ها را اشتباه درک کند. اندام خیالی حالتی است که فرد در اندام از دست رفته بدنش، درد احساس می‌کند. در گذشته پژوهشگران فکر می‌کردند این احساس از پایانه‌های عصبی آسیب‌دیده در اندام قطع شده، ایجاد می‌شود. اما امروز آن‌ها بر این باورند که بخشی از قشر مخ که اطلاعات اندام از دست رفته را پردازش می‌کند، اکنون از بخش‌های دیگر بدن اطلاعاتی دریافت و این پیام‌ها را به عنوان پیام اندام از دست رفته تلقی می‌کند.

حواس را به دو گروه تقسیم می‌کنند

گروهی از گیرنده‌ها مانند گیرنده‌های دما در بخش‌های گوناگون بدن پراکنده‌اند و گروهی از گیرنده‌های بدن ما در اندام‌های ویژه‌ای قرار دارند؛ مانند گیرنده‌های بینایی در چشم. از این رو، حواس را به دو گروه **حواس پیکری** و **حواس ویژه** تقسیم کرده‌اند. در ادامه درس با کار هر گروه از این حواس آشنا می‌شوید.

حواس پیکری

در بخش‌های گوناگون بدن مانند پوست، ماهیچه‌های اسکلتی و زردپی‌ها، گیرنده‌هایی وجود دارند که اطلاعات حسی را دریافت می‌کنند. اینها گیرنده‌های حس‌های پیکری اند. حس‌های پیکری شامل **حس تماس، دما، وضعیت و درد**ند. انتهای دندریت آزاد، مانند گیرنده‌های درد، یا انتهای دندریت‌هایی درون پوششی از بافت پیوندی مانند گیرنده‌های فشار در پوست نمونه‌هایی از گیرنده‌های حواس پیکری‌اند. (شکل ۱).

گیرنده‌های تماسی، گیرنده‌های مکانیکی در پوست و بافت‌های دیگرند که با تماس، فشار یا ارتعاش تحریک می‌شوند (شکل ۲). تعداد گیرنده‌های تماس در پوست بخش‌های گوناگون بدن متفاوت است و بخش‌هایی که تعداد گیرنده‌های بیشتری دارند، مانند نوک انگشتان و لب‌ها، حساس‌ترند.

گیرنده‌های دمایی در بخش‌هایی از درون بدن، مانند برخی سیاهرگ‌های بزرگ و پوست جای دارند. گیرنده‌های دمایی درون بدن به تغییرات



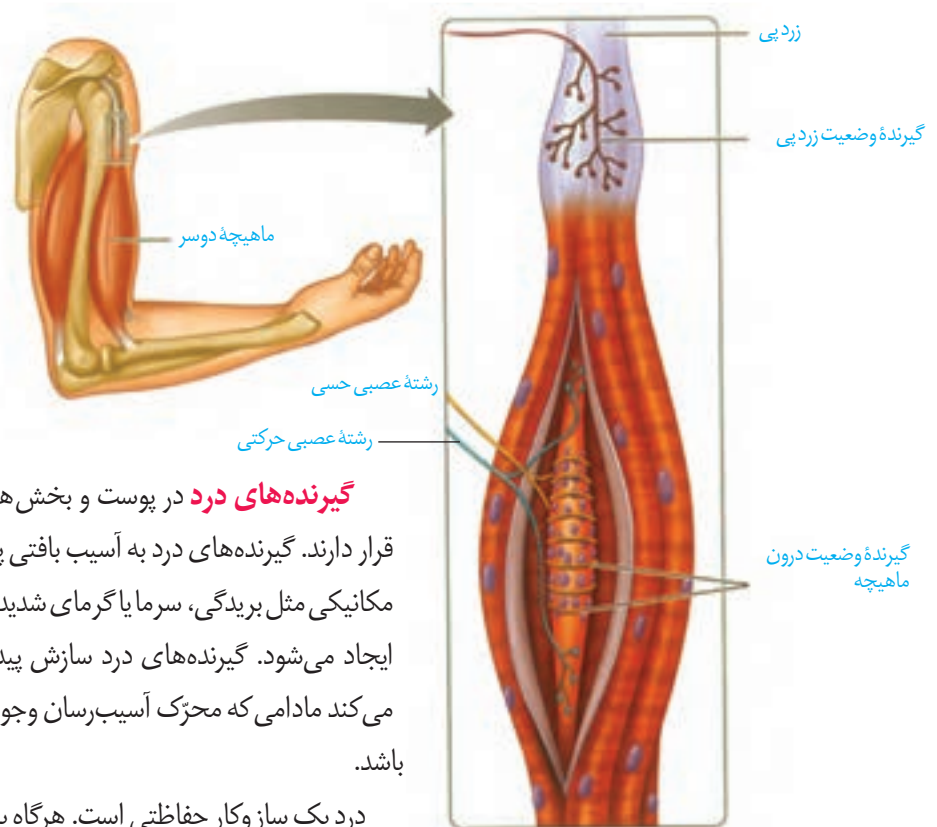
شکل ۲- گیرنده‌های پوست

بیشتر بدانید

تزریق موادی مانند هیستامین که از بافت‌های تخریب شده خارج می‌شوند، در زیر پوست، درد شدیدی را ایجاد می‌کنند. به این ترتیب، مشخص شده است که برخی موادی که در بدن تولید می‌شوند، گیرنده‌های درد را تحریک می‌کنند.

دمای درون بدن و گیرنده‌های دمایی پوست به تغییرات دمای سطح بدن حساس‌اند؛ در نتیجه سرما یا گرما را دریافت می‌کنند (شکل ۲).

فعالیت گیرنده‌های مکانیکی **حسّ وضعیت** موجب می‌شود که مغز از چگونگی قرارگیری قسمت‌های مختلف بدن نسبت به هم، هنگام سکون و حرکت اطلاع یابد. گیرنده‌های حسّ وضعیت در ماهیچه‌های اسکلتی، زردپی‌ها و کپسول پوستانده مفصل‌ها قرار دارند. گیرنده‌های وضعیت درون ماهیچه‌ها به تغییر طول ماهیچه حساس‌اند؛ مثلاً وقتی دست خود را حرکت می‌دهید، طول ماهیچه تغییر می‌کند و گیرنده‌های درون ماهیچه تحریک می‌شوند (شکل ۳).



گیرنده‌های درد در پوست و بخش‌های گوناگون بدن مثل دیواره سرخرگ‌ها قرار دارند. گیرنده‌های درد به آسیب بافتی پاسخ می‌دهند. آسیب بافتی در اثر عوامل مکانیکی مثل بریدگی، سرما یا گرمای شدید و برخی مواد شیمیایی مثل لاکتیک اسید ایجاد می‌شود. گیرنده‌های درد سازش پیدا نمی‌کنند. در نتیجه، این پدیده کمک می‌کند مادامی که محرک آسیب‌رسان وجود دارد، فرد از وجود محرک اطلاع داشته باشد.

درد یک ساز و کار حفاظتی است. هرگاه یاخته‌ها در معرض تخریب قرار گیرند، درد ایجاد و موجب می‌شود که فرد برای برطرف کردن عامل ایجاد درد، واکنش مناسب نشان دهد؛ مثلاً نشستن طولانی مدت ممکن است موجب آسیب دیدن پوست در محل نشیمن‌گاه شود. بنابراین، فرد به‌طور ناخودآگاه تغییر وضعیت می‌دهد؛ در غیر این صورت، پوست در نقاط تحت فشار تخریب می‌شود.

شکل ۳- گیرنده‌های حسّ وضعیت در ماهیچه اسکلتی و زردپی

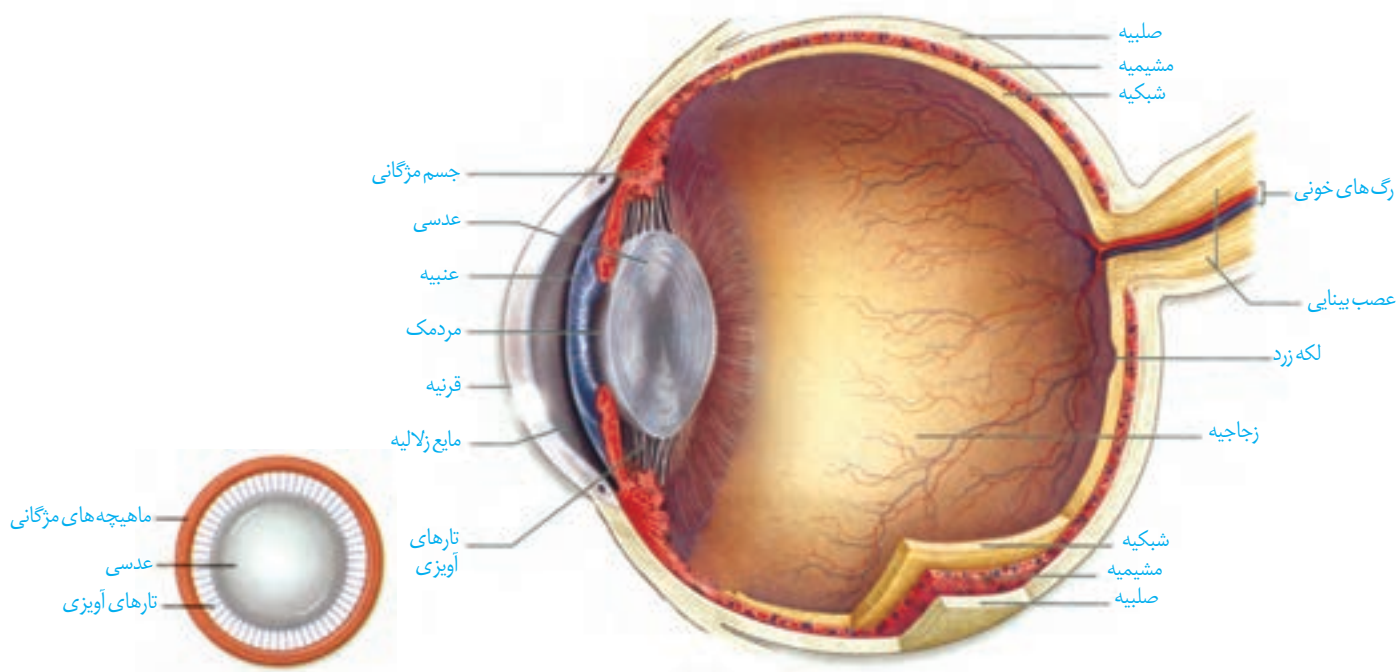
بیشتر بدانید

تحریک برخی گیرنده‌های تماسی، از انتقال پیام عصبی درد از آن بخش بدن جلوگیری می‌کند. به همین علت مالش پوست در نزدیک محل دردناک، در تسکین درد تأثیر دارد.

گیرنده‌های حواس ویژه شامل گیرنده‌های حس بینایی، شنوایی، تعادل، بویایی و چشایی اند که در اندام‌های حسی قرار دارند. این گیرنده‌ها در کدام بخش هر یک از این اندام‌ها قرار دارند؟

بینایی

بیشتر اطلاعات محیط پیرامون را از راه دیدن و به کمک اندام حس بینایی، یعنی چشم دریافت می‌کنیم. کره چشم در حفره استخوانی کاسه چشم قرار دارد. ماهیچه‌هایی که به کره چشم متصل اند، آن را حرکت می‌دهند. این ماهیچه‌ها را در فعالیت تشریح چشم می‌توانید ببینید. پلک‌ها، مژه‌ها، بافت چربی روی کره چشم و اشک از چشم حفاظت می‌کنند. در شکل ۴ ساختار کره چشم را می‌بینید.



شکل ۴- بخش‌های تشکیل دهنده کره چشم چپ از بالا

می‌دانید نوری را که از اجسام بازتاب پیدا می‌کند، گیرنده‌های نوری شبکیه دریافت می‌کنند. نور برای رسیدن به این یاخته‌ها از چه مسیری عبور می‌کند؟

ساختار کره چشم: خارجی‌ترین لایه کره چشم از صلبیه و قرنیه تشکیل شده است. صلبیه پرده‌ای سفید رنگ، محکم و قرنیه پرده شفاف جلوی چشم است. لایه میانی چشم شامل مشیمیه، جسم مژگانی و عنبیه است. مشیمیه لایه‌ای رنگدانه‌دار و پر از مویرگ‌های خونی است که شبکیه چشم

بیشتر بدانید

ابن هیثم که اروپاییان او را الحازن (Alhazan) می نامند، دانشمند مسلمان قرن چهارم هجری است. او کسی است که برای نخستین بار در کتاب المناظر خود، بخش‌های چشم را با نام‌های صلیبه، زجاجیه و... نام‌گذاری کرد؛ او همچنین چگونگی دیدن اجسام را توضیح داد. تا قبل از آن بر طبق نظر اقلیدس، تصور می کردند که نور از چشم بیننده به اجسام می تابد و باعث دیدن آنها می شود، ولی ابن هیثم با استدلال تجربی ثابت کرد نور پس از تابیدن بر اجسام و بازتاب از آنها وارد عدسی چشم می شود و عدسی، تصویر اجسام را روی پرده شبکیه می اندازد. ابن هیثم دریافت که پرده شبکیه از راه عصب بینایی با مغز ارتباط دارد. بعدها ابن سینا، ابوریحان بیرونی و دیگران نظر او را پذیرفتند. ترجمه کتاب او برای سال‌ها، یکی از کتاب‌های درسی دانشگاه‌های اروپا بود.

شکل ۵- الف) گیرنده‌های نوری و یاخته‌های عصبی شبکیه

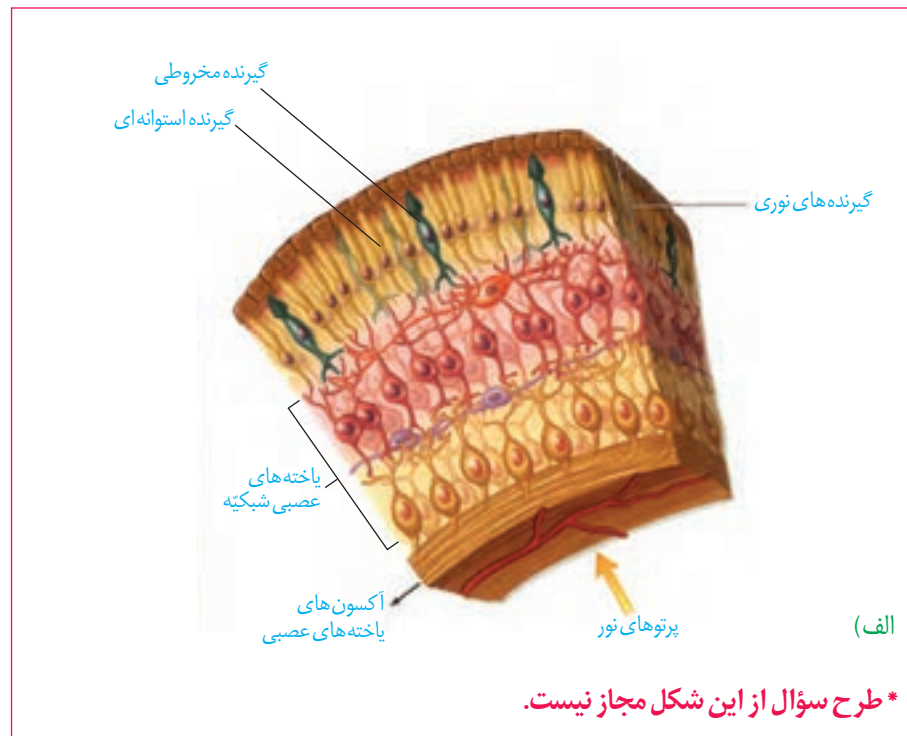
بیشتر بدانید

رنگ چشم: در عنبیه دانه‌های رنگی وجود دارد که حاوی ملانین‌اند. تراکم این دانه‌ها، رنگ چشم را تعیین می کند.

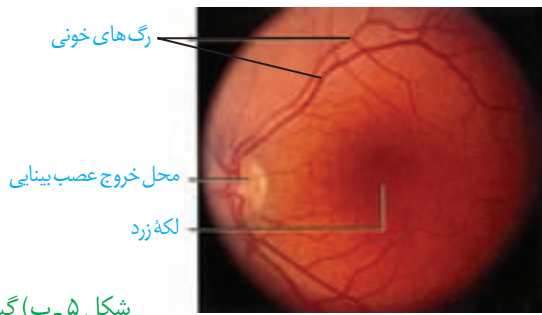
را تغذیه می کند. جسم مژگانی، حلقه‌ای بین مشیمیه و عنبیه و شامل ماهیچه‌های مژگانی است. عنبیه بخش رنگین چشم در پشت قرنیه است که در وسط آن، سوراخ مردمک قرار دارد. دو گروه ماهیچه صاف عنبیه، مردمک را (در نور زیاد) تنگ و (در نور کم) گشاد می کنند. ماهیچه‌های تنگ کننده را اعصاب پاراسمپاتیکی و ماهیچه‌های گشاد کننده را اعصاب سمپاتیکی عصب دهی می کنند.

عدسی چشم همگرا، انعطاف پذیر و با رشته‌هایی به نام **تارهای آویزی** به جسم مژگانی متصل است. مایعی شفاف به نام **زلالیه** فضای جلوی عدسی چشم را پر کرده است که از مویرگ‌ها ترشح می شود. زلالیه مواد غذایی و اکسیژن را برای عدسی و قرنیه فراهم و مواد دفعی آنها را جمع‌آوری می کند و به خون می دهد. ماده‌ای ژله‌ای و شفاف به نام **زجاجیه** در فضای پشت عدسی قرار دارد که شکل کروی چشم را حفظ می کند.

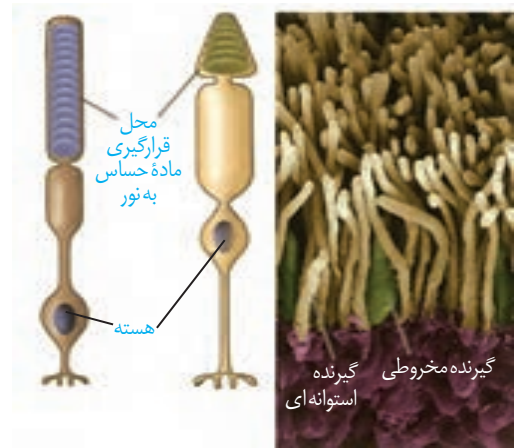
شبکیه داخلی‌ترین لایه چشم است که گیرنده‌های نوری، یعنی **یاخته‌های مخروطی و استوانه‌ای** و نیز یاخته‌های عصبی در آن قرار دارند (شکل ۵ الف). آکسون یاخته‌های عصبی، **عصب بینایی** را تشکیل می دهند که پیام‌های بینایی را به مغز می برد. محل خروج عصب بینایی از شبکیه، **نقطه کور** نام دارد. درون گیرنده‌های نوری ماده حساس به نور وجود دارد (شکل ۵ ب).



اثر نور بر شبکیه: پرتوهای نور از قرنیه می گذرند و به علت انحنای آن همگرا می شوند. این پرتوها از زلالیه، سوراخ مردمک، عدسی و زجاجیه عبور می کنند. عدسی، پرتوهای نور را روی شبکیه و گیرنده‌های نوری آن متمرکز می کند.



شکل ۵ - ب) گیرنده های نوری
(رنگ های تصاویر واقعی نیستند)
پ) مشاهده شبکه از مردمک با
دستگاه ویژه



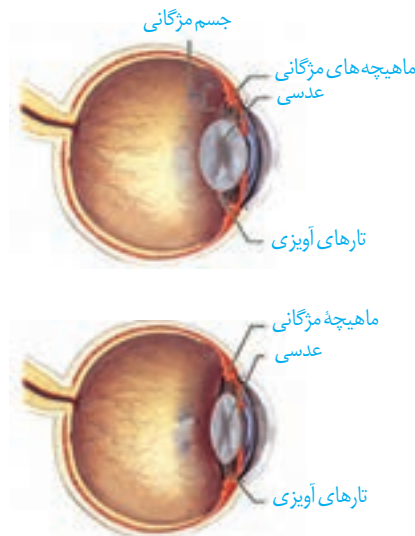
ب)

یاخته های استوانه ای در نور کم و یاخته های مخروطی در نور زیاد تحریک می شوند. گیرنده های مخروطی، تشخیص رنگ و جزئیات اجسام را امکان پذیر می کنند. بخشی از شبکه را که در امتداد محور نوری کره چشم قرار دارد، **لکه زرد** می نامند. این بخش در دقت و تیزی اهمیت دارد؛ زیرا گیرنده های مخروطی در آن فراوان ترند.

با برخورد نور به شبکه، ماده حساس به نور، درون گیرنده های نوری تجزیه می شود و واکنش هایی را به راه می اندازد که به ایجاد پیام عصبی منجر می شود. ویتامین A برای ساخت ماده حساس به نور لازم است.

بیشتر بدانید

رنگدانه سیاه ملانین موجود در یاخته های مشیمی و شبکیه، برای جلوگیری از بازتاب نور و دید واضح، لازم است. افراد زال به طور ژنتیکی فاقد رنگدانه اندوپروتوهای نور درون کره چشم این افراد در جهت های گوناگون بازتاب پیدا می کنند. در نتیجه این افراد، دید واضحی ندارند.



شکل ۶- تطابق برای دیدن اجسام
نزدیک (الف)

ب) دور

تطابق: با تغییر همگرایی عدسی چشم، می توان اجسام دور و نزدیک را واضح دید. هنگام دیدن اشیای نزدیک، با انقباض ماهیچه های مزگانی، عدسی ضخیم می شود. وقتی به اشیای دور نگاه می کنیم با استراحت این ماهیچه ها، عدسی باریک تر می شود. به این ترتیب، تصویر در هر حالت روی شبکه تشکیل می شود. این فرایندها **تطابق** نام دارد (شکل ۶).

با استفاده از شکل ۶، تغییرات چشم هنگام تطابق برای دیدن جسم دور و نزدیک را مقایسه کنید.


فعالیت ۲

بیماری های چشم


برای دیدن درست اجسام، قرنیه، عدسی و کره چشم باید شکل ویژه ای داشته باشند، تا پرتوهای نور به طور دقیق روی شبکیه متمرکز شوند.

نزدیک بینی و دور بینی: در افراد نزدیک بین، کره چشم بیش از اندازه بزرگ است و پرتوهای نور

اجسام دور، در جلوی شبکیه متمرکز می‌شوند. در نتیجه فرد، اجسام دور را واضح نمی‌بیند. در فرد دوربین، کره چشم از اندازه طبیعی کوچک‌تر است و پرتوهای نور اجسام نزدیک در پشت شبکیه متمرکز می‌شوند و فرد این اجسام را واضح نمی‌بیند.



الف) چشم نزدیک بین و اصلاح آن



ب) چشم دوربین و اصلاح آن

شکل ۲- اصلاح بیماری‌های چشم

فعالیت ۳

- با استفاده از شکل ۲ بگویید نزدیک‌بینی و دوربینی با استفاده از کدام عدسی اصلاح می‌شوند؟
- در برخی افراد، علت نزدیک‌بینی و دوربینی، تغییر همگرایی عدسی چشم است. با استفاده از آنچه آموختید، بگویید تغییر همگرایی عدسی در چشم، چگونه موجب نزدیک‌بینی و دوربینی می‌شود؟

بیشتر بدانید

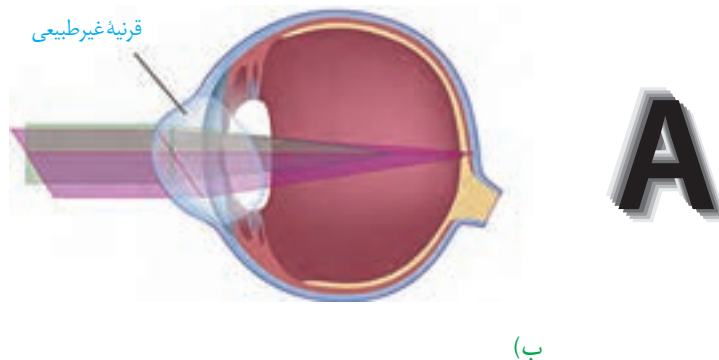
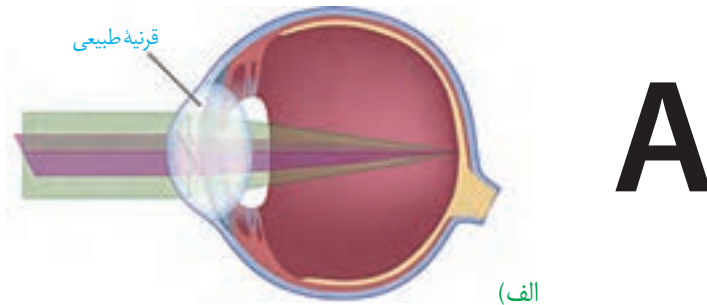
عدسی (لنز) تماسی: امروز استفاده از عدسی تماسی برای اصلاح دید افراد متداول شده است. لایه نازک اشک، فضای بین عدسی تماسی و قرنیه چشم را پر می‌کند و آن را در جای خود محکم نگه می‌دارد. استفاده از عدسی تماسی به‌ویژه وقتی شکل غیرطبیعی قرنیه، عامل اختلال در همگرایی پرتوهای نور است، از عینک کارآمدتر است.

بیشتر بدانید

آب مروارید^۱: گاهی در عدسی چشم افراد مسن رنگدانه‌های قهوه‌ای تجمع می‌یابند و شفافیت آن را کاهش می‌دهند. در این حالت، عدسی کدر شده، آب مروارید به وجود می‌آید. زیاد قرار گرفتن در معرض پرتوهای فرابنفش خورشید نیز، ممکن است به آب مروارید منجر شود.

۱- Cataract

شکل ۸- مقایسه تشکیل تصویر در
الف) چشم طبیعی
ب) چشم آستیگمات و تصویری که
هر کدام می بینند.



بیشتر بدانید

بیماری آب سیاه: مایع زلالیه به طور مرتب تولید می شود و به طور معمول از منافذ کوچک دور عنبیه به خون وارد می شود. اگر به علتی مسیر تخلیه این مایع مسدود شود، فشار مایع داخل چشم افزایش می یابد، بیماری آب سیاه ایجاد می شود. افزایش فشار داخل چشم به تحلیل عصب بینایی و کاهش بینایی منجر می شود.

۱- Glaucoma

فعالیت ۴

تشریح چشم

مواد و وسایل لازم: چشم سالم گاو به همراه ماهیچه های آن، وسایل تشریح، دستکش برای هر گروه



شکل ۱- بالا و پایین چشم



شکل ۲- چشم راست

— برای آماده کردن چشم از دیبر خود راهنمایی بخواهید.

۱- بررسی ویژگی های ظاهری چشم: برای تشخیص بالا و پایین چشم، فاصله عصب بینایی تا قرنیه را در نظر بگیرید. سطحی که در آن فاصله، عصب تا روی قرنیه بیشتر است، بالای چشم و سطح دیگر، پایین آن است (شکل ۱). برای تشخیص چپ یا راست بودن چشم، آن را طوری در دست بگیرید که سطح بالایی آن رو به بالا باشد. قرنیه به شکل تخم مرغ دیده می شود و بخش پهن تر آن به سمت بینی و بخش باریک تر آن به سمت گوش قرار دارد (شکل ۲). راه دیگر بررسی عصب بینایی است. این عصب پس از خروج از چشم به سمت مخالف، خم می شود.

در ادامه، بافت های چربی بین ماهیچه ها و کره چشم را جدا و ماهیچه های آن را مشاهده کنید. برای مشاهده دقیق ماهیچه ها از مولژ چشم استفاده کنید.

۲- تشریح: ماهیچه ها را با قیچی از کره چشم جدا کنید. چشم را روی ظرف تشریح قرار دهید و با چاقوی جراحی، صلبیه را در فاصله یک سانتی متری از قرنیه سوراخ کنید و با قیچی دورتا دور قرنیه را در این فاصله برش دهید. دقت کنید قیچی را خیلی درون کره چشم فرو نبرید تا زجاجیه آسیب نبیند (شکل ۳). پس از برش



شکل ۳- کره چشم برش خورده

می‌توانید سه لایه چشم و بخش‌های تشکیل دهنده آنها و نقطه کور را ببینید. لایه شبکیه بسیار نازک است، دقت کنید هنگام کار جمع نشود. به طرز قرار گرفتن عدسی توجه کنید. در کنار عدسی، اجسام مزگانی، و تارهای آویزی که عدسی را احاطه کرده‌اند، دیده می‌شوند. عدسی را به آرامی خارج کنید. مایع زلالیه و زجاجیه ژله‌ای را مشاهده کنید. در این حالت، زلالیه به طور کامل شفاف نیست؛ زیرا مقداری از دانه‌های سیاه ملانین از بخش‌های دیگر چشم در آن رها شده‌اند (شکل ۳ و ۴).

جسم مزگانی به شکل حلقه‌ای دور محل استقرار عدسی قرار دارد. درون این حلقه، عنبیه قرار دارد که نازک‌تر و شامل ماهیچه‌های صاف حلقوی (تنگ کننده مردمک) و شعاعی (گشادکننده مردمک) است. سوراخ وسط عنبیه همان مردمک است. جسم مزگانی و عنبیه به آسانی جدا می‌شوند و قرنیه شفاف و برآمده دیده می‌شود.

پس از انجام تشریح و با استفاده از مشاهده‌های خود، به این پرسش‌ها پاسخ دهید.

الف) ویژگی‌های هر یک از سه لایه چشم و بخش‌های تشکیل دهنده آنها را بیان کنید.

ب) زجاجیه و زلالیه را با یکدیگر مقایسه کنید.

از فعالیت خود گزارش تهیه کنید و به معلم ارائه دهید.



شکل ۴- بخش‌های درونی چشم

بیشتر بدانید

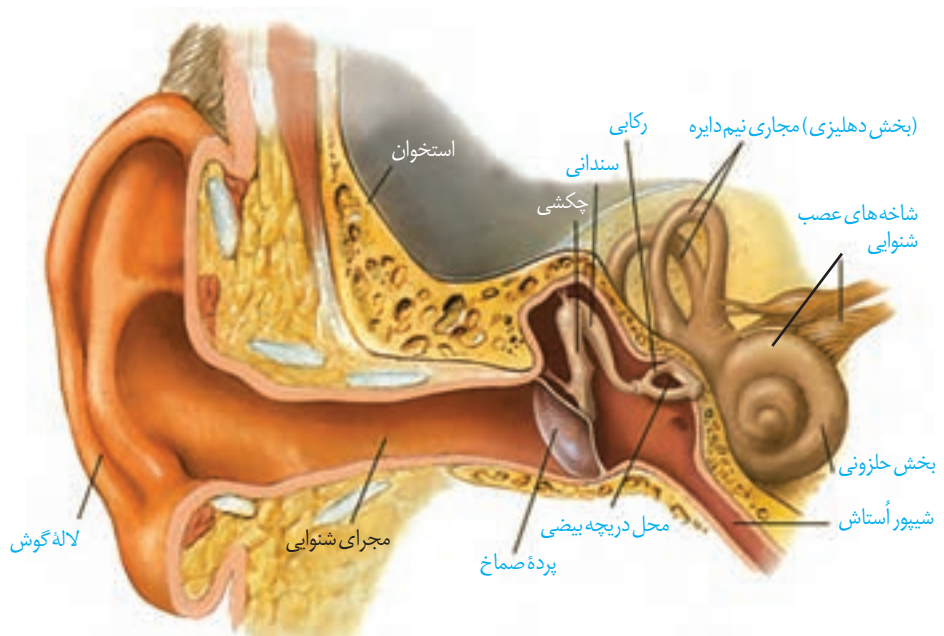
در پشت شبکیه چشم بسیاری از مهره‌داران، لایه‌ای درخشان وجود دارد که پرتوهای نور را باز می‌تاباند تا گیرنده‌ها، نور بیشتری دریافت کنند. این موضوع به دید بهتر جانور در شب کمک می‌کند. همچنین موجب درخشندگی چشم این جانوران در شب می‌شود.



لایه درخشان در چشم گاو

شنوایی و تعادل

گیرنده‌های مکانیکی درون گوش، در شنیدن و حفظ تعادل بدن نقش دارند. این گیرنده‌ها در کدام بخش‌های گوش قرار گرفته‌اند؟ همان‌طور که آموخته‌اید، گوش از سه بخش بیرونی، میانی و درونی تشکیل شده است (شکل ۹).



شکل ۹- بخش های تشکیل دهنده گوش

فعالیت ۵

با استفاده از شکل ۹ به پرسش های زیر پاسخ دهید.

- بین بخش بیرونی و میانی گوش کدام ساختار قرار دارد؟
- استخوان های کوچک در کدام بخش گوش قرار دارند؟
- حلزون گوش در کدام بخش آن قرار دارد؟

ساختار گوش: لاله گوش و مجرای آن بخش بیرونی گوش را تشکیل می دهند. لاله گوش امواج صوتی را جمع آوری و مجرای شنوایی، آنها را به بخش میانی منتقل می کند. موهای کرک مانند درون مجرا و موادی که غده های درون مجرا ترشح می کنند، نقش حفاظتی دارند. انتهای مجرا و بخش های میانی و درونی گوش را استخوان گیجگاهی حفاظت می کند.

بیشتر بدانید

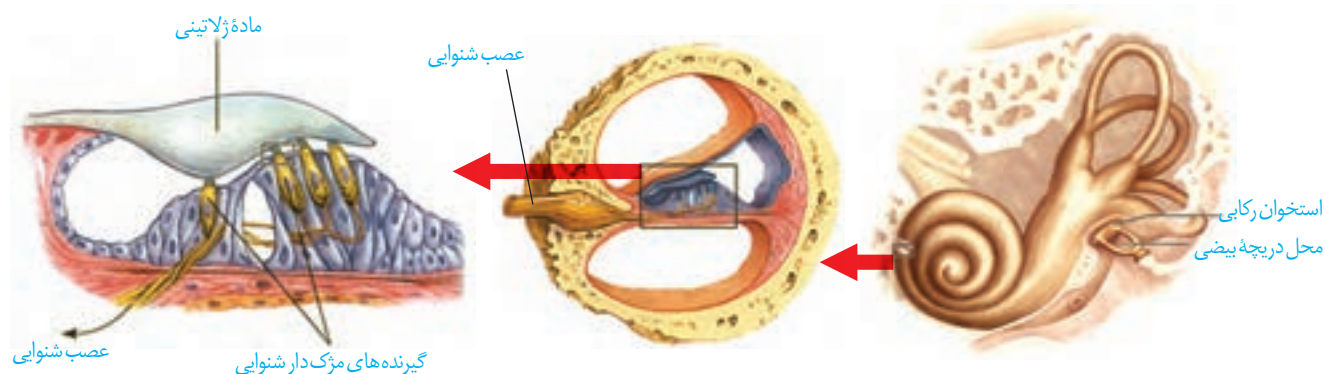
آسیب دیدن حلزون گوش، عصب شنوایی، یا اختلال در ساختارهای هدایت کننده صدا به بخش حلزونی، مانند استخوان های کوچک گوش میانی به ناشنوایی منجر می شود. کاشت حلزون روشی برای بازگرداندن شنوایی است. این دستگاه را با جراحی در زیر پوست پشت گوش قرار می دهند. دستگاه امواج صوتی را جمع آوری کرده، به جریان الکتریکی تبدیل و الکترودهای آن عصب شنوایی را به طور مستقیم تحریک می کنند.

پرده صماخ در انتهای مجرای شنوایی و بین گوش بیرونی و میانی قرار دارد. گوش میانی محفظه استخوانی پر از هواست. درون گوش میانی و پشت پرده صماخ سه استخوان کوچک **چکشی**، **سنهانی** و **رکابی**، به ترتیب قرار دارند و به هم مفصل شده اند. همان طور که در شکل ۹ می بینید، بخشی به نام **شیپور استاش**، حلق را به گوش میانی مرتبط می کند. هوا از این مجرا به گوش میانی منتقل می شود، تا فشار آن در دو طرف پرده صماخ یکسان شود و پرده به درستی بلرزد. گوش درونی از دو **بخش حلزونی و دهلیزی** تشکیل شده است. بخش حلزونی در شنوایی و بخش دهلیزی در تعادل نقش دارد.

تبدیل صدا به پیام عصبی: امواج صوتی پس از عبور از مجرای شنوایی، به پرده صماخ برخورد می کنند و آن را به ارتعاش درمی آورند. دسته استخوان چکشی روی پرده صماخ چسبیده و با ارتعاش

آن می لرزد و استخوان های سندان و رکابی را نیز به ارتعاش درمی آورد. کف استخوان رکابی طوری روی دریچه ای به نام **دریچه بیضی** قرار گرفته است که لرزش آن، دریچه را می لرزاند. این دریچه پرده ای نازک است که در پشت آن، بخش حلزونی گوش قرار دارد. بخش حلزونی را مایعی پر کرده است. لرزش دریچه بیضی، مایع درون حلزون را به لرزش درمی آورد.

همان طور که در شکل ۱۰ می بینید، در بخش حلزونی یاخته های مژک داری قرار دارند که مژک هایشان با پوششی ژلاتینی تماس دارند. این یاخته ها، گیرنده های مکانیکی اند که با لرزش مایع درون بخش حلزونی، مژک های آنها خم می شود. در نتیجه کانال های یونی غشای آنها باز و این یاخته ها تحریک می شوند. در نتیجه بخش شنوایی عصب گوش پیام عصبی ایجاد شده را به مغز می برد (شکل ۱۰).



شکل ۱۰- یاخته های مژک دار حلزون گوش

در باره نقش حفاظتی موها و مواد ترشخی در مجرای شنوایی گوش اطلاعات جمع آوری و به کلاس ارائه کنید.

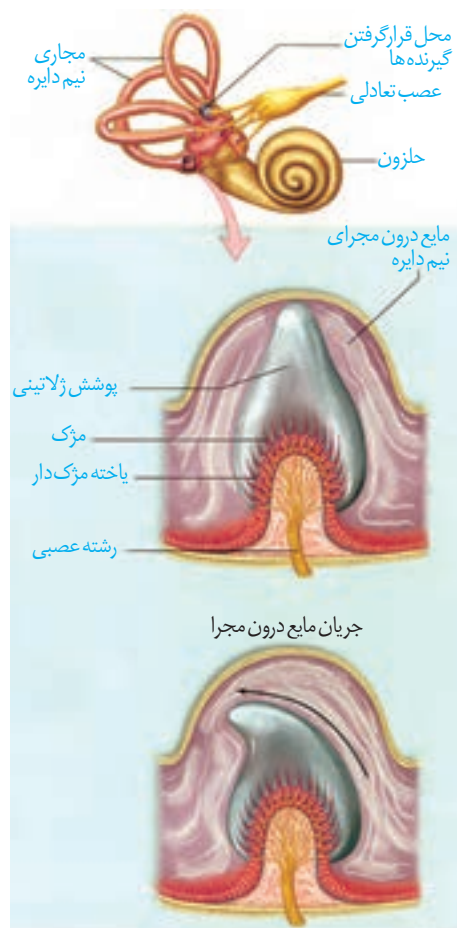
فعالیت ۶

حفظ تعادل

در بخش دهلیزی گوش داخلی سه **مجرای نیم دایره ای** شکل عمود برهم (در سه جهت فضا) وجود دارد که یاخته های مژک دار حس تعادل درون آنها قرار گرفته اند. حرکت سر، این یاخته ها را تحریک می کند. شکل ۱۱ یاخته های گیرنده تعادل در یک مجرای نیم دایره را نشان می دهد. درون مجاری نیم دایره از مایعی پر شده است و مژک های یاخته های گیرنده نیز در ماده ای ژلاتینی قرار دارند. با چرخش سر، مایع درون مجرا به حرکت درمی آید و ماده ژلاتینی را به یک طرف خم می کند. مژک های یاخته های گیرنده، خم و این گیرنده ها تحریک می شوند. آکسون یاخته های عصبی حسی که شاخه دهلیزی (تعادلی) عصب گوش را تشکیل می دهند، پیام را به مغز و به ویژه مخچه می برد و آن را از موقعیت سر آگاه می کنند. برای حفظ تعادل بدن، مغز از گیرنده های دیگر مانند گیرنده های وضعیت نیز پیام دریافت می کند.

بیشتر بدانید

بر اساس اعلام سازمان بهداشت جهانی در سال ۱۳۹۳ (۲۰۱۵ میلادی) ۱/۱ میلیارد نفر نوجوان و جوان در جهان در خطر از دست دادن شنوایی قرار داشته‌اند. استفاده نایمن از وسایل صوتی شخصی و یا قرار گرفتن در مکان‌های تفریحی پر سروصدا این خطر را به وجود آورده است. این سازمان توصیه کرده است برای حفظ شنوایی باید صدای وسایل صوتی شخصی و زمان استفاده از این وسایل را به کمتر از یک ساعت در روز کاهش داد. همچنین هنگام استفاده از این دستگاه‌ها، از نرم‌افزارهایی استفاده کنند که سطح ایمن شنوایی را نشان می‌دهند و معاینه شنوایی را نیز به طور منظم انجام دهند.

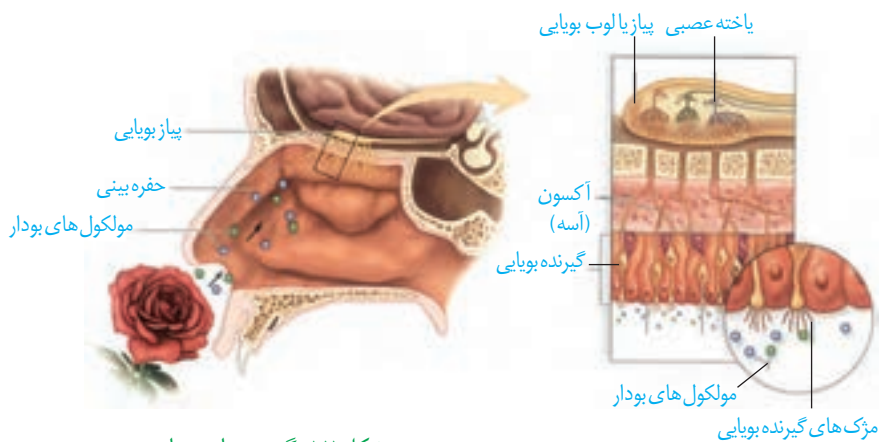


شکل ۱۱- چگونگی تحریک گیرنده‌های تعادلی در مجرای نیم دایره

فعالیت ۷

در باره شغل شنوایی سنجی و بینایی سنجی گزارشی تهیه و به کلاس ارائه کنید.

بویایی

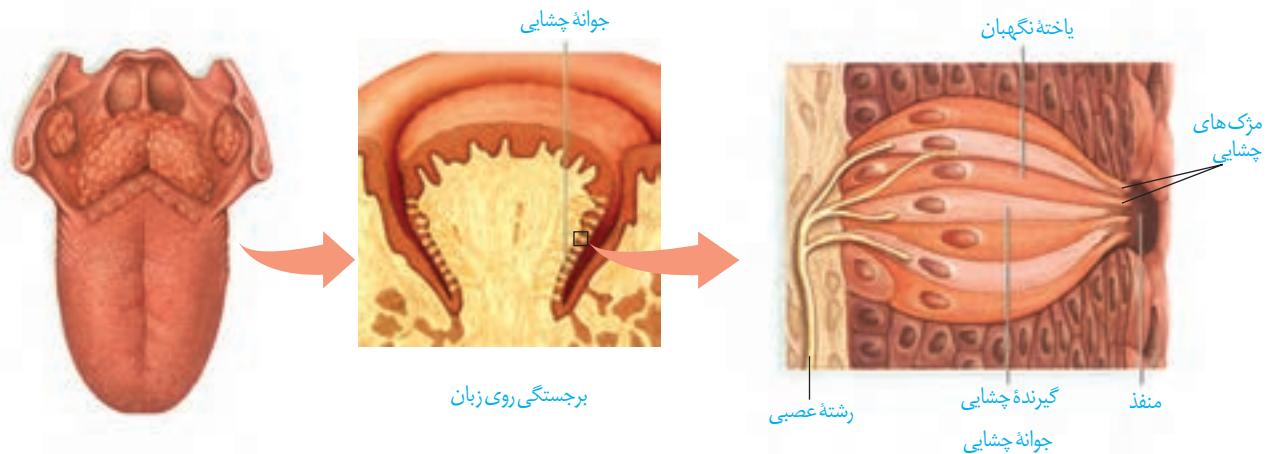


شکل ۱۲- گیرنده‌های بویایی

گیرنده‌های بویایی در سقف حفره بینی قرار دارند. این گیرنده‌ها یاخته‌های عصبی اند که دندریت‌هایشان مژک دار است. مولکول‌های بودارِ هوای تنفسی این یاخته‌ها را تحریک می‌کنند. آسه (آکسون) این یاخته‌ها پیام‌های بویایی را به لوب‌های (پیازهای) بویایی مغز که در تشریح مغز آنها را مشاهده کردید، می‌برند. پیام بویایی سرانجام به قشر مخ ارسال می‌شود (شکل ۱۲).

چشایی

در دهان و برجستگی‌های زبان **جوانه‌های چشایی** و درون این جوانه‌ها **گیرنده‌های چشایی** قرار گرفته‌اند. ذره‌های غذا در بزاق حل می‌شوند و یاخته‌های گیرنده چشایی را تحریک می‌کنند. (شکل ۱۳).

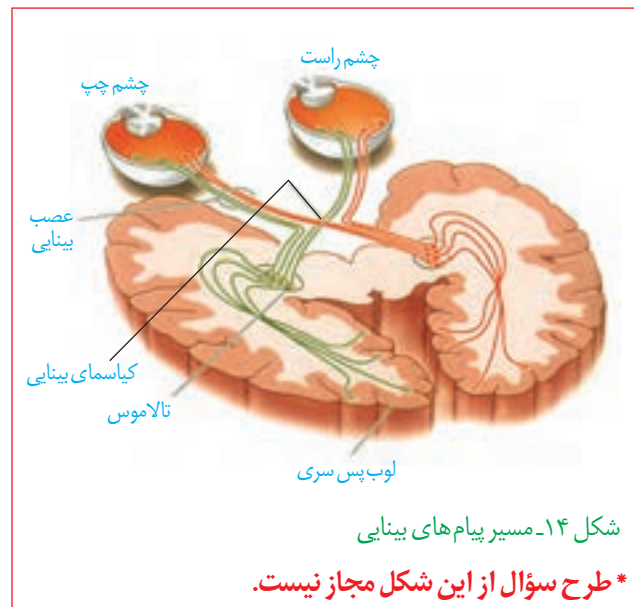


شکل ۱۳- گیرنده‌های چشایی زبان

انسان پنج مزه اصلی شیرینی، شوری، ترشی، و تلخی و مزه اومامی را احساس می‌کند. **اومامی**، کلمه‌ای ژاپنی به معنای لذیذ است که برای توصیف یک مزه مطلوب که با چهار مزه دیگر تفاوت دارد، به کار می‌رود، اومامی مزه غالب غذاهایی است که آمینواسید گلوتمات دارند مانند عصاره گوشت. حس بویایی در درک درست مزه غذا تأثیر دارد؛ مثلاً وقتی سرماخورده و دچار گرفتگی بینی شده‌ایم، مزه غذاها را به درستی تشخیص نمی‌دهیم.

پردازش اطلاعات حسی

با وجود یکسان بودن ماهیت پیام عصبی که از گیرنده‌های گوناگون بدن به دستگاه عصبی مرکزی می‌رسند، مغز چگونه آنها را به شکل‌های متفاوتی مانند صدا، تصویر، یا مزه تفسیر می‌کند؟ پیام‌هایی که هر نوع از گیرنده‌های حسی ارسال می‌کنند، به بخش یا بخش‌های ویژه‌ای از دستگاه عصبی مرکزی و قشر مخ وارد می‌شوند. شکل ۱۴ مسیر ارسال پیام‌های بینایی را نشان می‌دهد. پیام‌های بینایی قبل از رسیدن به قشر مخ از بخش‌های دیگری از مغز مانند نهنج (تالاموس) می‌گذرند. **چلیپای (کیاسمای) بینایی** که در فعالیت تشریح مغز آن را مشاهده کردید، محلی است که بخشی از آکسون‌های عصب بینایی یک چشم به نیم کره مخ مقابل می‌روند. پیام‌های بینایی سرانجام به **لوب‌های پس سری قشر مخ** وارد و در آنجا پردازش می‌شوند.



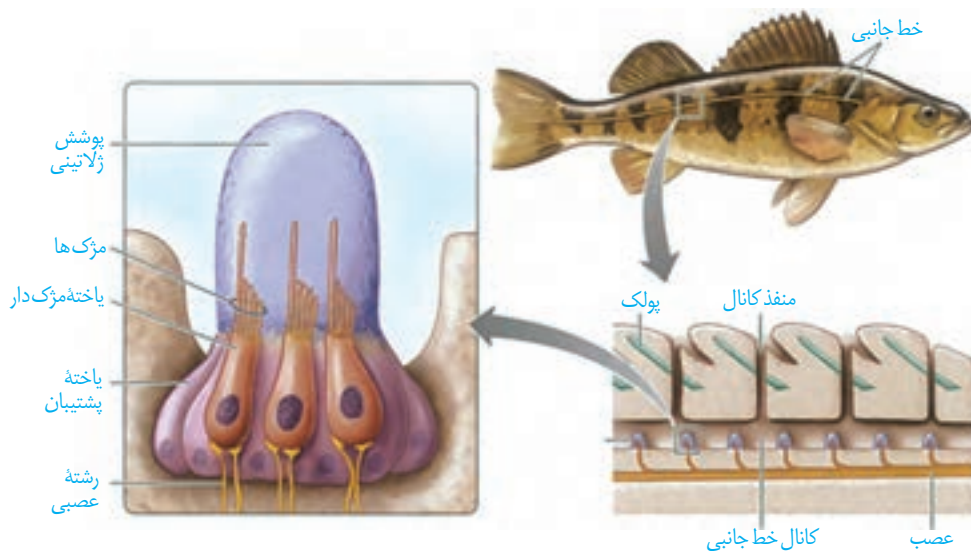
شکل ۱۴- مسیر پیام‌های بینایی

* طرح سؤال از این شکل مجاز نیست.

گیرنده‌های حسی انسان می‌توانند محرک‌های گوناگون محیط را دریافت کنند. اما محرک‌هایی مانند پرتوهای فرابنفش نیز وجود دارد که انسان به کمک دستگاه‌های ویژه‌ای می‌تواند آنها را دریافت کند؛ در حالی که برخی جانوران گیرنده‌های دریافت‌کننده آنها را دارند. در ادامه به برخی گیرنده‌های حسی در جانوران می‌پردازیم.

گیرنده‌های مکانیکی خط جانبی: در دو سوی بدن ماهی‌ها ساختاری به نام خط جانبی وجود دارد. این ساختار، کانالی در زیر پوست جانور است که از راه سوراخ‌هایی با محیط بیرون ارتباط دارد. درون کانال، یاخته‌های مژک‌داری قرار دارند که به ارتعاش آب حساس‌اند. مژک‌های این

یاخته‌ها در ماده‌ای ژلاتینی قرار دارند. جریان آب در کانال، ماده ژلاتینی را به حرکت در می‌آورد. حرکت ماده ژلاتینی، یاخته‌های گیرنده را تحریک می‌کند و ماهی به کمک خط جانبی از وجود اجسام و جانوران دیگر (شکار و شکارچی) در پیرامون خود آگاه می‌شود (شکل ۱۵).



شکل ۱۵- ساختار خط جانبی در ماهی



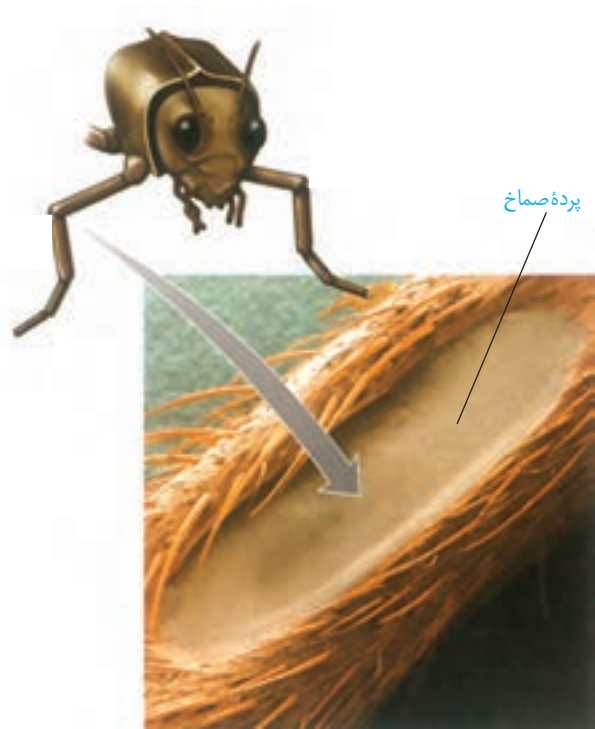
گیرنده‌های شیمیایی در پا:

در مگس، گیرنده‌های شیمیایی در موهای حسی روی پاهای آن قرار دارند. مگس‌ها به کمک این گیرنده‌ها انواع مولکول‌ها را تشخیص می‌دهند (شکل ۱۶).

شکل ۱۶- گیرنده شیمیایی در مگس

گیرنده مکانیکی صدا در پا: روی پای های جلویی جیرجیرک

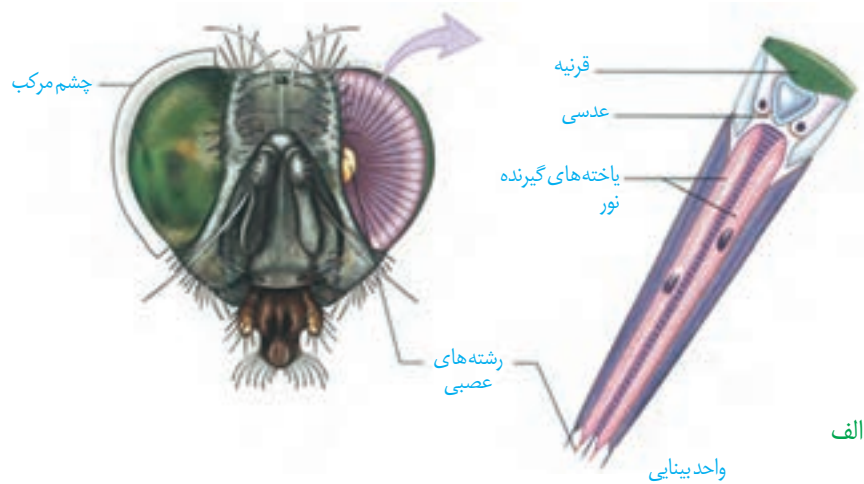
یک محفظه هوا وجود دارد که پرده صماخ روی آن کشیده شده است. لرزش پرده در اثر امواج صوتی، گیرنده های مکانیکی متصل به پرده را تحریک کرده و جانور صدا را دریافت می کند (شکل ۱۷).



شکل ۱۷- گیرنده امواج صوتی در جیرجیرک

گیرنده های نوری چشم مرکب: چشم مرکب که در حشرات

دیده می شود، از تعداد زیادی واحد بینایی تشکیل شده است. هر واحد بینایی، یک قرنیه، یک عدسی و تعدادی گیرنده نوری دارد. هر یک از این واحدها تصویر کوچکی از بخشی از میدان بینایی را ایجاد می کنند. دستگاه عصبی جانور، این اطلاعات را یکپارچه و تصویری موزاییکی ایجاد می کند (شکل ۱۸). گیرنده های نوری برخی حشرات مانند زنبور، پرتوهای فرابنفش را نیز دریافت می کنند.



الف

بیشتر بدانید

بیشتر حشرات سه چشم ساده بر روی سر خود دارند. شواهد نشان می دهند، زنبور عسل از چشم ساده خود برای تشخیص شدت نور و طول روز استفاده می کند؛ اما این چشم، تصویری ایجاد نمی کند.



چشم های ساده
چشم های مرکب

تصویر چشم های زنبور با میکروسکوپ الکترونی



ب

شکل ۱۸- الف) چشم مرکب حشرات و ب) تصویر موزاییکی در مقایسه با تصویری که چشم انسان می بیند.

بیشتر بدانید

گیرنده‌های مغناطیسی:

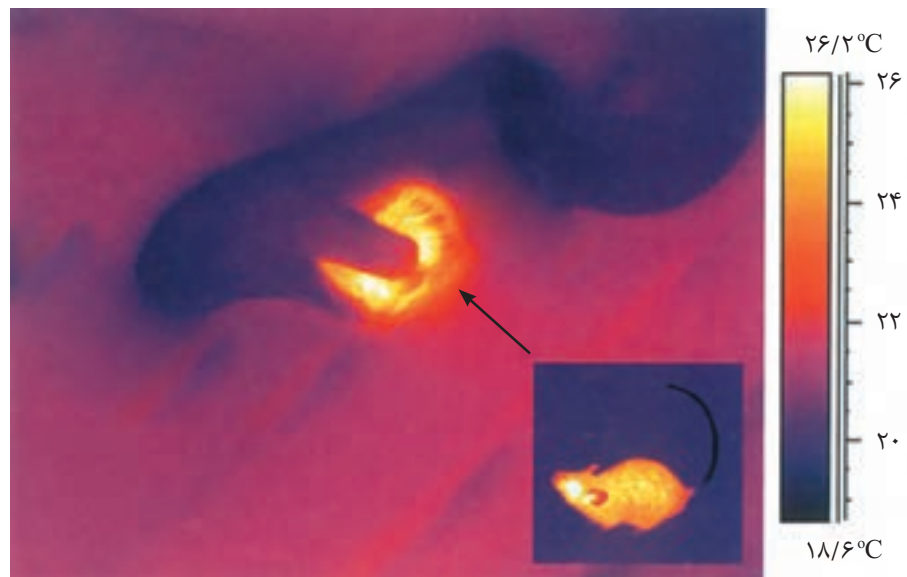
جانورانی مانند لاک‌پشت‌های دریایی که هنگام مهاجرت مسافت‌های طولانی را می‌پیمایند، گیرنده‌های مغناطیسی دارند که به کمک آنها جهت و موقعیت خود را به درستی تشخیص می‌دهند؛ زیرا الگوی میدان مغناطیسی زمین، در نواحی مختلف کره زمین متفاوت و تقریباً در طول زمان ثابت است و با تغییر آب و هوا و شب و روز تغییر نمی‌کند.

شکل ۱۹- الف) محل گیرنده فروسرخ در مار زنگی

گیرنده فروسرخ مار زنگی: برخی مارها می‌توانند پرتوهای فروسرخ را تشخیص دهند. همان طور که در شکل ۱۹ می‌بینید، در جلو و زیر هر چشم مار زنگی سوراخی است که گیرنده‌های پرتوهای فروسرخ در آن قرار دارند. به کمک این گیرنده‌ها، مار پرتوهای فروسرخ تابیده از بدن شکار را دریافت و محل آن را در تاریکی تشخیص می‌دهد.



ب) تصویر مار در حال شکار که با دوربین حساس به پرتوهای فروسرخ گرفته شده است.

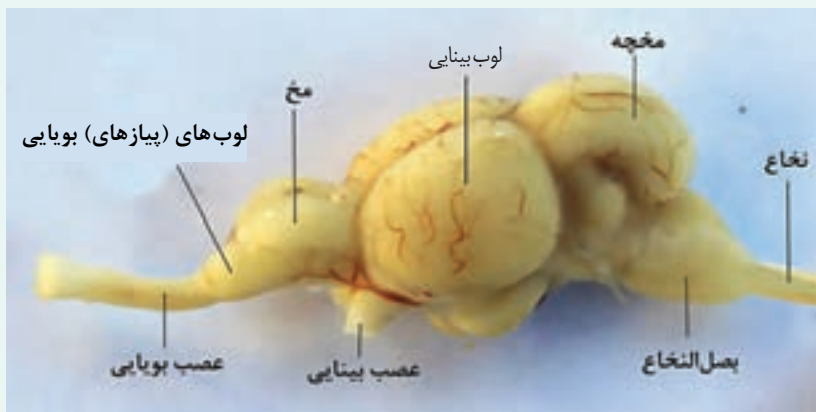


بیشتر بدانید

گیرنده‌های الکتریکی:

بسیاری از کوسه‌ها و برخی از پستانداران مانند پلاتی پوس (نوک اردکی)، گیرنده‌هایی دارند که میدان‌های الکتریکی را تشخیص می‌دهند. این جانوران از گیرنده‌های الکتریکی برای یافتن شکار و جهت‌یابی استفاده می‌کنند. برخی از ماهی‌ها برای ایجاد ارتباط با هموعان این گیرنده‌ها را به کار می‌برند.

۱- طرح زیر مغز ماهی را نشان می دهد.



لوب های (پیازهای) بویایی ماهی نسبت به کل مغز جانور از لوب های بویایی انسان بزرگ تر است.

این مطلب چه واقعیتی را درباره حس بویایی ماهی نشان می دهد؟

۲- ساختار و عملکرد چشم مرکب و چشم انسان را مقایسه کنید.

۳- خط جانبی در ماهی ها با کدام ساختارها در انسان شباهت دارد؟



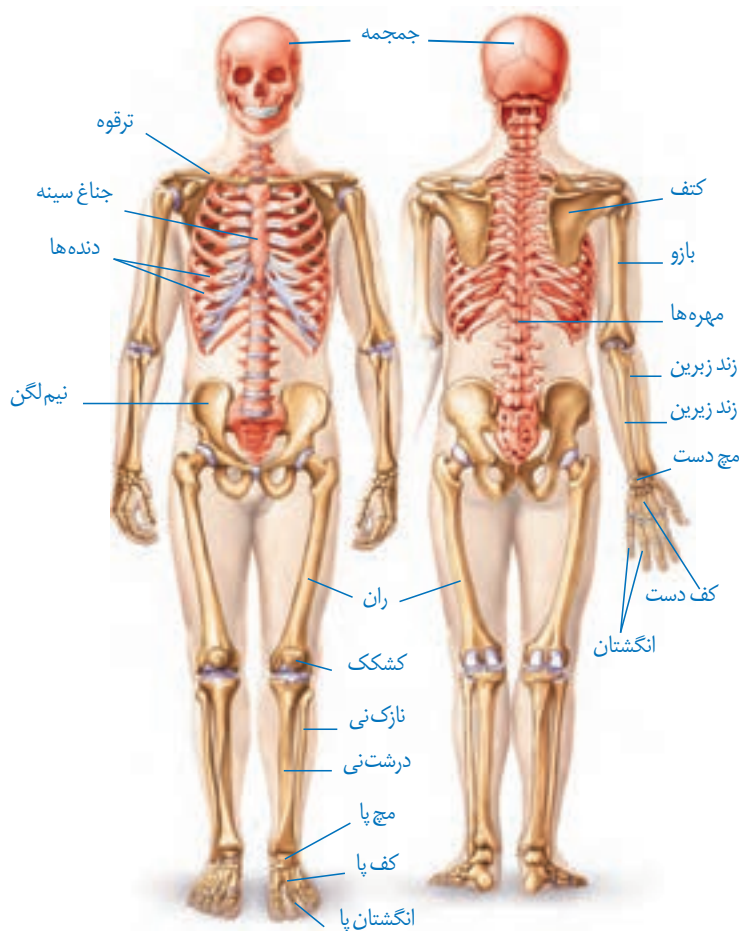
فصل ۳

دستگاه حرکتی

استفاده ما از دست و پا به قدری است که تصور زندگی بدون آنها برایمان بسیار سخت است. خوشبختانه امروزه افراد دارای نقص عضو نیز می‌توانند با استفاده از اعضای مصنوعی تاحدودی بر محدودیت‌های حرکتی چیره شوند. مطالعات دقیق ساختار ماهیچه‌ها، مفاصل و استخوان‌ها، به همراه پیشرفت در علوم مربوط به مواد و الکترونیک، مهندسان را قادر ساخته تا اندام‌های پیچیده را جایگزین بخش‌های آسیب‌دیده یا ناقص کنند. کارآمدی بعضی از اندام‌های مصنوعی آن قدر بالاست که در پارالمپیک برای جلوگیری از رقابت نابرابر، قوانین سختگیرانه‌ای برای استفاده از این اندام‌ها وضع شده است.

اندام‌های حرکتی از چه بخش‌هایی تشکیل شده‌اند؟ نحوه عملکرد این بخش‌ها چگونه است؟ چه آسیب‌های احتمالی اندام‌های حرکتی را تهدید می‌کند؟ به چه روش‌هایی می‌توان این اجزا را از آسیب حفظ کرد؟

استخوان‌ها بخشی از اسکلت انسان را تشکیل می‌دهند. اسکلت انسان شامل دو بخش **محوری** و **جانبی** است. بخش محوری همان طور که از نامش مشخص است، محور بدن را تشکیل می‌دهد و از ساختارهایی مانند مغز و قلب حفاظت می‌کنند. گرچه بخش‌هایی از آن هم در جویدن، شنیدن، صحبت کردن و حرکات بدن نیز نقش دارند. استخوان‌های دست و پا از اجزای اسکلت جانبی‌اند. این استخوان‌ها نسبت به اسکلت محوری، نقش بیشتری در حرکت بدن دارند. بخش‌های مختلف اسکلت در شکل ۱ دیده می‌شود.



شکل ۱- اسکلت انسان

اعمال استخوان‌ها

استخوان‌ها علاوه بر حفاظت و پشتیبانی اندام‌ها، اعمال دیگری هم انجام می‌دهند. مثلاً استخوان‌های کوچک گوش در شنیدن دقیق مؤثرند. همچنین استخوان‌ها به کمک ماهیچه‌ها موجب حرکت بدن می‌شوند. سایر اعمال استخوان‌ها در جدول زیر خلاصه شده است.

جدول ۱-وظایف اسکلت استخوانی در انسان



استخوان جمجمه



استخوان مهره



استخوان‌های مچ دست



استخوان ران

شکل ۲-انواع استخوان (از بالا به پایین): پهن، نامنظم، کوتاه، دراز (در تصاویر مقیاس رعایت نشده است.)

وظیفه	توضیح
پشتیبانی	استخوان‌ها شکل بدن را تعیین و نیز چارچوبی را ایجاد می‌کنند تا اندام‌ها بر روی آنها مستقر شوند.
حرکت	اتصال ماهیچه‌های اسکلتی به استخوان‌ها و انقباض آنها باعث انتقال نیروی ماهیچه به استخوان و حرکت آن می‌شود.
حفاظت اندام‌های درونی	اسکلت استخوانی، بخش‌های حساسی، مانند نخاع، قلب، مغز و شش‌ها را حفاظت می‌کند.
تولید یاخته‌های خونی	بسیاری از استخوان‌ها مغز قرمز دارند. این بافت یاخته‌های خونی را تولید می‌کند.
ذخیره مواد معدنی	استخوان‌ها محل ذخیره مواد معدنی، مانند فسفات و کلسیم‌اند.
کمک به شنیدن، تکلم و اعمال دیگر	استخوان‌های کوچک گوش در شنیدن و استخوان‌های آرواره در تکلم و جویدن نقش دارند.

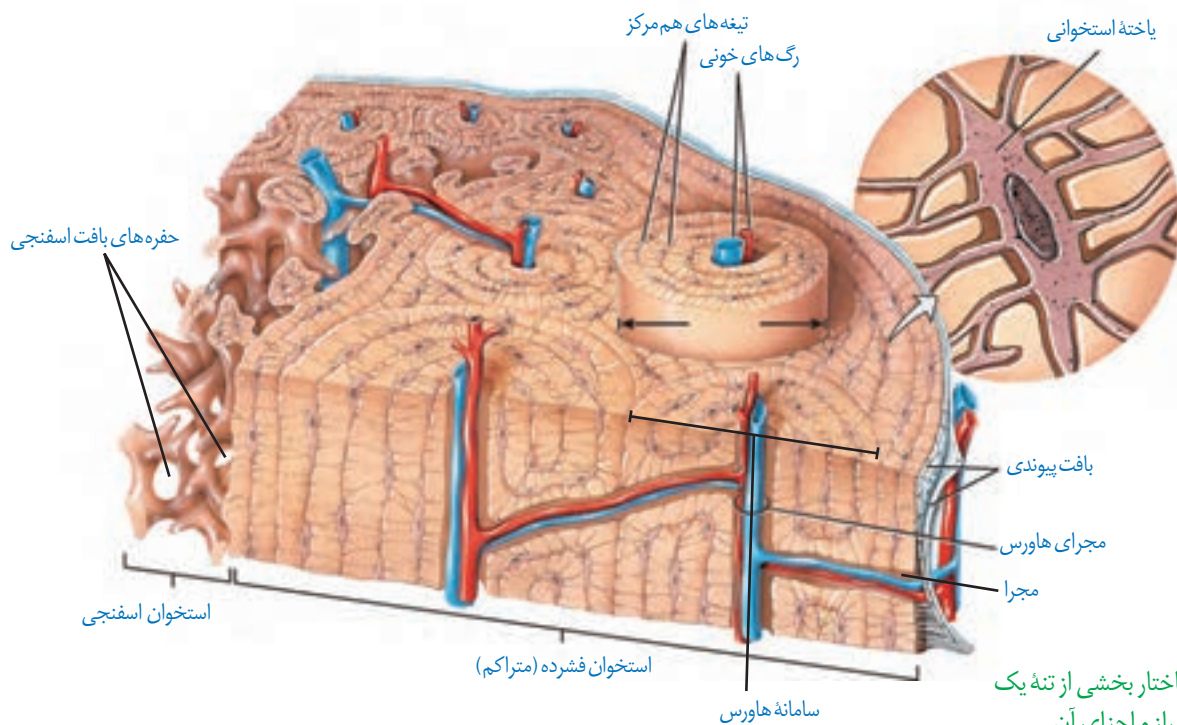
انواع استخوان

استخوان‌ها اشکال مختلفی دارند. استخوان ران و بازو از انواع استخوان‌های **درازند**، در حالی که استخوان‌های مچ از انواع استخوان‌های **کوتاه‌اند**. استخوان جمجمه از استخوان‌های **پهن** هستند. استخوان‌های ستون مهره از نوع استخوان‌های **نامنظم‌اند** (شکل ۲). استخوان‌های بدن اندازه‌های متفاوتی دارند، از استخوان‌های کوچک گوش میانی تا استخوان بزرگ لگن.

ساختار استخوان: هر استخوان از دو نوع بافت استخوانی **فشرده** و **اسفنجی** تشکیل شده است. میزان و محل قرارگیری هر نوع بافت استخوانی در استخوان‌های مختلف متفاوت است. مثلاً بافت استخوانی فشرده در طول استخوان ران، به صورت واحدهایی به نام **سامانه هاورس** قرار گرفته است (شکل ۳). این سامانه‌ها به صورت استوانه‌هایی هم‌مرکز تیغه‌های استخوانی‌اند که از سلول‌های استخوانی و ماده زمینه‌ای اطراف آنها تشکیل شده است. ماده زمینه‌ای از پروتئین‌هایی مانند کلاژن و مواد معدنی تشکیل شده است. اعصاب و رگ‌های درون مجرای مرکزی هر سامانه، ارتباط بافت زنده را با بیرون برقرار می‌کنند. سطح درونی تنه این استخوان نیز بافت اسفنجی دارد. سطح خارجی این استخوان، توسط بافت پیوندی احاطه شده است و رگ‌ها و اعصاب از راه مجراهایی به بیرون ارتباط دارند.

انتهای برآمده استخوان ران توسط بافت اسفنجی پر شده است. در بافت استخوانی اسفنجی، تیغه‌های استخوانی به صورت نامنظم قرار گرفته‌اند. بین تیغه‌ها، حفره‌هایی وجود دارد که توسط رگ‌ها و مغز قرمز استخوان پر شده‌اند. مغز استخوان، بخش نرمی است که درون استخوان را پر می‌کند. فضای درون استخوان اسفنجی می‌تواند با مغز قرمز پر شود که محل تشکیل یاخته‌های خونی است.

بیشتر مغز زرد نیز از چربی تشکیل شده است و مجرای مرکزی استخوان‌های دراز را پر می‌کند. در کم‌خونی‌های شدید، مغز زرد می‌تواند به مغز قرمز تبدیل شود.



شکل ۳- ساختار بخشی از تنه یک استخوان دراز و اجزای آن

سال گذشته با ساختار بافت پیوندی و اجزای آن آشنا شدید. الف) با توجه به اطلاعات قبلی هر بافت پیوندی از چه بخش‌هایی تشکیل شده است؟ ب) مادهٔ زمینه‌ای استخوان توسط چه بخشی ساخته می‌شود؟

فعالیت ۱

تشکیل و تخریب استخوان

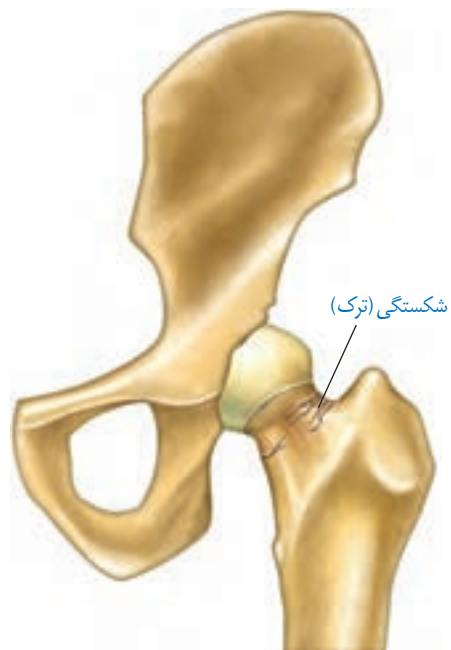
در دوران جنینی، استخوان‌ها از بافت‌های نرمی تشکیل و به تدریج با افزودن شدن نمک‌های کلسیم سخت می‌شوند. یاخته‌های استخوانی تا اواخر سن رشد، مادهٔ زمینه‌ای ترشح می‌کنند و بنابراین، تودهٔ استخوانی و تراکم آن افزایش پیدا می‌کند. با افزایش سن، یاخته‌های استخوانی کم‌کار می‌شوند و تودهٔ استخوانی به تدریج کاهش پیدا می‌کند. در همهٔ این مراحل، تغییرات استخوانی در حال انجام است. استخوان‌ها در اثر فعالیت بدنی مانند ورزش، یا با افزایش وزن ضخیم، متراکم‌تر و محکم‌تر می‌شوند و استخوان‌هایی که کمتر مورد استفاده قرار می‌گیرند ظریف‌تر می‌شوند. مشابه این حالت، در فضاوردان دیده می‌شود که در محیط بی‌وزنی تراکم استخوانشان کاهش می‌یابد. استخوان‌های بدن به طور پیوسته دچار شکستگی‌های میکروسکوپی می‌شوند که نتیجه حرکات معمول بدن‌اند. شکستگی‌های دیگر می‌توانند ناشی از ضربه یا برخورد باشند (شکل ۴).

در این حالت، یاخته‌های نزدیک محل شکستگی، یاخته‌های جدید استخوانی می‌سازند و پس از چند هفته آسیب بهبود پیدا می‌کنند.



(ب)

شکل ۴- شکستگی ناشی از صدمه در سر استخوان ران (الف) و تصویر رادیوگرافی از استخوان شکسته ران (ب)



(الف)

تراکم توده استخوانی از عوامل مهم استحکام استخوان‌هاست و کاهش آن باعث پوکی استخوان می‌شود. در پوکی استخوان، تخریب استخوانی افزایش می‌یابد. در نتیجه استخوان‌ها ضعیف و شکننده می‌شوند (شکل ۵). کمبود ویتامین D و کلسیم غذا، مصرف نوشیدنی‌های الکلی و دخانیات با جلوگیری از رسوب کلسیم در استخوان‌ها، باعث بروز پوکی استخوان در مردان و زنان می‌شوند. اختلال در ترشح بعضی هورمون‌ها و مصرف نوشابه‌های گازدار نیز در کاهش تراکم استخوان نقش دارند.



استخوان مبتلا به پوکی



استخوان طبیعی

شکل ۵- مقایسه استخوان طبیعی با استخوان دچار پوکی

فعالیت ۲

به طور کلی تراکم توده استخوانی در زنان و مردان با هم تفاوت دارد. جدول زیر تراکم استخوانی زنان و مردان را در سنین مختلف نشان می‌دهد.

میانگین تراکم استخوان		
مرد	زن	سن
۰/۹۷۹	۰/۸۹۵	۲۰
۰/۹۳۶	۰/۸۸۶	۳۰
۰/۸۹۴	۰/۸۵۰	۴۰
۰/۸۵۱	۰/۷۹۷	۵۰
۰/۸۰۹	۰/۷۳۳	۶۰
۰/۷۶۶	۰/۶۶۷	۷۰
۰/۷۲۴	۰/۶۰۷	۸۰

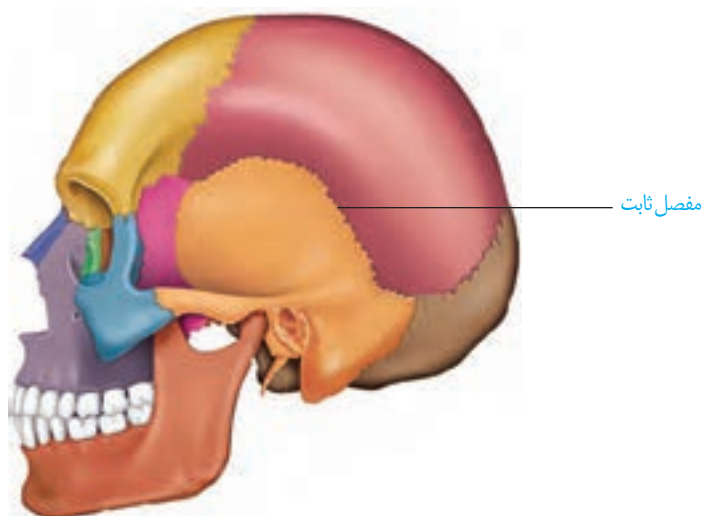
۱- منحنی تغییر تراکم توده استخوانی را در دو جنس رسم کنید.

۲- در کدام جنس تراکم استخوان بالاتر است؟

۳- بین سنین ۲۰ تا ۵۰ سالگی شدت تغییرات تراکم استخوان در مردان بیشتر است یا زنان؟

مفصل

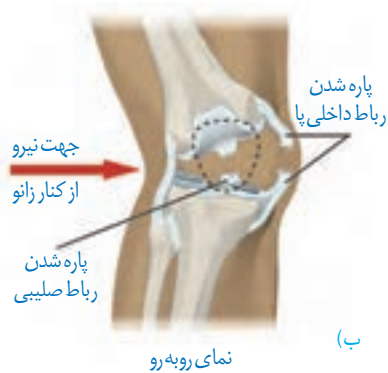
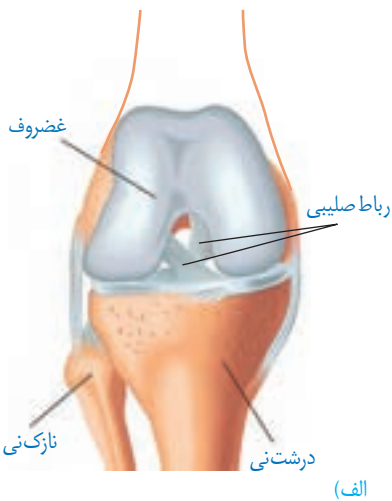
مفصل محل اتصال استخوان‌ها با هم است. در بعضی مفصل‌ها، استخوان‌ها حرکت نمی‌کنند. نمونه آن مفصل ثابت در استخوان‌های جمجمه است. جمجمه از چندین استخوان تشکیل شده است که در محل مفصل‌های ثابت لبه‌های دنداندار آنها در هم فرو رفته و محکم شده‌اند. (شکل ۶)



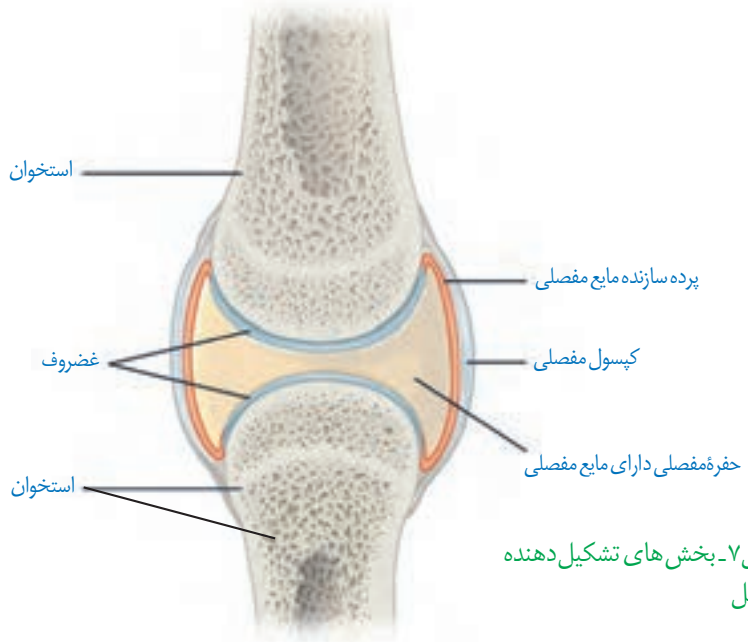
شکل ۶- مفصل ثابت در استخوان‌های جمجمه

بیشتر بدانید

پارگی رباط صلیبی یکی از موارد شایع آسیب‌دیدگی در ورزشکاران است. این رباط که به دلیل شکل ظاهر آن به این نام خوانده می‌شود سبب نگره‌داشتن استخوان ران در مقابل استخوان درشت‌نی می‌شود. پارگی این رباط می‌تواند بدون بروز مشکل، بیمار سال‌ها با آن زندگی کند و حتی از وجود آن اطلاع نداشته باشد. تغییر ناگهانی وضعیت تنه روی زانو، ایستادن ناگهانی در حین دویدن، جهیدن و افتادن دوباره به زمین در وضعیت نامناسب و ضربات ناگهانی و شدید از جوانب زانو می‌توانند عامل ایجاد آسیب در این رباط باشد. شکل رباط صلیبی زانو (شکل الف) و نحوه آسیب دیدن آن (شکل ب).



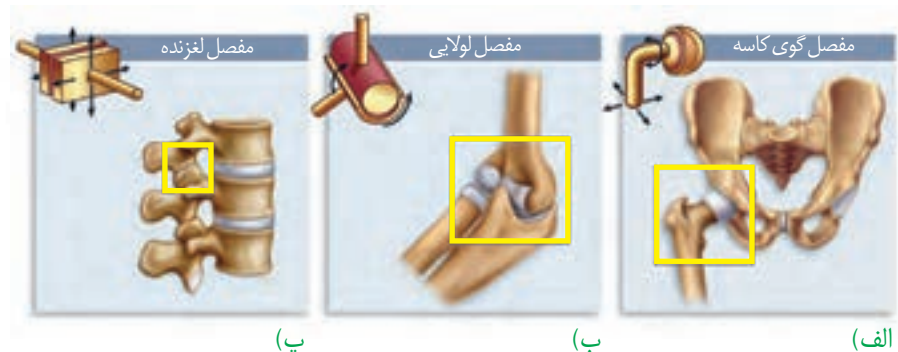
در بیشتر مفاصل‌ها، استخوان‌ها قابلیت حرکت دارند. سر استخوان‌ها در محل این مفاصل‌ها توسط بافت غضروفی پوشیده شده‌است. نمونه آن مفاصل‌های زانو، انگشتان و لگن است. استخوان‌ها در محل این نوع از مفاصل‌ها توسط یک کپسول از جنس بافت پیوندی رشته‌ای احاطه شده‌اند که پر از مایع مفصلی لغزنده است. مایع مفصلی و سطح صیقلی غضروف به استخوان‌ها امکان می‌دهد که سالیان زیادی در مجاور هم لیز بخورند و اصطکاک چندانی نداشته باشند (شکل ۷).



شکل ۷- بخش‌های تشکیل دهنده مفصل

علاوه بر کپسول مفصلی، رباط‌ها و زردپی‌ها هم به کنار یکدیگر ماندن استخوان‌ها کمک می‌کنند. رباط، بافت پیوندی رشته‌ای محکمی است که استخوان‌ها را به هم متصل می‌کند. بعضی از انواع مفاصل‌های متحرک را در شکل ۸ مشاهده می‌کنید. با توجه به شکل نحوه حرکت هر نوع مفصل را مقایسه کنید.

بخش صیقلی غضروف‌ها در اثر کارکرد زیاد، ضربات، آسیب‌ها و بعضی بیماری‌ها تخریب می‌شود، ولی بدن دوباره آن را ترمیم می‌کند. اگر سرعت تخریب بیش از ترمیم باشد، می‌تواند باعث بیماری‌های مفصلی شود.



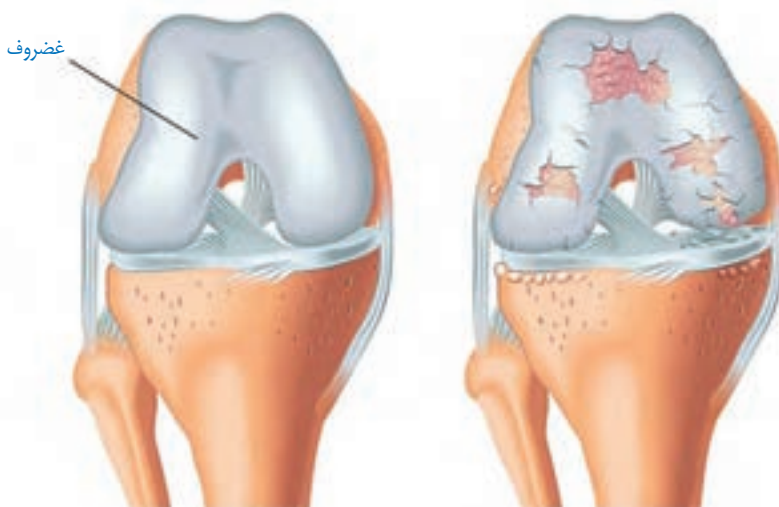
شکل ۸- انواعی از مفصل متحرک. الف) گوی-کاسه ای ب) لولایی پ) لغزنده.

با استفاده از مولاژهای موجود و نمونه‌های آماده میکروسکوپی آزمایشگاه مدرسه، انواع استخوان و بافت‌های استخوانی را مشاهده و با هم مقایسه کنید.

بیشتر بدانید

روماتیسم مفصلی

روماتیسم مفصلی بیماری است که در آن پرده‌سازنده مایع مفصلی در زیر کپسول مفصلی، دچار التهاب می‌شود. با افزایش التهاب این پرده، ترشح مایع مفصلی هم افزایش می‌یابد که موجب تورم و التهاب در محل آسیب می‌شود. با پیشرفت بیماری، غضروف‌ها آسیب می‌بینند. التهاب مفصل معمولاً در اندام‌های دوطرف بدن به صورت متقارن بروز می‌کند. تداوم این بیماری ممکن است باعث ساییدگی استخوان در محل آسیب شود. گرچه علت دقیق بروز این بیماری کاملاً شناخته شده نیست، ولی عوامل ارثی، جنسیت، محیط و بعضی بیماری‌های میکروبی در بروز این بیماری مؤثرند. این بیماری در زنان شایع‌تر از مردان است که احتمالاً به دلیل اثر هورمون‌های جنسی زنانه است. اثر مصرف دخانیات و آلودگی هوا نیز در بروز این بیماری، اثبات شده است. به دلیل دخالت عوامل متعدد در بروز این بیماری، هنوز درمان قطعی برای آن وجود ندارد. استفاده از داروهای کاهنده التهاب مانند مشتقات هورمون کورتیزول از پیشرفت بیماری می‌کاهد و علائم آن را تا حدی کاهش می‌دهد. در موارد شدید بیماری، ممکن است مفصل آسیب‌دیده با مفصل مصنوعی جایگزین شود.



بدن انسان بیش از ۶۰۰ ماهیه‌چه اسکلتی دارد که با انقباض خود بسیاری از حرکات بدن را ایجاد می‌کنند. با این ماهیه‌چه‌ها در سال‌های قبل آشنا شدید. شکل ۹ بعضی از این ماهیه‌چه‌ها را در بدن انسان نشان می‌دهد.

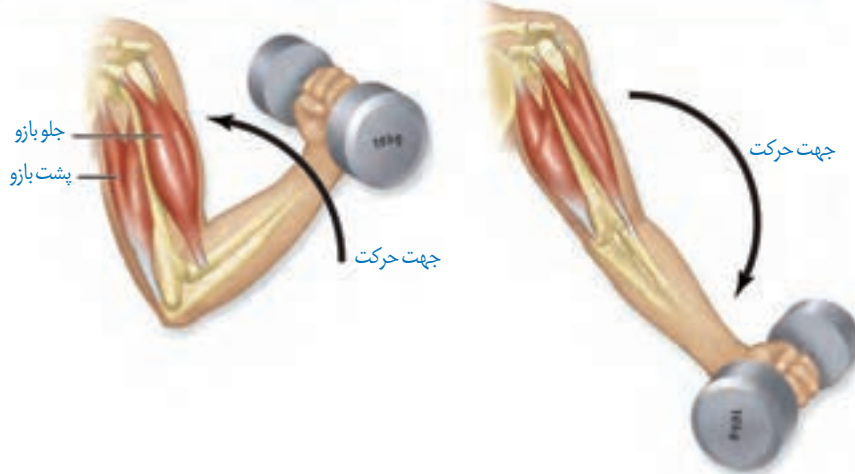


شکل ۹- ماهیه‌چه‌های اسکلتی بدن انسان

بسیاری از ماهیه‌چه‌ها به صورت جفت باعث حرکات اندام‌ها می‌شوند؛ زیرا ماهیه‌چه‌ها فقط قابلیت انقباض دارند. انقباض هر ماهیه‌چه فقط می‌تواند استخوانی را در جهتی خاص بکشد، ولی آن ماهیه‌چه نمی‌تواند استخوان را به حالت قبل برگرداند، این وظیفه بر عهده ماهیه‌چه متقابل آن است. برای مثال، ماهیه‌چه روی بازو می‌تواند ساعد را به سمت جلو یا بالا بیاورد، ولی نمی‌تواند آن را به حالت قبل برگرداند و این حرکت توسط ماهیه‌چه پشت بازو انجام می‌شود. بنابراین، هنگامی که یکی از جفت ماهیه‌چه‌های متقابل در حالت انقباض است، ماهیه‌چه دیگر در حال استراحت است (شکل ۱۰). همه ماهیه‌چه‌های اسکلتی باعث حرکت استخوان نمی‌شوند. شما چه ماهیه‌چه‌های اسکلتی را می‌شناسید که به استخوان متصل نیستند؟

ماهیچه جلوی بازو در حال انقباض و ماهیچه پشت بازو در حال استراحت

ماهیچه پشت بازو در حال انقباض و ماهیچه جلوی بازو در حال استراحت



شکل ۱۰ - عملکرد ماهیچه‌های متقابل

گرچه ماهیچه‌های اسکلتی تحت کنترل ارادی، هستند، ولی بعضی از این ماهیچه‌ها به صورت غیر ارادی هم منقبض می‌شوند. انقباض ماهیچه‌ها در اثر انعکاس نمونه‌ای از این انقباض‌هاست که با آنها در گذشته آشنا شدید. ماهیچه‌ها همچنین با انقباض خود در حفظ شکل و حالت بدن و ایجاد حرارت مؤثرند (جدول ۲).

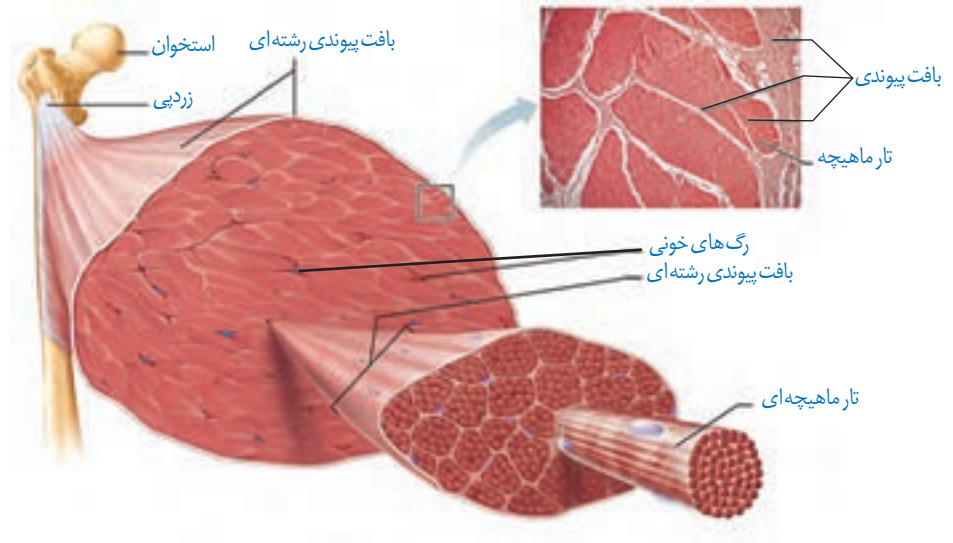
جدول ۲ - اعمال ماهیچه‌های اسکلتی

توضیح	وظیفه
ماهیچه‌ها با اتصال به استخوان‌ها باعث ایجاد حرکت ارادی می‌شوند.	حرکات ارادی
ماهیچه‌های اسکلتی نوعی کنترل ارادی برای دهان، مخرج و پلک‌ها ایجاد می‌کنند.	کنترل دریچه‌های بدن
ماهیچه‌ها با اتصال به استخوان‌ها و انقباض خود باعث اتصال استخوان‌ها به هم و نگهداری بدن به صورت قائم می‌شوند.	حفظ حالت بدن
ماهیچه‌های اسکلتی با کمک به سخن گفتن، نوشتن یا رسم شکل و ایجاد حالات مختلف چهره، در برقراری ارتباط ایفای نقش می‌کنند.	ارتباطات
فعالیت‌های سوخت و ساز در یاخته‌های ماهیچه‌ای باعث ایجاد گرمای زیادی می‌شود که می‌تواند در حفظ دمای مناسب بدن مؤثر باشد.	حفظ دمای بدن

ساختار ماهیچه اسکلتی

یک ماهیچه اسکلتی مانند آنچه که در شکل ۱۱ دیده می‌شود از چندین دسته تار ماهیچه‌ای تشکیل شده است. هر دسته تار ماهیچه‌ای از تعدادی یاخته یا تار ماهیچه‌ای تشکیل شده است.

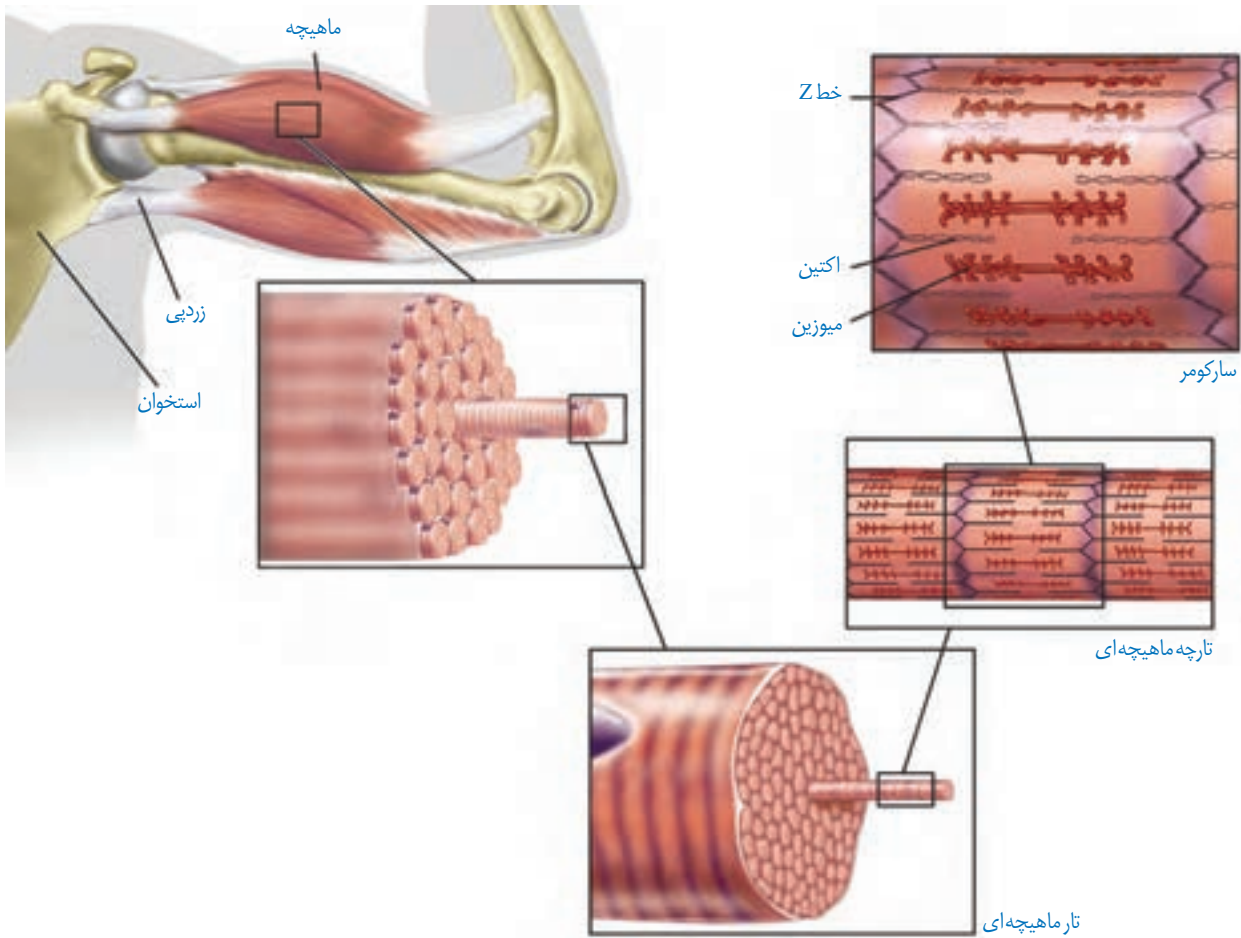
این دسته تارها با غلافی از بافت پیوندی رشته‌ای محکم احاطه شده است. این غلاف‌های پیوندی در انتها، به صورت طناب یا نواری محکم به نام **زردپی** در می‌آیند (شکل ۱۱). زردپی‌های دو انتهای ماهیچه، به استخوان‌های مختلف متصل می‌شوند. با انقباض ماهیچه، دو استخوان به طرف هم کشیده می‌شوند. نحوه اتصال ماهیچه به استخوان طوری است که معمولاً با تغییر کوتاهی در طول ماهیچه، استخوان به اندازه زیادی جابه‌جا می‌شود. مثلاً با کوتاه شدن حدود یک سانتی‌متر ماهیچه جلوی بازو، ساعد دست به اندازه زیادی حرکت می‌کند.




شکل ۱۱- ساختار ماهیچه اسکلتی

یاخته (تار) ماهیچه اسکلتی: در شکل ۱۲، یاخته‌های ماهیچه‌ای مانند استوانه‌ای با چندین هسته دیده می‌شوند. در واقع هر یاخته از به هم پیوستن چند یاخته در دوره جنینی ایجاد می‌شود و به همین علت چند هسته دارد. درون هر یاخته، تعداد زیادی رشته به نام **تارچه ماهیچه‌ای** وجود دارد که موازی هم در طول یاخته قرار گرفته‌اند (شکل ۱۲).

تارچه‌ها از واحدهای تکراری به نام **سارکومر** تشکیل شده‌اند که به تار ماهیچه‌ای ظاهر مخطط (خط خط) می‌دهند. دو انتهای هر سارکومر خطی به نام **خط Z** دیده می‌شود. آیا با توجه به شکل ۱۲ می‌توانید علت این نام‌گذاری را حدس بزنید؟ ظاهر مخطط این یاخته‌ها به دلیل وجود دو نوع رشته پروتئینی اکتین و میوزین است که با آرایش خاصی در کنار هم قرار گرفته‌اند. رشته‌های اکتین نازک و از یک طرف به خط Z متصل‌اند. این رشته‌ها به درون سارکومر کشیده شده‌اند. رشته‌های میوزین، ضخیم و بین رشته‌های اکتین جا گرفته‌اند. این رشته‌ها سرهایی برای اتصال به اکتین دارند. آیا می‌توانید با توجه به شکل ۱۳ و نحوه قرارگیری رشته‌های اکتین و میوزین در شکل ۱۲، علت تیره و روشن دیده شدن این تارهای ماهیچه‌ای را بیان کنید؟



شکل ۱۲- اجزای یک تار و تارچه ماهیچه‌ای



شکل ۱۳- تصویر میکروسکوپی از ساختار ماهیچه مخطط (الف) و سارکومر (ب)

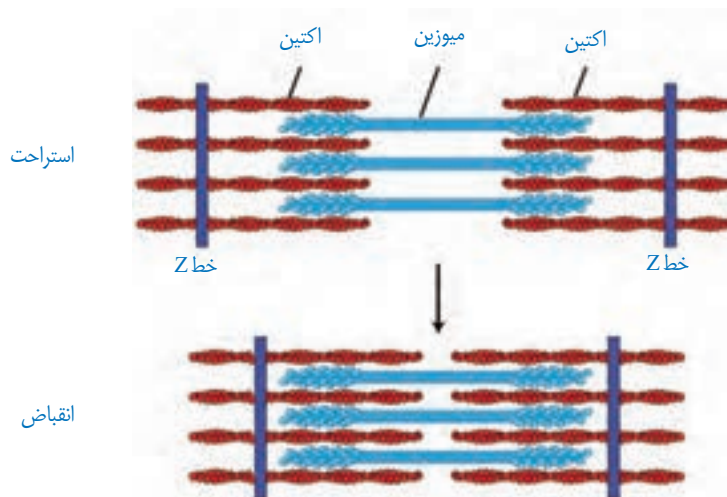


شکل ۱۴- بخش‌های مختلف مولکول میوزین

مکانیسم انقباض ماهیچه

با رسیدن پیام از مراکز عصبی، تحریک از طریق همایه (سیناپس) ویژه‌ای از یاخته عصبی به یاخته ماهیچه‌ای می‌رسد و ناقل عصبی از پایانه یاخته عصبی آزاد می‌شود. با اتصال این ناقلین به

گیرنده‌های خود در سطح یاخته ماهیچه‌ای، یک موج تحریکی در طول غشای یاخته ایجاد می‌شود. با تحریک یاخته ماهیچه‌ای، یون‌های کلسیم از شبکه آندوپلاسمی آن آزاد می‌شود. در نتیجه این عمل، سرهای پروتئین‌های میوزین به رشته‌های اکتین متصل می‌شوند. با اتصال پروتئین‌های میوزین به اکتین و تغییر شکل آن، خطوط Z سارکومر به هم نزدیک می‌شوند. نزدیک شدن خطوط Z باعث کوتاه شدن طول سارکومرها و در کل، کاهش طول ماهیچه می‌شود (شکل ۱۵).



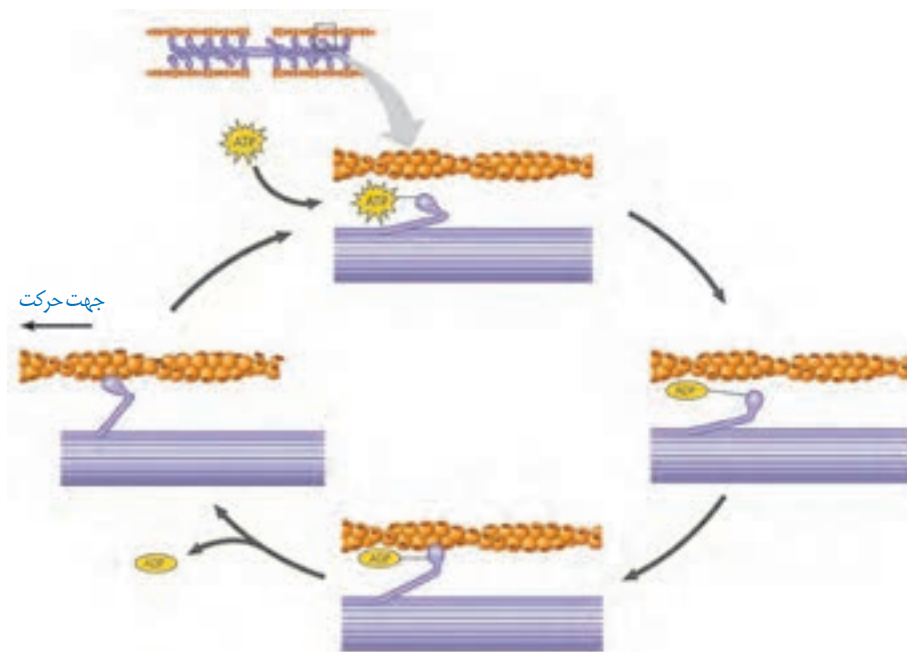
شکل ۱۵- طرح ساده‌ای از انقباض سارکومرها

بیشتر بدانید

بعضی عوامل بیماری‌زا می‌توانند در انقباض ماهیچه اختلال ایجاد کنند؛ مثلاً نوعی باکتری سمی خطرناک به نام بوتولینوم تولید می‌کند. این سم مانع از آزاد شدن استیل‌کولین از یاخته‌های عصبی حرکتی می‌شود، در نتیجه ماهیچه هیچ پیامی برای تحریک دریافت نمی‌کند. این سم که به بوتاکس نیز معروف است در مقادیر بسیار کم برای کاهش چین و چروک‌های ظاهری چهره استفاده می‌شود. تزریق مقادیر بسیار کم بوتاکس در اطراف چشم و پیشانی به طور موقت باعث فلج ماهیچه‌های چهره می‌شود و تا مدتی چروک‌های صورت رافع می‌کند، ولی از طرفی باعث بی‌حالت شدن چهره می‌شود که به چهره یخی یا بی‌روح معروف است.

غزیدن میوزین و اکتین در مجاورت هم به انرژی نیاز دارد. برای این کار، باید پل‌های اتصال میوزین و اکتین دائماً تشکیل و با حرکتی مانند پارو زدن، خطوط Z به سمت هم کشیده می‌شوند. سپس سرهای متصل جدا و به بخش جلوتر وصل می‌شوند. این لیز خوردن، اتصال و جدا شدن سرهای میوزین صدها مرتبه در ثانیه تکرار و در نتیجه ماهیچه اسکلتی منقبض می‌شود (شکل ۱۶).

توقف انقباض: با اتمام انقباض، یون‌های کلسیم به سرعت با انتقال فعال به شبکه آندوپلاسمی بازگردانده و در نتیجه اکتین و میوزین از هم جدا می‌شوند. در این حال، سارکومر تا زمان رسیدن پیام عصبی بعدی در حالت استراحت می‌ماند.



شکل ۱۶- نحوه انقباض ماهیچه

تأمین انرژی انقباض

بیشتر انرژی لازم برای انقباض ماهیچه‌ها از سوختن گلوکز به دست می‌آید. در ماهیچه‌ها گلیکوژن به صورت ذخیره وجود دارد و در صورت لزوم به گلوکز تجزیه می‌شود. در صورت وجود اکسیژن، تجزیه گلوکز می‌تواند تا چند دقیقه انرژی لازم برای ساخت ATP را فراهم کند. برای انقباض طولانی‌تر، ماهیچه‌ها از اسیدهای چرب استفاده می‌کنند. ماده دیگر کراتین فسفات است که طبق واکنش زیر می‌تواند با دادن فسفات خود، مولکول ATP را به سرعت بازتولید کند.



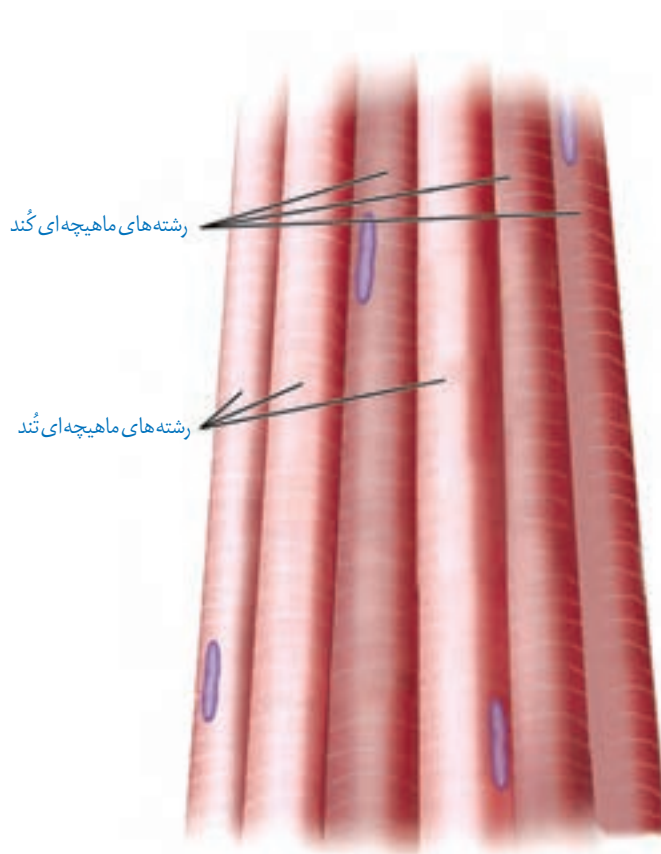
ماهیچه‌ها برای تجزیه کامل گلوکز به اکسیژن نیاز دارد. در فعالیت‌های شدید که اکسیژن کافی به ماهیچه‌ها نمی‌رسد، تجزیه گلوکز به صورت بی‌هوازی انجام می‌شود. در اثر این واکنش‌ها لاکتیک اسید تولید می‌شود که در ماهیچه انباشته می‌شود. انباشته شدن لاکتیک اسید پس از تمرینات ورزشی طولانی، باعث گرفتگی و درد ماهیچه‌ای می‌شود. لاکتیک اسید اضافی به تدریج تجزیه می‌شود و اثرات درد و گرفتگی ماهیچه‌ای کاهش می‌یابد.

انواع یاخته‌های بافت ماهیچه‌ای

یاخته‌های ماهیچه‌ای را می‌توان به دو نوع یاخته‌های تند و کند تقسیم کرد. این تقسیم‌بندی براساس سرعت انقباض است. بسیاری از ماهیچه‌های بدن هر دو نوع یاخته را دارند. تار ماهیچه‌ای نوع کند، برای حرکات استقامتی مانند شنا کردن ویژه شده‌اند. این تارها مقدار زیادی رنگ دانه قرمز به

نام **میوگلوبین** (شبيه هموگلوبين) دارند که می‌توانند مقداری اکسیژن را ذخیره کنند. این تارها بیشتر انرژی خود را به روش هوازی به دست می‌آورند (شکل ۱۷).

تارهای ماهیچه ای تند (یا سفید) سریع منقبض می‌شوند. این تارها مسئول انجام انقباضات سریع مثل دوی سرعت و بلند کردن وزنه‌اند. این تارها تعداد میتوکندری کمتری دارند و انرژی خود را بیشتر از راه تنفس بی‌هوازی به دست می‌آورند. مقدار میوگلوبین این تارها هم کمتر است. این تارها سریع انرژی خود را از دست می‌دهند و خسته می‌شوند. افراد کم‌تحرک، دارای تار ماهیچه ای تند بیشتری هستند که با ورزش، تارهای نوع تند به نوع کند تبدیل می‌شوند (شکل ۱۷).



شکل ۱۷- تارهای ماهیچه ای تند و کند

فعالیت ۴

الف) به نظر شما چه تفاوت‌هایی بین دوندگان دوی صدمتر و ماراتن از نظر تعداد و درصد تارهای ماهیچه ای تند و کند وجود دارد؟

ب) کدام گروه هنگام فعالیت ورزشی حرفه ای خود به اکسیژن نیاز بیشتری دارند؟

پ) مقدار میوگلوبین ماهیچه‌های مؤثر در ورزش حرفه ای این ورزشکاران چه تفاوتی دارد؟

حرکت در جانوران

جانوران حداقل در بخشی از زندگی خود می‌توانند از جایی به جای دیگری حرکت کنند. شیوه‌های حرکتی در جانوران بسیار متنوع است. شناکردن، پروازکردن، دویدن و خزیدن، نمونه‌هایی از این حرکات اند. با این وجود، اساس حرکت در جانوران مشابه است؛ برای حرکت در یک سو، جانور باید نیرویی در خلاف آن وارد کند. برای انجام حرکت، جانوران نیازمند ساختارهای اسکلتی و ماهیچه‌ای هستند.

ساختار اسکلت در جانوران متفاوت است، ولی می‌توان انواع اسکلت در جانوران را به سه گروه آب‌ایستایی^۱، بیرونی و درونی طبقه‌بندی کرد. اسکلت آب‌ایستایی در اثر تجمع مایع درون بدن به آن شکل می‌دهد. عروس دریایی اسکلت آب‌ایستایی دارد. ضمناً در این جانوران، با فشار جریان آب به بیرون، جانور به سمت مخالف حرکت می‌کند. این حالت مانند حرکت بادکنک هنگام خالی شدن هوای آن است و باعث رانده شدن بادکنک در خلاف جهت خروج هوا می‌شود.

حشرات و سخت‌پوستان نمونه‌هایی از جانوران دارای اسکلت بیرونی هستند. در این جانوران، اسکلت علاوه بر کمک به حرکت، وظیفه حفاظتی هم دارد. با افزایش اندازه جانور، اسکلت خارجی آن هم باید بزرگ‌تر و ضخیم‌تر شود. بزرگ بودن اسکلت خارجی، باعث سنگین‌تر شدن آن می‌شود که در حرکات جانور محدودیت ایجاد می‌کند. به همین علت، اندازه این جانوران از حد خاصی بیشتر نمی‌شود.

مهره‌داران اسکلت درونی دارند. در انواعی از ماهی‌ها مانند کوسه‌ماهی، جنس این اسکلت از نوع غضروفی است، ولی در سایر مهره‌داران استخوانی است که غضروف نیز دارد. ساختار استخوان در این جانوران بسیار شبیه ساختار استخوان انسان است.

فعالیت ۵

با استفاده از منابع علمی تحقیق کنید هر یک از انواع اسکلت درونی یا بیرونی چه مزایا و محدودیت‌هایی دارند. نتایج تحقیق خود را به صورت گزارش در کلاس ارائه کنید.



فصل ۴

تنظیم شیمیایی

تصور کنید روزی تمام وسایل ارتباطی مثل تلفن، اینترنت و رادیو در یک شهر قطع شود. آیا اداره کردن آن شهر ممکن خواهد بود؟ آیا می‌توان بخش‌های مختلف شهر را که در فواصل دور یا نزدیک قرار دارند، با یکدیگر هماهنگ کرد؟ آیا می‌توان یک خبر را به اطلاع همهٔ مردم شهر رساند؟ در پریاختگان، یاخته‌ها نمی‌توانند از یکدیگر مستقل باشند. در فصل اول دیدیم که دستگاه عصبی، یکی از دستگاه‌های ارتباطی بدن است. اما دستگاه عصبی با تک‌تک یاخته‌های بدن ارتباط ندارد. در این فصل، با ارتباطات شیمیایی آشنا می‌شویم و خواهیم دید که چگونه بخش مهمی از فرایندهای بدن توسط آن انجام می‌شود.

گفتار ۱ ارتباط شیمیایی

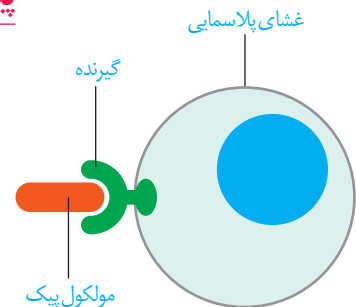
در فصل اول دیدیم که نورون‌ها ارتباط بین نقاط مختلف بدن را برقرار می‌کنند. در این گفتار، نقش مولکول‌ها را در برقراری ارتباط خواهیم دید.

پیک شیمیایی

پیک شیمیایی مولکولی است که پیامی را منتقل می‌کند. یاخته‌ای که پیام را دریافت می‌کند **یاخته هدف** نام دارد.

پیک، چگونه یاخته هدف را از میان انبوه یاخته‌ها پیدا می‌کند و پیام را اشتباهی به یاخته دیگر نمی‌رساند؟ یاخته هدف، برای پیک گیرنده‌ای دارد (شکل ۱). مولکول پیک، تنها بر یاخته‌ای می‌تواند تأثیر بگذارد که گیرنده آن را داشته باشد و این یاخته، همان یاخته هدف است.

بر اساس مسافتی که پیک طی می‌کند تا به یاخته هدف برسد، پیک‌ها را به دو گروه **کوتاه‌برد** و **دور‌برد** تقسیم می‌کنند.



شکل ۱- پیک از طریق اثر برگیرنده اختصاصی خود در یاخته هدف در آن تغییر ایجاد می‌کند.

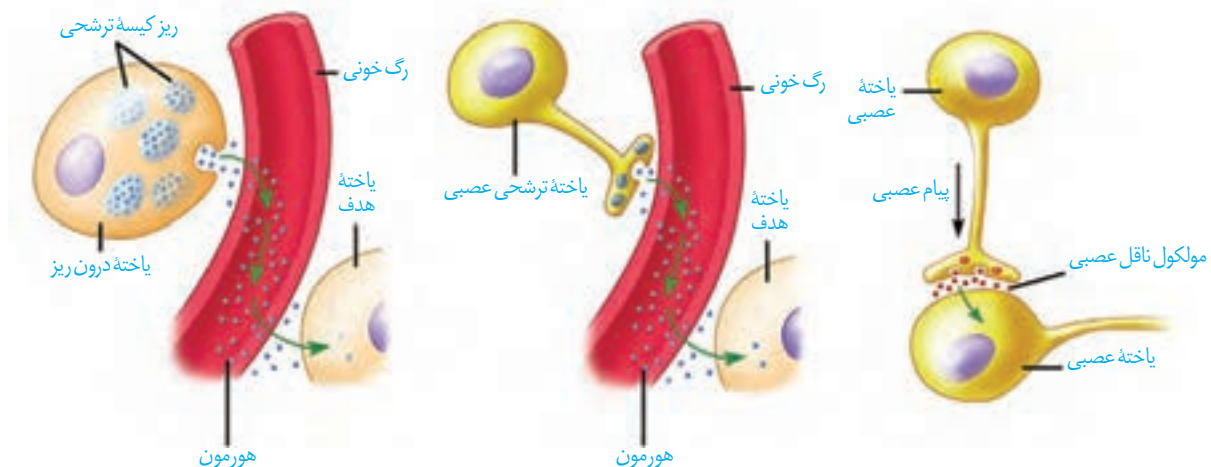
پیک‌های کوتاه‌برد

پیک کوتاه‌برد، چنانکه از نام آن پیداست، بین یاخته‌هایی ارتباط برقرار می‌کند که در نزدیکی هم‌اند و حداکثر چند یاخته با هم فاصله دارند. ناقل عصبی یک پیک کوتاه‌برد است. این پیک از یاخته پیش‌سیناپسی ترشح و بر یاخته پس‌سیناپسی اثر می‌کند.

پیک‌های دور‌برد

پیک‌های دور‌برد پیک‌هایی هستند که به جریان خون وارد می‌شوند و پیام را به فاصله‌ای دور منتقل می‌کنند. **هورمون‌ها** پیک‌های دور‌بردارند (شکل ۲).

شکل ۲- مقایسه هورمون و ناقل عصبی

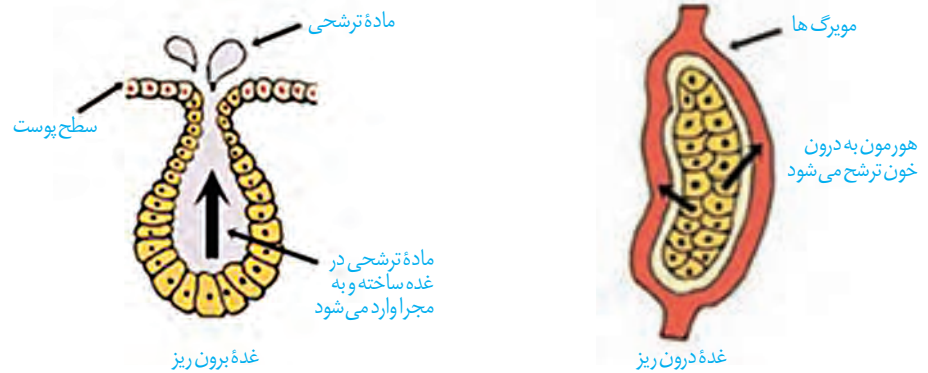


گاهی یاخته‌های عصبی پیک شیمیایی را به خون ترشح می‌کنند؛ در این صورت، این پیک یک هورمون به شمار می‌آید، نه یک ناقل عصبی.

غده‌های بدن

هورمون‌ها از یاخته‌های درون ریز ترشح می‌شوند. این یاخته‌ها ممکن است به صورت پراکنده در اندام‌ها دیده شوند. مثال این یاخته‌ها را قبلاً دیده ایم. مثلاً در سال گذشته خواندیم که یاخته‌های درون ریز در معده و دوازدهه به ترتیب، هورمون گاسترین و سکرترین را ترشح می‌کنند. همچنین ممکن است یاخته‌های درون ریز را به صورت مجتمع یافت که در این صورت، غده درون ریز را تشکیل می‌دهند. ترشحات غده درون ریز به خون وارد می‌شود، اما غده برون ریز ترشحات خود را از طریق مجرایی به سطح یا حفرات بدن می‌ریزد (شکل ۳).

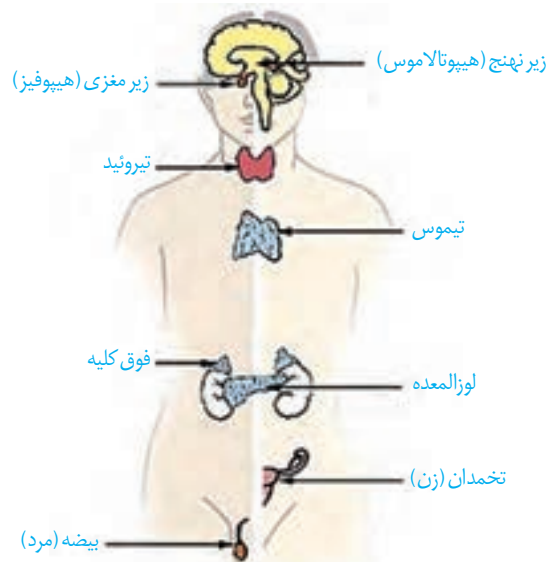
شکل ۳- غده درون ریز و برون ریز



بیشتر بدانید

جنس مولکول گیرنده از نوع پروتئین است. در واقع یکی از وظایف پروتئین‌های غشایی، عملکردگیرنده‌ای است.

مجموع یاخته‌ها و غدد درون ریز و هورمون‌های آنها را دستگاه درون ریز می‌نامند. این دستگاه به همراه دستگاه عصبی، فعالیت‌های بدن را تنظیم می‌کنند و نسبت به محرک‌های درونی و بیرونی پاسخ می‌دهند. تعدادی از غدد دستگاه درون ریز را در شکل ۴ می‌بینید.



شکل ۴- تعدادی از غدد درون ریز

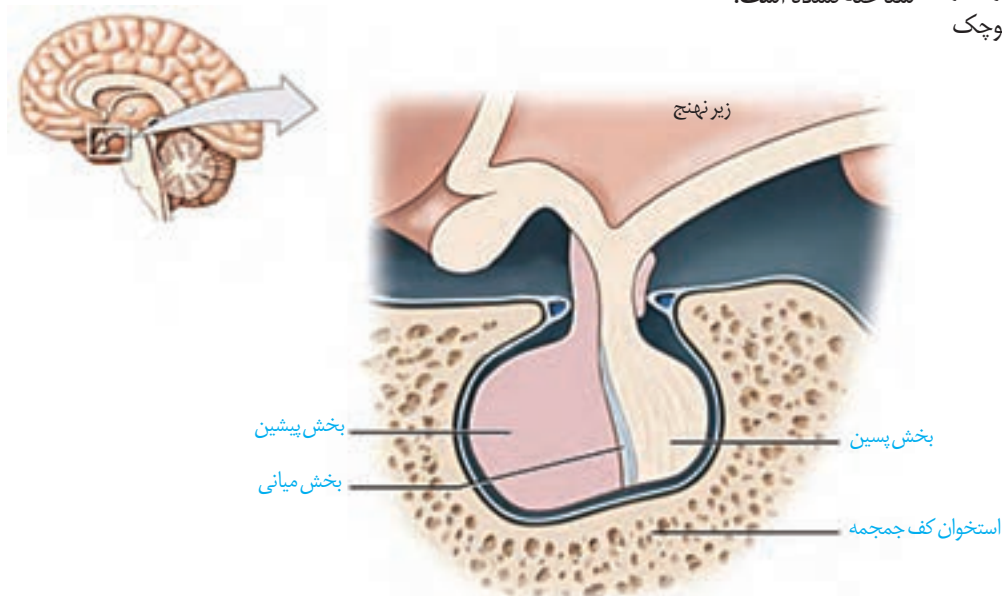
دستگاه درون ریز، که غده‌ها بخش مهمی از آن‌اند، فعالیت‌های بدن را به وسیله هورمون‌ها تنظیم می‌کند. در این گفتار، غدد درون ریز و هورمون‌های آنها را در انسان بررسی می‌کنیم.

بیشتر بدانید

نقش بخش میانی در ماهی‌ها و دوزیستان بهتر شناخته شده است. این بخش، هورمونی ترشح می‌کند که باعث تیره تر شدن یاخته‌های پوست در پاسخ به محرک‌های محیطی می‌شود. در انسان بالغ، بخش میانی بسیار کوچک می‌شود، یا حتی از بین می‌رود.

غده زیر مغزی (هیپوفیز)

غده زیر مغزی تقریباً به اندازه یک نخود است و با ساقه‌ای به زیرنهنج (هیپوتالاموس) متصل است (شکل ۵). این غده درون یک گودی، در استخوانی از کف جمجمه جای دارد. غده زیر مغزی سه بخش دارد که پیشین، میانی و پسین نامیده می‌شوند. عملکرد بخش میانی در انسان به خوبی شناخته نشده است.



شکل ۵- غده زیر مغزی

واژه‌شناسی

غده زیر مغزی (hypophysis/هیپوفیز) برآمدگی در زیر مغز میانی هیپوفیز خوانده می‌شود که از کلمه (هیپو) به معنای زیر و (فیز) به معنای زائده ساخته شده است و غده زیر مغزی کاملاً معنی و مفهوم آن را می‌رساند.

بخش پیشین

بخش پیشین تحت تنظیم زیرنهنج، شش هورمون ترشح می‌کند. زیرنهنج توسط رگ‌های خونی با بخش پیشین ارتباط دارد و هورمون‌هایی به نام آزادکننده و مهارکننده ترشح می‌کند که باعث می‌شوند هورمون‌های بخش پیشین ترشح شوند، یا اینکه ترشح آنها متوقف شود. به همین دلیل، غده زیر نهنج نقش مهمی در تنظیم ترشح سایر غده‌ها بر عهده دارد.

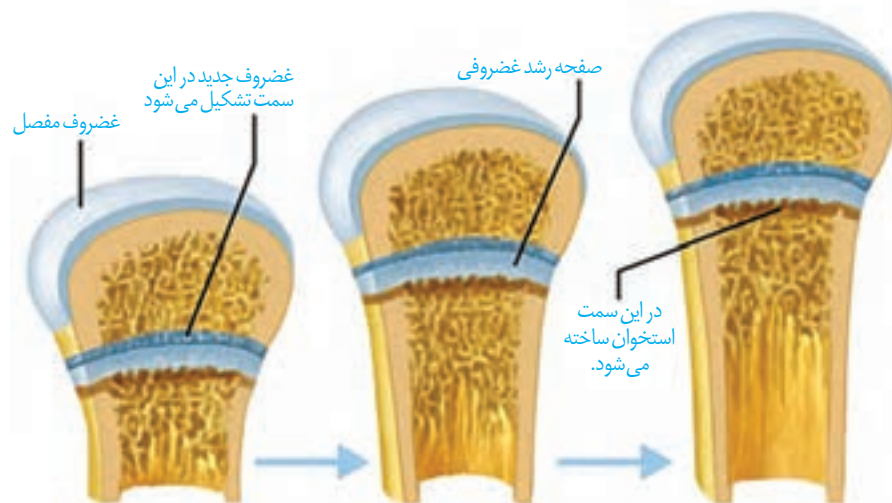
هورمون رشد، یکی از هورمون‌های بخش پیشین است که با رشد طولی استخوان‌های دراز، اندازه قدر را افزایش می‌دهد. در نزدیکی دو سر استخوان‌های دراز، دو صفحه غضروفی وجود دارد که صفحات رشد نام دارند (شکل ۶) یاخته‌های غضروفی در این صفحات تقسیم می‌شوند. همچنان

بیشتر بدانید

اندازهٔ قد هر فرد علاوه بر ژنتیک به محیط هم بستگی دارد. ژن‌هایی که از والدین به فرزند می‌رسد تعیین‌کنندهٔ اندازهٔ قد اوست. اندازهٔ قد به نژاد هم بستگی دارد (که آن هم موردی از ژنتیک است). به عنوان مثال، میانگین قد در آسیای جنوب شرقی کمتر از ایران است.

محیط تأثیر غیر قابل انکاری بر اندازهٔ نهایی قد دارد. تغذیه، ورزش و حتی استراحت از عوامل مؤثر بر اندازهٔ قد هستند.

شکل ۶- صفحات رشد در استخوان‌های دراز و چگونگی رشد استخوان.



پرولاکتین هورمون دیگر بخش پیشین است. پس از تولد نوزاد، این هورمون، غدد شیری را به تولید شیر وامی‌دارد. تا مدت‌ها تصور می‌شد که کار پرولاکتین تنها همین است. اما اکنون شواهد روزافزونی مبنی بر نقش این هورمون در دستگاه ایمنی و حفظ تعادل آب به دست آمده است. در مردان، این هورمون در تنظیم فرایندهای دستگاه تولید مثل نیز نقش دارد.

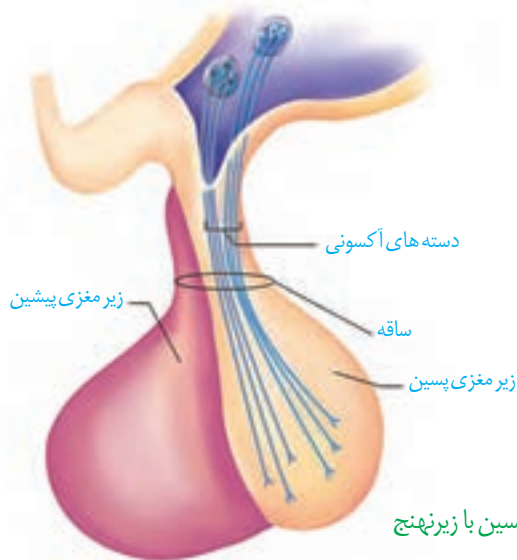
هورمون‌های محرک، چهار هورمون باقی‌ماندهٔ بخش پیشین را تشکیل می‌دهند. بخش پیشین با ترشح این هورمون‌ها فعالیت سایر غدد را تنظیم می‌کنند. هورمون **محرک تیروئید**، فعالیت غدهٔ سپردیس (تیروئید) را تحریک می‌کند؛ هورمون **محرک فوق کلیه** روی غدهٔ فوق کلیه تأثیر می‌گذارد و هورمون‌های **محرک غده‌های جنسی** که LH و FSH نام دارند کار غده‌های جنسی (تخمدان و بیضه) را تنظیم می‌کند.

بخش پسین

بخش پسین هیچ هورمونی نمی‌سازد. هورمون‌های بخش پسین در یاخته‌های عصبی زیرنهنج تولید می‌شوند. این هورمون‌ها که در جسم یاخته‌ای ساخته شده‌اند از طریق آسه‌ها به بخش پسین می‌رسند (شکل ۷). دو هورمون به نام‌های ضد‌ادراری، که در سال قبل با آن آشنا شدیم، و آکسی‌توسین، که در فصل ۷ با آن آشنا می‌شویم، در زیرنهنج ساخته و در بخش پسین، ذخیره و ترشح می‌شوند.

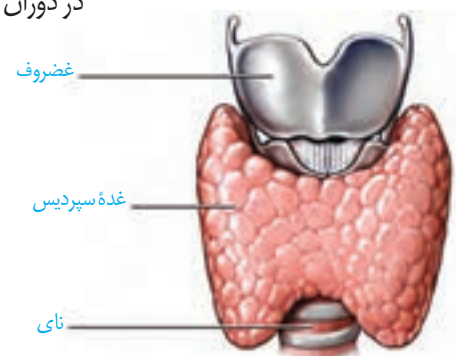
بیشتر بدانید

هورمون‌های تیروئیدی از پیوستن دو مشتق آمینو اسید تیروزین پدید آمده‌اند. یکی از آنها سه اتم ید دارد و دیگری چهار اتم ید به همین دلیل، آن دو را به ترتیب، با T_3 و T_4 نمایش می‌دهند. T_4 که تیروکسین نیز نامیده می‌شود در مجاورت یاخته‌های هدف به T_3 تبدیل می‌شود.



غده سپردیس (تیروئید)

غده تیروئید شکلی شبیه به سپر دارد و در زیر حنجره واقع است (شکل ۸). هورمون‌هایی که از این غده ترشح می‌شوند عبارت‌اند از: هورمون‌های تیروئیدی و کلسی‌تونین. هورمون‌های تیروئیدی دو هورمون ید دار به نام‌های T_3 و T_4 هستند. هورمون‌های تیروئیدی میزان تجزیه گلوکز و انرژی در دسترس را تنظیم می‌کنند. از آنجایی که تجزیه گلوکز در همه یاخته‌های بدن رخ می‌دهد پس همگی، یاخته هدف این هورمون‌ها هستند. در دوران جنینی و کودکی، T_4 برای نمو دستگاه عصبی مرکزی لازم است؛ بنابراین، فقدان آن به اختلالات نمو دستگاه عصبی و عقب ماندگی ذهنی و جسمی جنین می‌انجامد. اگر ید در غذا به مقدار کافی نباشد، آن‌گاه هورمون تیروئیدی به اندازه کافی ساخته نمی‌شود. در این حالت غده زیر مغزی با ترشح هورمون محرک تیروئید، باعث رشد بیشتر غده می‌شود تا ید بیشتری جذب کند. فعالیت بیشتر غده تیروئید منجر به بزرگ شدن آن می‌شود که به آن **گواتر** می‌گویند. ید در غذاهای دریایی فراوان است. مقدار ید موجود در فراورده‌های کشاورزی و دامی یک منطقه، به مقدار ید خاک بستگی دارد. با توجه به کمبود ید در خاک کشور ما، همچون بسیاری از دیگر کشورها، برنامه‌های غذایی متکی به فراورده‌های غیر دریایی نمی‌تواند فراهم کننده ید مورد نیاز بدن باشد.



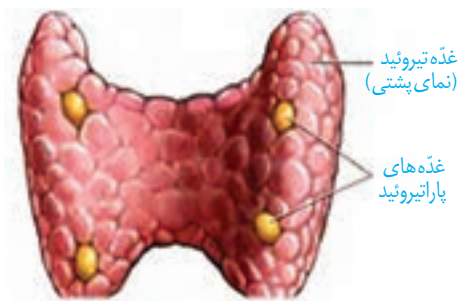
شکل ۸- نمای جلویی غده سپردیس

استفاده از نمک ید دار می‌تواند ید مورد نیاز بدن را تأمین کند. تحقیق کنید که نمک‌های ید دار در چه شرایطی خواص خود را حفظ می‌کنند و چه غذاهایی مانع جذب ید می‌شوند؟

فعالیت ۱

هورمون دیگر تیروئید، **کلسی‌تونین** است. زمانی که کلسیم در خوناب زیاد است. این هورمون از برداشت کلسیم از استخوان‌ها جلوگیری می‌کند.

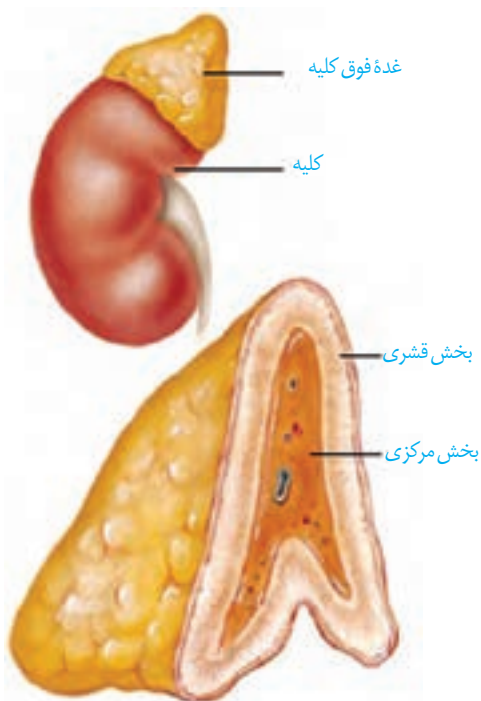
غده‌های پاراتیروئید



شکل ۹- غده‌های پاراتیروئید

غده‌های پاراتیروئید به تعداد چهار عدد در پشت تیروئید قرار دارند (شکل ۹). این غدد، **هورمون پاراتیروئیدی** ترشح می‌کنند. هورمون پاراتیروئیدی در پاسخ به کاهش کلسیم خوناب ترشح می‌شود و در هم ایستایی کلسیم نقش دارد. این هورمون، کلسیم را از مادهٔ زمینهٔ استخوان جدا و آزاد می‌کند. همچنین باز جذب کلسیم را در کلیه افزایش می‌دهد. یکی دیگر از کارهای هورمون پاراتیروئیدی اثر بر ویتامین D است. این هورمون، ویتامین D را به شکلی تبدیل می‌کند که می‌تواند جذب کلسیم از روده را افزایش دهد. بنابراین، کمبود ویتامین D باعث کاهش جذب کلسیم از روده می‌شود.

غدهٔ فوق کلیه



شکل ۱۰- غدهٔ فوق کلیه

غدهٔ فوق کلیه روی کلیه قرار دارد و از دو بخش قشری و مرکزی تشکیل شده است که از هم دیگر مستقل اند (شکل ۱۰).

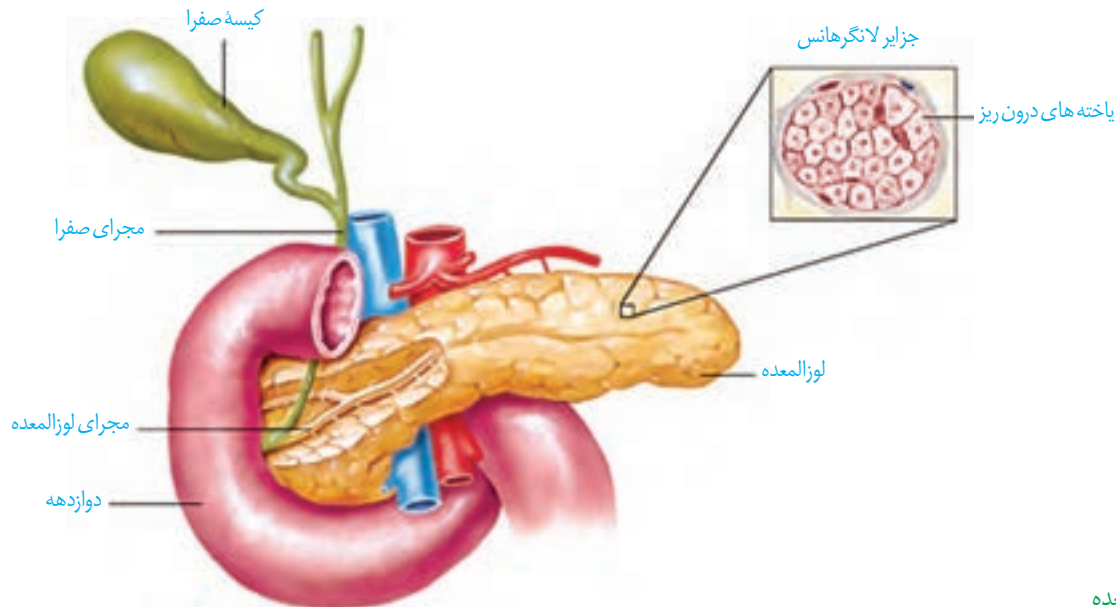
بخش مرکزی ساختار عصبی دارد. وقتی فرد در شرایط تنش قرار می‌گیرد، این بخش دو هورمون به نام‌های **اپی‌نفرین** و **نور اپی‌نفرین** ترشح می‌کند. این هورمون‌ها ضربان قلب، فشار خون و گلوکز خوناب را افزایش می‌دهند و نایزک‌ها را در شش‌ها باز می‌کنند. چنین تغییراتی بدن را برای پاسخ‌های کوتاه مدت آماده می‌کند.

بخش قشری به تنش‌های طولانی مدت، مثل غم از دست دادن نزدیکان، با ترشح کورتیزول پاسخ دیرپا می‌دهد. این هورمون گلوکز خوناب را افزایش می‌دهد. اگر تنش‌ها به مدت زیادی ادامه یابد، کورتیزول دستگاه ایمنی را تضعیف می‌کند. هورمون دیگر بخش قشری **آلدوسترون** است که بازجذب سدیم را از کلیه افزایش می‌دهد. به دنبال بازجذب سدیم، آب هم بازجذب می‌شود و در نتیجه فشار خون بالا می‌رود.

بخش قشری **هورمون جنسی** زنانه و مردانه را در هر دو جنس نیز ترشح می‌کند.

غده لوزالمعده

غده لوزالمعده از دو قسمت برون ریز و درون ریز تشکیل شده است (شکل ۱۱). بخش برون ریز، آنزیم‌های گوارشی و بیکربنات ترشح می‌کند که در سال گذشته با آن آشنا شدیم. بخش درون ریز به صورت مجموعه‌ای از یاخته‌ها در بین بخش برون ریز است که **جزایر لانگرهانس** نام دارند.



شکل ۱۱- لوزالمعده

بیشتر بدانید

در زمان بارداری نیز ممکن است دیابت رخ دهد که به آن **دیابت بارداری** می‌گویند. دیابت بارداری برای جنین خطرناک است و باید بلافاصله تشخیص داده شود تا اقدامات لازم صورت گیرد؛ در غیر این صورت، جنین آسیب می‌بیند و حتی ممکن است سقط شود.

از بخش درون ریز لوزالمعده دو هورمون به نام‌های **گلوکاگون** و **انسولین** ترشح می‌شود. گلوکاگون در پاسخ به کاهش گلوکز خون ترشح شده، باعث تجزیه گلیکوژن به گلوکز می‌شود و به این ترتیب، قند خون را افزایش می‌دهد. انسولین در پاسخ به افزایش گلوکز خون ترشح و باعث ورود گلوکز به یاخته‌ها می‌شود و به این ترتیب، قند خون را کاهش می‌دهد.

اگر یاخته‌ها نتوانند گلوکز را از خون بگیرند، غلظت گلوکز خون افزایش می‌یابد. به همین علت گلوکز و به دنبال آن آب وارد ادرار می‌شود. چنین وضعیتی به **دیابت شکر** معروف است.

در این نوع دیابت، یاخته‌ها مجبورند انرژی مورد نیاز خود را از چربی‌ها یا حتی پروتئین‌ها به دست آورند که به کاهش وزن می‌انجامد. بر اثر تجزیه چربی‌ها، محصولات اسیدی تولید می‌شود که اگر این وضعیت درمان نشود به اغما و مرگ منجر خواهد شد. علاوه بر آن، تجزیه پروتئین‌ها، مقاومت بدن را کاهش می‌دهد. بنابراین، افراد مبتلا به دیابت باید بهداشت را بیش از پیش رعایت کنند و مراقب زخم‌ها و سوختگی‌های هرچند کوچک باشند.

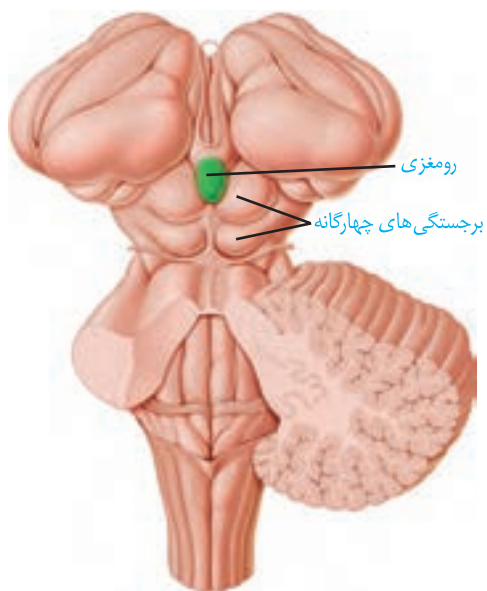
دیابت بر دو نوع است. در نوع I، انسولین ترشح نمی‌شود یا به اندازه کافی ترشح نمی‌شود. این بیماری، یک بیماری خود ایمنی است که در آن دستگاه ایمنی یاخته‌های ترشح کننده انسولین در جزایر لانگرهانس را از بین می‌برد. این بیماری با تزریق انسولین تحت کنترل در خواهد آمد. در دیابت نوع II اشکال در تولید انسولین نیست. در نوع II انسولین به مقدار کافی وجود دارد، اما گیرنده‌های

انسولین به آن پاسخ نمی‌دهند. دیابت نوع II از سن حدود چهل سالگی به بعد، در نتیجه چاقی و عدم تحرک در افرادی که زمینه بیماری را دارند ظاهر می‌شود.

فعالیت ۲

تحقیق کنید که برای پیشگیری از دیابت نوع II چه باید کرد؟

سایر غدد درون ریز



غدهٔ **رو مغزی (اپی فیز)** یکی دیگر از غدد درون ریز مغز است که در بالای برجستگی‌های چهارگانه قرار دارد (شکل ۱۲) و هورمون **مالاتونین** ترشح می‌کند. مقدار ترشح این هورمون در شب به حداکثر و در نزدیکی ظهر به حداقل می‌رسد. عملکرد این هورمون در انسان به خوبی معلوم نیست، اما به نظر می‌رسد در تنظیم ریتم‌های شبانه روزی ارتباط داشته باشد.

غدهٔ **تیموس** هورمون **تیموسین** ترشح می‌کند که در تمایز لنفوسیت‌ها نقش دارد. با تمایز لنفوسیت‌ها در فصل ۵ بیشتر آشنا خواهیم شد. همچنین عملکرد **غده‌های جنسی** و هورمون‌های آنها را در فصل ۷ خواهید دید.

گوناگونی پاسخ‌های یاخته‌ها به هورمون‌ها

شکل ۱۲. جایگاه غدهٔ رو مغزی

ممکن است یک یاخته چند هورمون را دریافت کند یا اینکه چند یاخته، یک هورمون را دریافت کنند. براساس نوع هورمون و نوع یاختهٔ هدف، پیام پیک به عملکرد خاصی تفسیر می‌شود. مثلاً وقتی هورمون پاراتیروئیدی که کلسیم خون را افزایش می‌دهد به کلیه می‌رسد، باز جذب کلسیم را زیاد می‌کند، اما همان هورمون در استخوان باعث تجزیهٔ استخوان شده و کلسیم را آزاد می‌کند.

تنظیم بازخوردی ترشح هورمون‌ها

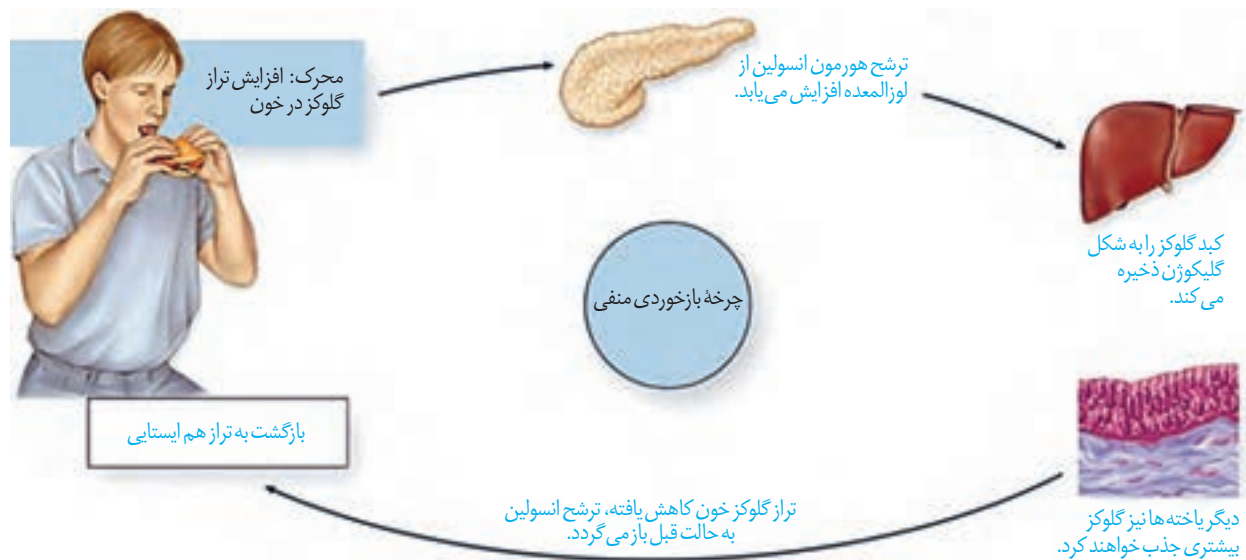
واژه‌شناسی

غدهٔ رومغزی (epiphysis/اپی فیز) با توجه به محل قرار گرفتن این غده که در بالای مغز میانی است این نام مصوب شده است و معنی اپی فیز را می‌رساند.

هورمون‌ها در مقادیر خیلی کم ترشح می‌شوند، اما با همین مقدار کم، اثرات خود را برجای می‌گذارند. بنابراین، تغییر هرچند کم در مقدار ترشح هورمون‌ها اثرات قابل ملاحظه‌ای در پی خواهد داشت. به همین علت ترشح هورمون‌ها باید به دقت تنظیم شود.

چرخهٔ تنظیم بازخوردی روش رایجی در تنظیم ترشح هورمون‌هاست که به دو صورت منفی و مثبت دیده می‌شود. در تنظیم **بازخوردی منفی**، افزایش مقدار یک هورمون یا تأثیرات آن، باعث کاهش ترشح همان هورمون می‌شود و بالعکس. بیشتر هورمون‌ها توسط بازخورد منفی تنظیم می‌شوند. تنظیم انسولین، مثالی از یک بازخورد منفی است (شکل ۱۳).

در تنظیم بازخوردی مثبت، افزایش مقدار یک هورمون یا تأثیرات آن، باعث افزایش ترشح همان هورمون می‌شود. عملکرد اکسی توسین توسط چرخه بازخوردی مثبت تنظیم می‌شود که در فصل ۷ با آن آشنا خواهید شد.



شکل ۱۳- تنظیم بازخورد گلوکز با بازخورد منفی

ارتباط شیمیایی در جانوران

در دنیای جانوران از ارتباط شیمیایی نه فقط برای ارتباط بین یاخته‌ها، بلکه برای ارتباط افراد با یکدیگر نیز استفاده می‌شود. **فرومون‌ها** موادی هستند که از یک فرد ترشح شده و در فرد یا افراد دیگری از همان گونه پاسخ‌های رفتاری ایجاد می‌کند. مثلاً زنبور از فرومون‌ها برای هشدار خطر حضور شکارچی به دیگران استفاده می‌کند. یا مارها قادرند با گیرنده‌هایی شیمیایی زبانشان، فرومون‌های موجود در هوا را تشخیص دهند. گربه‌ها از فرومون‌ها برای تعیین قلمرو خود استفاده می‌کنند.



فصل ۵

ایمنی

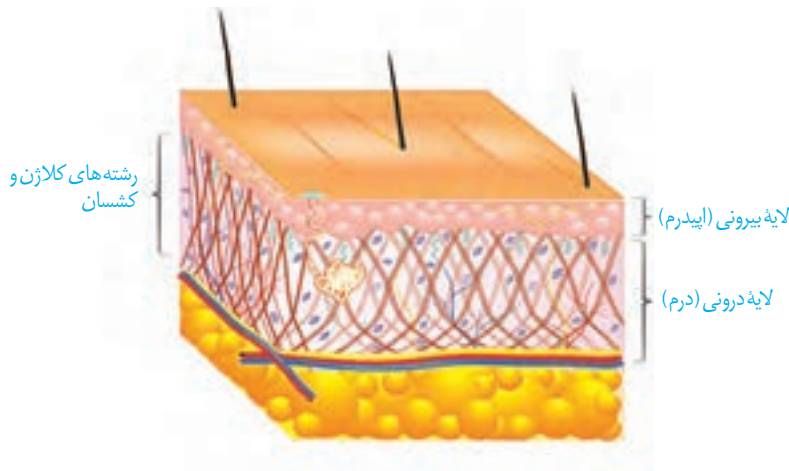
زمانی که میکروسکوپ، دنیای ناپیدای میکروب‌ها را آشکار کرد، تصور نمی‌شد که موجوداتی به این ریزی و سادگی، بتوانند جاننداری چون انسان را بیمار کنند. اما به تدریج شواهدی به دست آمد که به ارائه «نظریه میکروبی بیماری‌ها» در قرن نوزدهم انجامید. نظریه‌ای که بیان می‌کند میکروب‌ها می‌توانند بیماری‌زا باشند.

توانایی بدن انسان در بیمار نشدن یا بهبودی یافتن پس از ابتلا به بیماری‌های میکروبی نشان‌دهنده این واقعیت است که بدن می‌تواند در برابر میکروب‌ها از خود دفاع کند. بدن ما چند خط دفاعی دارد که از ورود میکروب‌ها جلوگیری، یا با میکروب‌های وارد شده مبارزه می‌کند. در این فصل، با این خطوط دفاعی آشنا می‌شویم. اگر بدن ما توانایی دفاع دارد، چرا واکسن می‌زنیم؟ دستگاه ایمنی در برابر چه چیزهای دیگری به جز میکروب‌ها، دفاع می‌کند؟ اینها سؤالاتی است که در این فصل، پاسخ آنها را خواهیم یافت.

شاید بهترین راه در امان ماندن از میکروب‌ها، جلوگیری از ورود آنها به بدن باشد. واقعیت هم همین است. همان‌گونه که با دیوار کشیدن در گرداگرد یک شهر، می‌توان سدی در برابر حملهٔ بیگانگان ایجاد کرد، بدن ما به وسیلهٔ سدهایی در اطراف خود، محافظت می‌شود. پوست و مخاط، سد محکمی در برابر ورود میکروب‌ها ایجاد می‌کنند.

پوست یکی از اندام‌های بدن است که لایه‌های بیرونی و درونی آن در جلوگیری از ورود میکروب‌ها به بدن نقش دارند (شکل ۱).

لایهٔ بیرونی شامل چندین لایهٔ یاختهٔ پوششی است که خارجی‌ترین یاخته‌های آن مرده‌اند. یاخته‌های مرده به تدریج می‌ریزند و به این ترتیب، میکروب‌هایی را که به آن چسبیده‌اند، از بدن دور می‌کنند.



شکل ۱- لایه‌های مختلف پوست

در لایهٔ درونی، بافت پیوندی رشته‌ای وجود دارد که رشته‌ها در آن به طرز محکمی به هم تائیده‌اند. این لایه محکم و با دوام است. چرم که از پوست جانوران درست می‌شود مربوط به همین لایه است. لایهٔ درونی، عملاً سدی محکم و غیر قابل نفوذ است. پوست فقط یک سد ساده نیست؛ بلکه ترشحات مختلفی هم دارد. سطح پوست را ماده‌ای چرب می‌پوشاند. این ماده به علت داشتن اسیدهای چرب، خاصیت اسیدی دارد. محیط اسیدی برای زندگی میکروب‌های بیماری‌زا مناسب نیست.

فعالیت ۱

تحقیق کنید که:

الف) چربی سطح پوست چه فواید دیگری دارد؟

ب) جوش‌های پوستی و شورهٔ سر چه ارتباطی با چربی پوست دارد؟

یکی دیگر از ترشحات سطح پوست، عرق است که نمک دارد. نمک برای باکتری‌ها مناسب نیست. عرق، آنزیم لیزوزیم هم دارد. آیا به خاطر دارید که لیزوزیم چه نقشی داشت؟ در سطح پوست ما میکروب‌هایی زندگی می‌کنند که با شرایط پوست، از جمله اسیدی بودن، سازش یافته‌اند. این میکروب‌ها از تکثیر میکروب‌های بیماری‌زا جلوگیری می‌کنند، چون در رقابت برای کسب غذا بر آنها پیروز می‌شوند.

با اینکه پوست سد محکمی است، اما همه جای بدن را نپوشانده است. دستگاه‌های تنفس، گوارش و ادراری - تناسلی با محیط بیرون در ارتباط اند و امکان نفوذ میکروب‌ها از طریق آنها وجود دارد. سطح مجاری این دستگاه‌ها را مخاط پوشانده است. به یاد دارید که مخاط از یک بافت پوششی با آستری از بافت پیوندی تشکیل شده است و ماده چسبناکی را به نام ماده مخاطی ترشح می‌کند. بافته‌های پوششی به هم چسبیده‌اند و سدّی را ایجاد می‌کنند. همچنین ماده مخاطی، که چسبناک است، میکروب‌ها را به دام می‌اندازد و از پیش‌روی آنها جلوگیری می‌کند. ترشحات مخاط، با داشتن لیزوزیم موجب کشته شدن باکتری‌ها می‌شود.

علاوه بر مخاط، در هر کدام از دستگاه‌های یادشده سازوکارهای دیگری هم برای مبارزه با میکروب‌ها وجود دارد. به عنوان مثال، مخاط مزکدار در دستگاه تنفس مانع نفوذ میکروب‌ها به بخش‌های عمیق‌تر می‌شود. در دستگاه گوارش، بزاق لیزوزیم دارد. همچنین اسید معده، میکروب‌های موجود در غذا را نابود می‌سازد. ساز و کارهایی مانند عطسه، سرفه، استفراغ، مدفوع و ادرار باعث بیرون راندن میکروب‌های مجاری می‌شود. اشک با داشتن نمک و لیزوزیم از چشم محافظت می‌کند.

فعالیت ۲

مخاط مزکدار دستگاه تنفس چگونه مانع نفوذ میکروب‌ها می‌شود؟
چه عواملی به این بخش آسیب می‌زند؟

چنان‌که می‌بینیم میکروب‌ها، از هر نوعی که باشند، هنگام ورود به بدن، با خط اول دفاع بدن روبه‌رو می‌شوند. پوست و مخاط، در برابر نفوذ میکروب‌ها، بدون توجه به نوع آنها، سدّی ایجاد می‌کنند. به این نوع دفاع، **دفاع غیر اختصاصی** می‌گویند. در دفاع غیر اختصاصی، روش‌هایی به کار گرفته می‌شود که در برابر طیف وسیعی از میکروب‌ها مؤثر است. در مقابل، دستگاه ایمنی می‌تواند به طور اختصاصی نیز در برابر میکروب‌ها دفاع کند. در **دفاع اختصاصی** پاسخ دستگاه ایمنی فقط بر همان نوع میکروب مؤثر است و بر میکروب‌هایی از انواع دیگر اثری ندارد.

اگر میکروبی بتواند از نخستین خط دفاعی عبور کند، آیا یاخته‌های بدن ما می‌توانند با آن مبارزه کنند؟

مشاهده یک دانشمند

کلید پاسخ به این سؤال، از مشاهده جانور شناسی به نام ایلیا مچنیکو^۱ به دست آمد. او در حین مطالعه لارو ستاره دریایی، که شفاف است، به مشاهده شگفت‌انگیزی دست یافت. مچنیکو برای نخستین بار، درون بدن لارو، یاخته‌هایی را دید که شبیه آمیب بودند؛ حرکت می‌کردند و مواد اطراف خود را می‌خوردند. در این هنگام فکری به ذهن او خطور کرد: شاید این یاخته‌ها میکروب‌ها و ذرات خارجی را هم می‌خورند و در دفاع نقش دارند. اگر چنین باشد باید بتوانند ذره‌ای را که از خارج به بدن لارو وارد شده است نابود کنند. او برای آزمودن این فرضیه، خرده‌های ریزی از خارهای گل رز را به زیر پوست لارو وارد کرد و مشتاقانه منتظر ماند. او درست حدس زده بود. تا صبح فردا، این یاخته‌های آمیبی شکل، اثری از خرده‌ها باقی نگذاشته بودند. مچنیکو این یاخته‌ها را **بیگانه‌خوار** نامید. او بقیه عمر خود را به مطالعه نحوه دفاع بدن در برابر میکروب‌ها پرداخت و سرانجام موفق شد جایزه نوبل را به دست آورد.

خودی و بیگانه

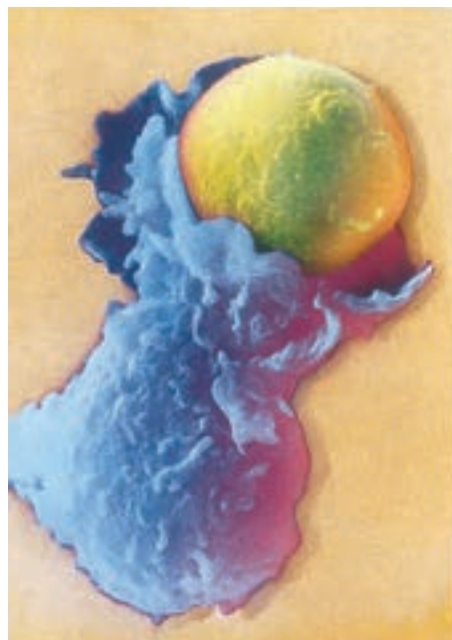
قبل از آنکه بیگانه‌خوارهای بدن ما به میکروب حمله کند، ابتدا باید «بیگانه بودن» آن را تشخیص دهد. دستگاه ایمنی هر فرد، یاخته‌های «خودی» را می‌شناسد و تنها در برابر آنچه که «بیگانه» تشخیص داده می‌شود پاسخ می‌دهد.

دومین خط دفاعی شامل ساز و کارهایی است که بیگانه‌ها را بر اساس ویژگی‌های عمومی آنها شناسایی می‌کند. بنابراین، از نوع دفاع غیر اختصاصی است. دومین خط دفاعی شامل بیگانه‌خوارها، گویچه‌های سفید، پروتئین‌ها، پاسخ التهابی و تب است.

بیگانه‌خوارها (فاگوسیت‌ها)

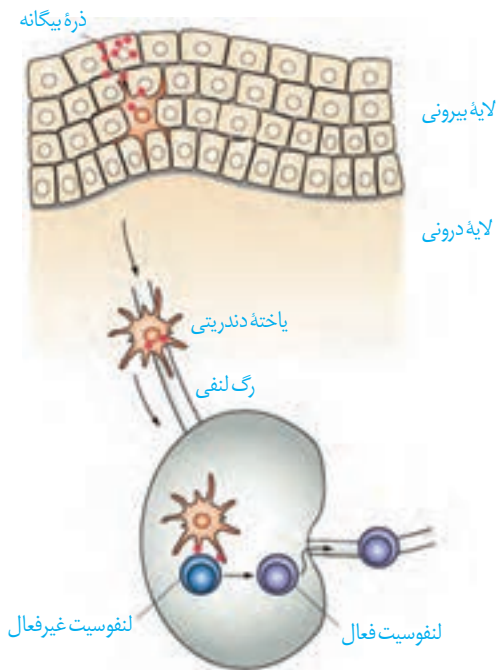
در انسان انواع مختلفی از یاخته‌های بیگانه‌خوار شناسایی شده‌اند. بیگانه‌خوارها در جای‌جای بدن انسان حضور دارند. درشت‌خوار یکی از بیگانه‌خوارهاست (شکل ۲).

واژه **درشت‌خوار** (ماکروفاژ) برای شما آشناست. آیا درشت‌خوارهای حبابکی رادر شش‌ها به یاد دارید؟ درشت‌خوارها در اندام‌های مختلف، از جمله گره‌های لنفاوی،



شکل ۲- درشت‌خوار در حال بیگانه‌خواری

۱- Metchnikoff (۱۸۴۵-۱۹۱۶)



شکل ۳. نحوه عملکرد یاخته های دندریتی

حضور دارند و با میکروبها مبارزه می کنند.

یکی دیگر از وظایف درشت خوار از بین بردن یاخته های مرده بافتها یا بقایای آنهاست. از سال گذشته به یاد دارید که کبد و طحال گویچه های قرمز مرده را پاکسازی می کنند. می دانید چگونه؟ این کار به وسیله درشت خوارهای این اندامها انجام می شود.

نوع دیگری از بیگانه خوارها یاخته های **دارینه ای** (دندریتی) نام دارد. این یاخته ها را به علت داشتن انشعابات دندریت مانند، به این نام می خوانند. یاخته های دندریتی در بخش هایی از بدن که با محیط بیرون در ارتباط اند، مثل پوست و لوله گوارش، به فراوانی یافت می شوند. این یاخته ها علاوه بر بیگانه خواری، قسمت هایی از میکروب را در سطح خود قرار می دهند. سپس خود را به گره های لنفاوی نزدیک می رسانند، تا این قسمت ها را به یاخته های ایمنی ارائه کنند (شکل ۳). یاخته های ایمنی با شناختن این قسمت ها، میکروب مهاجم را شناسایی خواهند کرد.

بیگانه خوار دیگر **ماستوسیت** نام دارد. ماستوسیتها مانند یاخته های دندریتی در بخش هایی از بدن که با محیط بیرون در ارتباط اند، به فراوانی یافت می شوند. ماستوسیتها ماده ای به نام **هیستامین** دارند. هیستامین رگها را گشاد و نفوذپذیری آنها را زیاد می کند. گشاد شدن رگها باعث افزایش جریان خون و حضور بیشتر گویچه های سفید می شود. نفوذپذیری بیشتر رگها موجب می شود، تا خونابه که حاوی پروتئین های دفاعی است بیش از گذشته به خارج رگ نشت کند.

نوتروفیل، بیگانه خوار دیگری است که از انواع گویچه های سفید است. نوتروفیلها را در بخش گویچه های سفید بررسی می کنیم.

گویچه های سفید

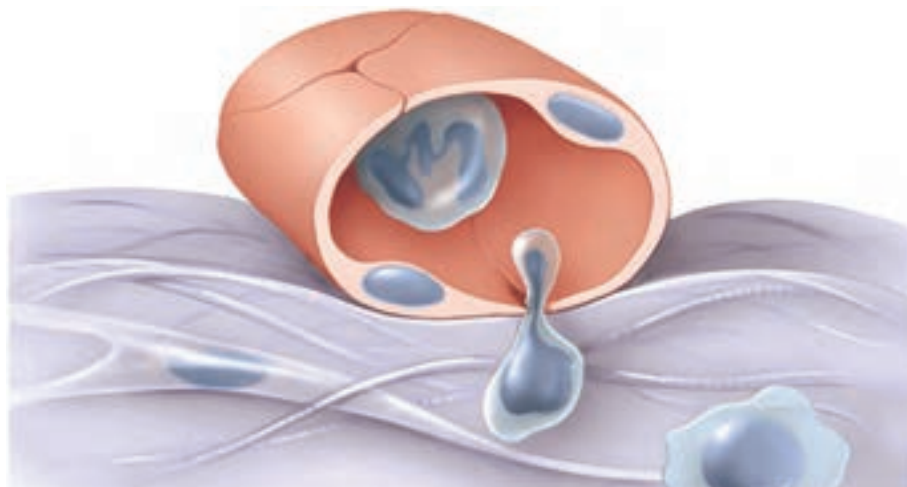
واژه شناسی

تراگذری (diapedesis/دیپدز) دیپدز به معنای از میان چیزی گذشتن است و تراگذری نیز از دو جزء ترا به معنی آن سو (طرف دیگر) و گذر به معنی عبور کردن تشکیل شده است.

یافته های اولیه نشان می دهد که در جریان بیماری های میکروبی، تعداد گویچه های سفید افزایش می یابد و به این ترتیب، نشان داده شد که بین این گویچه ها و میکروبها ارتباط وجود دارد. اما هنوز یک سؤال دیگر باقی مانده بود: گویچه های سفید در خون اند، اما میکروبها همه جا می توانند باشند. گویچه های سفید چگونه با میکروبهای خارج از خون مبارزه می کنند؟ آیا گویچه های سفید می توانند از خون خارج شوند؟

با پیشرفت روش های رنگ آمیزی و کار با میکروسکوپ، دانشمندان به کشفی دست یافتند که می توانست این معما را حل کند. دانشمندان مشاهده کردند که گویچه های سفید نه تنها در خون، بلکه در بافت های دیگر هم یافت می شوند. پس گویچه های سفید، توانایی خروج از خون را دارند. فرایند عبور گویچه های سفید را از دیواره مویرگها، **تراگذری** (دیپدز) می نامند (شکل ۴). تراگذری از ویژگی های همه گویچه های سفید است.

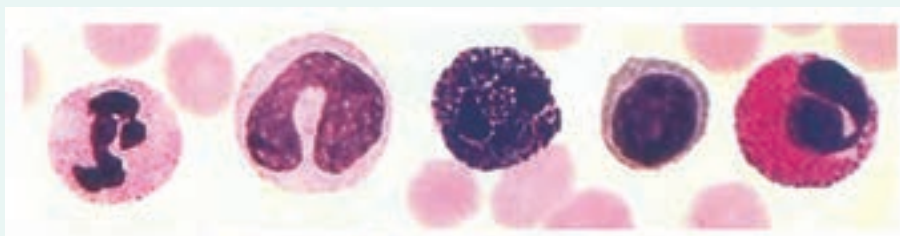
در سال گذشته دانستید گویچه‌های سفید انواع مختلفی دارند و به روش‌های مختلفی مبارزه می‌کنند. در این قسمت آنهایی را بررسی می‌کنیم که در دومین خط دفاعی نقش دارند. سایر گویچه‌های سفید را در قسمت‌های بعدی بررسی خواهیم کرد.



شکل ۴- تراگذاری گویچه سفید

فعالیت ۳

در شکل زیر، انواع گویچه‌های سفید نشان داده شده است (مقیاس گویچه‌ها نسبت به هم رعایت نشده است). با توجه به آنچه که در سال قبل خوانده‌اید:



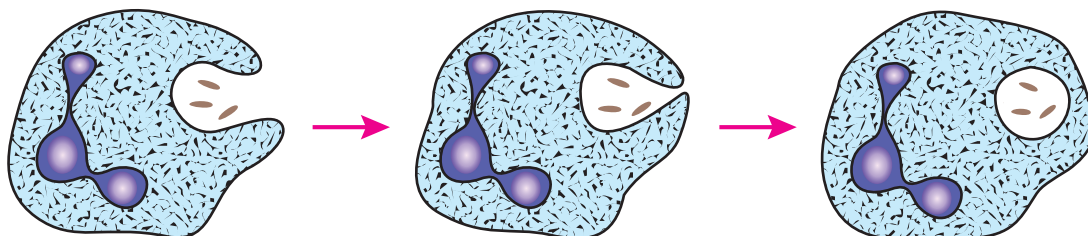
الف) نام هر یک را بیان کنید.

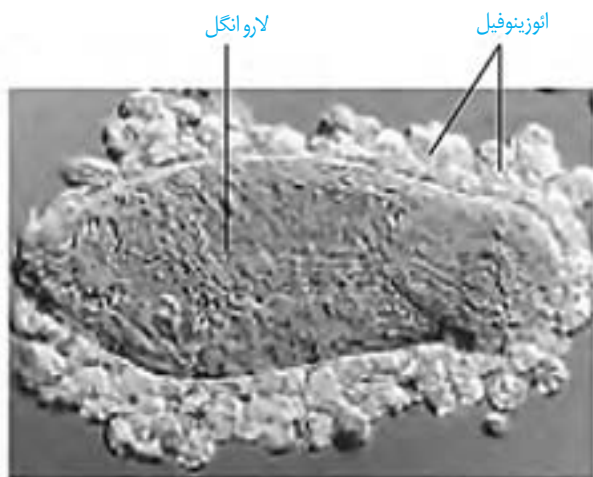
ب) میان‌یاخته در کدام گویچه‌ها دانه دار و در کدام بدون دانه است؟

ج) دانه‌ها از چه چیزی ساخته شده‌اند؟

نوتروفیل‌ها را می‌توان به «نیروهای واکنش سریع» تشبیه کرد. اگر عامل بیماری‌زا در بافت وارد شود، نوتروفیل‌ها با تراگذاری خود را به آنها می‌رسانند و با بیگانه‌خواری آنها را نابود می‌کنند (شکل ۵). نوتروفیل‌ها مواد دفاعی زیادی حمل نمی‌کنند و چابک‌اند.

شکل ۵- بیگانه‌خواری نوتروفیل‌ها





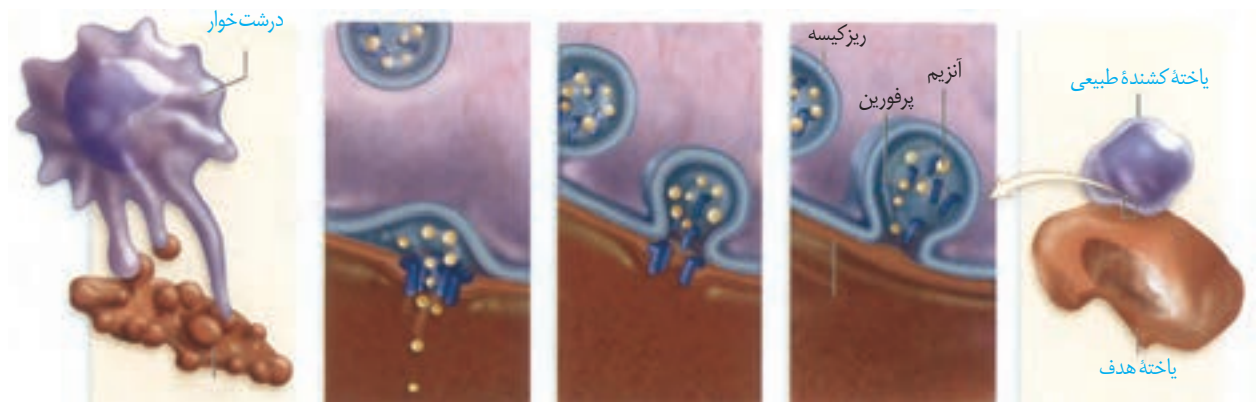
شکل ۶- اوتوزینوفیل‌ها لارو انگل را احاطه کرده‌اند.

همه عوامل بیماری‌زا را نمی‌توان با بیگانه‌خواری از بین برد. در برابر عوامل بیماری‌زای بزرگ‌تری مثل کرم‌های انگل که قابل بیگانه‌خواری نیستند، **اوتوزینوفیل‌ها** مبارزه می‌کنند. اوتوزینوفیل‌ها محتویات دانه‌های خود را به روی انگل می‌ریزند (شکل ۶).

بازوفیل‌ها، به مواد حساسیت‌زا پاسخ می‌دهند. دانه‌های این یاخته‌ها هیستامین و ماده‌ای به نام **هیپارین** دارند. هیپارین ضد انعقاد خون است. **مونوسیت‌ها**، از خون خارج می‌شوند و پس از خروج، تغییر می‌کنند و به **درشت‌خوار** و یا **یاخته‌های دندریتی** تبدیل می‌شوند.

لنفوسیت‌ها انواع مختلفی دارند. لنفوسیتی را که در دفاع غیر اختصاصی نقش دارد، **یاخته‌کشنده طبیعی** می‌نامند که یاخته‌های سرطانی و آلوده به ویروس را نابود می‌کنند. یاخته‌کشنده طبیعی، به یاخته سرطانی متصل می‌شود، با ترشح پروتئینی به نام **پرفورین** منفذی در

غشا ایجاد می‌کند. سپس با وارد کردن آنزیمی به درون یاخته، باعث مرگ برنامه‌ریزی شده یاخته می‌شود (شکل ۷). در یاخته‌ها، برنامه‌ای وجود دارد که در صورت اجرای آن، یاخته می‌میرد. این نوع مرگ را **مرگ برنامه‌ریزی شده** می‌نامند. لنفوسیت‌های دفاع اختصاصی را **لنفوسیت‌های T و B** می‌نامند و کمی بعد با آنها آشنا خواهیم شد.



یاخته مرده توسط درشت‌خوار، بیگانه‌خواری می‌شود.

آنزیم از منافذ عبور کرده، به یاخته وارد می‌شود و باعث مرگ یاخته می‌شود.

پرفورین‌ها، منافذی را در غشا ایجاد می‌کند.

ریزکیسه‌های حاوی پرفورین و مولکول‌های آنزیم، محتویات خود را با برون‌رانی ترشح می‌کنند.

یاخته‌کشنده طبیعی به یاخته هدف متصل می‌شود.

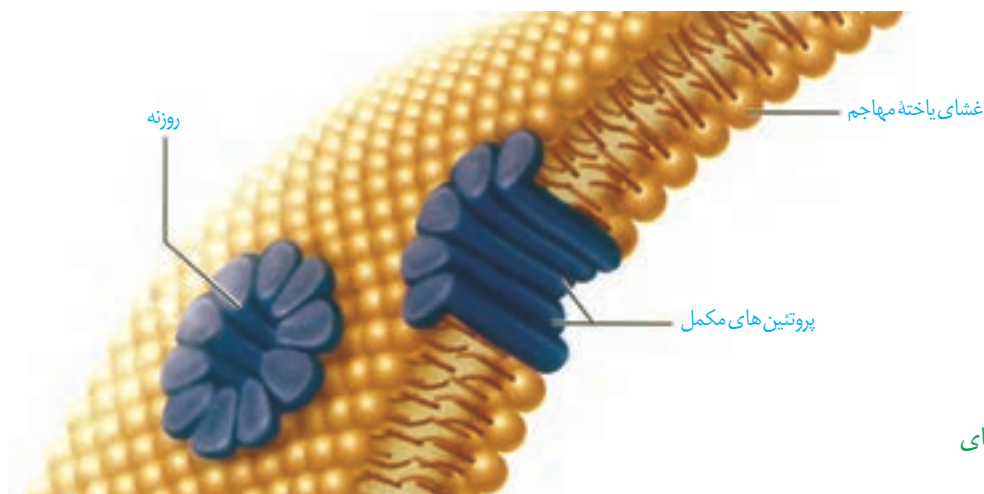
شکل ۷- نحوه عملکرد یاخته‌کشنده طبیعی

یک گسترش آماده خون را با میکروسکوپ مشاهده و انواع گویچه‌های سفید را در آن مشاهده کنید.

فعالیت ۴

پروتئین‌ها

علاوه بر یاخته‌ها، پروتئین‌ها هم در ایمنی بدن نقش دارند. پروتئین‌های مکمل، گروهی از پروتئین‌های خون (محلول در خوناب) اند. این پروتئین‌ها در فرد غیر آلوده به صورت غیرفعال اند، اما اگر میکروبی به بدن نفوذ کند، فعال می‌شوند. واکنش فعال شدن، به این صورت است که وقتی یکی از این پروتئین‌ها فعال می‌شود، دیگری را فعال می‌کند و به همین ترتیب ادامه می‌یابد. پروتئین‌های فعال شده به کمک یکدیگر، ساختارهای حلقه‌مانندی را در غشای میکروب‌ها ایجاد می‌کنند که مشابه یک روزنه عمل می‌کند. این روزنه‌ها عملکرد غشای یاخته‌ای میکروب را در کنترل ورود و خروج مواد از بین می‌برند و سرانجام یاخته بیگانه می‌میرد (شکل ۸). علاوه بر آن، قرارگرفتن پروتئین‌های مکمل روی میکروب، باعث می‌شود که بیگانه‌خواری آن آسان‌تر انجام شود.



شکل ۸- نحوه عملکرد پروتئین‌های مکمل

یکی دیگر از روش‌های دفاع، ترشح پروتئینی به نام **اینترفرون** است. اینترفرون نوع I از یاخته آلوده به ویروس ترشح می‌شود و علاوه بر یاخته آلوده، بر یاخته‌های سالم مجاور هم اثر می‌کند و آنها را در برابر ویروس مقاوم می‌کند. اینترفرون نوع II از یاخته‌های کشنده طبیعی و لنفوسیت‌های T ترشح می‌شود و درشت‌خوارها را فعال می‌کند. این نوع اینترفرون نقش مهمی در مبارزه علیه یاخته‌های سرطانی دارد.

پاسخ التهابی

هر یک از ما به نوعی تجربه زخمی شدن یا بریدگی را داشته‌ایم. در این موارد، پوست آسیب می‌بیند و میکروب‌ها فرصتی برای نفوذ پیدا می‌کنند. قرمزی، تورم، گرما و درد که در موضع آسیب دیده مشاهده می‌شوند، نشانه‌های التهاب اند.

التهاب، پاسخی موضعی است که به دنبال آسیب بافتی بروز می‌کند. این پاسخ به از بین بردن میکروب‌ها، جلوگیری از انتشار میکروب‌ها و تسریع بهبودی می‌انجامد. التهاب چگونه ایجاد می‌شود؟ در التهاب، از ماستوسیت‌های آسیب دیده هیستامین رها می‌شود. به این ترتیب، گویچه‌های

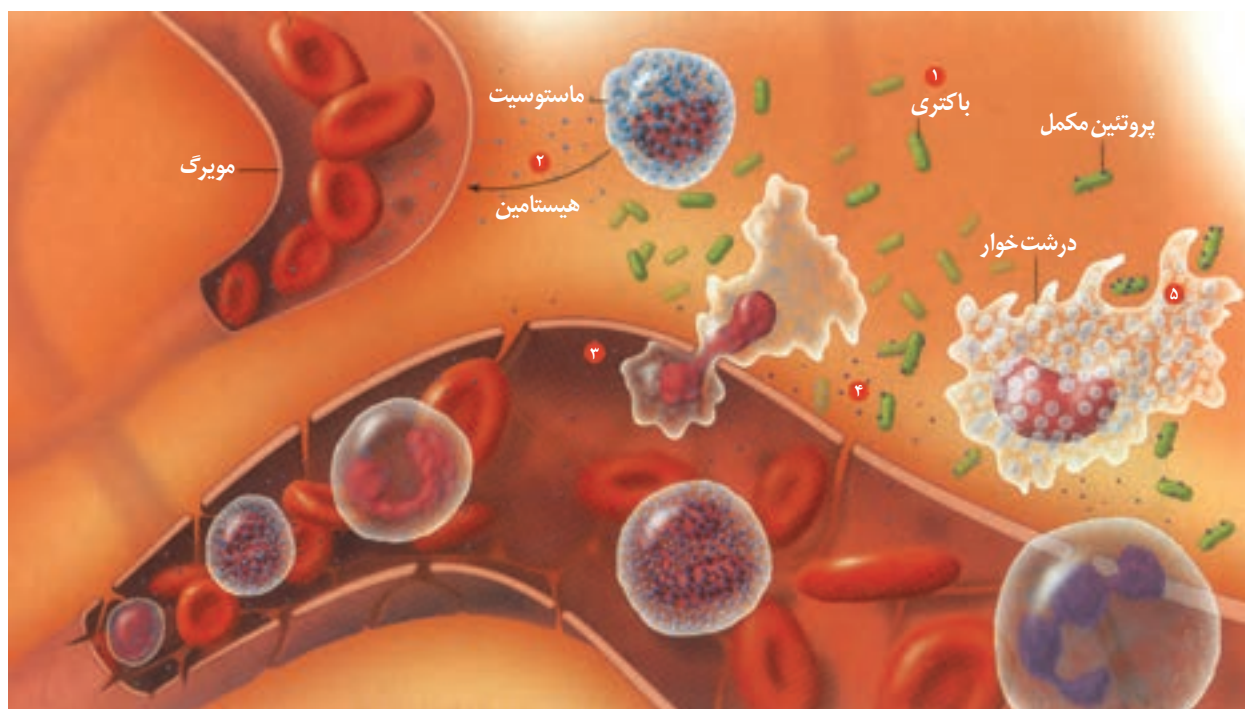
سفید بیشتری به موضع آسیب هدایت می شوند و خوناب بیشتری به بیرون نشت می کند (شکل ۹).
 یاخته‌های دیواره مویرگ‌ها و بیگانه‌خوارهای بافتی با تولید پیک‌های شیمیایی، گویچه‌های
 سفید، خون را به موضع آسیب فرا می‌خوانند.
 نوتروفیل‌ها و مونوسیت‌ها با تراگذاری از خون خارج می‌شوند. نوتروفیل‌ها بیگانه‌خواری می‌کنند
 و مونوسیت‌ها به درشت‌خوار تبدیل می‌شوند.

فعالیت ۵

الف) علت قرمزی، تورم و گرم‌شدگی موضع التهاب را چگونه توضیح می‌دهید؟

ب) خروج خوناب بیشتر در محل التهاب از رگ چه اهمیتی دارد؟

در رابطه با چرک و مواد موجود در آن تحقیق کنید.



شکل ۹- مراحل التهاب:

- ۱- ورود باکتری به بدن
- ۲- ماستوسیت‌ها هیستامین (نقاط آبی) تولید می‌کنند.
- ۳- نوتروفیل‌ها و مونوسیت‌ها از مویرگ خارج می‌شوند.
- ۴- پروتئین مکمل، فعال شده به غشای باکتری متصل می‌شوند.
- ۵- درشت‌خوارهای بافتی ضمن تولید پیک شیمیایی باکتری‌ها را بیگانه‌خواری می‌کنند.

تب

یکی از نشانه‌های بیماری‌های میکروبی، تب است. فعالیت میکروب‌ها در دماهای بالا کاهش می‌یابد، با ورود میکروب به بدن، بعضی از ترشحات آنها از طریق خون به بخشی از زیرنهنج (هیپوتالاموس) می‌رسد و دمای بدن را بالا می‌برد.

فعالیت ۶

الف) تب چگونه بر فعالیت میکروب‌ها اثر می‌گذارد؟

ب) چرا تب‌های شدید خطرناک‌اند؟

دفاع اختصاصی چنانکه از نام آن بر می آید به نوع عامل بیگانه بستگی دارد و تنها بر همان عامل مؤثر است. به عنوان مثال، پاسخی که علیه میکروب کزاز ایجاد می شود بر سایر میکروبها اثری ندارد. چگونه عامل غیر خودی به طور اختصاصی شناسایی می شود؟ این وظیفه برعهده لنفوسیتها است.

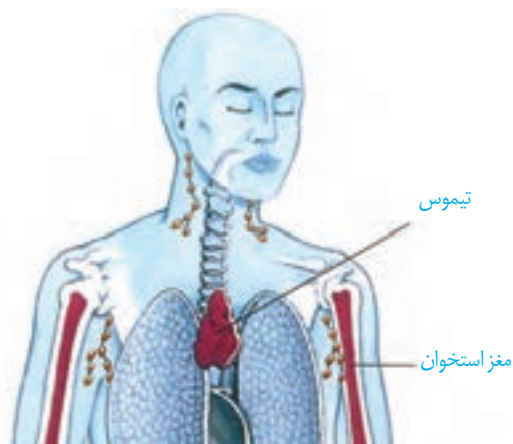
لنفوسیتها و شناسایی آنتی ژن

دفاع اختصاصی به وسیله لنفوسیتهای B و T انجام می شود. هر دو نوع لنفوسیت در مغز استخوان تولید می شوند و در ابتدا نابالغاند؛ یعنی توانایی شناسایی عامل بیگانه را ندارند. لنفوسیتهای B در همان مغز استخوان اما لنفوسیتهای T در تیموس بالغ می شوند و به این ترتیب، توانایی شناسایی عامل بیگانه را به دست می آورند (شکل ۱۰). تیموس در دوران نوزادی و کودکی فعالیت زیادی دارد اما به تدریج از فعالیت آن کاسته می شود و اندازه آن تحلیل می رود.

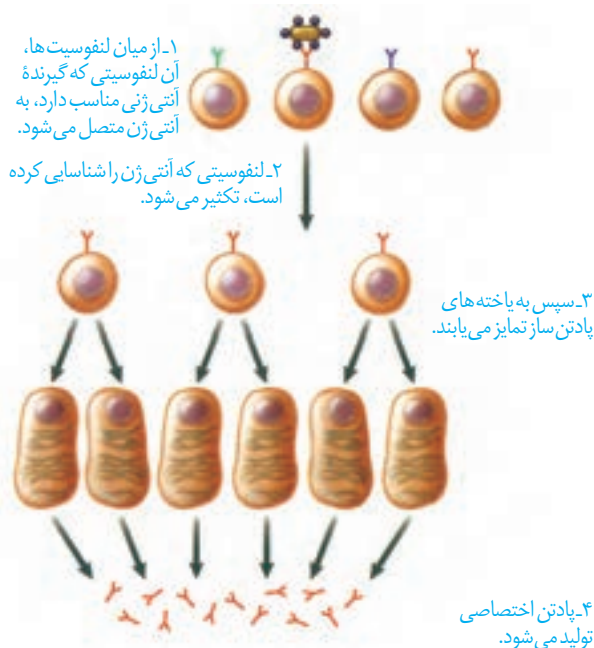
مولکولهایی که این لنفوسیتها شناسایی می کنند، **پادگن (آنتی ژن)** نام دارد. لنفوسیتها چگونه آنتی ژن را شناسایی می کنند؟ هر لنفوسیت B یا T در سطح خود، گیرندههای آنتی ژن دارد که همگی از یک نوع اند. هر گیرنده اختصاصی عمل می کند؛ یعنی فقط می تواند به یک نوع آنتی ژن متصل شود و به این ترتیب، آنتی ژن شناسایی می شود.

نحوه عملکرد لنفوسیت B

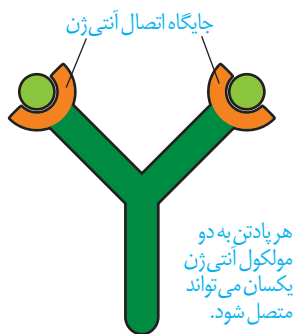
لنفوسیت B آنتی ژن سطح میکروبها یا ذرات محلول مثل سم میکروبها را شناسایی می کند. از میان لنفوسیتهای با گیرندههای مختلف، آن لنفوسیتی که توانسته است آنتی ژن را شناسایی کند به سرعت تکثیر می شود و یاختههایی به نام **پادتن ساز (پلاسموسیت)** را پدید می آورد (شکل ۱۱). یاخته پادتن ساز پادتن ترشح می کند. پادتن همراه مایعات بین یاخته ای، خون و لنف به گردش در می آید و هر جا با میکروب یا آنتی ژنهای محلول برخورد کرد آن را نابود، یا بی اثر می سازد.



شکل ۱۰- محل بلوغ لنفوسیتها



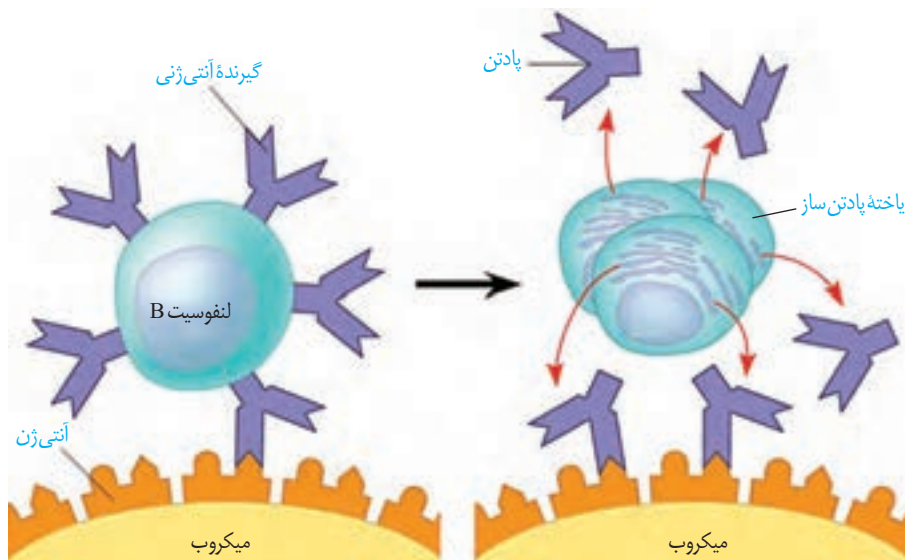
شکل ۱۱- نحوه عملکرد لنفوسیت B



شکل ۱۲- مولکول پادتن

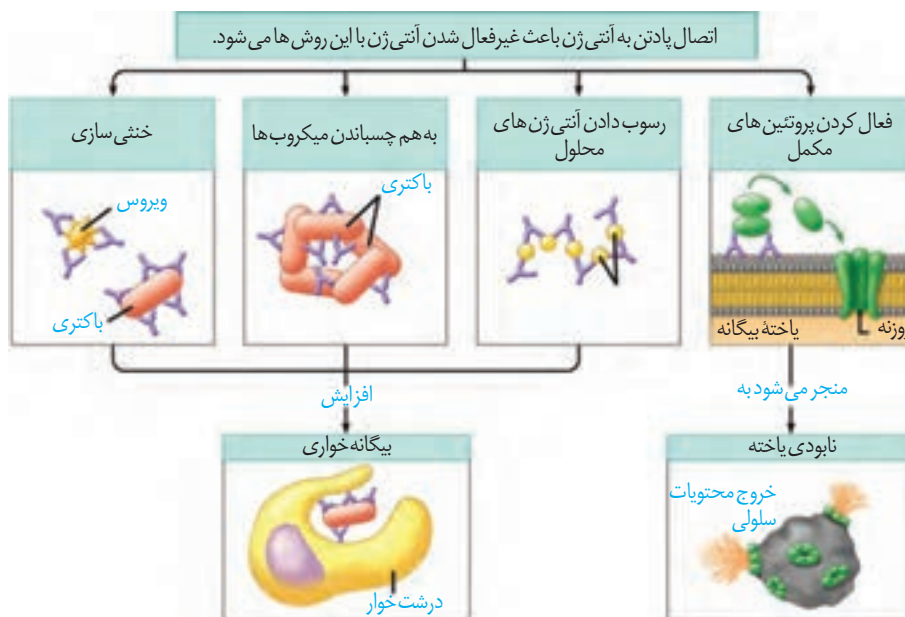
پادتن ها مولکول هایی Y شکل و از جنس پروتئین اند. هر پادتن دو جایگاه برای اتصال به پادگن (آنتی ژن) دارد (شکل ۱۲).

پادتن ها بر دو نوع اند. یک نوع از آنها به غشای لنفوسیت B متصل است و نقش گیرنده آنتی ژن را دارد. نوع دیگر، ترشحی است. هر لنفوسیت B می تواند پادتنی مشابه با گیرنده خود ترشح کند (شکل ۱۳).



شکل ۱۳- هر لنفوسیت فقط یک نوع گیرنده دارد که پس از تبدیل به پادتن ساز پادتنی مشابه با گیرنده خود را ساخته و ترشح می کند.

پادتن آنتی ژن را با روش هایی که در شکل ۱۴ نشان داده شده است، بی اثر یا نابود می کند. از پادتن ها می توان به عنوان دارو نیز استفاده کرد. پادتن آماده را سرم می نامند. به عنوان مثال، در زخم های شدید، که احتمال فعالیت باکتری کزاز وجود دارد، از سرم ضد کزاز استفاده می شود. همچنین پادزهر سم مار که بعد از مارگزیدگی استفاده می شود، حاوی پادتن هایی است که سم مار را خنثی می کنند.



شکل ۱۴- نحوه عملکرد پادتن

نحوه عملکرد لنفوسیت T

لنفوسیت T، یاخته‌های خودی را که تغییر کرده‌اند، مثلاً سرطانی یا آلوده به ویروس شده است را نابود می‌کند. همچنین به یاخته‌های بخش پیوند شده حمله می‌کند. لنفوسیت T پس از شناسایی آنتی‌ژن تکثیر می‌شود و لنفوسیت‌های T کشنده را پدید می‌آورد. لنفوسیت‌های T کشنده به یاخته هدف متصل می‌شوند و با ترشح پرفورین و آنزیم «مرگ برنامه‌ریزی شده» را به راه می‌اندازند.

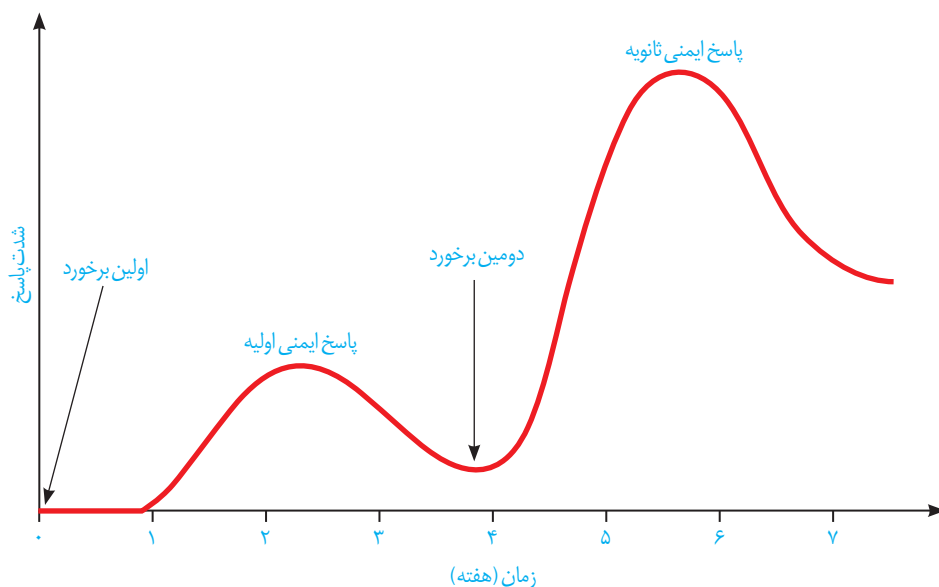
فعالیت ۷

آنفلوآنزای پرندگان را ویروسی پدید می‌آورد که می‌تواند سایر گونه‌ها، از جمله انسان را نیز آلوده کند. این ویروس به شش‌ها حمله می‌کند و سبب می‌شود دستگاه ایمنی بیش از حد معمول فعالیت کند. بدین ترتیب، به تولید آنبوه و بیش از اندازه لنفوسیت‌های T می‌انجامد.

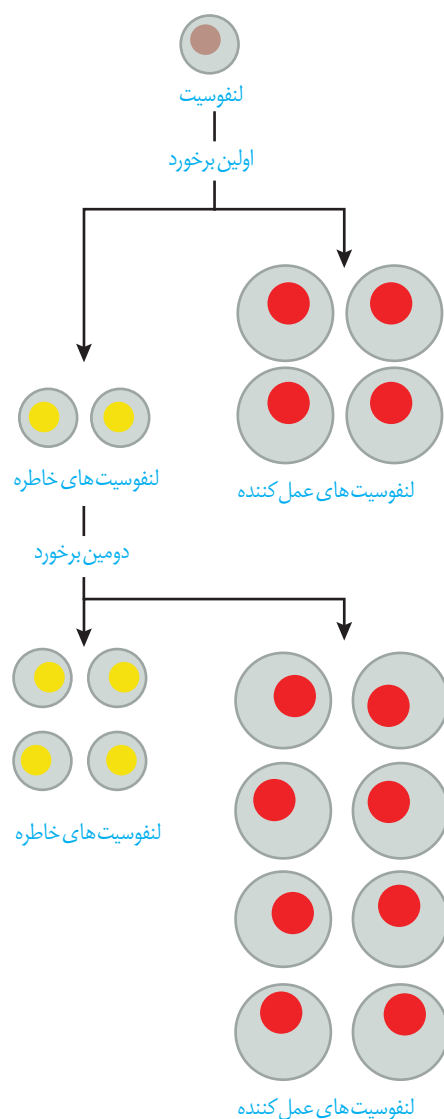
الف) علت مرگ بر اثر آلودگی با این ویروس را چگونه توجیه می‌کنید؟
ب) چه راهی را برای کنترل این بیماری در جمعیت‌ها پیشنهاد می‌کنید؟

پاسخ اولیه و ثانویه در ایمنی اختصاصی

دفاع اختصاصی، فرایندی است که برای شناسایی آنتی‌ژن و تکثیر لنفوسیت‌ها به زمان نیاز دارد. از این رو، برخلاف دفاع غیر اختصاصی، دفاع سریعی نیست. اما اگر آنتی‌ژنی که قبلاً به بدن وارد شده است دوباره به بدن وارد شود، پاسخ دفاع اختصاصی نسبت به قبل سریع‌تر و قوی‌تر است (شکل ۱۵)؛ چرا؟



شکل ۱۵- پاسخ اولیه و ثانویه



شکل ۱۶. لنفوسیت‌های خاطره

دستگاه ایمنی دارای «حافظه» است؛ یعنی وقتی با آنتی‌ژنی برخورد کند، خاطره آن برخورد را نگه خواهد داشت. به این ترتیب، آنتی‌ژنی که برای دفعات بعدی به بدن وارد می‌شود سریع‌تر شناسایی می‌شود. اما چگونه؟

وقتی لنفوسیت، آنتی‌ژنی را شناسایی می‌کند تکثیر می‌شود و علاوه بر لنفوسیت‌های عمل‌کننده (پادتن‌ساز یا T کشنده) یاخته‌های دیگری به نام لنفوسیت‌های خاطره پدید می‌آید که تا مدت‌ها در خون باقی می‌مانند (شکل ۱۶).

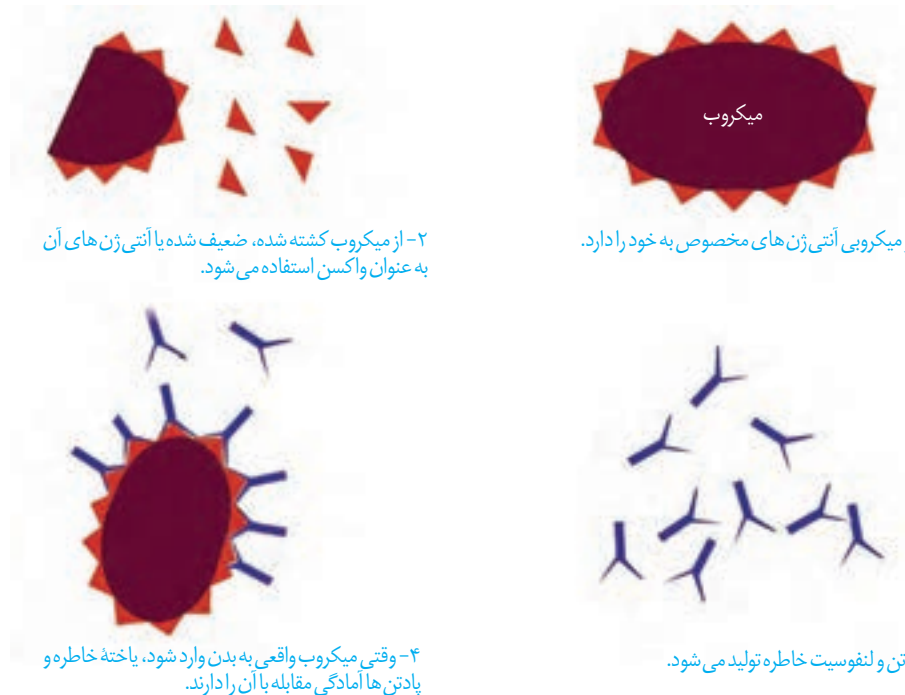
وجود تعداد زیادی لنفوسیت خاطره در خون، باعث می‌شود تشخیص آنتی‌ژن سریع‌تر صورت پذیرد و برای برخوردهای بعدی، تعداد بیشتری لنفوسیت خاطره پدید آید.

علت شدیدتر بودن پاسخ ایمنی در برخورد دوم نسبت به برخورد اول چیست؟

فعالیت ۸

از خاصیت حافظه‌دار بودن دفاع اختصاصی، در واکسیناسیون استفاده می‌شود. کافی است یک بار میکروب را در شرایط کنترل شده به دستگاه ایمنی معرفی کنیم و به این طریق یاخته‌های خاطره را پدید آوریم. بدین ترتیب، اگر دوباره همان میکروب به بدن وارد شود، قبل از آنکه فرصت عمل پیدا کند، دستگاه ایمنی آن را از پای در می‌آورد.

واکسن، میکروب ضعیف شده، کشته شده، آنتی‌ژن میکروب یا سم خنثی شده آن است که با وارد کردن آن به بدن، یاخته‌های خاطره پدید می‌آید (شکل ۱۷). به همین علت، ایمنی حاصل از واکسن را ایمنی فعال می‌نامند. در مقابل، ایمنی حاصل از سرم ایمنی، غیر فعال است چون پادتن در بدن تولید نشده و یاخته خاطره‌ای نیز پدید نیامده است.



۱- هر میکروبی آنتی‌ژن‌های مخصوص به خود را دارد.

۲- از میکروب کشته شده، ضعیف شده یا آنتی‌ژن‌های آن به عنوان واکسن استفاده می‌شود.

۳- پادتن و لنفوسیت‌های خاخره تولید می‌شود.

۴- وقتی میکروب واقعی به بدن وارد شود، یاخته خاخره و پادتن‌ها آمادگی مقابله با آن را دارند.

شکل ۱۷- نحوه عملکرد واکسن

فعالیت ۹

الف) کودکان ایرانی چه واکسن‌هایی را دریافت می‌کنند؟ در چه زمانی؟
ب) چرا بعضی از واکسن‌ها را باید تکرار کرد؟

ایدز، نگاهی دقیق‌تر به ایمنی اختصاصی

نقص ایمنی اکتسابی که به اختصار **ایدز (AIDS)** نامیده می‌شود، نوعی بیماری است که عامل آن ویروس است. ویروس این بیماری **HIV** نام دارد. در این بیماری عملکرد دستگاه ایمنی فرد، دچار نقص می‌شود. به همین دلیل حتی ابتلا به کم‌خطرترین بیماری‌های واگیر ممکن است به مرگ منجر شود.

ویروس ایدز پس از ورود به بدن ممکن است بین ۶ ماه تا ۱۵ سال نهفته باقی بماند و بیماری ایجاد نکند. چنین فردی آلوده به HIV است، اما بیمار نیست و هیچ علامتی از ایدز را ندارد. تنها راه تشخیص آن، انجام آزمایش پزشکی است. فرد آلوده یا بیمار می‌تواند این ویروس را به دیگران منتقل کند. به این ترتیب، باعث انتشار ویروس شود.

HIV از طریق رابطه جنسی، خون و فرآورده‌های خونی آلوده و نیز استفاده از هر نوع اشیای تیز و برنده‌ای که به خون آلوده به ویروس آغشته باشد (مثل استفاده از سرنگ یا تیغ مشترک، خالکوبی و سوراخ کردن گوش با سوزن مشترک) و مایعات بدن منتقل می‌شود. مادری که آلوده به HIV است می‌تواند در جریان بارداری، زایمان و شیردهی، ویروس را به فرزند خود منتقل کند. دست دادن، روبوسی، نیش حشرات، آب و غذا، این ویروس را منتقل نمی‌کند. انتقال ویروس از طریق ترشحات بینی، بزاق، خلط، عرق و اشک، یا از طریق ادرار و مدفوع ثابت نشده است. تاکنون درمانی قطعی

بیشتر بدانید

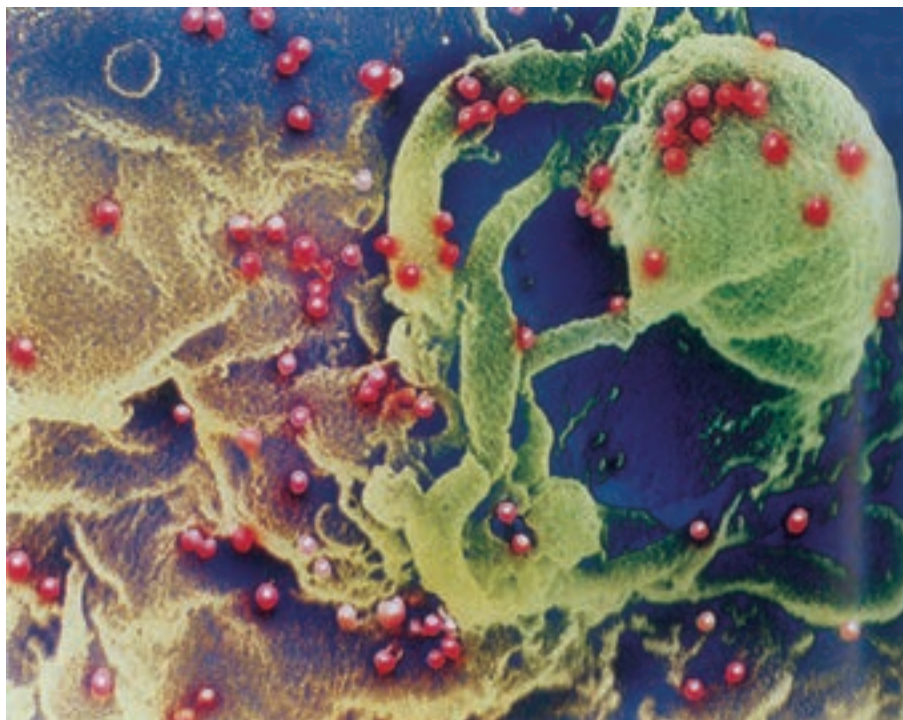
تنها راه آگاهی از آلودگی به ویروس ایدز آزمایش است و هیچ علامتی را نمی‌توان برای آلوده بودن در نظر گرفت. آزمایش ایدز به روش‌های مختلفی صورت می‌گیرد. اگر جواب آزمایش‌های اولیه، وجود ویروس را نشان دهد، از آزمایش‌های تکمیلی برای تأیید آن استفاده می‌شود. آزمایش اولیه بر مبنای سنجش پادتنی است که علیه ویروس تولید می‌شود. بنابراین، زمانی این آزمایش انجام می‌شود که پادتن ساخته شده باشد. حداقل دو هفته طول می‌کشد تا مقدار پادتن به اندازه قابل سنجش برسد.

بر مبنای روش آزمایش و دقت آن می‌توان سه هفته بعد از زمانی که احتمال آلودگی می‌رود نسبت به انجام آزمایش اقدام کرد. اما چون ممکن است در این مدت بدن هنوز به اندازه کافی پادتن نساخته باشد؛ لذا این آزمایش باید ۳ و ۶ ماه بعد دوباره انجام شود.

آزمایش ایدز در شمار آزمایش‌های رایج نیست. بنابراین، فرد باید به‌طور مشخص این آزمایش را درخواست کند. انجام این آزمایش در مراکز مشاوره بیماری‌های رفتاری (ایدز) رایگان و نتیجه آن محرمانه است.

برای ایدز یافت نشده است و بهترین راه مقابله با آن، پیشگیری و افزایش آگاهی عمومی است.

دستگاه ایمنی چگونه در ایدز آسیب می‌بیند؟ زیست‌شناسان دریافته‌اند که علت بیماری ایدز، حمله ویروس به لنفوسیت‌های T و از پای درآوردن آنهاست (شکل ۱۸). این مشاهده بلافاصله پرسشی را مطرح می‌کند: چرا از بین رفتن لنفوسیت‌های T به تضعیف کل دستگاه ایمنی، حتی لنفوسیت‌های B می‌انجامد؟ فعالیت لنفوسیت T چه ارتباطی با لنفوسیت B دارد؟



شکل ۱۸- HIV ویروس مسبب ایدز. در این شکل، ویروس با رنگ قرمز نشان داده شده است. ویروس‌ها در حال آزاد شدن از یاخته آلوده‌اند. این ویروس چنان ریز است که نزدیک به ۲۰۰ میلیون عدد از آنها را می‌توان در نقطه پایان این جمله جای داد.

پاسخ به این سؤال، به درک مدل دقیق‌تری از نحوه عمل دستگاه ایمنی انجامید. مشاهدات بیشتر نشان داد که HIV نه به همه لنفوسیت‌های T، بلکه به نوع خاصی از آنها حمله می‌کند. در واقع فعالیت لنفوسیت‌های B و دیگر لنفوسیت‌های T به کمک این نوع خاص انجام می‌شود؛ لذا آن را **لنفوسیت T کمک کننده** نامیدند. ویروس با از بین بردن این لنفوسیت‌ها، عملکرد لنفوسیت‌های B و T و در نتیجه سیستم ایمنی را مختل می‌کند.

حساسیت

دستگاه ایمنی به همه مواد خارجی پاسخ نمی‌دهد. مثلاً دستگاه ایمنی به حضور میکروب‌های مفید در دستگاه گوارش پاسخ نمی‌دهد. به عدم پاسخ دستگاه ایمنی در برابر عامل‌های خارجی **تحمل**

بیماری MS

عوامل مسبب بیماری MS هنوز به طور قطع مشخص نیستند. علائم این بیماری متفاوت است اما غالباً با اختلالات دید (تاری و دو بینی) و اختلالات حسی و حرکتی (مثل اختلال در راه رفتن) همراه است.

ایمنی می گویند.

در اطراف ما مواد گوناگونی وجود دارد که بی خطرند و دستگاه ایمنی نسبت به آنها تحمل دارد. اما در فردی ممکن است دستگاه ایمنی به این مواد بی خطر واکنش نشان دهد و پاسخ ایمنی ایجاد شود. در چنین حالتی می گوئیم که این فرد نسبت به آن ماده حساسیت دارد. ماده ای را که باعث حساسیت شده است، حساسیت‌زا می نامند. پاسخ دستگاه ایمنی به ماده حساسیت‌زا، ترشح هیستامین از ماستوسیت‌ها و بازوفیل‌هاست. در نتیجه ترشح هیستامین علائم شایع حساسیت مثل قرمزی و آبریزش از بینی ایجاد می شود.

بیماری‌های خود ایمنی

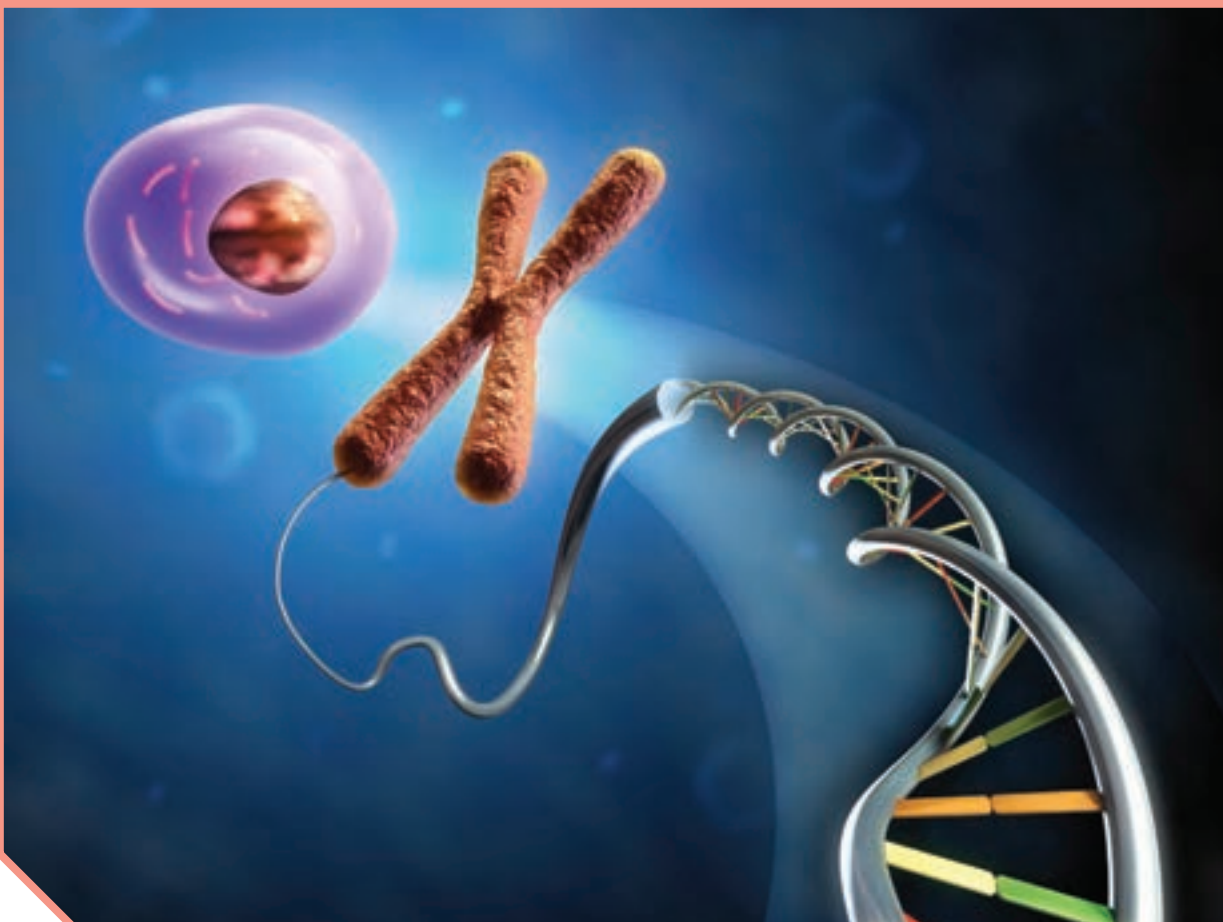
گاهی دستگاه ایمنی یاخته‌های خودی را به عنوان غیر خودی شناسایی و به آنها حمله می کند و باعث بیماری می شود. به این نوع بیماری‌ها، بیماری خود ایمنی می گویند. دیابت نوع I، مثالی از بیماری خود ایمنی است. در این بیماری، دستگاه ایمنی به یاخته‌های تولیدکننده انسولین حمله می کند و آنها را از بین می برد.

مالتیپل اسکلروزیس یا MS بیماری خود ایمنی دیگری است که در آن میلین اطراف یاخته‌های عصبی در مغز و نخاع مورد حمله دستگاه ایمنی قرار می گیرد و در قسمت‌هایی از بین می رود. بدین ترتیب، در ارتباط دستگاه عصبی مرکزی با بقیه بدن اختلال ایجاد می شود.

ایمنی در جانوران

همه جانوران ایمنی غیر اختصاصی دارند، اما ایمنی اختصاصی اساساً در مهره داران دیده می شود. با وجود این، ساز و کارهایی در بی مهرگان یافت شده است که مشابه ایمنی اختصاصی عمل می کنند. به عنوان مثال، در مگس میوه، مولکولی کشف شده است که می تواند به صدها شکل مختلف درآید و آنتی ژن‌های مختلفی را شناسایی کند.

مطالعات دانشمندان درباره دستگاه ایمنی بی مهرگان در سال‌های اخیر، شباهت‌های بیشتری با مهره داران را نشان داده است. این گونه مطالعات ما را در درک بهتر نحوه پیدایش ایمنی اختصاصی یاری خواهد کرد.

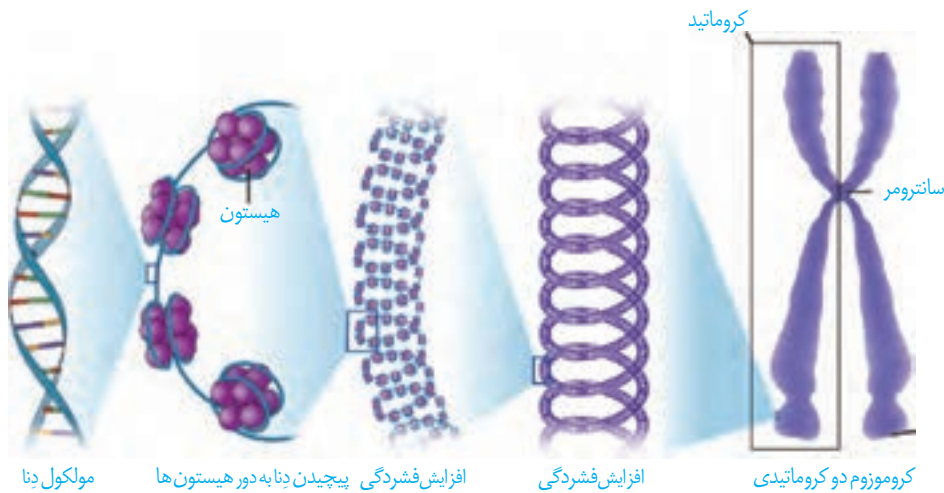


فصل ۶

تقسیم یاخته

زندگی انسان، با تشکیل یاخته‌ای به نام تخم آغاز می‌شود و پس از چند ماه به نوزادی با میلیاردها یاخته تبدیل می‌شود. روند افزایش یاخته‌ها حتی بعد از این هم ادامه می‌یابد، به طوری که تعداد یاخته‌ها در بدن یک فرد بالغ به صدها میلیارد می‌رسد. این افزایش شگفت‌انگیز با تقسیمات پیاپی یاخته‌ها صورت می‌پذیرد. با توجه به مطالبی که در سال‌های گذشته فراگرفتید، چه انواعی از تقسیم در بدن یک فرد بالغ را می‌شناسید؟ هر نوع از این تقسیم‌ها در چه نوع یاخته‌هایی، انجام می‌شود؟ نتیجه هر نوع از تقسیم چیست؟ آیا همه یاخته‌های بدن، تقسیم می‌شوند؟

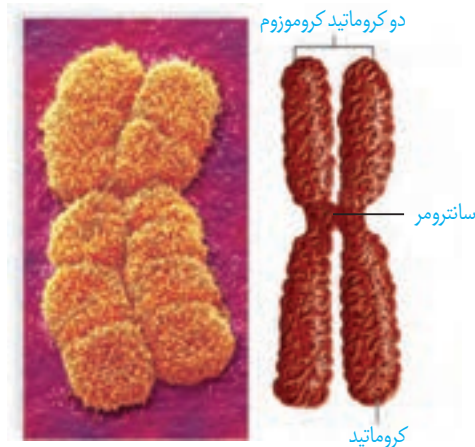
همان طور که می‌دانید کروموزوم فام‌تن از دنا (DNA) و پروتئین تشکیل شده‌است. به شکل ۱ توجه کنید. زمانی که یاخته در حال تقسیم نیست، فشردگی کروموزوم‌های هسته، کمتر و به صورت توده‌ای از رشته‌های درهم است که به آن، **فامینه (کروماتین)** می‌گویند. هر رشته کروماتین از واحدهای تکراری به نام **هسته‌تن (نوکلئوزوم)** تشکیل می‌شود که در آن، مولکول «دنا» حدود ۲ دور در اطراف ۸ مولکول پروتئینی به نام **هیستون** پیچیده است. ماده وراثتی هسته در تمام مراحل زندگی یاخته، به جز تقسیم، به صورت کروماتین است. پیش از تقسیم یاخته، رشته‌های کروماتینی دو برابر می‌شوند و در حین تقسیم یاخته فشرده می‌شوند. (شکل ۱).



شکل ۱- مراحل فشرده‌شدن کروموزوم

اجزای کروموزوم:

شکل ۲، تصویر یک کروموزوم را در حداکثر فشردگی نشان می‌دهد. همان طور که در این شکل مشاهده می‌شود، این کروموزوم از دو بخش همانند به نام **فامینک (کروماتید)** تشکیل شده است. به این کروموزوم‌ها، کروموزوم‌های **مضاعف شده** می‌گویند. کروماتیدهای هر کروموزوم مضاعف از نظر نوع ژن‌ها یکسان‌اند و به آنها کروماتیدهای **خواهری** گفته می‌شود. کروماتیدهای خواهری در محلی به نام **سانترومر** به هم متصل‌اند.



شکل ۲- ساختار یک کروموزوم دوکروماتیدی

تعداد کروموزوم

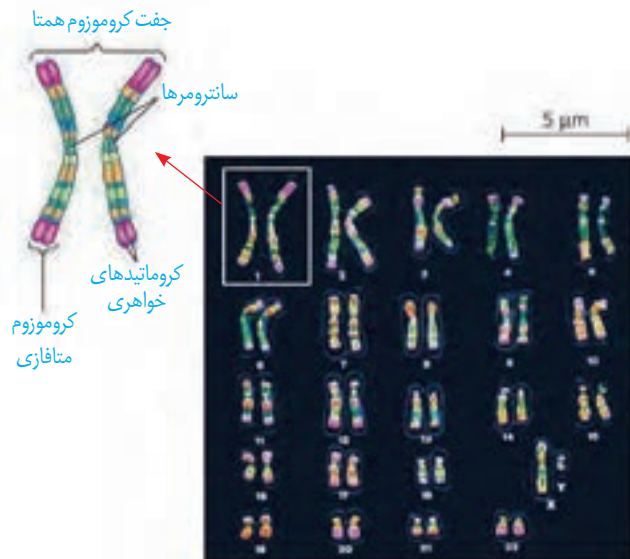
واژه‌شناسی

فامینه (chromatin/کروماتین)
فامینک (chromatid/کروماتید)
فامتن (chromosome/کروموزوم)
فام و کروم هر دو به معنای رنگ هستند که در کلمات متفاوتی به کار رفته، وقتی به صورت توده رنگ‌پذیر دیده می‌شوند فامینه، به صورت اجسام رنگ‌پذیر فامتن و جزء کوچکتر اینها همراه با پسوند صغیر (ک) به کار رفته و فامینک خوانده می‌شود.

هرگونه از جانداران، تعداد معینی کروموزوم در یاخته‌های پیکری خود دارند که به آن **عدد کروموزومی** می‌گویند. یاخته‌های پیکری، همان یاخته‌های غیرجنسی جاندارند. ممکن است تعداد کروموزوم یاخته‌های پیکری بعضی از جانداران مانند هم باشد؛ مثلاً در یاخته‌های پیکری انسان و درخت زیتون ۴۶ کروموزوم وجود دارد، ولی به طور مسلّم ژن‌های آنها بسیار متفاوت‌اند. تعداد کروموزوم‌های جانداران مختلف (به جز باکتری‌ها) از ۲ تا بیش از ۱۰۰۰ عدد متغیر است.

یاخته‌های پیکری انسان، دولاد (دیپلوئید) هستند

برای تعیین تعداد کروموزوم‌ها و تشخیص بعضی از ناهنجاری‌های کروموزومی، **کاریوتیپ** تهیه می‌شود. کاریوتیپ تصویری از کروموزوم‌ها با حداکثر فشردگی است که براساس اندازه، شکل، محتوای ژنی و محل قرارگیری سانترومرها، مرتب و شماره‌گذاری شده‌اند (شکل ۳).



شکل ۳- کاریوتیپ انسان

بیشتر بدانید

جدول ۱- عدد کروموزومی برخی جانداران

نام جاندار	تعداد کروموزوم
مگس خانگی	۱۲
ذرت	۲۰
گوجه فرنگی	۲۴
زرافه	۳۰
گره‌به	۳۸
موش	۴۰
انسان	۴۶
شامپانزه	۴۸
سیب‌زمینی	۴۸
اسب	۶۴
سگ	۷۸
نوعی سرخس	۱۲۶۰

با توجه به جدول آیا بین ساده و پیچیده بودن جاندار و تعداد کروموزوم‌ها می‌تواند ارتباطی وجود داشته باشد؟

با بررسی کاریوتیپ انسان، مشاهده می‌شود که هر کروموزوم دارای یک کروموزوم شبیه خود است که به این کروموزوم‌ها، **همتا** گفته می‌شود. به جاندارانی که یاخته‌های پیکری آنها از هر کروموزوم ۲ نسخه داشته باشند، **دیپلوئید** می‌گویند. در این یاخته‌ها، دو مجموعه کروموزوم وجود دارد که دو به دو به یکدیگر شبیه‌اند. در این یاخته‌ها، یک مجموعه کروموزوم از والد مادری و یک مجموعه از والد پدری دریافت شده است. این یاخته‌ها را با نماد کلی « $2n$ » نشان می‌دهند.

در انسان و بعضی جانداران، کروموزوم‌هایی وجود دارند که در تعیین جنسیت نقش دارند. به این کروموزوم‌ها، کروموزوم جنسی گفته می‌شود. کروموزوم‌های جنسی ممکن است شبیه هم نباشند. نمونه این کروموزوم‌ها را در کاریوتیپ شکل ۳ مشاهده می‌کنید. کروموزوم‌های جنسی در انسان را با نماد X و Y نشان می‌دهند. هسته یاخته‌های پیکری زنان دو کروموزوم X و مردان یک کروموزوم X و یک کروموزوم Y دارند.

۱- Homologous

واژه‌شناسی

پیش‌چهر (prophase/پروفاز)
پس‌چهر (metaphase/متافاز)
میان‌چهر (interphase/اینترفاز)
و...

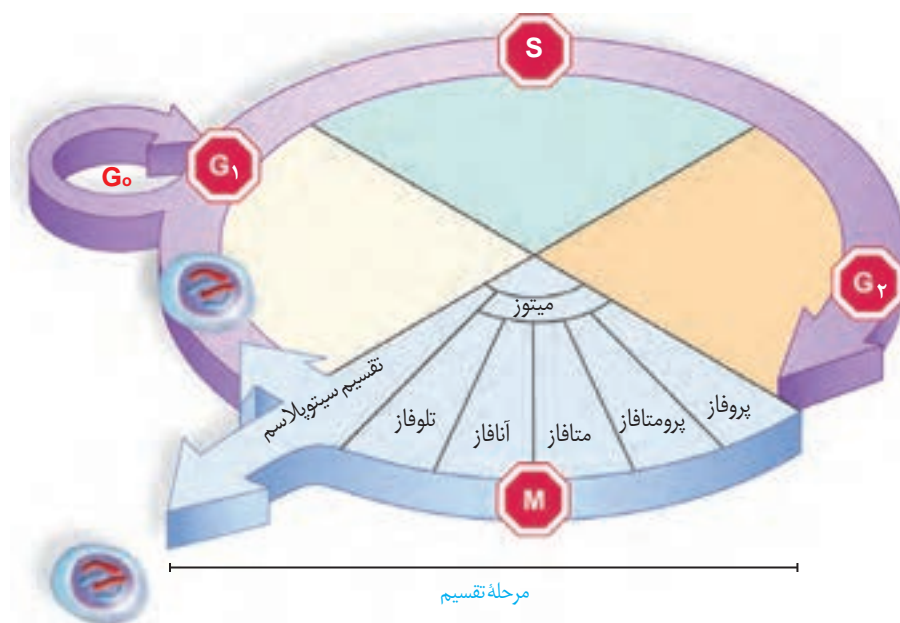
phase در انگلیسی به معنی مرحله است و از نظر ریشه‌شناسی به شکل‌های مختلف ماه از هلال تا بدر برمی‌گردد، و در اصل به معنی ظاهر، نما و جلوه می‌باشد. از آنجایی که در هر مرحله از تقسیم یاخته به‌ظهور نماهای متفاوتی در زیر میکروسکوپ منجر می‌شود معادل چهر که مجازاً معنی مرحله را می‌دهد برای آن انتخاب شده است. در عین حال از پیشوندهای پیش، پس، پسین و واپسین، نیز استفاده شده که تقدم و تأخر مراحل نشان داده شود.

پسین = پس‌تر
واپسین = آخرین

بعضی یاخته‌ها مانند یاخته جنسی انسان، تک‌لاد (هاپلوئید) هستند؛ یعنی یک مجموعه کروموزوم دارند. یاخته‌های هاپلوئید را با نماد کلی «n» نشان می‌دهند. «n» تعداد کروموزوم‌های یک مجموعه است؛ مثلاً در انسان $n=23$ است. در یک مجموعه کروموزومی، هیچ کروموزومی با کروموزوم دیگر هم‌تا نیست.

چرخه یاخته‌ای

مراحلی که یک یاخته از پایان یک تقسیم تا پایان تقسیم بعدی می‌گذراند را چرخه یاخته‌ای می‌گویند. این چرخه، شامل مراحل میان‌چهر (اینترفاز) و تقسیم است. در یاخته‌های مختلف، مدت این مراحل متفاوت است (شکل ۴).



شکل ۴- مراحل مختلف چرخه یاخته

اینترفاز:

یاخته‌ها بیشتر مدت زندگی خود را در این مرحله می‌گذرانند. کارهایی مانند رشد، ساخت مواد مورد نیاز و انجام کارهای معمول یاخته در این مرحله انجام می‌شود. اینترفاز شامل مراحل «G₁»، «S» و «G₂» است.

مرحله وقفه اول یا «G₁»: مرحله رشد یاخته‌هاست و یاخته‌ها مدت زمان زیادی در این مرحله می‌مانند. یاخته‌هایی که به‌طور موقت یا دائمی تقسیم نمی‌شوند، معمولاً در این مرحله متوقف می‌شوند. این یاخته‌ها به‌طور موقت یا دائم به مرحله‌ای به نام G₀ وارد می‌شوند. نورون نمونه این یاخته‌هاست.

مرحله «S»: دوبرابر شدن دِنای (DNA) هسته، در این مرحله انجام می‌شود که نتیجه

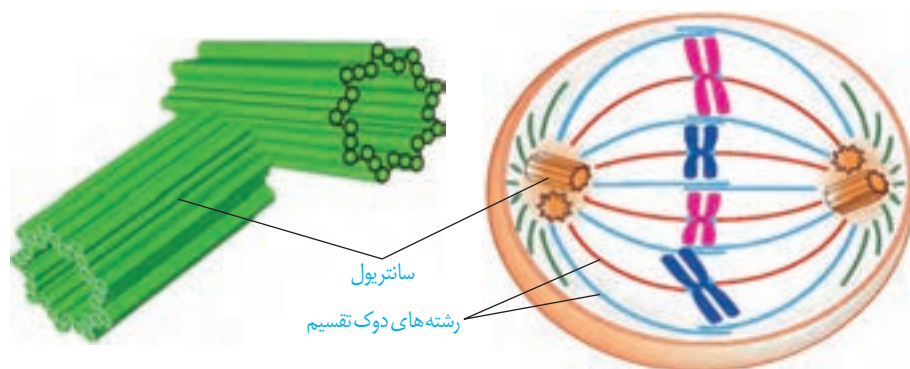
همانندسازی است. همانندسازی دنا فرایندی است که طی آن از یک مولکول دنا، دو مولکول یکسان ایجاد می‌شود.

مرحله وقفه دوم یا «G_۲»: این مرحله نسبت به مراحل قبلی اینترفاز، کوتاه‌تر است و در آن، یاخته‌ها آماده مرحله تقسیم می‌شوند. در این مرحله، ساخت پروتئین‌ها و عوامل مورد نیاز برای تقسیم یاخته افزایش پیدا می‌کنند و یاخته‌ها آماده تقسیم می‌شوند.

تقسیم یاخته:

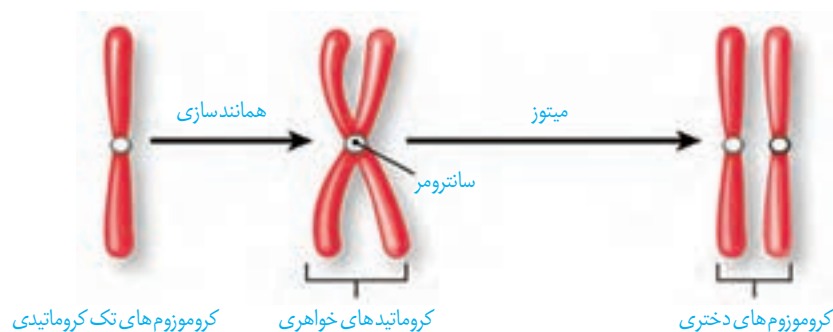
در این مرحله، دو فرایند تقسیم هسته و تقسیم سیتوپلاسم انجام می‌شود. در سال‌های گذشته تا حدودی با این فرایندها آشنا شدید. با تقسیم سیتوپلاسم، در نهایت دو یاخته جدید ایجاد می‌شود.

در رشتمان (میتوز) ماده ژنتیک، که در مرحله «S» همانندسازی شده بود، تقسیم می‌شود و به یاخته‌های جدید می‌رسد. کروموزوم‌ها که در هسته پراکنده‌اند، ابتدا باید به‌طور دقیق در وسط یاخته آرایش یابند و به مقدار مساوی بین یاخته‌های دختری تقسیم شوند. برای حرکت و جدا شدن صحیح کروموزوم‌ها، ساختارهایی به نام **دوک تقسیم** ایجاد می‌شود (شکل ۵-الف). دوک تقسیم، مجموعه‌ای از ریزلوله‌های پروتئینی است که هنگام تقسیم، پدیدار و سانترومر کروموزوم به آن متصل می‌شود. با کوتاه شدن رشته‌های دوک متصل به سانترومر، کروموزوم‌ها از هم جدا می‌شوند و به قطبین می‌روند. در یاخته‌های جانوری، **میانک (سانتریول‌ها)** ساخته شدن رشته‌های دوک را سازمان می‌دهند. سانتریول‌ها، یک جفت استوانه عمود برهم‌اند که در اینترفاز، برای تقسیم یاخته، همانندسازی می‌کنند. هر یک از این استوانه‌ها، از تعدادی لوله کوچک‌تر پروتئینی تشکیل شده‌است. ساختار سانتریول‌ها در شکل ۵ نشان داده شده است.



شکل ۵-الف) دوک تقسیم
ب) جفت سانتریول

میتوز، فرایندی پیوسته است، ولی زیست‌شناسان برای سادگی، آن را مرحله‌بندی می‌کنند. طرح ساده‌ای از تقسیم کروموزوم‌ها را در شکل ۶ مشاهده می‌کنید.



شکل ۶- طرح ساده‌ای از تقسیم کروموزوم‌ها و جدا شدن کروماتیدهای خواهری در میتوز

پیش چهر (پروفاز): در این مرحله، رشته‌های کروماتین فشرده، ضخیم و کوتاه‌تر می‌شوند. به طوری که به تدریج با میکروسکوپ نوری می‌توان آنها را مشاهده کرد. ضمن فشرده شدن کروموزوم، سانتیریول‌ها به دو طرف یاخته حرکت می‌کنند و بین آنها دوک میتوزی تشکیل می‌شود. در این مرحله پوشش هسته شروع به تخریب می‌کند.

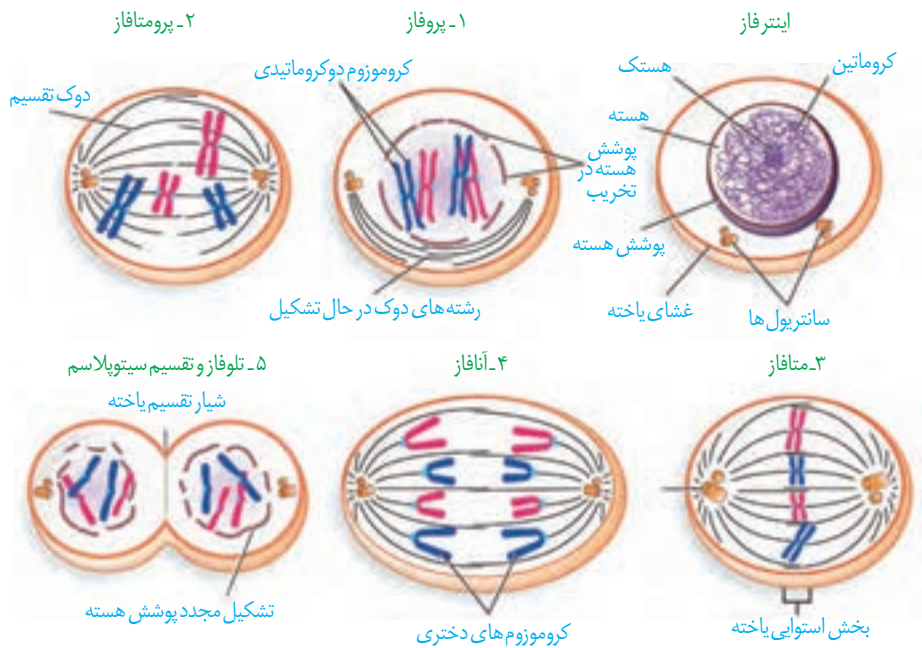
پیشاپس چهر (پرومتافاز): در این مرحله، پوشش هسته و شبکه آندوپلاسمی تجزیه می‌شوند تا رشته‌های دوک بتوانند به کروموزوم‌ها برسند. در همین حال سانترومر کروموزوم‌ها به رشته‌های دوک متصل می‌شوند.

پس چهر (متافاز): کروموزوم‌ها که بیشترین فشردگی را پیدا کرده‌اند، در وسط (سطح استوایی) یاخته ردیف می‌شوند.

پسین چهر (آنافاز): در این مرحله با تجزیه پروتئین اتصال در ناحیه سانترومر، کروماتیدها از هم جدا می‌شوند. فاصله گرفتن کروماتیدها با کوتاه شدن رشته‌های دوک متصل به کروموزوم انجام می‌شود. کروموزوم‌ها که اکنون تک کروماتیدی‌اند، به دو سوی یاخته (قطب) کشیده می‌شوند.

واپسین چهر (تروفاز): رشته‌های دوک تخریب شده و کروموزوم‌ها شروع به باز شدن می‌کنند تا به صورت کروماتین درآیند. پوشش هسته نیز مجدداً تشکیل می‌شود. در پایان تروفاز، یاخته دو هسته با ماده ژنتیکی مشابه دارد.

مراحل تقسیم میتوز در شکل ۷ نشان داده شده است.

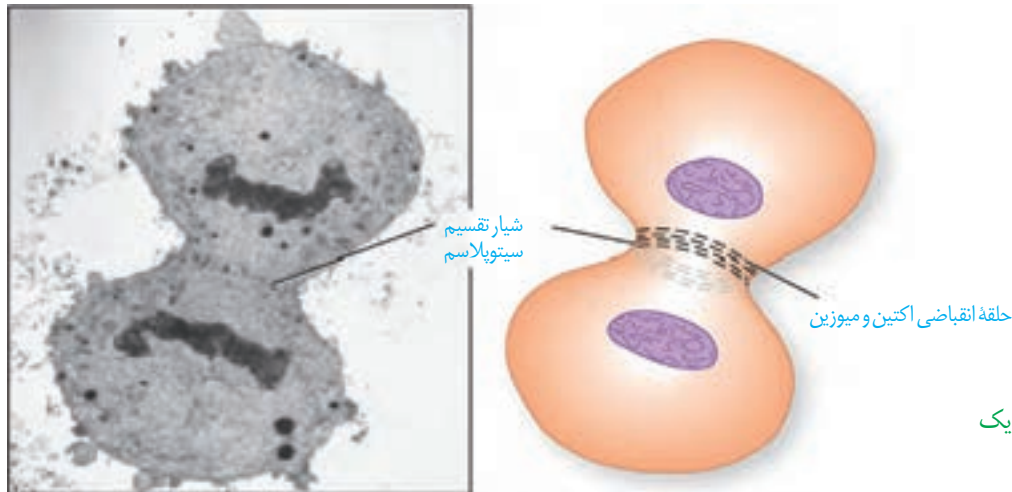


شکل ۷- طرح ساده‌ای از مراحل تقسیم میتوز

تقسیم سیتوپلاسم

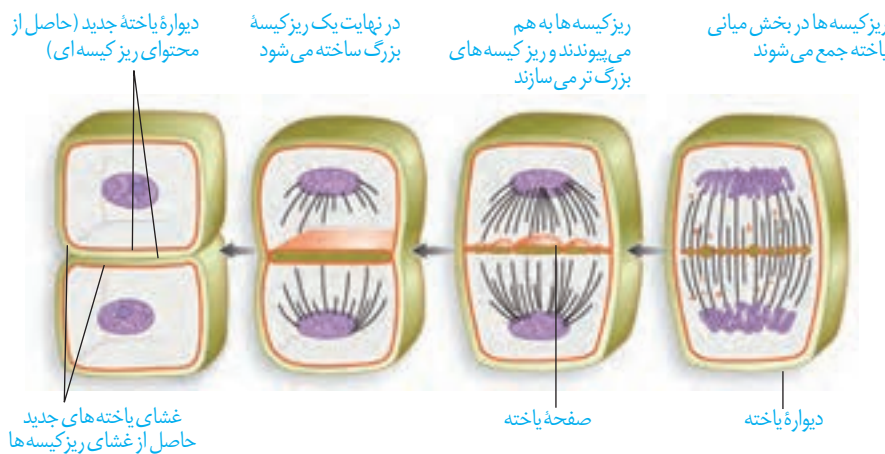
پس از رشتمان (میتوز)، اجزای یاخته بین دو سیتوپلاسم تقسیم می‌شوند. با تقسیم سیتوپلاسم دو یاخته جدید تشکیل می‌شود.

در یاخته‌های جانوری تقسیم سیتوپلاسم با ایجاد فرورفتگی در وسط آن شروع می‌شود. این فرورفتگی حاصل انقباض حلقه‌ای از جنس اکتین و میوزین است که مانند کمربندی در سیتوپلاسم قرار می‌گیرد و به غشاء متصل است. با تنگ شدن این حلقه انقباضی در نهایت دو یاخته از هم جدا می‌شوند (شکل ۸).



شکل ۸- تقسیم میان یاخته در یک یاخته جانوری

در یاخته‌های گیاهی، حلقه انقباضی تشکیل نمی‌شود. در این یاخته‌ها نخست ساختاری به نام **صفحه یاخته‌ای** در محل تشکیل دیواره جدید، ایجاد می‌شود. این صفحه با تجمع ریزکیسه‌های دستگاه گلژی و به هم پیوستن آنها تشکیل می‌شود. این ریزکیسه‌ها، دارای پیش‌سازهای تیغه میانی و دیواره یاخته‌اند. با اتصال این صفحه به دیواره یاخته مادری دو یاخته جدید از هم جدا می‌شوند (شکل ۹). ساختارهایی مانند لان و پلاسمودسم که سال گذشته با آنها آشنا شدید در هنگام تشکیل دیواره جدید، پایه‌گذاری می‌شوند.

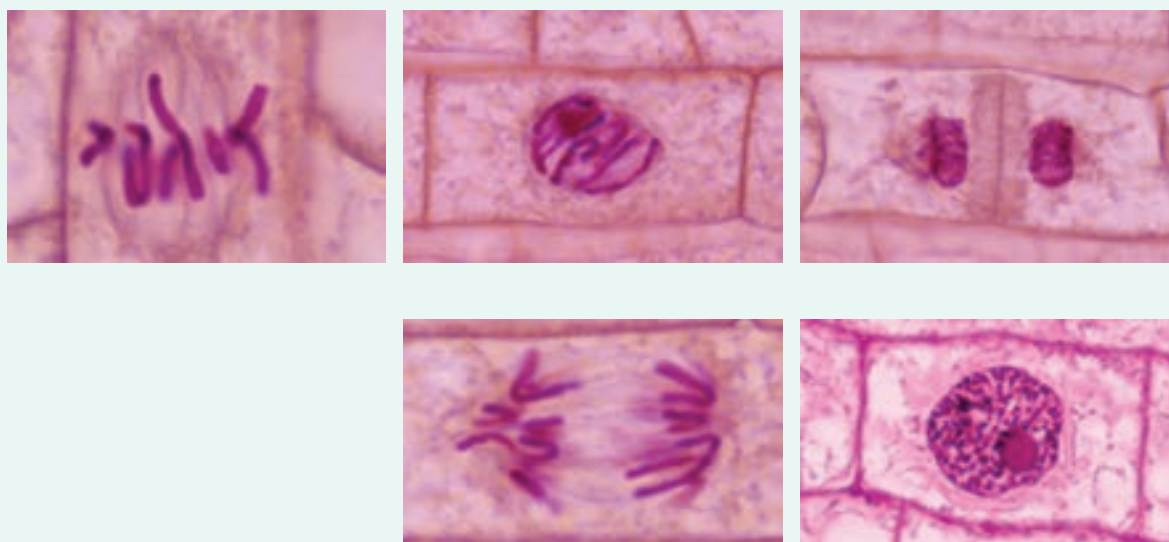


شکل ۹- تقسیم میان یاخته در یاخته گیاهی

در دنیای جانداران یاخته‌های چندهسته‌ای به روش‌های مختلفی ایجاد می‌شوند. در سال گذشته با بعضی از این یاخته‌ها آشنا شدید. آیا می‌توانید بعضی از آنها را نام ببرید؟ در مورد نحوه تشکیل این نوع از یاخته‌ها تحقیق کنید و نتیجه آن را به کلاس ارائه دهید.

فعالیت ۱

با توجه به آنچه دربارهٔ چرخه یاخته‌ای فراگرفته‌اید تصاویر میکروسکوپی زیر را بر اساس مراحل آن، با شماره‌گذاری مرتب کنید.



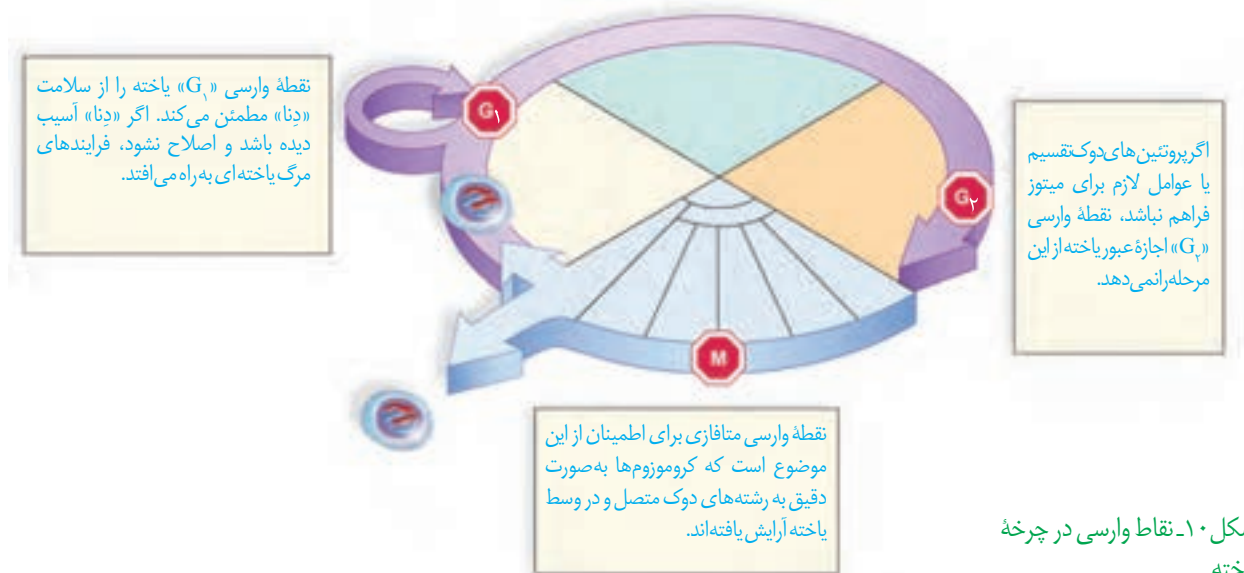
تقسیم یاخته، فرایندی تنظیم‌شده است

بعضی از یاخته‌های بدن جانداران، مانند یاخته‌های بنیادی مغز استخوان و یاخته‌های سرلادی گیاهان می‌توانند دائماً تقسیم شوند. همین یاخته‌ها در شرایط خاصی، مثلاً شرایط نامساعد محیطی یا افزایش بیش از حد تعداد یاخته‌ها، تقسیم خود را کاهش می‌دهند و یا متوقف می‌کنند. برعکس، نورون‌های دستگاه عصبی به ندرت تقسیم می‌شوند. این یاخته‌ها چگونه تشخیص می‌دهند در چه زمان یا به چه مقداری باید تقسیم شوند؟ چه عواملی تنظیم‌کنندهٔ سرعت و تعداد تقسیم یاخته‌اند؟ چگونه تعداد چرخه‌های یاخته تنظیم می‌شوند و چرا این تنظیم در برخی یاخته‌ها به هم می‌خورد؟

عوامل تنظیم‌کنندهٔ تقسیم یاخته

یاخته‌ها در پاسخ به بعضی عوامل محیطی و مواد شیمیایی سرعت تقسیم خود را تنظیم می‌کنند. انواعی از پروتئین‌ها وجود دارد که با فرایندهایی منجر به تقسیم یاخته‌ای می‌شوند. پروتئین‌های دیگری نیز وجود دارند که در شرایط خاصی، مانع از تقسیم یاخته‌ها می‌شوند. این پروتئین‌ها در سرعت تقسیم یاخته مانند پدال گاز و ترمز عمل می‌کنند؛ یا در گیاهان در محل آسیب دیده، نوعی عامل رشد تولید می‌شوند تا با تقسیم سریع، تودهٔ یاخته ایجاد کنند. این تودهٔ یاخته مانع نفوذ میکروب‌ها می‌شود؛ یا نوعی عامل رشد، در پوست انسان زیر محل زخم تولید می‌شود که با افزایش سرعت تقسیم یاخته‌ها، سرعت بهبود زخم را افزایش می‌دهد. مثال دیگر این مواد، اریتروپویتین است که در سال گذشته با آن آشنا شدید. با توجه به آنچه آموختید این ماده بر کدام بخش بدن اثر می‌گذارد و نتیجهٔ آن چیست؟

در چرخه یاخته‌ای، چند نقطه واریسی وجود دارد. نقاط واریسی مراحل از چرخه یاخته‌اند که به آن اطمینان می‌دهند که مرحله قبل کامل شده است و عوامل لازم برای مرحله بعد آماده‌اند. در شکل ۱۰ بعضی از این نقاط را می‌بینید.



شکل ۱۰- نقاط واریسی در چرخه یاخته

تقسیم بی‌رویه یاخته

یاخته‌ها با تقسیم، افزایش و با مرگ، کاهش می‌یابند. اگر تعادل بین تقسیم یاخته و مرگ یاخته‌ها به هم بخورد، چه وضعی پیش می‌آید؟ نتیجه می‌تواند ایجاد یک تومور باشد. تومور، توده‌ای است که در اثر تقسیمات تنظیم نشده ایجاد می‌شود. تومورها به دو نوع خوش خیم و بدخیم تقسیم می‌شوند. نوع خوش خیم رشدی کم دارد و یاخته‌های آن در جای خود می‌مانند و منتشر نمی‌شوند. این نوع تومور معمولاً آن‌قدر بزرگ نمی‌شوند که به بافت‌های مجاور خود آسیب بزنند. البته در مواردی که تومور بیش از اندازه بزرگ شود، می‌تواند در انجام اعمال طبیعی اندام اختلال ایجاد کند. **لیپوما** یکی از انواع تومورهای خوش خیم است که در افراد بالغ متداول است. در این تومور، یاخته‌های چربی تکثیر شده و توده یاخته ایجاد می‌کند (شکل ۱۱- الف).

واژه‌شناسی

دگر نشینی (metastasis/متاستاز) «متا» به معنی دگر و «استاز» به معنی ایستادن و تثبیت است. دگر نشینی نیز به معنای برخاستن از یک بافت یا اندام و نشستن در بافت یا اندام دیگر است.



(ب)

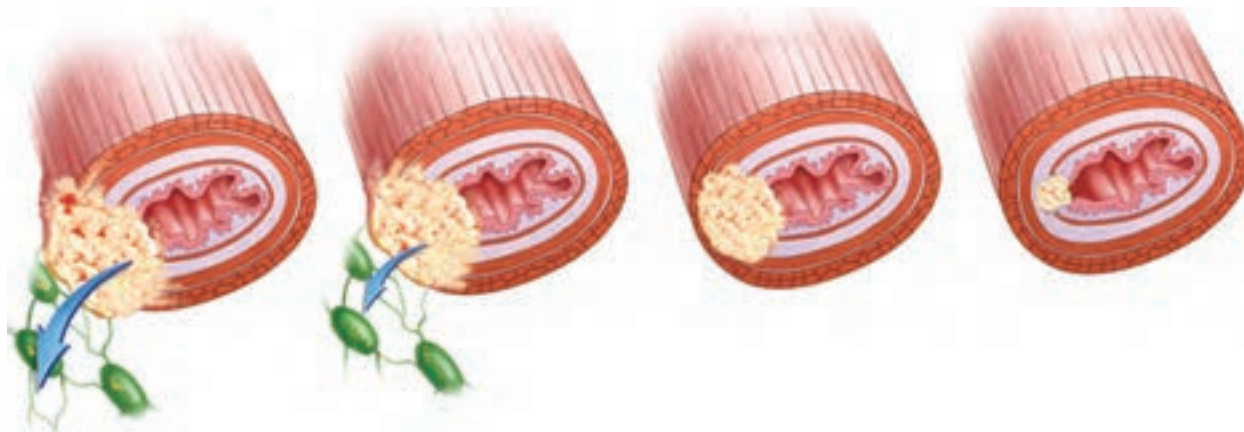


(الف)

تصویر ۱۱- الف) تومور خوش خیم، لیپوما در نزدیکی آرنج
ب) ملانوما: نوعی تومور بدخیم یاخته‌های رنگدانه دار پوست

تومور بدخیم یا سرطان به بافت‌های مجاور حمله می‌کند و توانایی **دگرنشینی (متاستاز)** دارد؛ یعنی می‌تواند یاخته‌هایی از آن جدا شده و همراه با جریان خون، یا به ویژه لنف به نواحی دیگر بدن بروند، در آنجا مستقر شوند و رشد کنند (شکل ۱۲). علت اصلی سرطان، بعضی تغییرات در ماده ژنتیکی یاخته است که باعث می‌شود چرخه یاخته از کنترل خارج شود (شکل ۱۱-ب).

شکل ۱۲- مراحل رشد و دگرنشینی یاخته‌های سرطانی



۱- یاخته سرطانی شروع به تهاجم به یاخته‌های بافت می‌کند.

۲- یاخته‌های سرطانی در بافت‌ها گسترش می‌یابند، ولی هنوز به دستگاه لنفی مجاور راه پیدا نکرده‌اند.

۳- یاخته‌های سرطانی به بخش‌های لنفی مجاور محل تکثیر خود، دسترسی پیدا می‌کنند.

۴- یاخته‌های سرطانی از راه لنف به بافت‌های دورتر می‌روند و پس از استقرار موجب سرطانی شدن آنها می‌شوند.

تشخیص و درمان سرطان

بیشتر بدانید

یاخته‌های سرطانی در صورت وجود ماده غذایی و فضای کافی می‌توانند به طور دائم تقسیم شوند. یاخته‌های سرطانی زنی سیاه‌پوست به نام هنریتا لکس Henrietta Lacks که در سال ۱۹۵۱ در اثر همین بیماری درگذشت، همچنان در حال تقسیم در محیط آزمایشگاهی بسیاری از نقاط جهان است. محققان زیادی از یاخته‌های هلا Hela (مخفف نام هنریتا لکس) در آزمایشگاه‌های زیست‌شناسی استفاده می‌کنند. این یاخته‌ها می‌توانند در مجاورت یاخته‌های دیگر، آنها را به حالت سرطانی در بیاورند.

روش‌های متعددی برای تشخیص و درمان سرطان‌ها وجود دارد و گاهی ترکیبی از این روش‌ها مورد استفاده قرار می‌گیرد. **بافت‌برداری** روشی است که در آن، تمام یا بخشی از بافت سرطانی یا مشکوک به سرطان برداشته می‌شود. آزمایش خون به این شناسایی کمک می‌کند.

روش‌های رایج درمان سرطان شامل جراحی، شیمی‌درمانی و پرتودرمانی است. در پرتودرمانی، یاخته‌هایی که به سرعت تقسیم می‌شوند، به طور مستقیم تحت تأثیر پرتوهای قوی قرار می‌گیرند. شیمی‌درمانی با استفاده از داروها باعث سرکوب تقسیم یاخته‌ها در همه بدن می‌شود. این روش‌های درمانی می‌توانند به یاخته‌های مغز استخوان، پیاز مو و پوشش دستگاه گوارش نیز آسیب برسانند. مرگ این یاخته‌ها از عوارض جانبی شیمی‌درمانی است که باعث ریزش مو، تهوع و خستگی می‌شود. حتی بعضی افراد که تحت تأثیر تابش‌های شدید، یا شیمی‌درمانی قوی قرار می‌گیرند مجبور به پیوند مغز استخوان می‌شوند تا بتوانند یاخته‌های خونی مورد نیاز را بسازند.

۱- Biopsy

پروتئین‌ها، تنظیم‌کننده چرخهٔ یاخته و مرگ آن هستند. پروتئین‌ها محصول عملکرد ژن‌ها هستند. بنابراین، مشخص است که در ایجاد سرطان، ژن‌ها نقش دارند. ژن‌های زیادی شناخته شده‌اند که در بروز سرطان مؤثرند. علت شیوع بیشتر بعضی سرطان‌ها در بعضی جوامع، همین مسئله است.

عوامل محیطی هم در بروز سرطان مؤثرند. پرتوهای فرابنفش، بعضی آلاینده‌های محیطی و دود خودروها به ساختار «دِنَا» آسیب می‌زنند. سایر پرتوها و مواد شیمیایی سرطان‌زا، مواد غذایی دودی شده مثل گوشت و ماهی دودی، بعضی ویروس‌ها، قرص‌های ضدبارداری، نوشیدنی‌های الکلی و دخانیات از عوامل مهم سرطان‌زایی‌اند.

یاخته‌های سرطانی و یاخته‌های عادی در چند ویژگی با هم تفاوت دارند:

۱- یاخته‌های سرطانی، تقسیمات بدون کنترل دارند.

۲- شکل یاخته‌های سرطانی با یاخته‌های عادی تفاوت دارد. همچنین ممکن است یاخته‌های سرطانی، چندهسته‌ای شوند.

۳- بسیاری از یاخته‌های سرطانی نامیرا هستند؛ یعنی برخلاف یاخته‌های عادی بعد از چند تقسیم نمی‌میرند.

۴- یاخته‌های عادی در حضور عوامل، رشد تقسیمات خود را شروع می‌کنند و با اتمام آن، پایان می‌دهند. بسیاری از یاخته‌های سرطانی حتی بدون حضور عوامل رشد، می‌توانند تقسیم شوند.

۵- در یاخته‌های عادی در محیط کشت، با تکثیر و رسیدن لبهٔ یاخته‌ها به هم، تقسیم متوقف می‌شود. در ضمن، یاخته‌های عادی در محیط کشت

نیازمند سطح جامد برای اتصال‌اند. یاخته‌های سرطانی هیچ کدام از این خصوصیات را ندارند. این موضوع، علت

توانایی دگرنشینی یاخته‌های سرطانی را نشان می‌دهد.

۶- یاخته‌های عادی در اثر آسیب‌دیدگی، دچار خزان یاخته‌ای می‌شوند، ولی یاخته‌های سرطانی نمی‌میرند.

۷- یاخته‌های سرطانی موادی را تولید می‌کنند که باعث ایجاد رگ‌های جدید خونی می‌شوند تا فرایند غذارسانی و دفع

مواد زاید به راحتی انجام شود (شکل مراحل رشد و دگرنشینی یاخته‌های سرطانی).

فعالیت ۳

با استفاده از منابع علمی بررسی کنید که کدام نوع از سرطان‌ها در کشور ما شیوع بیشتری دارند. چرا بعضی انواع سرطان در بخش‌های خاصی از کشور ما شایع‌ترند؟

بیشتر بدانید

جدول ۲- برخی عوامل مؤثر بر بروز سرطان

عوامل ژنی	هورمون	ویروس‌ها	خوراکی و آشامیدنی‌ها	عوامل شیمیایی	پرتوها
ژن‌های مؤثر در بروز رتینوبلاستوما سرطان پروستات سرطان معده سرطان پوست سرطان خون سرطان رحم	● قرص‌های ضد بارداری	● هپاتیت ب ● هرپس سیمپلکس ● پاپیلوما	● نوشیدنی‌های الکلی ● گوشت و ماهی دودی ● غذاهای نیترات‌دار	● دخانیات ● نیکل ● آرسنیک ● بنزن ● دیوکسین ● آزبست (پشم‌شیشه) ● اورانیوم ● پلی‌وینیل کلراید PVC	● پرتو X ● پرتو گاما ● پرتو فرابنفش (سولاریوم - آفتاب‌سوختگی)

مرگ برنامه‌ریزی شده یاخته

مرگ یاخته‌ها می‌تواند تصادفی باشد؛ مثلاً در بریدگی، یاخته‌ها آسیب می‌بینند و از بین می‌روند. به این حالت، **بافت مردگی** گفته می‌شود. ولی مرگ برنامه‌ریزی شده یاخته‌ای شامل یک سری فرایندهای دقیقاً برنامه‌ریزی شده است که در بعضی یاخته‌ها و در شرایط خاص ایجاد می‌شود. این فرایند با رسیدن علایمی به یاخته شروع می‌شود. به دنبال این رخداد، در چند ثانیه پروتئین‌های تخریب‌کننده در یاخته شروع به تجزیه اجزای یاخته و مرگ آن می‌کنند.

حذف یاخته‌های پیر یا آسیب‌دیده، مانند آنچه در آفتاب‌سوختگی اتفاق می‌افتد، مثالی از مرگ برنامه‌ریزی شده یاخته‌ای است؛ چون پرتوهای خورشید دارای اشعه فرابنفش اند آفتاب‌سوختگی می‌تواند سبب آسیب به «دنا» یاخته‌ها و بروز سرطان شود. مرگ برنامه‌ریزی شده یاخته‌ای، با از بین بردن یاخته‌های آسیب‌دیده، آنها را حذف می‌کند. مثال دیگر، حذف یاخته‌های اضافی از بخش‌های عملکردی مانند پرده‌های بین انگشتان پا در پرندگان است (شکل ۱۳).



شکل ۱۳- حذف پرده‌های میانی انگشتان در دوران جنینی برخی پرندگان در اثر مرگ برنامه‌ریزی شده

فعالیت ۴

با استفاده از خمیر بازی (چند رنگ) و بارعایت موارد بهداشتی، مراحل تقسیم میتوز را طراحی کنید. برای این کار، عدد کروموزومی یاخته فرضی را ۴ یا ۶ در نظر بگیرید. هر مجموعه کروموزوم‌ها را با یک رنگ انتخاب

نمایید و با توجه به این فعالیت به پرسش‌های زیر پاسخ دهید:

(الف) در متافاز کروموزوم‌های هم‌ساخت نسبت به هم چگونه روی رشته‌های دوک قرار می‌گیرند؟

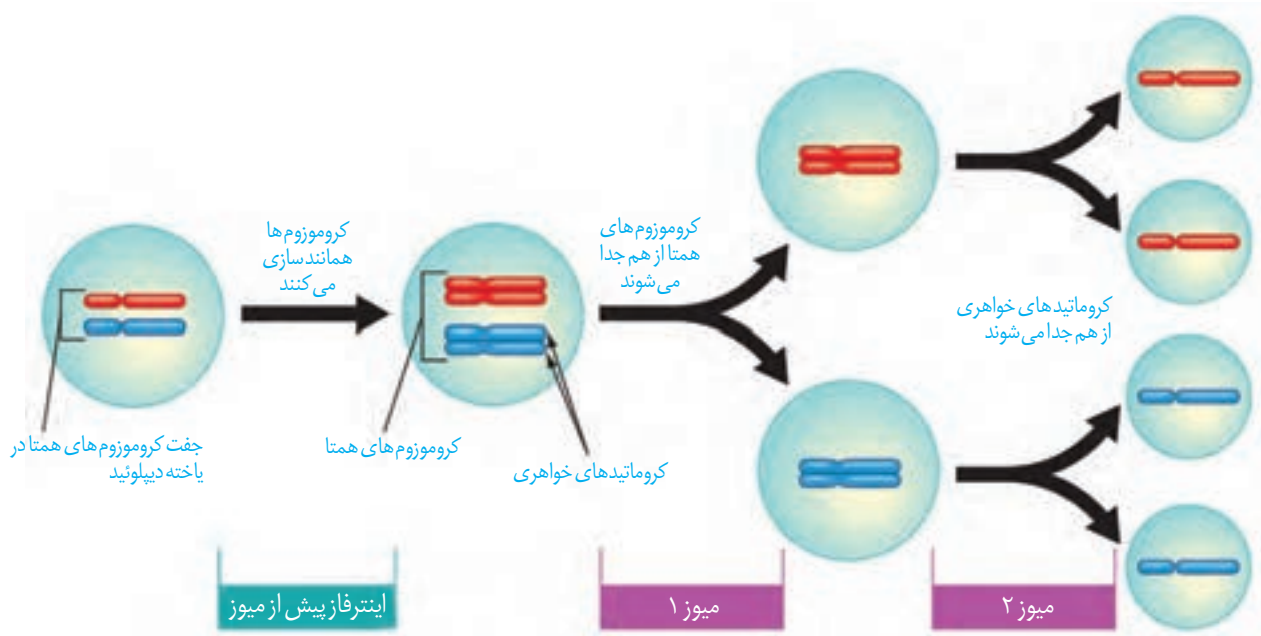
(ب) با توجه به عدد کروموزومی انتخابی، تعداد کروموزوم‌ها و کروماتیدها را قبل و بعد از میتوز تعیین کنید.

در گذشته با تولید مثل جنسی و غیرجنسی آشنا شدید. با توجه به آنچه آموخته‌اید، چه تفاوت‌های اصلی در این دو نوع تولید مثل وجود دارد؟ هریک از این روش‌ها چه مزایایی دارد؟ چه روش‌های تولید مثل غیرجنسی را می‌شناسید؟ کدام نوع تقسیم با تولید مثل جنسی ارتباط بیشتری دارد؟

کاستمان (meiosis/میوز) کاستمان (meioun به معنی کاستن است. کاست از مصدر کاستن همراه با (مان) واژه کاستمان را می‌سازد که به فرایند کاسته شدن تعداد کروموزوم‌ها در حین تقسیم اشاره دارد.

کاستمان (میوز)، کاهش تعداد کروموزوم‌ها

در تولید مثل جنسی، دویاخته جنسی (گامت) با هم ترکیب و هسته‌های آنها با هم ادغام می‌شوند. یاخته‌های مؤثر در تولید مثل جنسی با نوعی تقسیم کاهش می‌یابد به نام میوز ایجاد می‌شوند. به نظر شما اهمیت این نوع تقسیم در جانداران چیست؟ میوز از دو مرحله کلی میوز ۱ و ۲ تشکیل شده است؛ پس از تقسیم هسته نیز تقسیم میان یاخته انجام می‌شود (شکل ۱۴). پیش از این تقسیم نیز، مانند میتوز، اینترفاز رخ می‌دهد.

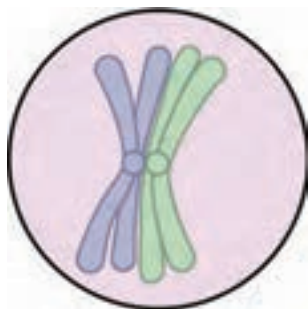


میوز ۱

شکل ۱۴- طرح ساده‌ای از تقسیم میوز

در این مرحله از تقسیم میوز، عدد کروموزومی نصف می‌شود. این بخش از میوز ۴ مرحله دارد که عبارت‌اند از: پروفاز ۱، متافاز ۱، آنافاز ۱ و تلوفاز ۱ (شکل ۱۶).

پروفاز ۱: کروموزوم‌های همتا از طول در کنار هم قرار می‌گیرند و فشرده می‌شوند. به این ساختار ۴ کروماتیدی، **تتراد** گفته می‌شود. تترادها از ناحیه سانترومر به رشته‌های دوک متصل می‌شوند. سایر وقایع این مرحله، شبیه پروفاز و پرومتافاز میتوز است (شکل ۱۵).



متافاز ۱: تترادها در استوای یاخته، روی رشته‌های دوک قرار می‌گیرند.

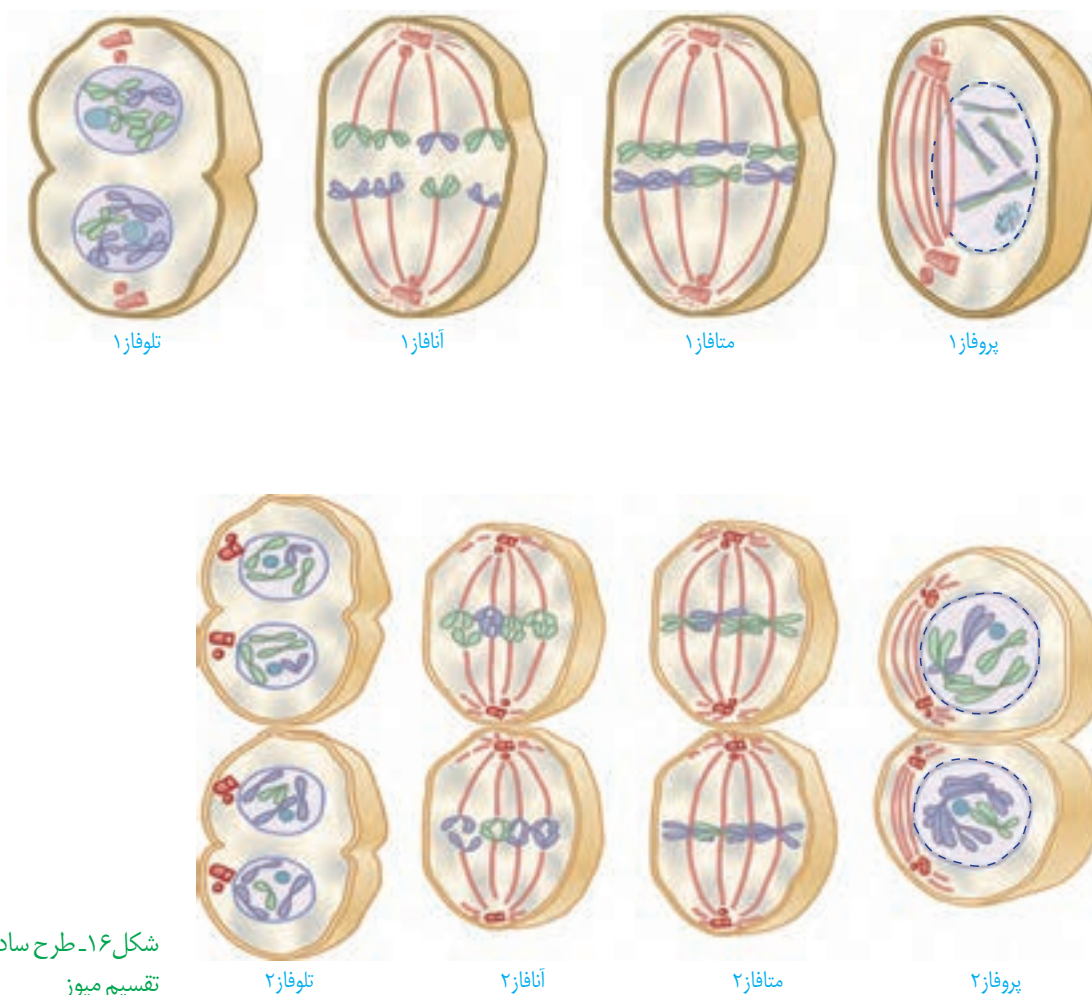
آنافاز ۱: کروموزوم‌های هم‌ساخت که هریک دو کروماتیدی‌اند، از هم جدا می‌شوند و به سمت قطبین یاخته حرکت می‌کنند. نحوه کوتاه‌شدن رشته‌های دوک، شبیه فرایند میتوز است.

تلوفاز ۱: با رسیدن کروموزوم‌ها به دو سوی یاخته، پوشش هسته دوباره تشکیل می‌شود. معمولاً در پایان میوز ۱ تقسیم میان‌یاخته انجام می‌شود. نتیجه میوز ۱ ایجاد دو یاخته است (شکل ۱۶). با توجه به شکل ۱۶ می‌توانید بگویید عدد کروموزومی یاخته‌های حاصل، چه تفاوتی با یاخته مادری دارد؟

میوز ۲

شکل ۱۵- طرح ساده‌ای از یک تتراد

در این مرحله یاخته‌های حاصل از میوز ۱، مراحل پروفاز ۲، متافاز ۲، آنافاز ۲ و تلوفاز ۲ را می‌گذرانند. وقایع میوز ۲ بسیار شبیه میتوز است و در پایان آن، از هر یاخته دو یاخته شبیه هم ایجاد می‌شود که کروموزوم‌های آنها تک کروماتیدی است و نصف کروموزوم‌های یاخته‌های مادر را دارند. در پایان میوز ۲، تقسیم میان‌یاخته انجام می‌شود. در مجموع و با پایان تقسیم میوز از یک یاخته ۲n، ۴ یاخته n کروموزومی حاصل می‌شود.



شکل ۱۶- طرح ساده‌ای از مراحل تقسیم میوز

فعالیت ۵

۱- تقسیم میوز ۱ از نظر نحوه آرایش کروموزوم‌ها و جدا شدن آنها تفاوت اساسی با تقسیم میتوز دارد. آیا می‌توانید با توجه به شکل‌های میتوز و میوز، این تفاوت‌ها را بیان کنید؟

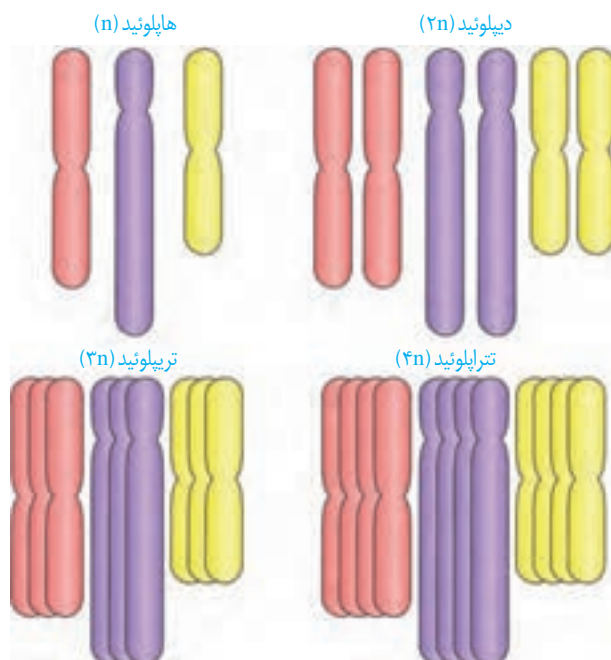
۲- تقسیم میوز ۲ را با تقسیم میتوز مقایسه کنید. چه شباهت‌ها و تفاوت‌هایی بین این دو فرایند وجود دارد؟

فعالیت ۶

با استفاده از خمیر بازی و بارعایت موارد بهداشتی، طرح ساده‌ای از مراحل تقسیم میوز را بسازید. برای این کار، عدد کروموزومی یاخته فرضی را ۴، ۶ و ۸ در نظر بگیرید. بهتر است که هر مجموعه از کروموزوم‌ها با یک رنگ انتخاب شوند.

تغییر در تعداد کروموزوم‌ها

گرچه تقسیم یاخته‌ای با دقت زیاد انجام می‌شود، ولی به ندرت ممکن است اشتباهاتی در روند تقسیم رخ دهد. چندلادی (پلی‌پلوئیدی) شدن و با هم ماندن کروموزوم‌ها، نمونه‌هایی از این خطاهای میوزی هستند. اشتباه در تقسیم می‌تواند، هم در تقسیم میتوز و هم در تقسیم میوز رخ دهد، ولی چون یاخته‌های حاصل از میوز در ایجاد نسل بعد دخالت مستقیم دارند، از اهمیت بیشتری برخوردارند. **پلی‌پلوئیدی شدن:** اگر در مرحله آنافاز همه کروموزوم‌ها بدون اینکه از هم جدا شوند به یک یاخته بروند، آن یاخته دو برابر کروموزوم خواهد داشت و یاخته دیگر فاقد کروموزوم خواهد بود. در آزمایشگاه می‌توان با تخریب رشته‌های دوک تقسیم این وضعیت را ایجاد کرد (شکل ۱۷).



شکل ۱۷- طرح ساده‌ای از تعداد کروموزوم‌ها.

به یاخته یا جاننداری که یاخته‌های آن بیش از دو دست کروموزوم داشته باشد، چندلاد (پلی‌پلوئید) گفته می‌شود؛ مثلاً گندم زراعی $6n$ و موز $3n$ کروموزوم‌اند (شکل ۱۷).

با هم ماندن کروموزوم‌ها: در این حالت، یک یا چند کروموزوم در مرحلهٔ آنافاز (میتوز و میوز) از هم جدا نمی‌شوند. بنابراین، در یاخته‌های حاصل، کاهش یا افزایش یک یا چند کروموزوم مشاهده می‌شود (شکل ۱۸). نمونهٔ این حالت، نشانگان داون است. به آمیزه‌ای از نشانه‌های یک بیماری، یا یک حالت نشانگان می‌گویند. افراد مبتلا به داون، در یاخته‌های پیکری خود ۴۷ کروموزوم دارند (شکل ۱۸). کروموزوم اضافی مربوط به شمارهٔ ۲۱ است؛ یعنی یاخته‌های پیکری این افراد ۳ کروموزوم شمارهٔ ۲۱ دارند. علت بروز این حالت آن است که یکی از گامت‌های ایجادکنندهٔ فرد، به جای یک کروموزوم شمارهٔ ۲۱، دارای ۲ کروموزوم ۲۱ بوده است. بالابودن سنّ مادران در هنگام بارداری از عوامل مهم بروز این بیماری است؛ زیرا با افزایش سنّ مادر، احتمال خطای میوزی در تشکیل یاخته‌های جنسی وی بیشتر می‌شود. علت این موضوع را در فصل‌های آینده خواهید آموخت. عوامل محیطی نیز می‌توانند موجب اختلال در تقسیم میوز شوند. مصرف دخانیات، نوشیدنی‌های الکلی، مجاورت با پرتوهای مضر و آلودگی‌ها نیز می‌تواند در روند جدا شدن کروموزوم‌ها در هر دو جنس، اختلال ایجاد کند.



شکل ۱۸- کاربوتیپ یک فرد مبتلا به داون. آیا می‌توانید جنسیت این فرد را تشخیص دهید؟

با استفاده از منابع علمی، با انواع دیگری از بیماری‌های ناشی از باهم ماندن کروموزوم‌ها آشنا شوید و گزارش این بررسی را در کلاس ارائه کنید.

فعالیت ۷

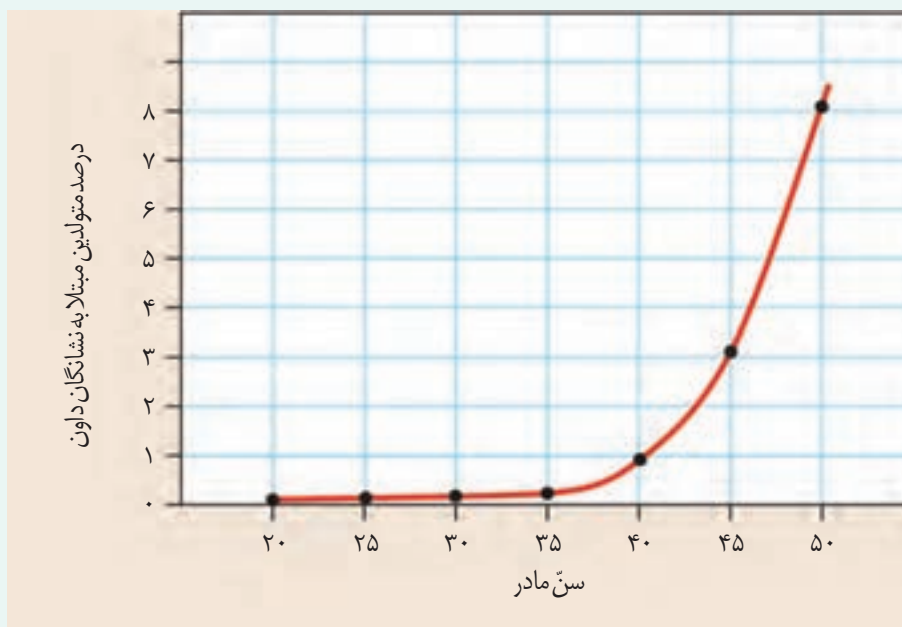
فعالیت ۸

منحنی زیر، رابطه بین سنّ مادر در هنگام بارداری و احتمال به دنیا آمدن فرزند مبتلا به نشانگان داون را نشان می دهد.

الف) منحنی را تفسیر کنید.

ب) احتمال به دنیا آمدن فرزند مبتلا به بیماری در یک مادر ۵۰ ساله چقدر است؟

پ) احتمال به دنیا آمدن فرزند مبتلا به بیماری داون در یک مادر ۴۵ ساله چند برابر مادر ۳۵ ساله است؟





فصل ۷

تولید مثل

در سال‌های گذشته با انواع تولید مثل غیرجنسی و جنسی آشنا شدید. در فرایند تولید مثل جنسی که با تولید کامه (گامت) همراه است، دو فرد شرکت دارند که هر کدام دستگاه تولیدمثل خاص خود را دارند. در این فصل با دستگاه تولید مثل آشنا می‌شوید که با بقیه دستگاه‌های بدن تفاوت دارد. اگر این دستگاه درست کار نکند و حتی بخشی از آن را از بدن خارج کنیم، زندگی فرد به خطر نمی‌افتد.

- به نظر شما اهمیت تولید مثل در چیست؟

- دستگاه تولید مثل در انسان شامل چه بخش‌هایی است و با دستگاه تولید مثل بقیه جانوران چه تفاوت‌هایی دارد؟

- نقش جانور نر و ماده در تولید مثل چیست؟

اینها بخشی از پرسش‌هایی است که با مطالعه این فصل، به پاسخ آنها می‌رسیم.

زامه (sperm/اسپرم)

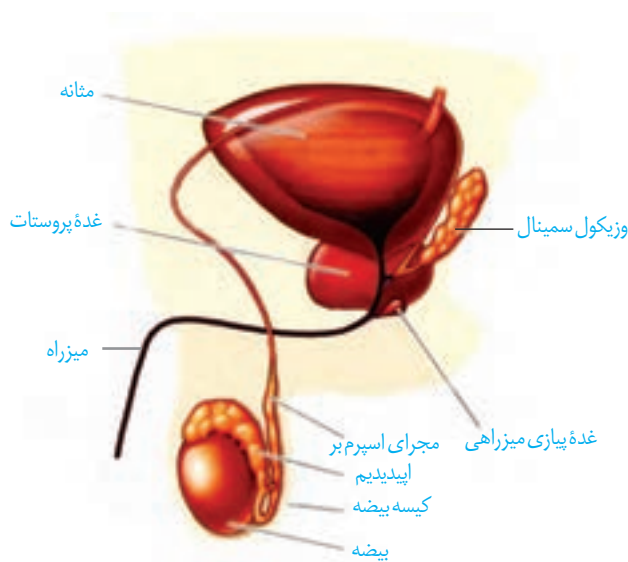
زامه از کلمه زام به معنی ازدواج کردن یا زاماد (زوماد) برای نشان دادن نر، گرفته شده است. با استفاده از آن واژه‌های زامه‌زایی، زامه‌زاه، زام‌یاختک و زام‌یاخته ساخته و معنی پیدا می‌کنند.

اجزای دستگاه تولید مثلی مرد را در شکل ۱ می‌بینید. مجموعه اندام‌های این دستگاه وظایف متعددی دارند از جمله:

- ۱- تولید یاخته‌های جنسی نر (اسپرم)
- ۲- ایجاد محیطی مناسب برای نگهداری از اسپرم‌ها
- ۳- انتقال اسپرم‌ها به خارج از بدن
- ۴- تولید هورمون جنسی مردانه (تستوسترون)

کار اصلی این دستگاه، تولید یاخته جنسی نر یا اسپرم است. اسپرم‌ها در یک جفت خاگ (بیضه) یا همان غدد جنسی نر تولید می‌شوند. بیضه‌ها درون کیسه بیضه قرار دارند. محل طبیعی کیسه بیضه خارج و پایین محوطه شکمی است. قرارگیری کیسه بیضه خارج از محوطه شکمی باعث می‌شود دمای درون آن حدود سه درجه پایین‌تر از دمای بدن قرار گیرد. این دما برای فعالیت بیضه‌ها و تمایز صحیح اسپرم‌ها ضروری است. علاوه بر این، وجود شبکه‌ای از رگ‌های کوچک در کیسه بیضه نیز به تنظیم این دما کمک می‌کند.

در بیضه‌ها تعداد زیادی لوله‌های پر پیچ‌وخم به نام لوله‌های اسپرم‌ساز وجود دارد. درون این لوله‌ها از هنگام بلوغ تا پایان عمر، اسپرم تولید می‌شود. مراحل تولید اسپرم یا اسپرم‌زایی را در شکل ۲ می‌بینید. در بین لوله‌های اسپرم‌ساز یاخته‌های بینابینی قرار دارند که نقش ترشح هورمون جنسی نر را برعهده دارند.



شکل ۱- اندام‌های دستگاه تولیدمثل در مرد (مثانه جزء آن نیست)

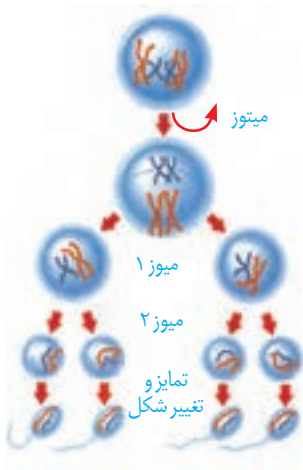
با توجه به شکل ۲ در مورد پرسش‌های زیر با هم گفت‌وگو کنید.

(الف) به چه دلیل ابتدا تقسیم میتوز و سپس میوز رخ می‌دهد؟

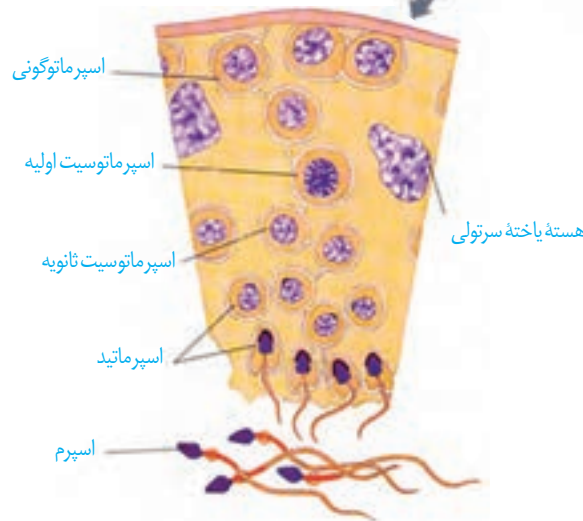
(ب) در انسان اسپرماتوسیت اولیه، ثانویه و اسپرماتید از لحاظ کروموزومی با هم چه تفاوت‌هایی دارند؟

(پ) اسپرماتید و اسپرم با هم چه تفاوت‌ها و شباهت‌هایی دارند؟

فعالیت ۱



شکل ۲- بیضه و مراحل تولید اسپرم



زاده زایی (اسپرم زایی)

دیواره لوله های زامه ساز (اسپرم ساز) یاخته های زاینده ای دارد که به این یاخته ها **زامه زای (اسپرماتوگونی)** گفته می شود. این یاخته ها که نزدیک سطح خارجی لوله ها قرار گرفته اند، ابتدا با میتوز تقسیم می شوند یکی از یاخته های حاصل از هر بار میتوز در لایه زاینده می ماند که لایه زاینده حفظ شود. یاخته دیگر که **زام یاخته (اسپرماتوسیت اولیه)** نام دارد، با تقسیم میوز ۱ دو یاخته به نام **اسپرماتوسیت ثانویه** تولید می کند. این یاخته ها هاپلوئیدند، ولی کروموزوم های آن دو کروماتیدی اند.

هر کدام از این یاخته ها با انجام میوز ۲، دو یاخته **زام یاخته (اسپرماتید)** ایجاد می کنند. این یاخته ها نیز هاپلوئید، ولی تک کروماتیدی اند. بنابراین، از یک یاخته اسپرماتوسیت اولیه، چهار اسپرماتید حاصل می شود. تمایز گامت ها در دیواره لوله از خارج به سمت وسط لوله انجام می شود. همه یاخته های زاینده به همین صورت عمل می کنند تا تعداد زیادی گامت درون لوله های اسپرم ساز تولید شود. در حین حرکت اسپرماتیدها به سمت وسط لوله های اسپرم ساز تمایزی در آنها رخ می دهد تا به **زامه (اسپرم)** تبدیل شوند. به این صورت که یاخته ها از هم جدا و تاژک دار می شوند؛ سپس مقدار زیادی از سیتوپلاسم خود را از دست می دهند. هسته آن فشرده شده در سر اسپرم به صورت مجزا قرار می گیرد و یاخته حالت کشیده پیدا می کند. **یاخته های سرتولی** که در دیواره لوله های اسپرم ساز وجود دارند با ترشحات خود تمایز اسپرم را هدایت می کنند. این یاخته ها در همه مراحل اسپرم زایی، پشتیبانی و تغذیه یاخته های جنسی و نیز بیگانه خواری باکتری ها را بر عهده دارند (شکل ۲).

دلایل عقیمی مردان:

عوامل متعددی در بروز آن دخالت دارند:

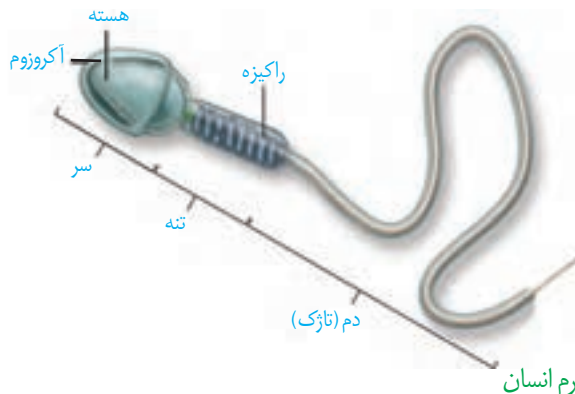
- **بیماری‌ها:** بیماری‌های عفونی مثل سل، سوزاک و اورپیون و بیماری‌های دیگر مثل بالا فرار گرفتن بیضه‌ها، کوچک بودن بیضه‌ها، واریکوسل (واریس در رگ‌های بیضه)، اختلال در هورمون‌های هیپوفیز و تیروئید که با تغییر درجه حرارت بدن ممکن است اسپرم‌سازی را مختل کنند. استرس و افسردگی نیز باعث کاهش تستوسترون و کاهش تولید اسپرم می‌شوند.

- **عوامل محیطی:** مصرف داروهای هورمونی مثل تستوسترون که در باشگاه‌های ورزشی استفاده می‌شود مصرف مواد مخدر، الکل، سیگار و قلیان، اشعه‌های UV و X، استفاده زیاد از محیط‌های داغ مثل سونا و وان داغ همچنین استفاده از لباس‌های تنگ و پلاستیکی که باعث افزایش دما در اطراف بیضه‌ها می‌شود می‌تواند در روند اسپرم‌سازی اختلال ایجاد کند.

بیشتر بدانید

سرطانی شدن پروستات از بیماری‌های شایع است و از لحاظ فراوانی بعد از سرطان شش، رتبه دوم را دارد. در این بیماری، بزرگ شدن پروستات باعث بسته شدن میزراه شده و خروج ادرار و منی با مشکل مواجه می‌شود. بزرگ شدن پروستات به صورت خوش‌خیم در افراد مسن شایع است. **سرطان بیضه** که معمولاً در افراد کمتر از ۴۰ سال رخ می‌دهد کمیاب‌تر است. در این بیماری تقسیم یاخته‌ای در بیضه‌ها از کنترل خارج می‌شود و توده‌های غیرطبیعی در بیضه‌ها ایجاد می‌شود. برای پیشگیری از چنین بیماری‌هایی لازم است در مردان به‌ویژه بعد از ۴۵ سالگی کنترل دوره‌ای انجام شود.

اسپرم‌ها سه قسمت سر، تنه و دم دارند (شکل ۳). سر دارای یک هسته بزرگ، مقداری سیتوپلاسم و کیسه‌ای پر از آنزیم به نام **تارک تن (آکروزوم)** است. آکروزوم کلاه مانند و در جلوی هسته قرار دارد. آنزیم‌ها به اسپرم کمک می‌کنند تا بتواند در لایه‌های حفاظت‌کننده گامت ماده (تخمک) نفوذ کند. در تنه یا قطعه میانی تعداد زیادی راکیزه (میتوکندری) دارد. به نظر شما وجود راکیزه زیاد در اینجا چه اهمیتی دارد؟ دم با حرکات خود، اسپرم را به جلو می‌راند.



شکل ۳- ساختار اسپرم انسان

اندام‌های ضمیمه (کمکی)

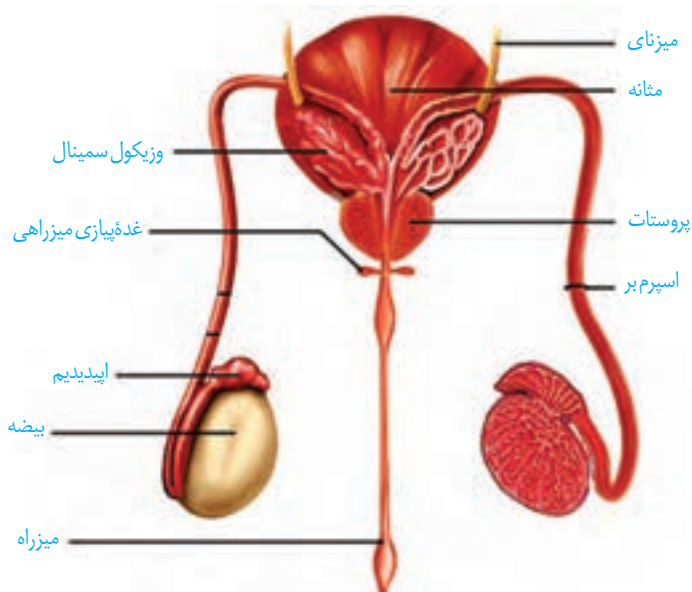
پس از تولید اسپرم در لوله‌های اسپرم‌ساز، آنها از بیضه خارج و به درون لوله‌ای پیچیده و طولی به نام **برخاگ (اپیدیدیم)** منتقل می‌شوند. این اسپرم‌ها ابتدا قادر به حرکت نیستند و باید حداقل ۱۸ ساعت در آنجا بمانند تا توانایی حرکت در آنها ایجاد شود.

سپس اسپرم‌ها وارد لوله طولی دیگری به نام **زامه بر (اسپرم بر)** می‌شوند. از هر بیضه یک لوله اسپرم بر خارج و وارد محوطه شکمی می‌شود. هر کدام از لوله‌های اسپرم بر در حین عبور از کنار و پشت مثانه ترشحات غده **گُشناب دان (وزیکول سمینال)** را دریافت می‌کنند. این غدد، مایعی غنی از فروکتوز را به اسپرم‌ها اضافه می‌کنند. فروکتوز انرژی لازم برای فعالیت اسپرم‌ها را فراهم می‌کند. دو مجرای اسپرم بر در زیر مثانه وارد غده **پروستات** شده و به میزراه متصل می‌شوند. غده پروستات در انسان به اندازه یک گردو است و حالتی اسفنجی دارد. این غده با ترشح مایعی شیرین رنگ و قلیایی به خنثی کردن مواد اسیدی موجود در مسیر عبور اسپرم به سمت گامت ماده، کمک می‌کند. بعد از پروستات، یک جفت غده به نام **پیازی میزراهی** نیز به میزراه متصل می‌شوند. این غده‌ها که به اندازه نخود فرنگی‌اند، ترشحات قلیایی و روان‌کننده‌ای را به مجرا اضافه می‌کنند (شکل ۴). به مجموع ترشحات سه نوع غده یاد شده که اسپرم‌ها را از طریق میزراه به بیرون از بدن منتقل می‌کنند، مایع منی گفته می‌شود.

با توجه به شکل ۴، مسیر عبور اسپرم را مشخص کنید.

واژه‌شناسی

برخاگ (epididymis/ اپیدیدیم) به معنای روی و بر روی و didymos به معنای بیضه است. برخاگ برگرفته از خاگ به معنای بیضه و بر به معنای روی بیضه است و به ساختاری رشته‌مانند بر روی بیضه اشاره دارد.



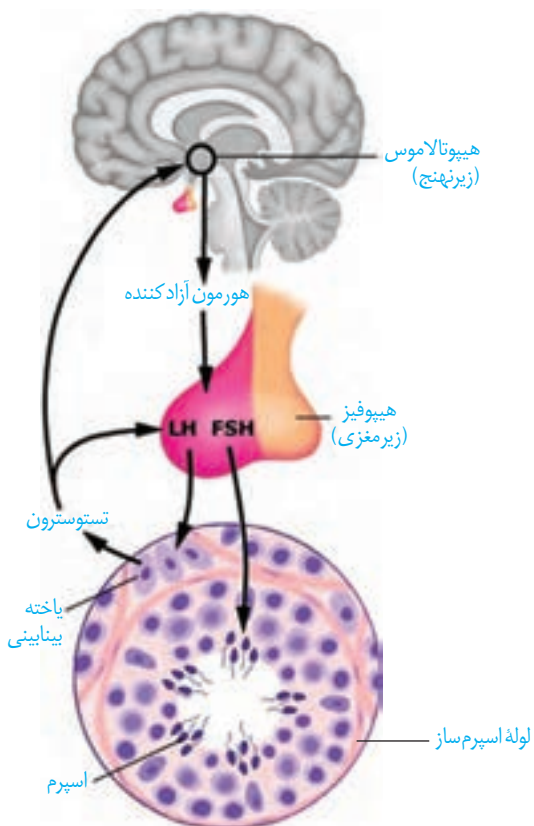
شکل ۴- مسیر عبور اسپرم (از نمای پشتی مئانه)

فعالیت ۲

با توجه به ترکیبات مایع منی و وجود تعداد زیادی اسپرم در آن، برای جلوگیری از بعضی از بیماری‌ها مثل عفونت، یا التهاب پروستات چه نکات بهداشتی را باید رعایت کرد؟ در این رابطه اطلاعاتی را جمع‌آوری و گزارش آن را در کلاس ارائه کنید.

هورمون‌ها فعالیت دستگاه تولید مثل در مرد را تنظیم

می‌کنند.



همان‌طور که در فصل‌های قبل خواندید از بخش پیشین زیر مغزی، دو هورمون محرک غدد جنسی ترشح می‌شود: «FSH» و «LH». اگرچه نام این هورمون‌ها به فعالیت آنها در جنس ماده مرتبط است، اما وجود آنها برای فعالیت دستگاه تولید مثل در مرد نیز ضروری است. در مردان، FSH یاخته‌های سرتولی را تحریک می‌کند تا اسپرم را تسهیل کنند و LH، یاخته‌های بینابینی را تحریک می‌کند تا هورمون تستوسترون را ترشح کنند. همان‌طور که می‌دانید تستوسترون ضمن تحریک رشد اندام‌های جنسی و اسپرم‌زایی باعث بروز صفات ثانویه در مردان می‌شود؛ مثل بم شدن صدا، رویدن مو در صورت و قسمت‌های دیگر بدن، رشد ماهیچه‌ها و استخوان‌ها.

تنظیم میزان ترشح این هورمون‌ها با سازوکار بازخورد منفی انجام می‌شود. (شکل ۴+۱)

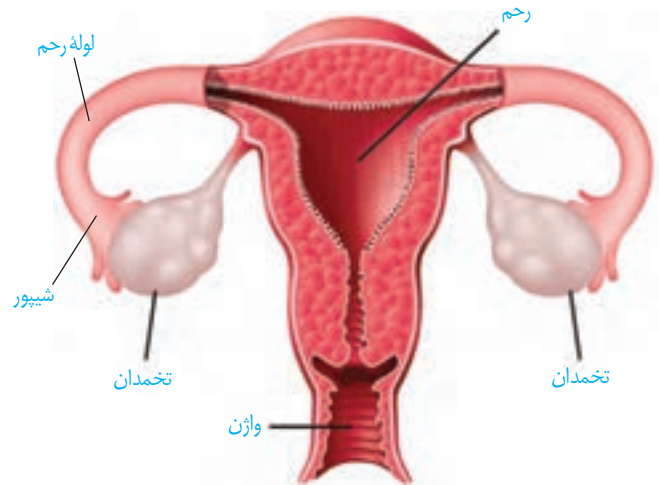
۱- Follicle Stimulating Hormone

۲- Luteinizing Hormone

شکل (۴+۱) تنظیم فعالیت دستگاه تولیدمثل در مرد

همان طور که در شکل ۵ می‌بینید، این دستگاه شامل اندام‌هایی است که مجموعاً نقش‌های زیر را بر عهده دارند.

- ۱- تولید یاخته جنسی ماده (تخمک)
- ۲- انتقال یاخته‌های جنسی ماده به سمت رحم
- ۳- ایجاد شرایط مناسب برای لقاح زامه (اسپرم) و تخمک
- ۴- حفاظت و تغذیه جنین در صورت تشکیل
- ۵- تولید هورمون‌های جنسی زنانه



تخمدان‌ها: غدد جنسی ماده‌اند که درون محوطه شکم قرار دارند و با کمک طنابی پیوندی و عضلانی به دیواره خارجی رحم متصل‌اند.

ساختار تخمدان با بیضه تفاوت دارد. درون آن لوله‌های بیج دریچ وجود ندارد. درون هر تخمدان نوزاد دختر در حدود یک میلیون **مام یاخته (اووسیت)** اولیه وجود دارد. هر اووسیت را یاخته‌های تغذیه‌کننده احاطه می‌کنند. به مجموعه آنها **انبانک (فولیکول)** گفته می‌شود. پس از تولد، تعداد این فولیکول‌ها افزایش نخواهد یافت و به دلایل نامعلومی تعداد زیادی از اووسیت و یاخته‌های تغذیه‌کننده از بین می‌روند. تغییراتی را که در تخمدان رخ می‌دهد در شکل ۶ می‌بینید.

شکل ۵- دستگاه تولید مثل در زن

واژه‌شناسی

مام یاخته (oocyte/اووسیت) مامه و مام به معنای مادر برای نشان دادن تخمک ماده به کار می‌رود. مام یاخته به معنای یاخته‌ای که پس از تقسیم کاستمانی، مامه یا تخمک ایجاد می‌کند و واژه‌هایی مثل مامه‌زایی، مام یاختک و مامه‌زا از همین کلمه ساخته می‌شود.



شکل ۶- تخمدان و تغییرات آن در دوره جنسی

بیشتر بدانید

احتمال بروز سرطان در غدد شیری سینه، گردن رحم و تخمدان‌ها زیاد است و در بین اینها سرطان سینه بیشترین فراوانی را در زنان دارد. علت این سرطان‌ها انجام تقسیم‌های یاخته‌ای غیر عادی در این قسمت‌ها است. در عین حال تقریباً همه سرطان‌های گردن رحمی به نوعی ویروس مرتبط است که با رعایت بهداشت احتمال بروز آن به شدت کاهش می‌یابد.

۱. Papillomavirus

واژه‌شناسی

انبانک (follicle/فولیکول) فولیکول با معنی حفره کوچک و گرد در میان بافت یا اندام و کیسه کوچک آمده است و واژه انبانک که از انبان به معنی کیسه به همراه (ک) علامت تصغیر تشکیل شده است همان معنی را می‌دهد.

بخش‌های دیگر دستگاه تولید مثل در زن شامل رحم، لوله‌های رحم، گردن رحم و زهراه (واژن) هستند. رحم، اندام کیسه مانند، گلابی شکل و ماهیچه‌ای است که جنین درون آن، رشد و نمو می‌یابد. دیواره داخلی رحم یا آندومتر، در دوران قاعدگی و بارداری دچار تغییراتی می‌شود. بخش پهن و بالای رحم به دو لوله متصل است که به آنها **لوله‌های رحم (فالوپ)** می‌گویند. انتهای این لوله‌ها، شیپور مانند و دارای زواید انگشت مانند است. پوشش داخلی لوله‌های رحم مخاطی و مژک دار است. زنش مژک‌های آن، اووسیت را به سمت رحم می‌رانند.

بخش پایین رحم، باریک‌تر شده که به آن **گردن رحم** می‌گویند. این قسمت به داخل واژن باز می‌شود. **واژن** محل ورود یاخته‌های جنسی نر، خروج خون قاعدگی و در هنگام زایمان طبیعی، محل خروج جنین است.

دوره جنسی در زنان

این دوره با قاعدگی یا عادت ماهانه شروع می‌شود که در آن دیواره داخلی رحم همراه با رگ‌های خونی تخریب و مخلوطی از خون و بافت‌های تخریب شده از بدن خارج می‌شود.

عادت ماهانه با بلوغ جنسی آغاز می‌شود ابتدا نامنظم، ولی کم‌کم منظم می‌شود. نظم آن مهم‌ترین شاخص کارکرد صحیح دستگاه تولید مثل زن است.

معمولاً در زن‌های سالم بین ۴۵ تا ۵۰ سالگی عادت ماهانه متوقف می‌شود که این پدیده را **یائسگی** می‌نامند. علت یائسگی از کار افتادن تخمدان‌هاست که زودتر از بقیه دستگاه‌های بدن پیر می‌شوند. پس دوره باروری و تولید مثلی در زن حدود ۳۰ تا ۳۵ سال است. تغذیه نامناسب، کار زیاد و سخت، فشار روحی و جسمی به گونه‌ای چشمگیر از طول این مدت می‌کاهد.

فعالیت ۳

شروع یائسگی همراه با علائمی است. در مورد علائم این دوره و روش‌های کاهش بروز این علائم، تحقیق کرده و گزارش آن را در کلاس ارائه کنید.

تخمک‌زایی

فرایند تخمک‌زایی از یاخته دیپلوئید و زاینده‌ای به نام **مامه‌زا (اووگونی)**، قبل از تولد و از دوران جنینی شروع می‌شود. مراحل تولید تخمک در شکل ۷ دیده می‌شود.

فعالیت ۴

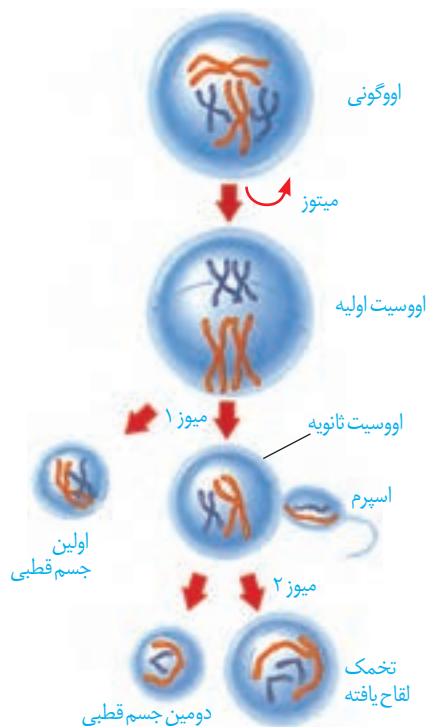
با توجه به شکل ۷ درباره پرسش‌های زیر با هم گفت‌وگو کنید.
در انسان اووسیت اولیه، ثانویه و تخمک از لحاظ کروموزومی با هم چه تفاوت‌هایی دارند؟
اولین جسم قطبی با دومین اجسام قطبی چه تفاوتی دارند؟
مراحل تخمک‌زایی در این شکل را با مراحل اسپرم‌زایی (شکل ۲) مقایسه کنید. شباهت‌ها و تفاوت‌های آنها را بنویسید.

مراحل تخمک‌زایی در دوران جنینی آغاز و پس از شروع میوز در پروفاز ۱ متوقف می‌شود. با رسیدن به سن بلوغ هر ماه در یکی از فولیکول‌ها اووسیت اولیه میوز را ادامه می‌دهد، ولی دوباره متوقف شده، یاخته حاصل به صورت اووسیت ثانویه از تخمدان خارج می‌شود. حرکت زوائد انگشت‌مانند انتهایی لوله رحم در اطراف آن، اووسیت ثانویه را به درون لوله رحم هدایت می‌کند. در صورتی تقسیم میوز کامل می‌شود که یاخته جنسی نر به آن برخورد کند و فرایند لقاح آغاز شود. در این حالت، اووسیت ثانویه تقسیم میوز را تکمیل می‌کند و تخمک ایجاد می‌کند که با اسپرم لقاح می‌یابد و تخم تشکیل می‌شود. اگر اسپرم با آن برخورد نکند یا لقاح آغاز نشود، اووسیت ثانویه همراه با خون ریزی دوره‌ای از بدن دفع می‌شود.

از تفاوت‌های اساسی تخمک‌زایی با اسپرم‌زایی تقسیم نامساوی سیتوپلاسم است به این صورت که در تخمک‌زایی پس از هر بار تقسیم هسته در میوز تقسیم نامساوی سیتوپلاسم صورت می‌گیرد؛ در نتیجه یک یاخته بزرگ و یک یاخته کوچک تر به نام گویچه قطبی به وجود می‌آید. این کار با هدف رسیدن مقدار بیشتری از سیتوپلاسم و اندامک‌ها به تخمک است تا بتواند در مراحل اولیه رشد و نمو جنین نیازهای آن را برآورده کند.

گویچه‌های قطبی به طور طبیعی، نقشی در رشد و نمو ندارند. به ندرت ممکن است اسپرم با گویچه قطبی نیز لقاح یابد و توده یاخته‌ای بی‌شکلی را ایجاد کند که پس از مدتی از بدن دفع می‌شود.

در جنس ماده، نوسانات هورمونی دو رویداد چرخه‌ای را پدید می‌آورد، این دو چرخه وابسته به هم در تخمدان‌ها و رحم انجام می‌شود. چرخه تخمدانی، زمان‌بندی بالغ شدن اووسیت را در تخمدان تنظیم و چرخه رحمی، رحم را برای بارداری آماده می‌کند.
شکل ۸ تغییرات فولیکول در تخمدان، آمادگی دیواره رحم و میزان چهار هورمون در طول یک دوره جنسی را نشان می‌دهد.

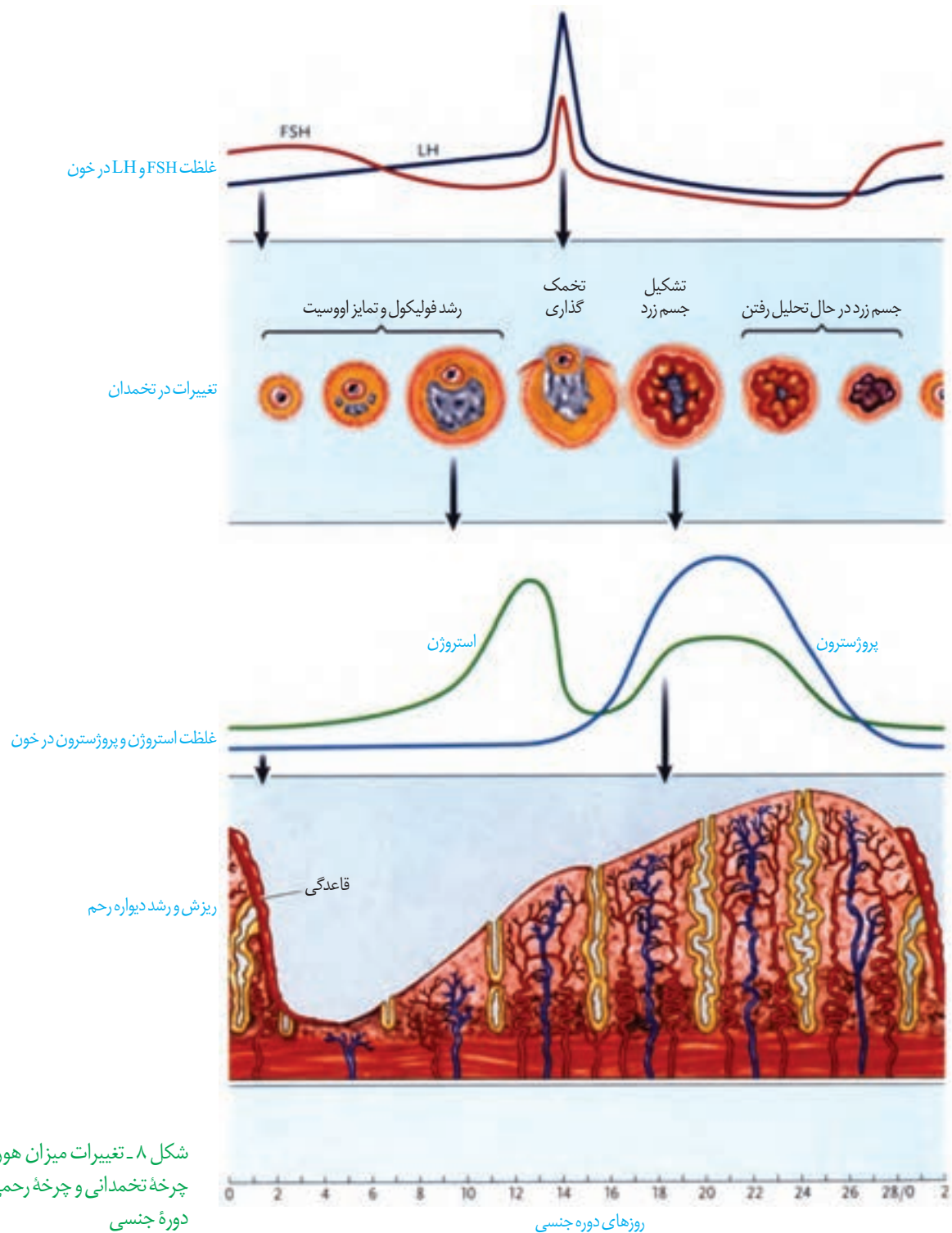


شکل ۷- مراحل تخمک‌زایی

فعالیت ۵

با توجه به نمودارهای شکل ۸ و تغییرات میزان هورمون‌های جنسی زنانه به موارد زیر پاسخ دهید:

- ۱- در نیمه هر دوره جنسی نقش کدام هورمون اهمیت بیشتری دارد؟
- ۲- بیشترین مقدار هر یک از هورمون‌ها در چه زمانی از دوره جنسی است؟
- ۳- بارزترین تغییرات هورمونی در دوره جنسی زنان چه موقعی رخ می‌دهد و مربوط به چیست؟



شکل ۸ - تغییرات میزان هورمون‌ها، چرخه تخمدانی و چرخه رحمی در یک دوره جنسی

چرخه تخمدانی: بیشتر خوانندگانی که در تخمدان اووسیت به همراه یاخته‌های اطرافشان فولیکول را تشکیل می‌دهند که از دوره جنینی در تخمدان‌ها وجود دارند. در هر دوره جنسی یکی از فولیکول‌هایی که از همه رشد بیشتری پیدا کرده است، چرخه تخمدانی را آغاز و ادامه می‌دهد.

لایه‌های یاخته‌ای این فولیکول تکثیر و حجیم می‌شوند و از یک سو شرایط رشد و نمو اووسیت درون فولیکول را فراهم و از سوی دیگر هورمون استروژن را ترشح می‌کنند که با رشد فولیکول میزان آن افزایش می‌یابد (شکل ۶).

چرخه تخمدانی با تأثیر هورمون‌های FSH و LH تنظیم و هدایت می‌شود. در سطح یاخته‌های فولیکولی گیرنده‌هایی وجود دارند که FSH به آنها متصل می‌شود. این اتصال فولیکول را تحریک کرده تا بزرگ و بالغ شود.

حدود روز چهاردهم دوره در فولیکول بالغ شده‌ای که در این زمان به دیواره تخمدان چسبیده است **تخمک‌گذاری** انجام می‌شود. در این فرایند، اووسیت ثانویه همراه با تعدادی از یاخته‌های فولیکولی از سطح تخمدان خارج و وارد محوطه شکمی می‌شوند. یاخته‌های فولیکولی چسبیده به اووسیت در ادامه مسیر به تغذیه و محافظت از آن کمک می‌کنند. زیاد شدن LH که در اثر افزایش ترشح استروژن رخ می‌دهد، عامل اصلی تخمک‌گذاری است. به دنبال تخمک‌گذاری، باقی‌مانده فولیکول در تخمدان به صورت توده یاخته‌ای در می‌آید که به آن **جسم زرد** می‌گویند. یاخته‌های جسم زرد با تأثیر هورمون LH فعالیت ترشحی خود را افزایش می‌دهند و دو هورمون استروژن و پروژسترون را ترشح می‌کنند. این هورمون‌ها وقایع رحم را در دوره جنسی ادامه می‌دهند. اگر بارداری رخ دهد، جسم زرد به فعالیت خود تا مدتی ادامه می‌دهد و با این هورمون‌ها جدار رحم و در نتیجه جنین جایگزین شده در آن حفظ می‌شود. اگر بارداری رخ ندهد، جسم زرد در اواخر دوره جنسی تحلیل می‌رود و به جسمی غیرفعال به نام **جسم سفید** تبدیل می‌شود. غیرفعال شدن جسم زرد باعث کاهش استروژن و پروژسترون در خون می‌شود. کاهش این هورمون‌ها موجب ناپایداری جدار رحم و تخریب و ریزش آن می‌شود که علامت شروع دوره جنسی بعدی است (شکل ۸).

چرخه رحمی: در رحم قاعدگی در روزهای اول هر دوره رخ می‌دهد که به طور متوسط هفت روز طول می‌کشد. پس از آن، دیواره داخلی رحم مجدداً شروع به رشد و نمو می‌کند ضخامت آن زیاد شده و در آن چین خوردگی‌ها، حفرات و اندوخته خونی زیادی به وجود می‌آید. همان‌طور که در شکل ۸ می‌بینید رشد و نمو دیواره داخلی تا بعد از نیمه دوره هم ادامه می‌یابد. پس از آن، سرعت رشد آن کم می‌شود ولی فعالیت ترشحی در آن افزایش می‌یابد. نتیجه این فعالیت‌ها آماده شدن جدار رحم برای پذیرش و پرورش تخمک لقاح یافته یا همان تخم است. اگر در حدود نیمه دوره جنسی اسپرم در مجاورت اووسیت ثانویه قرار گیرد، پس از تکمیل مراحل تخمک‌زایی لقاح صورت می‌پذیرد و تخم پس از انجام تقسیماتی در لوله رحمی، در یکی از فرورفتگی‌های جدار رحم **جایگزین** می‌شود. جایگزینی شامل نفوذ جنین به درون جدار رحم و ایجاد رابطه خونی و تغذیه‌ای با مادر است. اگر لقاح صورت نگیرد، اووسیت ثانویه بدون جایگزینی دفع می‌شود و حدود روز بیست‌وهشتم، تخریب دیواره داخلی و دفع خون (قاعدگی) آغاز می‌شود که شروع دوره جنسی و چرخه رحمی بعدی را نشان می‌دهد.

تمام وقایع گفته شده با تأثیر هورمون‌های جنسی زنانه (استروژن و پروژسترون) که از تخمدان‌ها ترشح می‌شوند انجام می‌گیرد (شکل ۸).

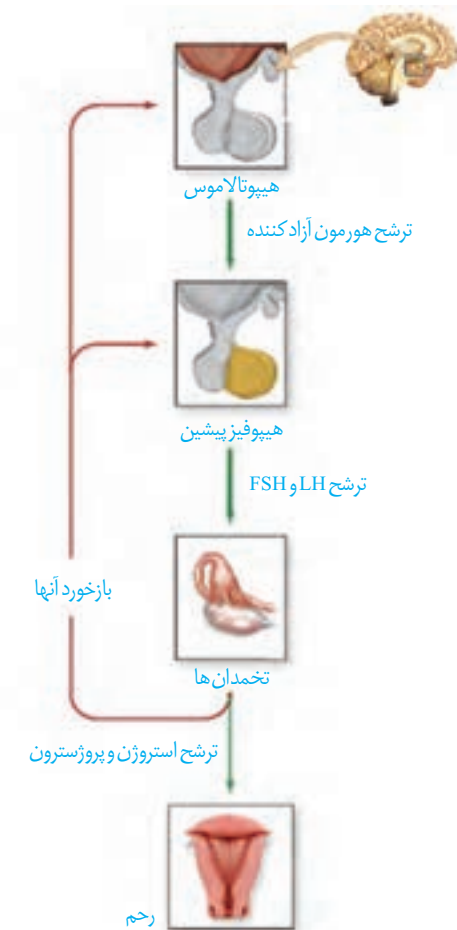


شکل ۹- تخمک‌گذاری تخمدان



شکل ۱۰- جسم زرد در تخمدان

تنظیم هورمونی دستگاه تولید مثل در زن



شکل ۱۱- غدد و هورمون‌های مؤثر در تولید مثل زن

هورمون‌های زیرنهنج، زیرمغزی پیشین (هیپوفیز پیشین) و تخمدان‌ها زمان وقایع متفاوت در دستگاه تولید مثل زن را تنظیم می‌کنند. تنظیم میزان این هورمون‌ها به صورت بازخوردی (خودتنظیم) انجام می‌شود (شکل ۱۱). همان‌طور که در منحنی‌های شکل ۸ دیدیم در ابتدای دوره مقدار دو هورمون جنسی استروژن و پروژسترون در خون کم است. این کمبود به هیپوتالاموس پیامی می‌دهد که هورمون آزادکننده‌ای ترشح کند. هورمون آزادکننده بخش پیشین هیپوفیز را تحریک می‌کند تا ترشح هورمون‌های FSH و LH را افزایش دهد. هورمون FSH موجب رشد فولیکول و هورمون LH موجب رشد جسم زرد می‌شود. با رشد فولیکول ترشح استروژن و با رشد جسم زرد ترشح پروژسترون افزایش می‌یابد.

استروژن و پروژسترون باعث رشد دیواره داخلی رحم و ضخیم شدن آن شده و با این کار، رحم را برای بارداری احتمالی آماده می‌کنند. همچنین با تأثیر روی هیپوتالاموس با بازخورد منفی از ترشح هورمون آزادکننده FSH و LH می‌کاهند. این بازخورد از رشد و بالغ شدن فولیکول‌های جدید در طول دوره جنسی جلوگیری می‌کند.

در انتهای دوره، کاهش میزان این هورمون‌ها در خون به‌ویژه روی دیواره داخلی رحم تأثیر می‌کند. استحکام آن کاهش یافته و در طول چند روز بعد، از هم می‌پاشد و قاعدگی رخ می‌دهد. کاهش پروژسترون و استروژن همچنین روی هیپوتالاموس اثر کرده و ترشح مجدد هورمون آزادکننده، FSH و LH را آغاز می‌کند که همان شروع دوره جنسی بعدی است.

استروژن در واقع دو نقش متضاد را ایفا می‌کند؛ افزایش اندک آن از آزاد شدن FSH و LH ممانعت می‌کند (بازخورد منفی) اما حدود روز چهاردهم دوره، افزایش یک‌باره آن، محرکی برای آزاد شدن مقدار زیادی FSH و LH از هیپوفیز پیشین می‌شود (بازخورد مثبت). این تغییر ناگهانی در مقدار هورمون‌ها، باعث می‌شود در تخمدان، باقی‌مانده فولیکول به جسم زرد تبدیل شود (شکل ۶ و ۸).

فعالیت ۶

در بعضی از منابع، دوره جنسی تخمدان‌ها را به دو قسمت فولیکولی و جسم زردی (لوتئال) تقسیم‌بندی می‌کنند. به نظر شما: ۱- هر قسمت مربوط به چه بخشی از دوره جنسی است؟ ۲- در هر قسمت، چه هورمون‌هایی از هیپوفیز بیشتر روی تخمدان اثر می‌گذارند؟ ۳- در هر قسمت چه هورمون‌هایی از تخمدان ترشح می‌شود و چه تغییری در میزان این هورمون‌ها رخ می‌دهد؟ ۴- جداکننده این دو بخش چه مرحله‌ای است؟

نوزاد آدمی، زندگی را به صورت یک یاخته تخم آغاز می‌کند. تخم با تقسیم‌های پی‌درپی و گذر از مراحل سرانجام به جنین و نوزاد متمایز می‌شود.

لقاح

اووسیت ثانویه پس از تخمک‌گذاری از طریق شیپور فالوپ وارد لوله رحم می‌شود. حرکات زوائد انگشت مانند، انقباض دیواره و زنش مژک‌های دیواره لوله رحم، اووسیت ثانویه را به سمت رحم حرکت می‌دهند. با ورود مایع منی به رحم میلیون‌ها اسپرم به سمت اووسیت ثانویه شنا می‌کنند، ولی فقط تعداد کمی از آنها در لوله رحم به اووسیت می‌رسند. برای ورود به اووسیت باید از دو لایه خارجی و داخلی اطراف آن عبور کنند. لایه خارجی، باقی‌مانده یاخته‌های فولیکولی و لایه داخلی، شفاف و ژله‌ای است (شکل ۱۲). در حین عبور اسپرم از لایه خارجی، کیسه آکروزوم پاره می‌شود تا آنزیم‌های آن لایه داخلی را هضم کند.

لقاح موقعی آغاز می‌شود که غشای یک اسپرم و غشای اووسیت ثانویه با همدیگر تماس پیدا کنند. در این زمان، ضمن ادغام غشای اسپرم با غشای اووسیت، تغییراتی در سطح اووسیت اتفاق می‌افتد که باعث ایجاد پوششی به نام **جدار لقاحی** می‌شود. جدار لقاحی از ورود اسپرم‌های دیگر به اووسیت جلوگیری می‌کند.

شکل ۱۲- برخورد و نفوذ اسپرم در اووسیت (تخمک)

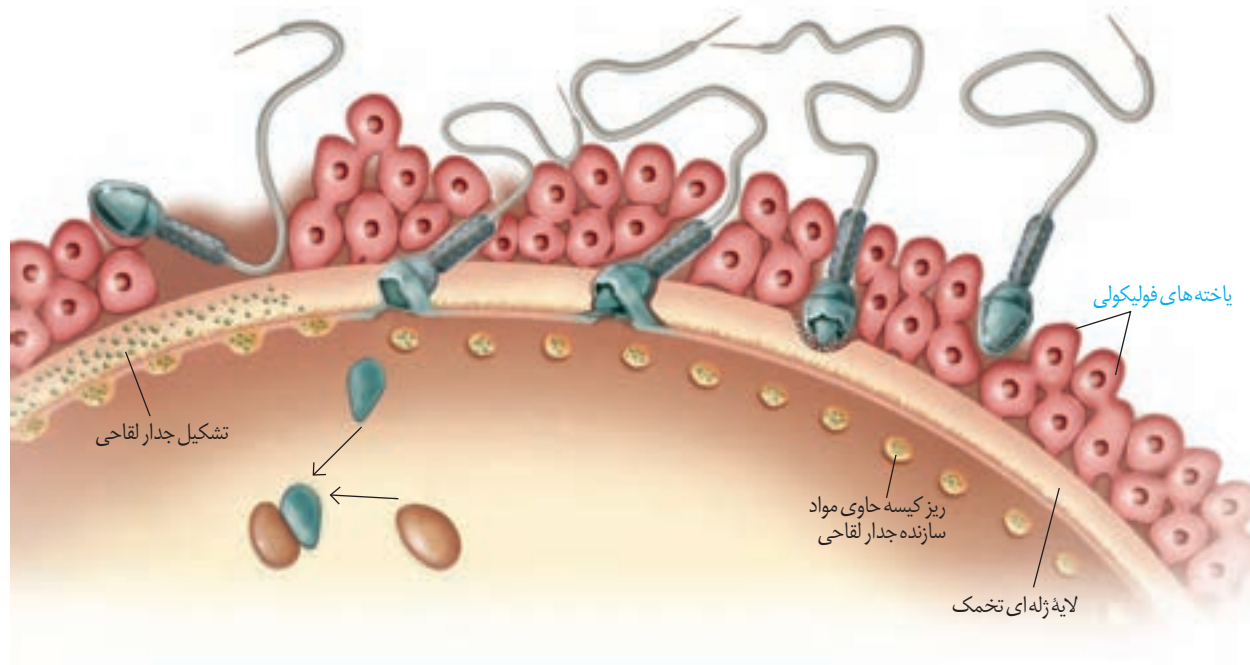
۵- تشکیل جدار لقاحی برای جلوگیری از ورود اسپرم‌های دیگر

۴- هسته اسپرم وارد تخمک نابالغ شده با هسته آن ادغام می‌شود.

۳- غشای اسپرم به غشای تخمک نابالغ ملحق می‌شود.

۲- آکروزوم اسپرم پاره شده، آنزیم‌های هضم‌کننده را آزاد تا لایه ژله‌ای را هضم کند.

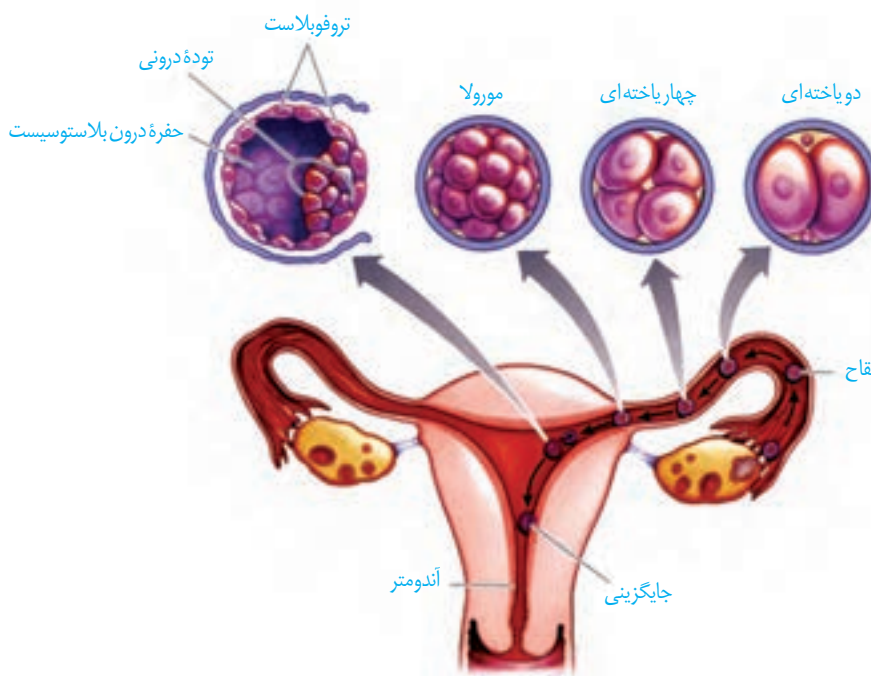
۱- اسپرم با فشار در بین یاخته‌های فولیکولی وارد می‌شود تا به لایه ژله‌ای تخمک برسد.



با ورود سراسپرم به اووسیت، هسته آن به درون سیتوپلاسم وارد می‌شود. در همین حال، اووسیت ثانویه، میوز را تکمیل می‌کند و به تخمک تبدیل می‌شود. هسته تخمک با هسته اسپرم ادغام می‌شود و یاخته تخم با ۲۳ جفت کروموزوم شکل می‌گیرد (شکل ۱۲).

وقایع پس از لقاح

حدود ۳۶ ساعت پس از لقاح، یاخته تخم تقسیمات میتوزی خود را شروع می‌کند. نتیجه آن، ایجاد توده یاخته‌ای است که تقریباً به اندازه تخم است؛ زیرا یاخته‌های حاصل از تقسیم رشد نکرده‌اند. این توده پریاخته‌ای توپر با نام **مورولا** در لوله رحم به سمت رحم حرکت می‌کند. پس از رسیدن به رحم به شکل کره توخالی در آمده و درون آن با مایعات پرمی‌شود. در این مرحله، به آن **بلاستوسیست** گفته می‌شود. بلاستوسیست، یک لایه بیرونی به نام **تروفوبلاست** دارد که در مراحل بعدی **پرون شامه جنین** (**پرده کوریون**) را می‌سازد. کوریون به همراه بخشی از دیواره رحم **جفت** را تشکیل می‌دهد (شکل ۱۳).



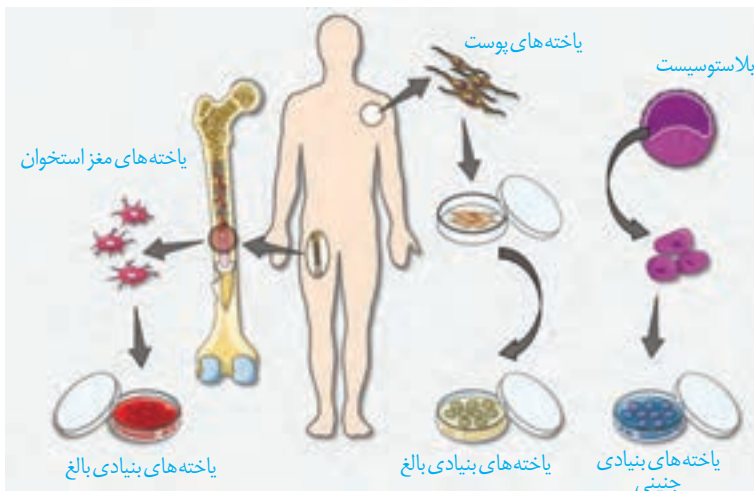
شکل ۱۳- مراحل اولیه رشد جنین

یاخته‌های درون بلاستوسیست **توده یاخته‌ای درونی** را تشکیل می‌دهند. این یاخته‌ها حالت بنیادی دارند و منشأ بافت‌های مختلف تشکیل دهنده جنین هستند. **یاخته‌های بنیادی**، یاخته‌هایی تخصص نیافته‌اند که توانایی تبدیل شدن به یاخته‌های متفاوتی را دارند. از توده درونی لایه‌های زاینده جنینی شکل می‌گیرند که هر کدام منشأ بافت‌ها و اندام‌های مختلف‌اند.

یاخته‌های بنیادی: جانوران عموماً دو دسته یاخته‌های بنیادی دارند:

جنینی و بالغ (شکل مقابل).

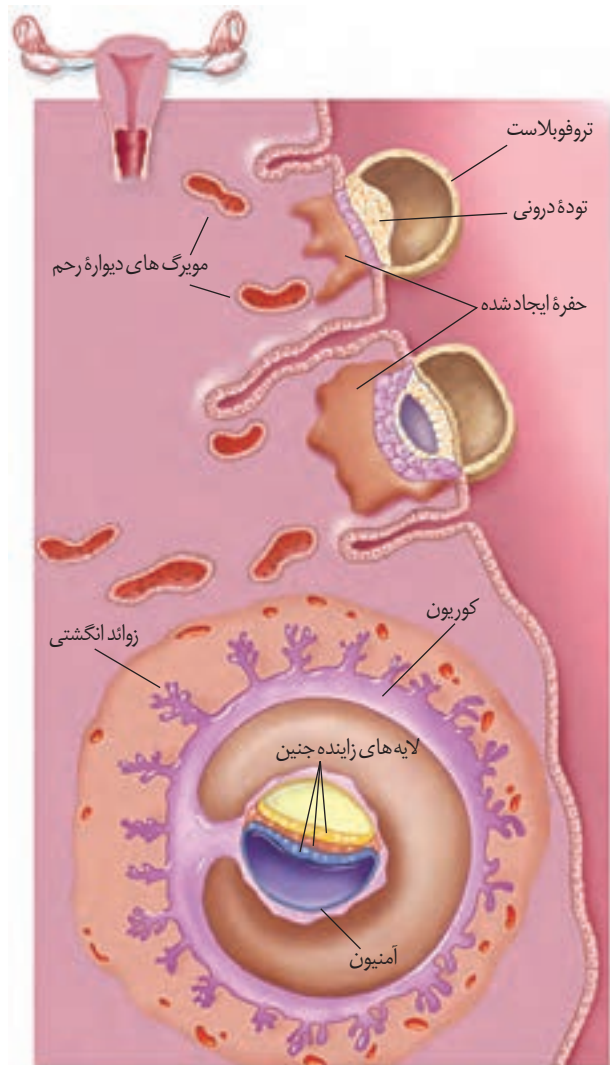
یاخته‌های بنیادی جنینی می‌توانند به تمامی یاخته‌های مورد نیاز بدن تبدیل شوند. انواع بالغ تا حدی تمایز یافته‌اند و توانایی محدودی در تولید یاخته‌های دیگر دارند. یاخته‌های بنیادی مغز استخوان و پوست از این نوع‌اند. خون موجود در رگ‌های بند ناف، منبعی سرشار از یاخته‌های بنیادی جنینی است. در حال حاضر، یاخته‌های بنیادی در پژوهش‌های پزشکی و زیست‌شناسی، اهمیت زیادی دارند و پیش‌بینی می‌شود در آینده در درمان بسیاری از بیماری‌های علاج‌ناپذیر مثل صدمات نخاعی، پارکینسون، دیابت و بیماری‌های قلبی، مؤثر واقع شوند.



در ادامه یاخته‌های لایه بیرونی بلاستوسیت، آنزیم‌های هضم‌کننده‌ای را ترشح می‌کنند که یاخته‌های جدار رحم را تخریب کرده و حفره‌ای ایجاد می‌کنند که بلاستوسیت در آن جای می‌گیرد. به این فرایند **جایگزینی** گفته می‌شود. یاخته‌های جنین در این مرحله مواد مغذی مورد نیاز خود را از این بافت‌های هضم‌شده به دست می‌آورند (شکل ۱۴).

بعد از جایگزینی، پرده‌های محافظت‌کننده در اطراف جنین تشکیل می‌شوند که مهم‌ترین آنها **درون‌شامه جنین (آمنیون)** و برون‌شامه جنین (کورین) هستند. آمنیون در حفاظت و تغذیه جنین نقش دارد. کورین در تشکیل جفت و بند ناف دخالت می‌کند. جفت رابط بین بند ناف و دیواره رحم است.

کورین، هورمونی به نام HCG ترشح می‌کند که وارد خون مادر می‌شود و اساس تست‌های بارداری است. این هورمون سبب حفظ جسم زرد و تداوم ترشح هورمون پروژسترون از آن می‌شود. وجود این هورمون‌ها در خون از قاعدگی و تخمک‌گذاری مجدد جلوگیری می‌کند.



شکل ۱۴- جایگزینی جنین در رحم

تشکیل بیش از یک جنین

در حین تقسیمات اولیه تخم ممکن است یاخته‌های بنیادی از هم جدا شوند، یا توده درونی بلاستوسیست به دو یا چند قسمت تقسیم شود. در این حالت، بیش از یک جنین شکل می‌گیرند که این جنین‌ها همسان‌اند. اگر این جنین‌ها کاملاً از هم جدا نشوند، به هم چسبیده متولد می‌شوند.

ممکن است تخمدان‌های یک فرد در یک دوره بیش از یک اووسیت ثانویه آزاد کنند و دو یا چند لقاح انجام شود. در این حالت، اگر مراحل رشد و نمودر آنها کامل شود، دوقلو یا چندقلوهای ناهمسان متولد می‌شوند که ممکن است شباهتی به هم نداشته و حتی از لحاظ جنسیت هم متفاوت باشند (شکل ۱۵).



(ب)



(الف)

واژه‌شناسی

درون شامه جنین (amnion/آمניون) برون شامه جنین (chorion/کوریون) شامه به معنی پرده و پوشش است، جنین توسط دو پرده محافظت می‌شود:

یک پرده درونی تر به نام درون شامه و دیگری که بیرون قرار می‌گیرد به نام برون شامه. برای جلوگیری از خلط آنها با پرده‌های قلب کلمه جنین پشت آنها قرار می‌گیرد.

شکل ۱۵- دوقلوهای (الف) ناهمسان و (ب) همسان

فعالیت ۷

- ۱- دوقلوهای ناهمسان از لحاظ جنسیت می‌توانند مشابه یا متفاوت باشند، به نظر شما علت چیست؟
- ۲- دوقلوهای به هم چسبیده از لحاظ جنسیت و سایر صفات ظاهری نسبت به هم چگونه‌اند؟
- ۳- در مورد اثر انگشت دوقلوهای همسان و ناهمسان اطلاعاتی را جمع‌آوری و گزارش آن را در کلاس ارائه کنید.

از طرف دیگر ممکن است در بعضی از زنان یا مردان، یاخته جنسی تولید نشود یا به دلایلی بین اسپرم و تخمک، لقاح موفق انجام نشود. در این صورت، بحث ناباروری مطرح می‌شود که با روش‌هایی و با کمک فناوری، بعضی از آنها را برطرف می‌کنند.

کنترل ورود و خروج مواد در جفت

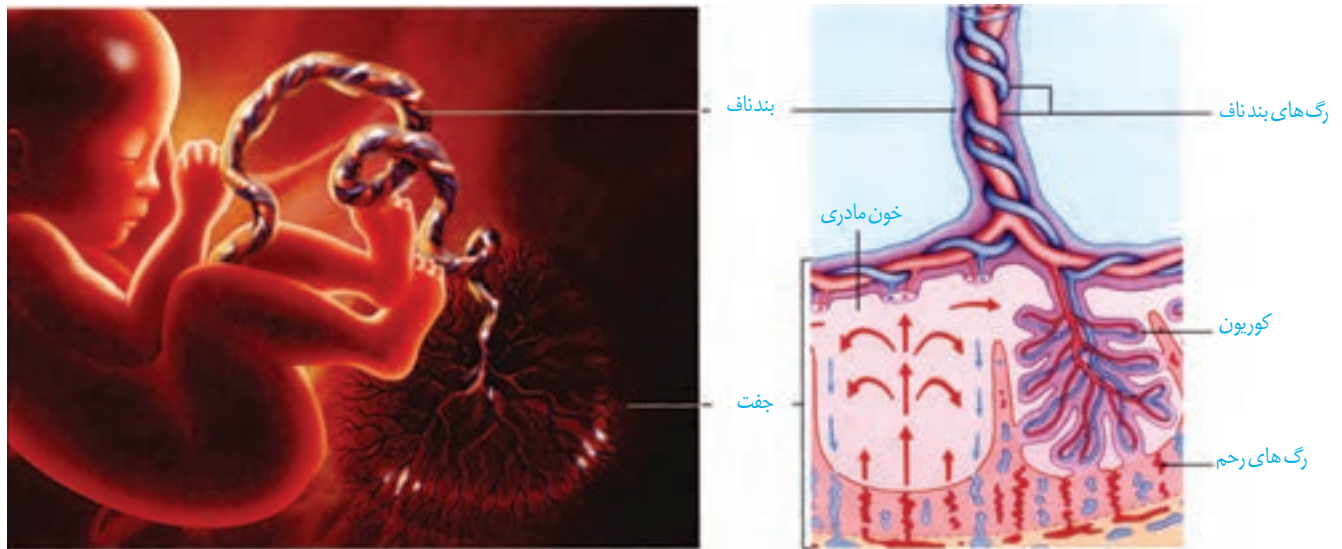
بیشتر بدانید

بیش از نیمی از زنان، بارداری را در سه ماهه اول به صورت تهوع و استفراغ صبحگاهی نشان می‌دهند که ناشی از ورود مواد دفعی جنین به داخل خون مادر است. تمایل بیشتر یا عدم تمایل به بعضی غذاها نیز در بیشتر افراد بروز می‌کند که به آن ویار گفته می‌شود. علت آن تغییر مقدار هورمون‌های بدن و تغییر در حس چشایی و بویایی است. البته افزایش نیازهای غذایی بدن به دلیل بارداری نیز در آن مؤثر است.

تمایز جفت از هفته دوم بعد از لقاح شروع می‌شود، ولی تا هفته دهم ادامه دارد. بند ناف رابط بین جنین و جفت است که در آن سرخرگ‌ها خون جنین را به جفت می‌برند و سیاهرگ، خون را از جفت به جنین می‌رساند. خون مادر و جنین در جفت به دلیل وجود پرده کوریون مخلوط نمی‌شود، ولی می‌تواند بین دو طرف این پرده مبادله مواد صورت گیرد (شکل ۱۶).

مواد مغذی، اکسیژن و بعضی از پادتن‌ها از طریق جفت به جنین منتقل می‌شوند تا جنین تغذیه و محافظت شود. و مواد دفعی جنین نیز از همین طریق به خون مادر منتقل می‌شود. در عین حال، عوامل بیماری‌زا و موادی مانند نیکوتین، کوکائین و الکل نیز می‌توانند از جفت عبور کنند و روی رشد و نمو جنین تأثیر سوء بگذارند.

با توجه به عبور مواد از جفت و تأثیر زیان‌آور بعضی از داروها روی رشد و نمو، زنان باردار باید از مصرف هرگونه دارو در دوران بارداری، به‌جز با تجویز پزشک متخصص، خودداری کنند.



شکل ۱۶- جفت و ارتباط آن با مادر و جنین

فعالیت ۸

مادران باردار ممکن است تا پایان هفته چهارم بعد از لقاح هنوز از بارداری خود مطلع نباشد. با توجه به زمان‌های چرخه قاعدگی به نظر شما این مادران از نظر قاعدگی در چه وضعیتی هستند؟

بیشتر بدانید

تشخیص ناهنجاری‌های ژنتیکی پیش از تولد

بسیاری از والدین قبل از تولد فرزندشان دغدغه و نگرانی بروز ناهنجاری‌های احتمالی را در فرزندشان دارند و دوست دارند از این نگرانی خارج شوند. تشخیص پیش از تولد، می‌تواند به این افراد کمک کند. برای این آزمایش‌ها، مقداری از مایع درون کیسه آمنیون یا بخشی از زوائد انگشت مانند کوریون را خارج می‌کنند. یاخته‌های آنها را کشت می‌دهند و از آنها، کاربوتیپ تهیه می‌کنند. چون محتوای ژنتیک این یاخته‌ها با جنین یکسان است، می‌توان ناهنجاری‌های کروموزومی مثل نشانگان داون را در کاربوتیپ آنها تشخیص داد.

همزمان با تشکیل جفت یاخته‌های توده درونی لایه‌های زاینده را تشکیل می‌دهند که از رشد و تمایز آنها بافت‌های مختلف جنین ساخته می‌شود. ابتدا رگ‌های خونی و روده شروع به نمو می‌کنند سپس جوانه‌های دست و پا ظاهر می‌شوند. در انتهای ماه اول اندام‌های اصلی شروع به تشکیل شدن می‌کنند و ضربان قلب آغاز می‌شود. در طی ماه دوم همه اندام‌ها شکل مشخص می‌گیرند. در انتهای سه ماه اول اندام‌های جنسی مشخص شده و جنین دارای ویژگی‌های بدنی قابل تشخیص می‌شود. در سه ماهه دوم و سوم، جنین به سرعت رشد می‌کند و اندام‌های آن شروع به عمل می‌کنند به‌طوری‌که در انتهای سه ماهه سوم قادر است در خارج از بدن مادر زندگی کند.

صوت‌نگاری (سونوگرافی)

در این روش تشخیصی، از امواج صوتی با بسامد (فرکانس) بالا استفاده می‌کنند. این امواج برخلاف اشعه X که در رادیولوژی از آن استفاده می‌شود، برای جنین ضرری ندارد. امواج را با کمک دستگاهی به درون بدن می‌فرستند و بازتاب آنها را دریافت کرده به صورت تصویر ویدئویی نشان می‌دهند. تشخیص بارداری در ماه اول، اندازه‌گیری ابعاد جنین برای تعیین سن، جنسیت جنین، سالم بودن جنین از لحاظ حرکتی و عملکرد بعضی از اندام‌ها مثل قلب از جمله مواردی است که در صوت‌نگاری، مشخص می‌شود.

فعالیت ۹

تعیین زمان تولد

متخصصان زنان و زایمان در پیش بینی زمان تولد نوزاد ۲۸۴ روز را به زمان شروع آخرین قاعدگی مادر اضافه می‌کنند. با توجه به نمودارهای شکل ۸ به پرسش‌های زیر پاسخ دهید.

- چه ارتباطی بین قاعدگی و بارداری شخص وجود دارد؟

- چرا روز شروع آخرین قاعدگی را در نظر می‌گیرند؟

- گفته می‌شود مدت زمان بارداری ۳۸ هفته یا ۲۶۶ روز است. چرا پزشکان ۲۸۴ روز را

مطرح می‌کنند؟

بیشتر بدانید

فناوری‌های کمک به رفع

ناباروری

- تلقیح مصنوعی

:(Artificial Insemination)

در این روش، اسپرم سالم شوهر، توسط متخصص در مجرای تولید مثلی زن، در کنار اووسیت قرار داده می‌شود. زوج‌هایی که شوهر به دلیل تعداد کم اسپرم عقیم است یا اسپرم ناسالم زیاد دارند ممکن است متقاضی این روش باشند.

- لقاح آزمایشگاهی

:(In Vitro Fertilization or IVF)

در این روش، اسپرم و تخمک در خارج از بدن زن، لقاح می‌یابند. در بعضی زنان ممکن است تخمدان و رحم سالم، ولی لوله‌های رحمی مسدود باشند، یا ممکن است شخصی بخواهد از تخمک اهدایی به جای تخمک خود استفاده کند. در این روش، تخمک و اسپرم را با محیط کشت حاوی مایعات رحم مخلوط می‌کنند. تخم لقاح یافته، دو یا سه بار تقسیم می‌شود و به همین صورت آن را وارد رحم می‌کنند. در این روش دوقلو زایی و بیشتر، زیاد رخ می‌دهد. آیا می‌دانید چرا؟

تولد-زایمان

در ابتدا سر جنین به سمت پایین فشار وارد و کیسه آمنیون را پاره می‌کند. در نتیجه، مایع آمنیوتیک یک مرتبه به بیرون رانده می‌شود. خروج این مایع، نشانه نزدیک بودن زایمان است. هورمون‌ها در این مرحله نقش اساسی دارند؛ از جمله اکسی توسین که ماهیچه‌های دیواره رحم را تحریک می‌کند، تا انقباض آغاز شود و در ادامه، دفعات و شدت انقباض را مرتباً بیشتر می‌کند. به همین دلیل، پزشکان برای سرعت دادن به زایمان اکسی توسین را به مادر تزریق می‌کنند. شروع انقباض ماهیچه‌های رحم با دردهای زایمان همراه است. دهانه رحم در هر بار انقباض، بیشتر باز می‌شود و سر جنین بیشتر به آن فشار می‌آورد. با افزایش انقباضات ترشح اکسی توسین با باز خورد مثبت افزایش یافته و باعث می‌شود نوزاد آسان‌تر و زودتر از رحم خارج شود. به طور طبیعی ابتدا سر و سپس بقیه بدن از رحم خارج می‌شود. در مرحله بعد با ادامه انقباض رحم، جفت و اجزای مرتبط با آن، از رحم خارج می‌شود. هورمون اکسی توسین، علاوه بر تأثیر در زایمان، ماهیچه صاف غدد شیری را نیز منقبض می‌کند تا خروج شیر انجام شود. البته تحریک گیرنده‌های موجود در غدد شیری با مکیدن نوزاد، اتفاق می‌افتد و از طریق باز خورد مثبت، تنظیم می‌شود. مکیدن نوزاد باعث افزایش هورمون‌ها و افزایش تولید و ترشح شیر می‌شود.

فعالیت ۱۰

علاوه بر زایمان طبیعی، تولد نوزاد با عمل جراحی (سزارین)

نیز انجام می‌شود. پزشکان زنان و زایمان، بیشتر توصیه می‌کنند که

زایمان به صورت طبیعی انجام شود. در مورد جنبه‌های مثبت و منفی جراحی سزارین،

اطلاعاتی را جمع‌آوری کنید و نتایج به دست آمده را به صورت گزارش در کلاس ارائه کنید.

بیشتر بدانید

سقط جنین (پایان بارداری قبل از زایمان):

عوامل مختلفی می‌تواند باعث سقط جنین شود. در این حالت، جنین کامل نشده از دیواره رحم جدا و از بدن مادر خارج می‌شود یا به عبارتی، بارداری به اتمام می‌رسد. سقط اگر در مراحل اولیه بارداری صورت گیرد بیشتر ناشی از وجود ناهنجاری‌های کروموزومی شدید مثل پلی‌پلوئید در جنین است. اما اگر در سه ماهه دوم اتفاق بیفتد، عامل آن ممکن است از طرف مادر باشد؛ مثلاً در اثر دیابت، فشار خون بالا، ناهنجاری‌های هورمونی، بیماری‌های عفونی، مشکل رحمی، یا مصرف مواد اعتیادآور ممکن است سقط رخ دهد. اما دلیل بیشتر سقط‌های جنین مشخص نیست.

بیشتر بدانید

بیماری‌های مقاربتی

همان‌طور که می‌دانید یکی از راه‌های انتقال عوامل بیماری‌زا از فردی به فرد دیگر ارتباط جنسی است. به این بیماری‌ها مقاربتی گویند. بعضی از آنها عبارت‌اند از:

بیماری	بعضی از علائم و پیامدها	عامل
عفونت کلامیدیا	خروج ترشحات چرکی، خارش، التهاب ناحیه لگن، دفع ادرار با سوزش	باکتری
سوزاک	خروج ترشحات چرکی، خارش، التهاب ناحیه لگن، دفع ادرار با سوزش	باکتری
سیفلیس	زخم سفت بدون درد و خارش در پوست و اندام تناسلی، لکه‌های قرمز رنگ در کف دست و پا، تب	باکتری
هپاتیت B	زرد شدن پوست، علائم مشابه آنفلوانزا	ویروس
ایدز	ضعف سیستم ایمنی، مستعد شدن برای ابتلا به انواع بیماری	ویروس
هرپس تناسلی	تاول‌های دردناک در ناحیه تناسلی، ران یا باسن، افزایش احتمال بروز سرطان	ویروس
زگیل‌های تناسلی	بروز زگیل‌های دردناک در ناحیه تناسلی، افزایش احتمال بروز سرطان	ویروس
تریکوموناسیس	سوزش، خارش و ترشحات چرکی	آغازی

بیشتر بدانید

جنین در هفته‌های مختلف بعد از لقاح (بارداری)



هفته دوازدهم



هفته چهارم



هفته سی و هشتم



هفته بیست و هشتم

اساس تولید مثل جنسی در همه جانوران مشابه است، ولی در چگونگی انجام، مراحل آن و حفاظت و تغذیه جنین، تفاوت‌هایی وجود دارد که به بعضی از آنها اشاره می‌کنیم.

نحوه لقاح

در آبزیان مثل ماهی‌ها، دوزیستان و بی‌مهرگان آبزی لقاح خارجی دیده می‌شود. در این روش، والدین گامت‌های خود را در آب می‌ریزند و لقاح در آب صورت می‌گیرد. برای افزایش احتمال برخورد گامت‌ها، والدین تعداد زیادی گامت را هم‌زمان وارد آب می‌کنند. برای هم‌زمان شدن ورود گامت‌ها به آب عوامل متعددی دخالت دارد از جمله دمای محیط، طول روز، آزاد کردن مواد شیمیایی توسط نر یا ماده یا بروز بعضی رفتارها مثل رقص عروسی در ماهی‌ها (شکل ۱۷).



شکل ۱۷-رقص عروسی ماهی‌ها

لقاح داخلی در جانوران خشکی‌زی و بعضی از آبزیان مثل سخت‌پوستان و بعضی ماهی‌ها مثل کوسه دیده می‌شود. در این جانوران، اسپرم وارد دستگاه تولید مثلی فرد ماده می‌شود و لقاح در بدن ماده انجام می‌شود. انجام این نوع لقاح، نیازمند دستگاه‌های تولید مثلی با اندام‌های تخصص یافته است. در اسبک ماهی جانور ماده، تخمک را به درون حفره‌ای در بدن جنس نر منتقل می‌کند. لقاح در بدن نر انجام می‌شود و جنس نر، جنین‌ها را در بدن خود نگه می‌دارد، پس از طی مراحل رشد و نمو، نوزادان متولد می‌شوند.

واژه‌شناسی

نرماده (Hermaphrodite)

هرمافروdit (هرمافروdit)

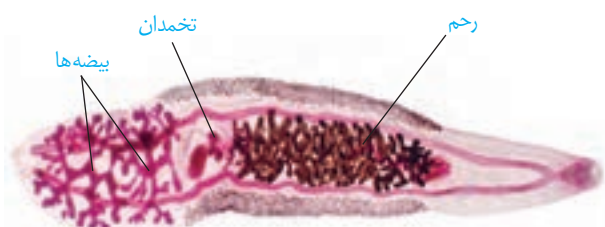
هرمافروdit از دو کلمه Hermes به معنی مذکر و aphrodite به معنی مؤنث است و به موجودی اشاره دارد که هر دو اندام تناسلی نر و ماده را دارد. واژه نرماده نیز صورت صریح همین مفهوم است.

تولید مثل جنسی در جانورانی که حرکت کندی دارند و یا امکان جفت‌یابی ندارند، مشکل‌ساز است؛ زیرا جفت‌یابی به سختی صورت می‌گیرد. رفع این مشکل به دو صورت انجام شده است:

نرماده (هرمافروdit): به طور مثال در کرم‌های پهن و حلقوی دیده می‌شود. در این جانوران، یک فرد هر دو نوع دستگاه تولید مثلی نر و ماده را دارد. در کرم‌های پهن مثل کرم کبک، هر فرد تخمک‌های خود را بارور می‌کند (شکل ۱۸-الف). در مورد کرم‌های حلقوی، مثل کرم خاکی، لقاح دو طرفی انجام می‌شود؛ یعنی وقتی دو کرم خاکی در کنار هم قرار می‌گیرند، اسپرم‌های هر کدام تخمک‌های دیگری را بارور می‌سازد (شکل ۱۸-ب).



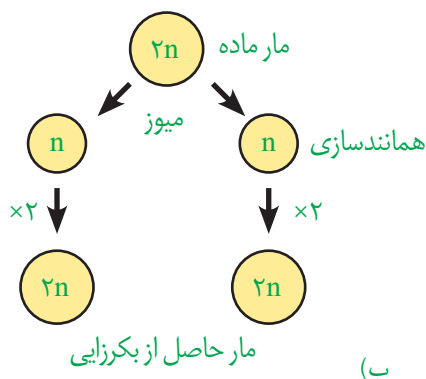
(ب)



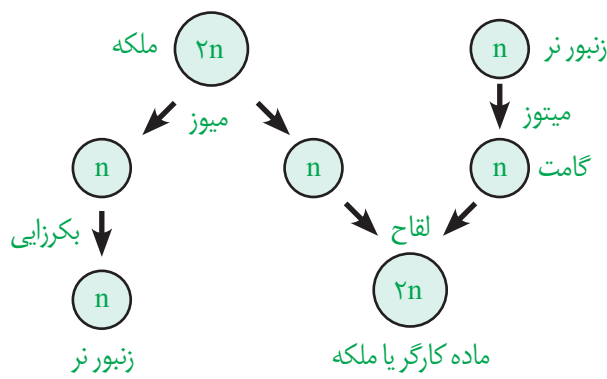
(الف)

شکل ۱۸- هرمافروdit الف و ب

بکرزایی نوعی دیگر از تولید مثل جنسی است و برای مثال، در زنبور عسل و بعضی مارها دیده می‌شود. در این روش، فرد ماده گاهی اوقات به تنهایی تولید مثل می‌کند. در این حالت، یا تخمک بدون لقاح شروع به تقسیم می‌کند و موجود تک‌لاد (هاپلوئید) را به وجود می‌آورد (شکل ۱۹-الف) یا از روی کروموزوم‌های تخمک یک نسخه ساخته می‌شود تا کروموزوم‌های تخمک دو برابر شوند و سپس شروع به تقسیم می‌کند و موجود دولاد (دیپلوئید) را به وجود می‌آورد (شکل ۱۹-ب).



(ب)



(الف)

شکل ۱۹- انواع بکرزایی الف و ب

تغذیه و حفاظت جنین

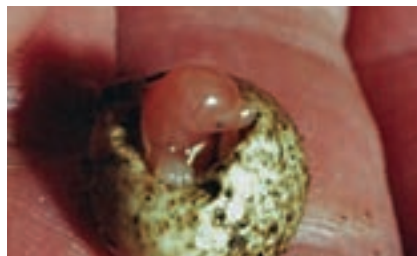
مواد غذایی مورد نیاز جنین تا چند روز پس از لقاح و تشکیل تخم از اندوخته غذایی تخمک تأمین می‌شود. این اندوخته مخلوطی از مواد مغذی متفاوت است. اندازه تخمک در جانوران مختلف بستگی به میزان اندوخته دارد. در جانوران تخم‌گذار اندوخته غذایی تخمک زیاد است؛ زیرا در دوران جنینی ارتباط غذایی بین مادر و جنین وجود ندارد. در پستانداران به دلیل ارتباط خونی بین مادر و جنین و در ماهی‌ها و دوزیستان به علت دوره جنینی کوتاه میزان این اندوخته کم است. در جانورانی که لقاح خارجی دارند تخمک دیواره‌ای چسبناک و ژله‌ای دارد که پس از لقاح، تخم‌ها را به هم می‌چسباند. این لایه ژله‌ای ابتدا از جنین در برابر عوامل نامساعد محیطی محافظت می‌کند و سپس به عنوان غذای اولیه مورد استفاده جنین قرار می‌گیرد (شکل ۲۰).



شکل ۲۰ - لایه ژله‌ای اطراف تخم‌های قورباغه

در جانورانی که لقاح داخلی دارند، حفاظت جنین به صورت‌های متفاوتی انجام می‌شود. در جانوران تخم‌گذار وجود پوسته ضخیم در اطراف تخم از جنین محافظت می‌کند. البته برای محافظت بیشتر در خزندگانی مثل لاک‌پشت تخم‌ها با ماسه و خاک پوشانده می‌شوند. پرندگان روی تخم‌ها می‌خوابند و پستاندار تخم‌گذاری مثل پلاتی‌پوس، تخم را در بدن خود نگه می‌دارد و چند روز مانده به تولد نوزاد، تخم‌گذاری می‌کند و روی آنها می‌خوابد تا مراحل نهایی رشد و نمو طی شود (شکل ۲۱). در پستانداران کیسه‌دار، مثل کانگورو جنین ابتدا درون رحم ابتدایی مادر رشد و نمو را آغاز می‌کند. به دلیل مهیا نبودن شرایط به صورت نارس متولد می‌شود و خود را به درون کیسه‌ای که بر روی شکم مادر است می‌رساند. در آنجا ضمن حفاظت، از غدد شیری درون آن تغذیه می‌کند تا مراحل رشد و نمو را کامل کند.

در پستانداران جفت‌دار، جنین درون رحم مادر رشد و نمو را آغاز و از طریق اندامی به نام جفت با خون مادر مرتبط می‌شود و از آن تغذیه می‌کند. در این جانوران، بهترین شرایط ایمنی و تغذیه برای جنین مهیاست. پس از تولد هم از غدد شیری مادر تغذیه می‌کند تا زمانی که بتواند به طور مستقل به زندگی ادامه دهد.



پ) تخم پلاتی‌پوس



ب) تخم پرند در آشیانه



شکل ۲۱- الف) تخم‌های لاک‌پشت



فصل ۸


تولید مثل نهان دانگان

نهان دانگان تنها گروه از گیاهان اند که گل تولید می کنند. تولید گل برای گیاهان هزینه بر است؛ به ویژه تولید گل هایی که رنگ های گوناگون، ترکیبات معطر و شهد دارند. آیا می دانید چرا؟ با وجود این، گیاهان گل دار بیشترین گیاهان روی زمین اند و توانسته اند پهنه وسیعی از زمین را به خود اختصاص دهند. داشتن گل چه مزایایی دارد؟ چرا گوناگونی جانورانی مانند حشره ها در زیستگاهی با گیاهان گل دار بیشتر است؟ گل چه ساختاری دارد و چه فرایندی در آن انجام می شود؟

فرض کنید گیاهی مانند یک بوته گل سرخ یا یک درخت انگور دارید و می خواهید آن را تکثیر کنید. آیا صبر می کنید تا دانه تولید کنند و دانه های آنها را می کارید، یا روش دیگری به کار می برید؟

تکثیر با بخش های رویشی

گیاهان می توانند به روش غیر جنسی و با استفاده از بخش های رویشی، یعنی ساقه، برگ و ریشه تکثیر یابند. مثلاً روی ریشه درخت آلبالو، جوانه هایی تشکیل می شود که از رشد آنها درخت های آلبالو ایجاد می شوند. چنین تولید مثلی از نوع غیر جنسی، یا رویشی است. تولید مثل غیر جنسی را چگونه توصیف می کنید؟



شکل ۱- تشکیل درخت های جدید از جوانه های روی ریشه.

یادآوری

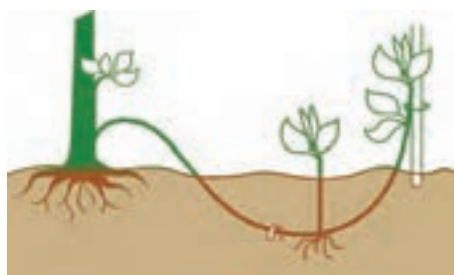
گیاهان را براساس صفت های داشتن یا نداشتن آوند، دانه و گل به طور کلی گروه بندی می کنند.

معمولاً برای تکثیر گیاهان از بخش های رویشی گیاه استفاده می کنیم. شاید شما هم با گذاشتن قطعه هایی از ساقه در خاک یا آب، گیاهی را تکثیر کرده باشید. در این حالت برای تکثیر گیاه، روش **قلمه زدن** را به کار برده اید (شکل ۲-الف). به نظر شما قطعه ای از ساقه که گیاه جدید ایجاد می کند، چه چیزی باید داشته باشد؟

پیوند زدن یکی دیگر از روش های تکثیر رویشی است. در این روش قطعه ای از یک گیاه مانند جوانه یا شاخه به نام **پیوندک**، روی تنه گیاه دیگری که به آن **پایه** می گویند، پیوند زده می شود (شکل ۲-ب). گیاه پایه ویژگی هایی مانند مقاومت به بیماری ها، سازگار با خشکی یا شوری دارد، در حالی که گیاهی که **پیوندک** از آن گرفته می شود، مثلاً میوه مطلوب دارد.

در روش **خوابانیدن** بخشی از ساقه یا شاخه را که دارای گره است، با خاک می پوشانند. بعد از مدتی از محل گره، ریشه و ساقه برگردار ایجاد می شود که با جدا کردن از گیاه مادر، پایه جدیدی ایجاد می شود (شکل ۲-پ).

گروه بندی گیاهان			
بدون گل	بدون دانه	خزه ها	بدون آوند
		سرخس ها	
گل دار	دانه دار	بازدانگان	آوند دار
		تک پدای ها دو پدای ها	
		نهان دانگان	



(پ)



(ب)



(ف)

شکل ۲- روش های متفاوت تکثیر رویشی در گیاهان. قلمه زدن (الف)، پیوند زدن (ب)، خوابانیدن (پ).

فعالیت ۱

با مراجعه به یک مرکز پرورش گل، یا گل فروشی درباره روش تکثیر رویشی گیاهان متفاوت، گزارش تصویری تهیه و در کلاس ارائه دهید.

تخصص یافته ها


انواعی از ساقه ها در گیاهان وجود دارند که برای تولید مثل غیر جنسی ویژه شده اند. زمین ساقه (ریزوم^۱)، غده، پیاز و ساقه رونده، نمونه هایی از ساقه های ویژه شده برای تولید مثل غیر جنسی اند. **زمین ساقه**، به طور افقی زیر خاک رشد می کند و همانند ساقه هوایی جوانه انتهایی و جانبی دارد. این ساقه به موازات رشد افقی خود در زیر خاک، پایه های جدیدی در محل جوانه ها تولید می کند. زنبق از گیاهانی است که زمین ساقه دارد (شکل ۳- الف).

غده، ساقه ای زیرزمینی است که به علت ذخیره ماده غذایی در آن متورم شده است. سیب زمینی چنین ساقه ای است. هر یک از جوانه های تشکیل شده در سطح غده سیب زمینی، به یک گیاه تبدیل می شود (شکل ۳- ب). برای تکثیر سیب زمینی، آن را به قطعه های جوانه دار تقسیم می کنند و در خاک می کارند.

پیاز، ساقه زیرزمینی کوتاه و تکمه مانندی دارد که برگ های خوراکی به آن متصل اند (شکل ۳- پ). پیاز خوراکی چنین ساختاری است. نرگس و لاله نیز پیاز دارند. از هر پیاز تعدادی پیاز کوچک تشکیل می شود که هر یک خاستگاه یک گیاه می شوند.

ساقه رونده، به طور افقی روی خاک رشد می کند (شکل ۳- ت). گیاه توت فرنگی ساقه رونده دارد. گیاهان توت فرنگی جدیدی در محل گره ها، ایجاد می شوند.

۱- Rhizome



شکل ۳- ساقه‌های تخصص یافته برای تولید مثل غیرجنسی.

فعالیت ۲

(الف) نمونه‌هایی از ساقه‌های زیر زمینی را به کلاس بیاورید و در گروه خود مقایسه کنید.
 (ب) شلغم و سیب زمینی را با هم مقایسه کنید. آیا شلغم همانند سیب زمینی ساقه است؟ چه استدلالی

برای پاسخ خود دارید؟

بیشتر بدانید

تثبیت خاک

گندمیانی مانند مرغ که زمین ساقه دارند، ضمن اشغال سطح وسیعی از خاک، در تثبیت آن نیز نقش دارند.




گیاه در شیشه

با استفاده از فن کشت بافت می‌توان گیاهی گل‌دار را در ظرف‌های شیشه‌ای پرورش داد.



از فن کشت بافت برای تولید گیاهان با ویژگی‌های مطلوب و تولید انبوه آنها در آزمایشگاه استفاده می‌شود. در این فن، یاخته یا قطعه‌ای از بافت گیاهی در محیط کشت گذاشته می‌شود. این محیط دارای مواد مورد نیاز برای رشد و نمو گیاه است. یاخته و بافت در شرایط مناسب، با تقسیم میتوز، توده‌ای از یاخته‌های هم شکل را به وجود می‌آورند که کال نامیده می‌شود. کال می‌تواند به گیاهانی تمایز یابد که از نظر ژنی یکسان‌اند. همهٔ مراحل کشت بافت در محیطی کاملاً استرون انجام می‌شود (شکل ۴).



شکل ۴- ایجاد گیاه از کال در کشت بافت.

فعالیت ۳

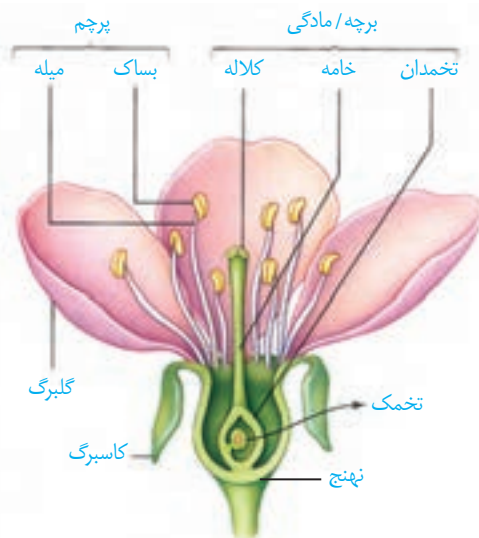
فرض کنید از شما خواسته‌اند که با استفاده از یاخته‌های مجزای نرم آکنه‌ای، گیاهی را به روش کشت بافت تکثیر دهید. توضیح دهید این یاخته‌ها را از چه سامانهٔ بافتی جدا می‌کنید و چگونه این کار را انجام می‌دهید؟

گفتار ۲ تولید مثل جنسی

با ساختار گل در سال‌های گذشته آشنا شده‌اید. می‌دانید گل بخش‌های متفاوتی دارد. نام بخش‌هایی از گل را که به یاد دارید، بنویسید. هر یک از این بخش‌ها چه کاری انجام می‌دهد؟

هر گلی کامل نیست

گل ساختاری اختصاص یافته برای تولید مثل جنسی است و همان‌طور که در شکل ۵ می‌بینید دارای گلبرگ، کاسبرگ، پرچم و مادگی است که روی بخشی به نام **نهنج** قرار دارند. **نهنج** وسیع و ممکن است صاف، برآمده یا گود باشد. اجزای گل در چهار حلقه هم‌مرکز تشکیل می‌شوند. کاسبرگ‌ها در خارجی‌ترین حلقه قرار می‌گیرند. گلبرگ‌ها در حلقه دوم و معمولاً به رنگ‌های متفاوت وجود دارند. آیا می‌دانید رنگی بودن گلبرگ‌ها چه اهمیتی دارد؟ پرچم‌ها در حلقه سوم و مادگی در چهارمین حلقه تشکیل می‌شوند. مادگی گل از یک یا تعدادی برچه ساخته شده است. در واقع **برچه** واحد سازنده مادگی است. در مادگی‌های چند برچه‌ای، ممکن است فضای مادگی با دیواره برچه‌ها از هم جدا شوند.



شکل ۵- گل در گیاه آلبالو.

فعالیت ۴

چند نوع گل را با تعداد گلبرگ‌های چهار تا شش به کلاس بیاورید.

(الف) تک لپه یا دولپه‌ای بودن آنها را مشخص کنید.

(ب) تعداد هر یک از اجزای دیگر گل چیست؟ (پ) گل‌ها را به دقت با ذره‌بین مشاهده و ویژگی‌های هر یک از اجزا را یادداشت کنید.

(ت) با استفاده از تیغ برش‌های طولی و عرضی از مادگی گل، تهیه و آنچه را می‌بینید یادداشت و ترسیم کنید.

(ث) با استفاده از داده‌هایی که به دست آورده‌اید، ساختار هر گل را گزارش کنید.

آیا در همه گل‌ها این چهار حلقه تشکیل می‌شوند؟ مشاهده گل در گیاهان متفاوت نشان می‌دهد، چنین چیزی نیست. بنابراین، گل‌ها را بر اساس وجود هر چهار حلقه یا نبودن بعضی حلقه‌ها در دو گروه گل‌های کامل یا ناکامل قرار می‌دهند. همچنین گل‌هایی که هر دو حلقه پرچم و مادگی را داشته باشند، گل دو جنسی و آنهایی که فقط یکی از این حلقه‌ها را دارند، گل تک جنسی می‌نامند (شکل ۶).



شکل ۶- گل‌های تک جنسی در گیاه کدو.


تشکیل یاخته‌های جنسی

می‌دانید که در تولید مثل جنسی از لقاح گامت نر با گامت ماده تخم ایجاد می‌شود. گامت نر در گیاهانی مانند خزه، همانند گامت نر در جانوران وسیله حرکتی دارد و می‌تواند در قطره‌های آب یا رطوبتی که سطح گیاه را پوشانده، شنا کند و خود را به گامت ماده برساند. اما گامت نر در گیاهان گل دار وسیله حرکتی ندارد. بنابراین، در این گیاهان برای انتقال گامت نر ساختاری به نام لوله گرده تشکیل می‌شود.

بیشتر بدانید

چندین گل

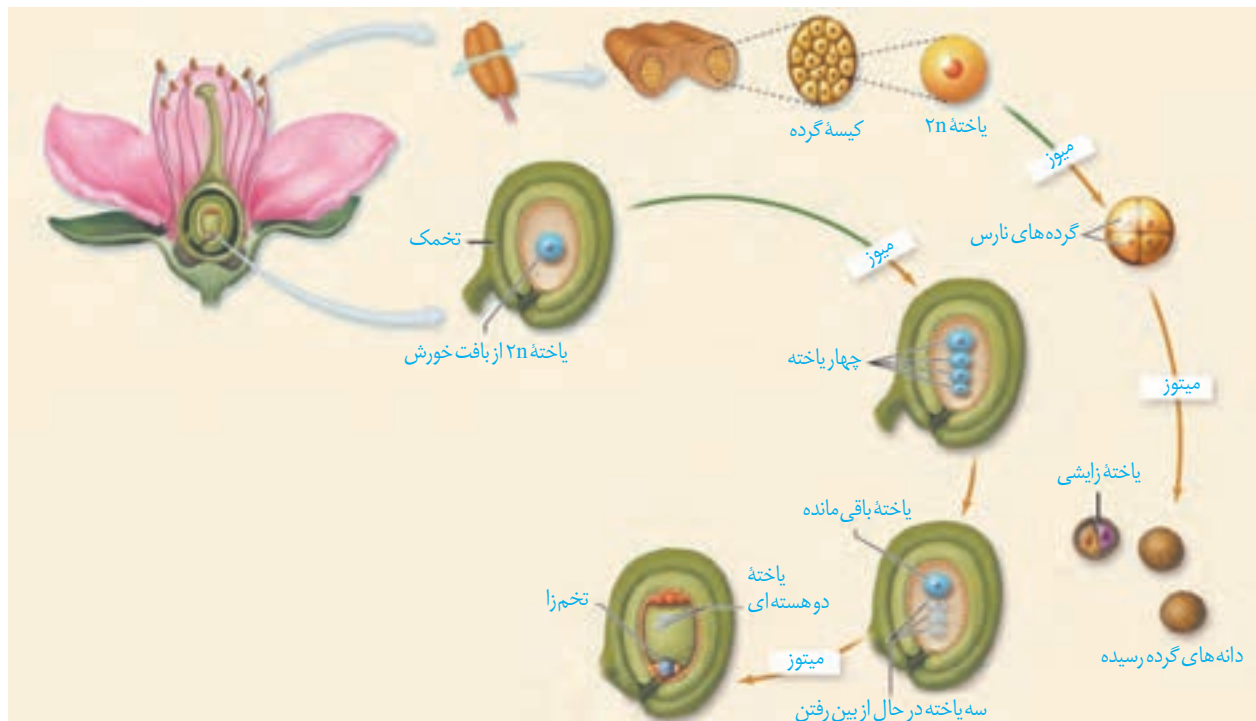
گل آفتاب‌گردان اجتماعی از چندین گل کوچک یا گلچه است. در گل آفتاب‌گردان گلچه‌های بیرونی ماده، و گلچه‌های درونی دو جنسی‌اند.



به شکل ۷ نگاه کنید. کیسه‌های گرده در بساک تشکیل می‌شوند و یاخته‌های دیپلوئیدی دارند. از تقسیم کاستمان (میوز) این یاخته‌ها، چهار یاخته هاپلوئیدی ایجاد می‌شود که در واقع **گرده‌های نارس** اند. هر یک از این یاخته‌ها با انجام دادن تقسیم رشتمان (میتوز) و تغییراتی در دیواره به **دانه گرده رسیده** تبدیل می‌شود. دانه گرده رسیده یک دیواره خارجی، یک دیواره داخلی، یک **یاخته رویشی** و یک **یاخته زایشی** دارد.

تخمدان که به صورت بخشی متورم در گل دیده می‌شود، محل تشکیل تخمک هاست. تخمک جوان پوششی دو لایه‌ای دارد که یاخته‌های دیپلوئیدی را در بر می‌گیرد. مجموع این یاخته‌ها، بافتی به نام **بافت خورش** را می‌سازند (شکل ۷).

یکی از یاخته‌های بافت خورش بزرگ می‌شود و با تقسیم میوز چهار یاخته هاپلوئیدی ایجاد می‌کند. از این چهار یاخته فقط یکی باقی می‌ماند که با تقسیم میتوز، ساختاری به نام **کیسه رویانی** با تعدادی یاخته ایجاد می‌کند. **تخم‌زا** و **یاخته دو هسته‌ای** از یاخته‌های کیسه رویانی اند که در لقاح با گامت‌های نر شرکت می‌کنند.



شکل ۷- تشکیل دانه‌های گرده و کیسه رویانی.

بیشتر بدانید

طلای سرخ

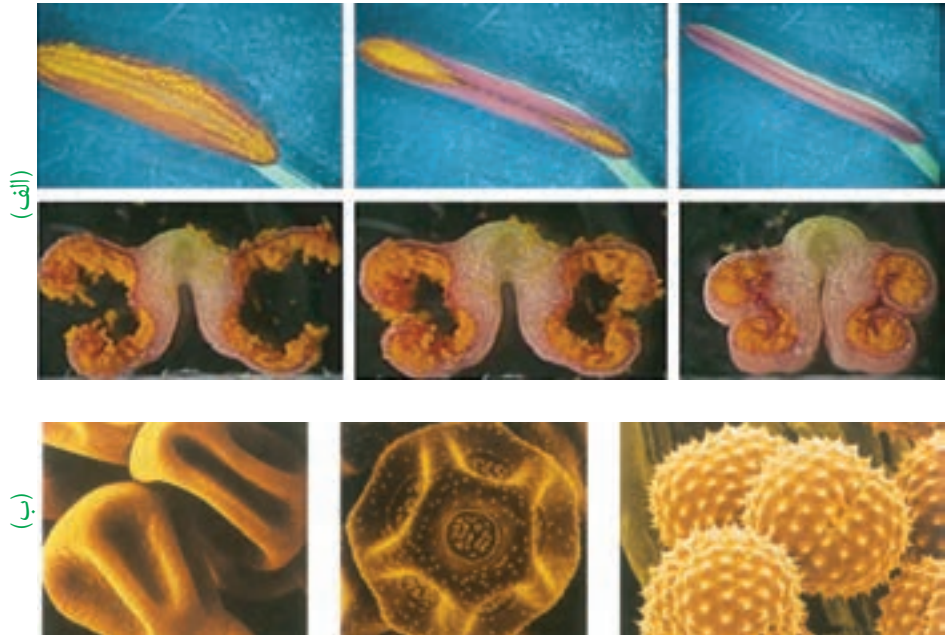
گیاه زعفران گیاهی تک لپه و چند ساله است. زعفران با نوعی ساقه زیرزمینی به نام بینه تکثیر می‌شود. در بینه برخلاف پیاز مواد غذایی در برگ‌ها ذخیره نمی‌شود؛ بلکه در ساقه تجمع می‌یابند. پوشش گل زعفران شش قسمتی است. کلاله سه‌رشته‌ای و قرمز رنگ آن برای مزه‌دار و معطر کردن خوراکی‌ها به کار می‌رود. زعفران از صادرات مهم ایران است.



گرده افشانی و لقاح

با شکافتن دیوارهٔ بساک، گرده‌ها رها می‌شوند (شکل ۸-الف). دیوارهٔ خارجی دانه‌های گرده منفذدار و ممکن است صاف یا دارای تزییناتی باشد (شکل ۸-ب).

شکل ۸-الف) شکوفایی بساک و رها شدن دانه‌های گرده؛
ب) انواعی از دانه‌های گرده در مشاهده با میکروسکوپ الکترونی.



دانه‌های گرده به وسیلهٔ باد، آب و جانوران در محیط پراکنده و از گلی به گل دیگر منتقل می‌شوند. به انتقال دانهٔ گرده از بساک به کلاله **گرده افشانی** می‌گویند. در صورتی که کلاله گرده را بپذیرد، یاختهٔ رویی رشد می‌کند و از رشد آن لولهٔ گرده تشکیل می‌شود. لولهٔ گرده به درون بافت کلاله و خامه نفوذ می‌کند و همراه با خود، دو زامه (اسپرم) یا گامت نر را که از تقسیم یاختهٔ زایشی در لولهٔ گرده ایجاد شده‌اند، به سمت تخمک و کیسه رویانی می‌برد (شکل ۹).

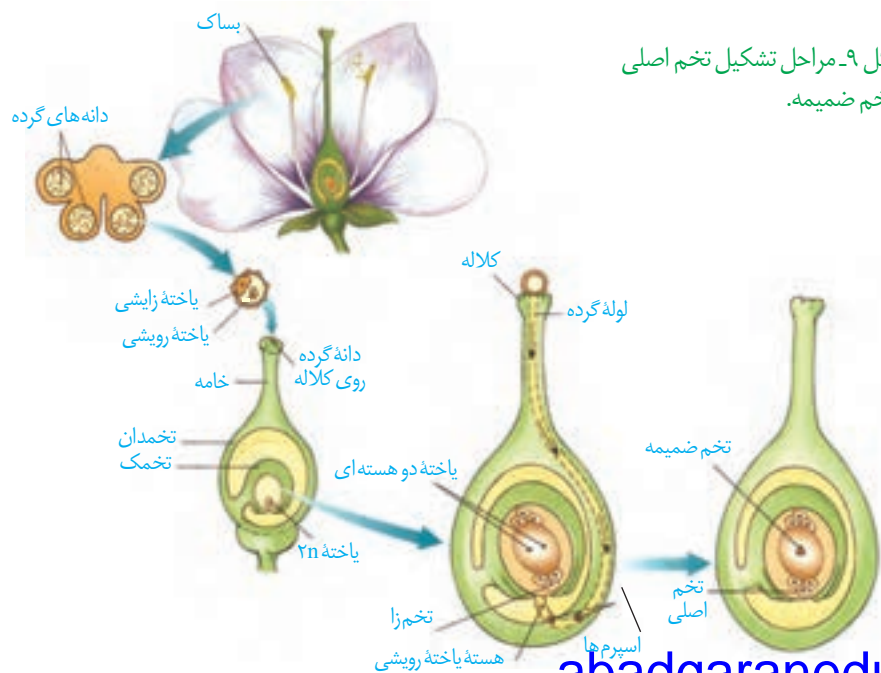
بیشتر بدانید

گرده‌ها

کاروتنوئیدها از ترکیبات دیوارهٔ گرده‌اند؛ به همین علت به رنگ‌های متفاوت زرد، یا نارنجی دیده می‌شوند. دانه‌های گرده به علت داشتن پروتئین و چربی، منبع غذایی جانوران گرده افشان نیز هستند. امروزه یکی از زمینه‌های پژوهشی در دنیای علم، شناسایی ترکیبات دانه‌های گرده و بررسی اثر آنها بر سلامت انسان است.



شکل ۹- مراحل تشکیل تخم اصلی و تخم ضمیمه.



واژه‌شناسی

درون دانه (endosperm/آندوسپرم) endo به معنای درون و sperm به معنی دانه است. بافت ذخیره‌ای درون دانه با این نام خوانده می‌شود که واژه درون دانه با تعریف علمی آن مطابقت دارد.

از آمیزش یکی از زامه‌ها (اسپرم‌ها) با یاخته تخم‌زا، تخم اصلی تشکیل می‌شود. این تخم به رویان نمو می‌یابد. اسپرم دیگر با یاخته دو هسته‌ای آمیزش می‌یابد که نتیجه آن تشکیل تخم ضمیمه است. تخم ضمیمه با تقسیم‌های متوالی بافتی به نام درون دانه (آندوسپرم) را ایجاد می‌کند. این بافت از یاخته‌های نرم آکنه‌ای ساخته شده و ذخیره غذایی برای رشد رویان است (شکل ۹). همین‌طور که دیدید، دو لقاح رخ می‌دهد، به همین علت گفته می‌شود که نهادانگان لقاح مضاعف یا دوتایی دارند. اگر هسته تخم ضمیمه تقسیم شود، اما تقسیم سیتوپلاسم انجام نگیرد، بافت آندوسپرم به صورت مایع دیده می‌شود. شیر نارگیل مثالی از چنین آندوسپرمی است. در حالی که بخش گوشتی و سفید رنگ نارگیل، آندوسپرمی است که در آن تقسیم سیتوپلاسم نیز انجام شده است (شکل ۱۰).



شکل ۱۰- آندوسپرم در نارگیل به حالت مایع و جامد است.

گل‌ها و گرده‌افشان‌ها

به نظر شما گل‌ها چه ویژگی‌هایی باید داشته باشند که جانوران را به سمت خود جلب کنند؟ جانورانی که گرده‌ها را از گلی به گل دیگر منتقل می‌کنند، گرده‌افشان نامیده می‌شوند. بیکر این جانوران، هنگام تغذیه از گل‌ها به دانه‌های گرده آغشته می‌شود و به این ترتیب، دانه‌های گرده را از

شکل ۱۱- گرده‌افشانی به وسیله جانوران.



گلی به گل دیگر منتقل می کنند (شکل ۱۱). رنگ های درخشان، بوهای قوی و شهد گل ها از عوامل جذب جانوران به سمت گل ها هستند.

شکل ۱۳- گل در درخت بلوط که گرده افشانی آن را باد انجام می دهد. چرا تعداد گل در چنین گیاهانی فراوان است؟



زنبورهای عسل گلهایی را گرده افشانی می کنند که شهد آنها قند فراوانی داشته باشد؛ همچنین این گل ها علائمی دارند که فقط در نور فرابنفش دیده می شوند و زنبور را به سوی شهد گل هدایت می کنند (شکل ۱۲).

گرده افشانی بعضی گیاهان وابسته به باد است. این گیاهان تعداد فراوانی گل های کوچک تولید می کنند و فاقد رنگ های درخشان، بوهای قوی و شیرهداند (شکل ۱۳).

شکل ۱۲- گل قاصد آن طور که ما می بینیم (الف) آن طور که زنبور می بیند (ب).



(ب)



(الف)

فعالیت ۵

الف) بعضی گرده افشان ها، مانند خفاش در شب تغذیه می کنند. به نظر شما گل هایی که به وسیله این جانوران گرده افشانی می شوند، چه ویژگی هایی دارند؟ با مراجعه به منابع معتبر درستی نظر خود را بررسی و نتیجه را گزارش کنید.

ب) با توجه به ویژگی گل ها در گیاهانی که با جانوران یا باد گرده افشانی می شوند، نوع گرده افشانی را در گیاهان محیط پیرامون خود پیش بینی و گزارش کنید.

بیشتر بدانید

گل های فریب کار!

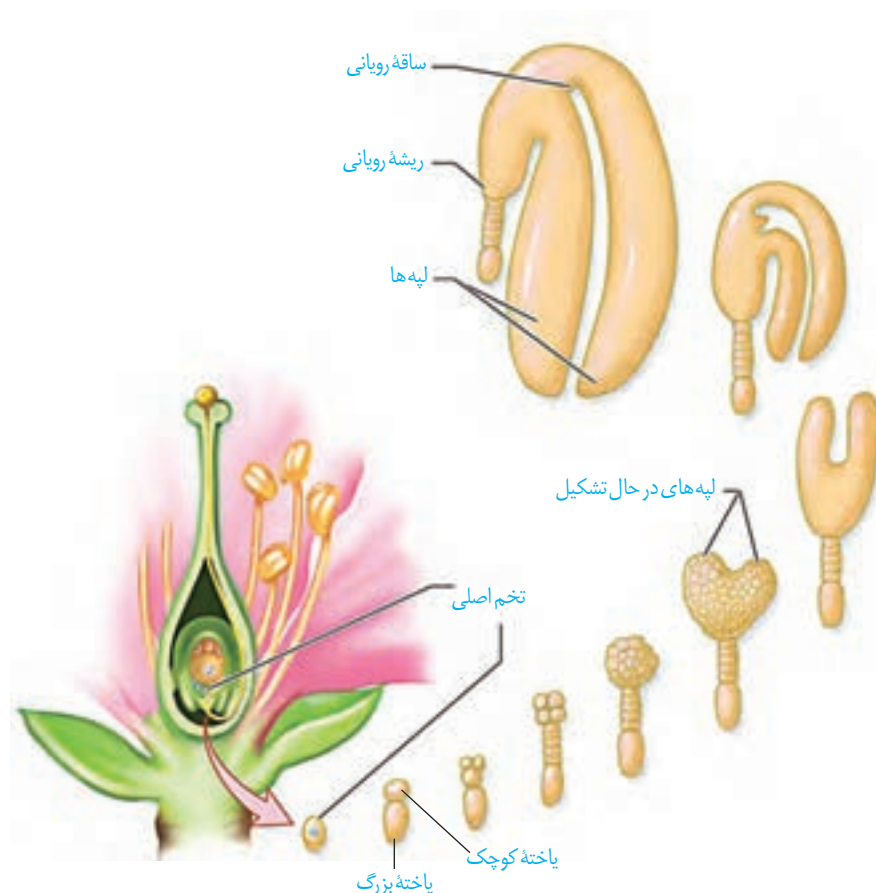
بعضی گل ها حشرات را فریب می دهند. مثلاً گل رافلزیا بوی گوشت گندیده می دهد و مگس ها را به سمت خود می کشاند. مگس ها چیزی گیرشان نمی آید، اما وقتی از روی گل بلند می شوند، گرده های آن را با خود به گل دیگر می برند.



گفتیم که تخم اصلی از لقاح یکی از اسپرم‌ها با یاخته تخم‌زا تشکیل می‌شود. تخم چه مرحله‌ای را طی می‌کند تا به یک گیاه جدید تبدیل شود؟ تشکیل گیاه جدید از یاخته تخم با ایجاد چه ساختارهایی همراه است؟

تخم تقسیم می‌شود

رویوان از تقسیم پی‌درپی یاخته تخم تشکیل می‌شود. در نخستین تقسیم تخم، دو یاخته با اندازه‌های متفاوت ایجاد می‌شود (این تقسیم از چه نوعی است؟). یاخته کوچک منشأ رویوان است. مراحل تشکیل رویوان را در شکل ۱۴ می‌بینید. لپه‌ها مشخص‌ترین بخش رویوان‌اند. ساقه و ریشه رویوانی نیز در دو انتهای رویوان تشکیل می‌شوند. پوسته تخمک نیز تغییر می‌کند و به پوسته دانه تبدیل می‌شود. بنابراین، دانه شامل پوسته، رویوان و ذخیره غذایی است (شکل ۱۴). ذخیره غذایی هنگام رشد رویوان به مصرف می‌رسد. با توجه به شکل، رویوان از چه بخش‌هایی تشکیل شده است؟



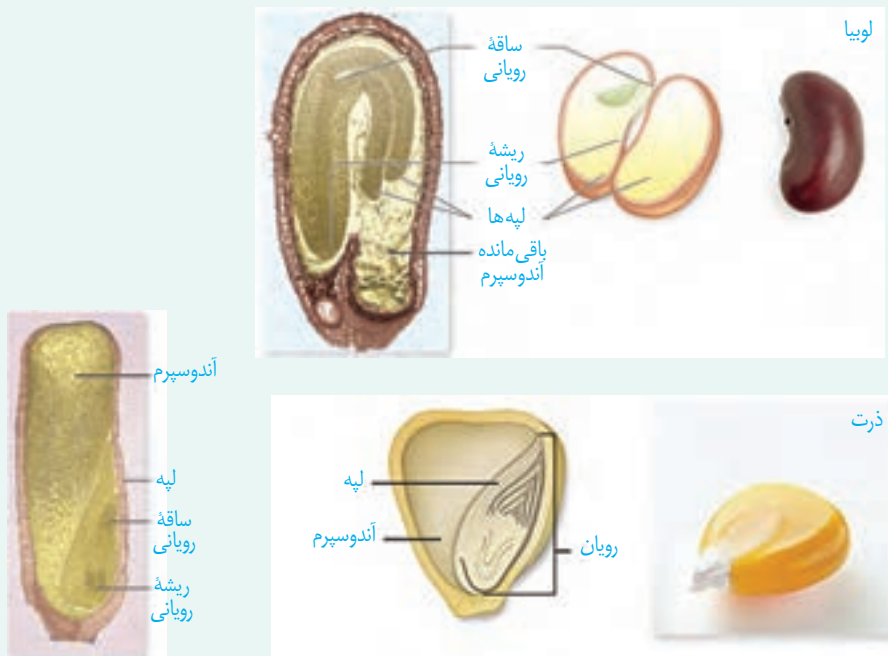
شکل ۱۴- تشکیل رویوان در دانه.

ممکن است آندوسپرم به عنوان ذخیره دانه باقی بماند، یا اینکه جذب لپه‌ها شود. مثلاً آندوسپرم، ذخیره دانه در ذرت است و نقش لپه، انتقال مواد غذایی از آندوسپرم به رویان در حال رشد است. در دانه لوبیا مواد غذایی آندوسپرم جذب لپه‌ها و در آنجا ذخیره می‌شوند، در نتیجه لپه‌ها که بزرگ شده‌اند، بخش ذخیره‌ای دانه را تشکیل می‌دهند. به لپه‌ها **برگ‌های رویانی** نیز می‌گویند؛ زیرا در بسیاری از گونه‌ها از خاک بیرون می‌آیند و به مدت کوتاهی فتوسنتز می‌کنند.

فعالیت ۶

الف) دانه‌هایی مانند لوبیا و ذرت را در شرایط مناسب قرار دهید تا رویش یابند. این کار را چگونه انجام می‌دهید؟ با مشاهده دانه‌های در حال رویش، مشخص کنید ابتدا کدام یک از اندام‌های رویشی از دانه خارج می‌شوند. این مشاهده را برای انواعی از دانه‌های دیگر نیز انجام دهید. نتیجه را به صورت یک گزاره بنویسید.

ب) دانه‌های لوبیا و ذرت را در فواصل زمانی دو روزه، بعد از خیس خوردن از وسط نصف و با استفاده از شکل زیر آنچه را می‌بینید، نام‌گذاری کنید.



رویش دانه

دانستید که پوسته تخمک به پوسته دانه تبدیل می‌شود. پوسته دانه‌ها معمولاً سخت است. به نظر شما پوسته دانه از چه نوع پخته‌هایی تشکیل شده است؟ پوسته دانه، رویان را در برابر شرایط نامساعد محیط و صدمه‌های فیزیکی یا شیمیایی حفظ می‌کند و با جلوگیری از ورود آب و اکسیژن به دانه مانع از رشد سریع رویان می‌شود.

بعد از تشکیل رویان، رشد آن تا مدتی متوقف می‌شود. رویان در شرایط مناسب رشد خود را از سر می‌گیرد و به صورت گیاهی کوچک که به آن **دانه‌رُست** می‌گویند از دانه خارج می‌شود. در این حالت گفته می‌شود که دانه رویش یافته است.

دانه برای رویش به آب، اکسیژن و دمای مناسب نیاز دارد. دانه‌ها با جذب آب متورم می‌شوند و پوسته آنها شکاف برمی‌دارد. در نتیجه اکسیژن کافی به رویان می‌رسد. رویان با استفاده از ذخایر غذایی، رشد و نمو خود را از سر می‌گیرد.

تقسیم سریع یاخته‌های سرلادی به طول ساقه و ریشه می‌افزاید. سه سامانه بافتی نیز در ساقه و ریشه شکل می‌گیرند (آیا سه سامانه بافتی را به یاد دارید؟). در نهان دانگان بر اساس اینکه لپه‌ها درون خاک بمانند یا همراه با ساقه از خاک خارج شوند، به ترتیب **رویش زیر زمینی** و **رویش روزمینی** تعریف شده است (شکل ۱۵).

گیاهان گل دار بعد از مدت زمانی رشد رویشی، یعنی تولید برگ، شاخه و ریشه‌های جدید، گل، میوه و دانه تولید می‌کنند.



(پ)

(ب)

(الف)

شکل ۱۵- رویش دانه ذرت زیرزمینی (الف)، رویش دانه لوبیا و پیاز از نوع روزمینی است (ب) و باقی مانده دانه پیاز در شکل دیده می‌شود (پ).

میوه

گفتیم که تخمک‌ها به دانه تبدیل می‌شوند. میوه از رشد و نمو بقیه قسمت‌های گل تشکیل می‌شود. میوه‌ای که از رشد تخمدان ایجاد شده، **میوه حقیقی** نامیده می‌شود (شکل ۱۶)؛ اگر در تشکیل میوه قسمت‌های دیگر گل نقش داشته باشند، **میوه کاذب** است. مانند میوه سیب که حاصل رشد نهج است.



(ب)



(الف)

شکل ۱۶- میوه درخت هلو حاصل رشد تخمدان (الف) و میوه درخت سیب حاصل رشد نهج است (ب).



میوه سیب

رشد نهج

ریزش گلبرگ‌ها

گرده افشانی

فعالیت ۷

برچه‌ها را در میوه‌ها نیز می‌توانیم تشخیص دهیم. در شکل زیر تعدادی میوه از عرض برش خورده‌اند. تعدادی میوه را انتخاب و به طور عرضی برش دهید. در کدام میوه فضای تخمدان با دیواره برچه‌ها به طور کامل تقسیم شده است؟



پراکنش میوه‌ها: میوه‌ها علاوه بر حفظ دانه‌ها در پراکنش آنها نقش دارند. بعضی میوه‌ها به پیکر جانوران می‌چسبند و با آنها جابه‌جا می‌شوند (شکل ۱۷). باد و آب نیز میوه‌ها و دانه‌ها را جابه‌جا می‌کنند. میوه‌های نارس معمولاً مزه ناخوشایندی دارند. در نتیجه دانه‌های نارس تا زمان رسیدگی میوه از خورده شدن به وسیله جانوران حفظ می‌شوند. از طرفی جانوران با خوردن میوه‌های رسیده، در پراکنش دانه‌ها نقش دارند. پوسته بعضی دانه‌ها چنان سخت و محکم است که حتی در برابر شیره‌های گوارشی جانوران سالم می‌مانند. رنگ‌های درخشان میوه‌های رسیده جانوران را به خود جذب می‌کنند.

شکل ۱۷. پراکنش میوه‌ها.



شکل زیر انواعی میوه را نشان می‌دهد. ویژگی‌های هر یک از این میوه‌ها را فهرست و براساس این ویژگی‌ها پیش‌بینی کنید که پراکنش آنها با کمک چه عاملی (باد / جانور) انجام می‌شود. با مراجعه به منابع معتبر درستی نظر گروه را بررسی و نتیجه را گزارش کنید.



میوه‌های بدون دانه: شاید میوه بدون دانه را به میوه‌ای که دانه دارد، ترجیح دهید. اما چگونه میوه بدون دانه ایجاد می‌شود؟ آیا هر میوه‌ای که به آن بدون دانه می‌گوییم، واقعاً بدون دانه است؟ دانستیم بعد از لقاح تخم‌زا و اسپرم، دانه از رشد و نمو تخمک ایجاد می‌شود؛ بنابراین اگر لقاح انجام نشود، دانه‌ای نیز تشکیل نخواهد شد. پرتقال‌های بدون دانه به این روش ایجاد می‌شوند. برای تشکیل چنین میوه‌ای به تنظیم‌کننده‌های رشد نیاز داریم که در فصل بعد با آنها آشنا می‌شوید. حال اگر لقاح انجام شود، امارویان قبل از تکمیل مراحل رشد و نمو از بین برود، دانه‌های نارس تشکیل می‌شوند که ریزند و پوسته‌ای نازک دارند. به چنین میوه‌هایی نیز، میوه بدون دانه می‌گویند. موزهای بدون دانه از این نوع‌اند. به نظر شما تشکیل میوه‌های بدون دانه در طبیعت، پدیده‌ای رایج است؟



شکل ۱۸- در بعضی موزها دانه‌های ریز و نارس دیده می‌شوند.

عمر گیاهان چقدر است؟

طول عمر گونه‌های متفاوت گیاهی فرق می‌کند و ممکن است از چند روز تا چند قرن باشد. معمولاً طول عمر درخت‌ها که سرلاد پسین دارند از گیاهان علفی (غیر درختی) بیشتر است. گیاهان را بر اساس طول عمر به چندگروه تقسیم می‌کنند.

گیاهان یک‌ساله: این گیاهان در مدت یک سال یا کمتر، رشد و تولید مثل می‌کنند و سپس از بین می‌روند. گیاه گندم و خیار از گیاهان یک‌ساله‌اند (شکل ۱۹- الف).

بیشتر بدانید

درختان کهنسال

در مناطق متفاوت ایران درختان کهنسالی زندگی می‌کنند که طول عمر بعضی از آنها به هزاران سال هم می‌رسد. چنار ۱۵۰۰ ساله روستای نصرآباد در اطراف شهرستان تفت از استان یزد و گردوی ۱۴۰۰ ساله در روستای کدوکده از توابع فیروزکوه از این درختان اند.

گیاهان دو ساله: این گیاهان در سال اول رشد رویشی دارند و در سال دوم با تولید گل و دانه رشد زایشی دارند. مثلاً گیاهی مانند شلغم و چغندر قند در سال اول رشد رویشی دارد و مواد حاصل از فتوسنتز در ریشه آنها ذخیره می‌شوند. در سال دوم ساقه گل دهنده ایجاد می‌شود و مواد ذخیره شده در ریشه برای تشکیل گل و دانه به مصرف می‌رسند (شکل ۱۹-ب).

گیاهان چند ساله: این گیاهان سال‌ها به رشد رویشی خود ادامه می‌دهند. بعضی از آنها هر ساله می‌توانند گل، دانه و میوه تولید کنند. درخت‌ها و درختچه‌ها از گیاهان چند ساله‌اند که ممکن است حتی تا چند قرن نیز زندگی کنند. گیاهان علفی چند ساله نیز وجود دارد. زنبق مثالی از چنین گیاهانی و دارای زمین ساقه است که در خاک باقی می‌ماند (شکل ۱۹-پ).



(ت)

(پ)

(ب)

(الف)

شکل ۱۹- خیار (الف)، شلغم (ب)، زنبق (پ و ت). از رشد جوانه‌های رویش یافته از زمین ساقه، گیاهان جدیدی ایجاد می‌شوند (ت).

بیشتر بدانید

انواع میوه

میوه‌ها در دو گروه کلی آبدار و خشک قرار می‌گیرند. میوه‌های آبدار از گوشتی و آبدار شدن بافت‌های تشکیل دهنده میوه، ایجاد می‌شوند. مثلاً زردآلو میوه‌ای آبدار است. در میوه‌های خشک مانند فندق این اتفاق نمی‌افتد.



بیشتر بدانید

میوه‌های مرکب

- آنچه به عنوان میوه توت فرنگی می‌شناسیم در واقع اجتماعی از میوه‌های کوچکی است که از رشد برچه‌های مجزای یک گل ایجاد شده‌اند. این میوه‌ها به صورت ذراتی سخت در نهنج آبدار توت فرنگی قرار دارند.
- انجیر تعدادی میوه کوچک است که از رشد مادگی گل‌های جداگانه‌ای تشکیل شده است که روی نهنجی مشترک قرار دارند.
- میوه آناناس از آبدار شدن محوری تشکیل شده است که گل‌ها روی آن قرار دارند.



الف) اکثر گرده افشان ها، حشره اند و گرده افشانی بسیاری از گیاهان کشاورزی و درختان میوه به کمک آنها انجام می شود. درباره عواملی که زندگی حشره های گرده افشان را تهدید می کند، تحقیق و نتیجه را گزارش کنید.
 ب) شکل زیر چرخه زندگی یک گیاه نهان دانه را نشان می دهد. جاهای خالی را با کلمه های مناسب پر کنید.





فصل ۹

پاسخ گیاهان به محرک‌ها

شاید دیده باشید که ساقه به سمت نور و ریشه به سمت زمین رشد می‌کند. گیاهان با تغییر فصل و در نتیجه تغییر دما و طول روز گل می‌دهند، برگ‌های جدید به وجود می‌آورند یا اینکه برگ‌هایشان می‌ریزند. چه عواملی در این پدیده‌ها نقش دارند؟ آیا رشد و نمو گیاهان نیز همانند جانوران تنظیم می‌شود؟

آیا گیاهان به علائمی که از محیط دریافت می‌کنند، پاسخ می‌دهند؟ اگر چنین است، به چه عوامل محیطی واکنش نشان می‌دهند؟

گفتار ۱ تنظیم کننده‌های رشد در گیاهان

به شکل ۱ نگاه کنید؛ احتمالاً وضعیتی مشابه این شکل را در پیرامون خود دیده‌اید. به نظر شما علت خم شدن گیاه به سمت نور چیست؟ در این حالت چگونه می‌توانیم مانع خم شدن ساقه‌ها شویم؟ آیا طول ساقه در بخش رو به نور با طول ساقه در بخش دور از نور یکسان است؟ خم شدن گیاه به سمت نور، چه تأثیری در ماندگاری گیاه دارد؟

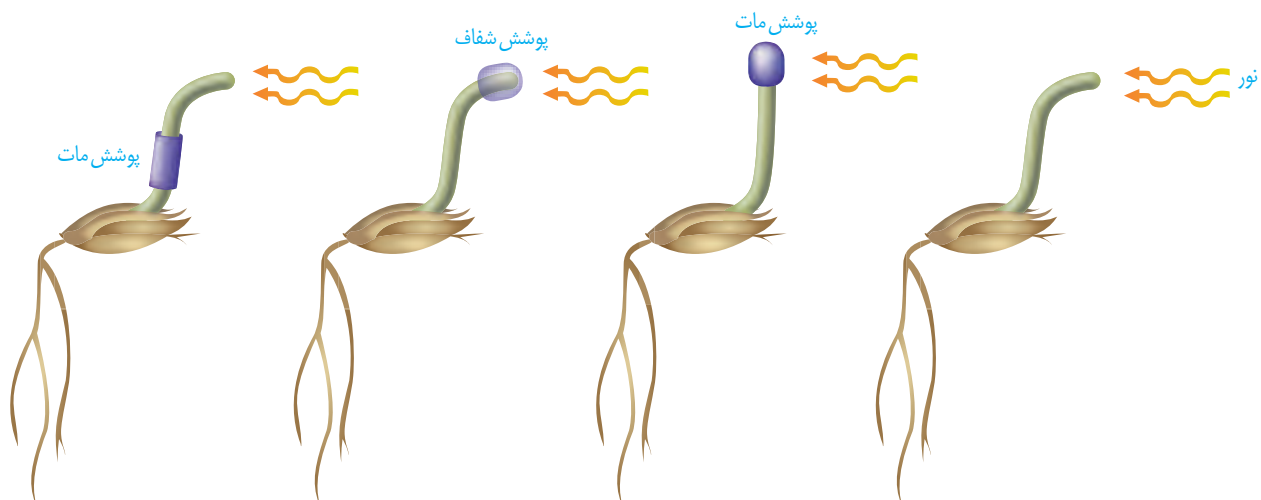


شکل ۱- خم شدن گیاهان به سمت نور.

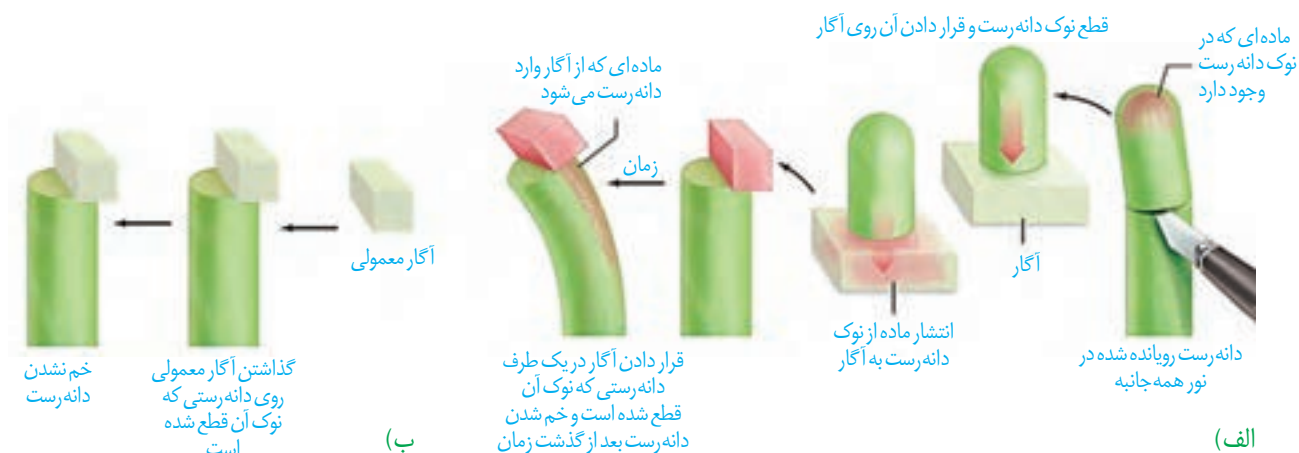
اولین آزمایش

خم شدن گیاهان به سمت نور پدیده‌ای رایج در طبیعت است. چارلز داروین که به مطالعه پدیده حرکت در گیاهان علاقه‌مند بود، برای بررسی این موضوع، همراه با پسرش آزمایش‌هایی را با استفاده از دانه‌رُستِ نوعی گیاه از گندمیان، طراحی و اجرا کرد (شکل ۲). آنها دریافتند دانه‌رُست در صورتی به سمت نور یک جانبه (نوری که از یک طرف به گیاه می‌تابد)، خم می‌شود که نوک آن در برابر نور باشد. با توجه به خم شدن دانه‌رُست به سمت نور یک طرفه، به نظر شما کدام یک از سطوح داخلی یا بیرونی آن رشد بیشتری دارد؟

شکل ۲- آزمایش داروین‌ها با دانه‌رُست چمن. دانه‌رُست در نور همه جانبه به طور مستقیم رشد می‌کند.



بعدها محققان دیگری با انجام آزمایش هایی، نشان دادند که عامل خم شدن دانه رُست به سمت نور، ماده ای است که در نوک آن وجود دارد. به شکل ۳ توجه کنید! در این آزمایش، نوک دانه رُستی را که در نور همه جانبه رشد کرده است، بُریده و برای مدتی روی قطعه ای از آگار قرار داده اند. بعد از مدتی این قطعه آگار را روی لبه دانه رُستی قرار می دهند که نوک آن بریده شده؛ همین طور که می بینید دانه رُست خم شده است (شکل ۳- الف)، در حالی که قرار دادن آگار معمولی روی دانه رُست بدون نوک، سبب خم شدن آن نمی شود (شکل ۳- ب).

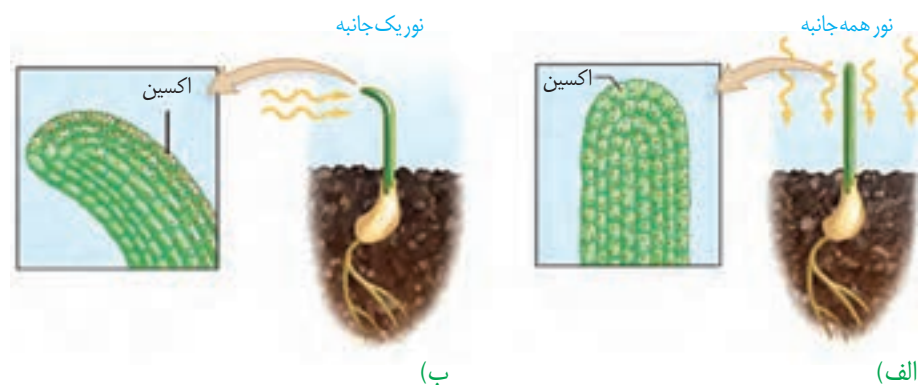


شکل ۳- ماده ای در نوک دانه رست وجود دارد که عامل خم شدن آن در برابر نور یک جانبه است.

بیشتر بدانید

آگار ترکیبی است که از جلبک های قرمز به دست می آید و در ترکیب با آب، زله ایجاد می کند. از آگار در صنایع غذایی، دارویی، کشت بافت و یاخته و بسیاری صنایع دیگر استفاده می شود.

خم شدن دانه رست به معنای اختلاف اندازه یاخته های دو طرف آن است. مشاهده های میکروسکوپی نیز نشان داد که رشد طولی یاخته ها در سمت سایه بیشتر از یاخته های است که در سمت رو به نور قرار دارند. نور یک جانبه باعث جابه جایی این ماده از سمت مقابل نور به سمت سایه (دور از نور) می شود. در نتیجه به علت تجمع این ماده در سمت سایه، رشد طولی یاخته ها در این سمت بیشتر از سمت رو به نور است و در نتیجه دانه رُست خم می شود (شکل ۴). رشد جهت دار اندام های گیاه در پاسخ به نور یک جانبه را **نورگرایی** نامیدند. سرانجام ترکیب شیمیایی این ماده شناسایی و **اکسین**، به معنای «رشد کردن» نامیده شد. پژوهش های بیشتر نشان داد که انواعی از ترکیبات مشابه اکسین در گیاهان متفاوت ساخته می شوند که اثرات مشابه دارند؛ بنابراین، نام اکسین ها را به این گروه از ترکیبات دادند.



شکل ۴- تابش نور سبب تجمع اکسین در سمت سایه می شود.

بیشتر بدانید

کاربرد اکسین

دانه‌های در حال نمو اکسین تولید می‌کنند؛ بنابراین، در رشد میوه و درشت شدن آن نقش دارند. بعضی گوجه‌فرنگی‌های گلخانه‌ای، دانه‌های فراوانی تولید نمی‌کنند، در نتیجه میوه رشد چندانی ندارد. به همین علت با افشانه کردن اکسین روی گوجه‌فرنگی‌ها، رشد مطلوب را در آنها ایجاد می‌کنند.


محرك‌های رشد

کشف اکسین سرآغازی برای شناسایی ترکیبات دیگری بود که رشد و فعالیت‌های گیاهان را تنظیم می‌کنند. این ترکیبات را **تنظیم‌کننده‌های رشد** یا **هورمون‌های گیاهی** نامیدند. انواعی از تنظیم‌کننده‌های رشد در گیاهان تولید می‌شوند. اکسین‌ها، سیتوکینین‌ها، جیبرلین‌ها، اتیلن و آبسیزیک اسید پنج تنظیم‌کننده رشد هستند که در ادامه با آنها آشنا می‌شوید.

اکسین‌ها، سیتوکینین‌ها و جیبرلین‌ها در فرایندهای رشد مانند تحریک تقسیم یاخته، رشد طولی یاخته‌ها، ایجاد و حفظ اندام‌ها نقش دارند. گرچه این تنظیم‌کننده‌ها را به عنوان محرک رشد می‌شناسیم؛ اما بر اساس مقدار و محل اثر ممکن است نقش باز دارندگی نیز داشته باشند. در ادامه به عملکرد هر یک از این تنظیم‌کننده‌ها می‌پردازیم.

اکسین‌ها

اکسین با افزایش رشد طولی یاخته‌ها، سبب افزایش طول ساقه می‌شود. اکسین ریشه‌زایی را تحریک می‌کند؛ بنابراین، برای تکثیر روبشی گیاهان با استفاده از قلمه به کار می‌رود (شکل ۵). اکسین‌ها را برای تشکیل میوه‌های بدون دانه و درشت کردن میوه‌ها نیز به کار می‌برند.



شکل ۵- تأثیر اکسین بر ایجاد ریشه

بعد از کشف ساختار شیمیایی اکسین‌ها، این ترکیبات به طور مصنوعی ساخته و پژوهش‌هایی برای شناسایی اثر آنها بر گیاهان انجام شدند. محققان دریافتند که بعضی از این ترکیبات، گیاهان دو لپه‌ای را از بین می‌برند؛ بنابراین، آنها را برای ساختن سموم کشاورزی به منظور از بین بردن گیاهان خودرو در مزارعی مانند مزرعه گندم، به کار بردند. **عامل نارنجی** که مخلوطی از اکسین‌ها بود، چنین اثری داشت. ایالات متحده آمریکا در جنگ با ویتنام به مدت ده سال عامل نارنجی را به کار برد. در نتیجه بخشی از جنگل‌های ویتنام که مخفی‌گاه مبارزان بود و نیز زمین‌های کشاورزی آنها از بین

بیشتر بدانید

بعضی بر این باورند که نباید واژه هورمون را برای تنظیم کننده های رشد به کار بریم؛ زیرا معمولاً هورمون در یک محل تولید و بر محلی دیگر تأثیر می گذارد، در حالی که ممکن است محل تولید و تأثیر تنظیم کننده های رشد در گیاهان یکی باشد. همچنین تنظیم کننده های گیاهی در غلظت های متفاوت می توانند یک فرایند را در اندامی مهار یا تحریک کنند. با این حال واژه هورمون گیاهی (Phytohormone) همچنان به کار می رود.

رفت که نتیجه آن، اتمام جنگ به نفع امریکایی ها بود. تولید عامل نارنجی با اتمام این جنگ، ممنوع شد؛ اما چند دهه طول کشید تا جنگل ها احیا شوند. سرطان و تولد نوزادان با نقص های مادرزادی از اثرهای این ماده بود.

سیتوکینین ها: هورمون جوانی

سیتوکینین ها با تحریک تقسیم باخته ای و در نتیجه ایجاد یاخته های جدید، پیر شدن اندام های هوایی گیاه را به تأخیر می اندازند. به همین علت با افشانه کردن سیتوکینین روی برگ و گل ها آنها را تازه نگه می دارند. سیتوکینین ها هورمون ساقه زایی نیز نامیده می شوند. به کارگیری این هورمون در کشت بافت، سبب ایجاد ساقه از یاخته های تمایز نیافته می شود.

شاخه و برگ های بیشتر: برهم کنش دو تنظیم کننده

اگر بخواهید گیاهی پر شاخ و برگ تر داشته باشید، چه کار می کنید؟ احتمالاً سرشاخه ها را که محل جوانه های رأسی (انتهایی) اند، قطع می کنید. همان طور که در شکل ۶-ب می بینید با قطع جوانه رأسی، جوانه های جانبی رشد، و شاخه و برگ جدید ایجاد کرده اند. به اثر بازدارندگی جوانه رأسی بر رشد جوانه های جانبی، چیرگی رأسی می گویند. با قطع جوانه رأسی مقدار سیتوکینین در جوانه های جانبی افزایش و مقدار اکسین آنها کاهش می یابد، در نتیجه جوانه های جانبی رشد می کنند. اگر بعد از قطع جوانه رأسی، در محل برش، اکسین قرار دهیم؛ جوانه های جانبی رشد نمی کنند (شکل ۶-پ). این آزمایش نشان می دهد که اکسین از جوانه رأسی به جوانه های جانبی می رود و مانع از رشد آنها می شود.



پ) حذف جوانه انتهایی

الف) رشد کم جوانه های جانبی ب) ایجاد شاخه های جدید

شکل ۶- جوانه رأسی مانع از رشد جوانه های جانبی می شود.

فعالیت ۱

شکل روبه‌رو تمایز ریشه و ساقه را از یک توده یاخته تمایز نیافته یا همان کال در حضور مقدار متفاوت اکسین و سیتوکینین، در محیط کشت نشان می‌دهد. از این شکل چه نتیجه‌ای می‌گیرید؟



جیبرلین‌ها: تلاش برای رفع مشکل

کشف جیبرلین‌ها حاصل تلاش دانشمندان ژاپنی در بررسی نوعی بیماری قارچی بود که دانه‌زست‌های برنج به آن مبتلا می‌شدند. آلودگی دانه‌زست‌ها به قارچ جیبرلا سبب می‌شد تا به سرعت رشد کنند. این دانه‌زست‌ها باریک و دراز بودند و بافت استحکامی کافی نداشتند، در نتیجه خم می‌شدند و روی زمین می‌افتادند. مسلماً چنین بیماری سبب کاهش محصول برنج و در نتیجه زیان‌های فراوان بود. دانشمندان با استخراج و شناسایی ترکیبات به دست آمده از قارچ جیبرلا، توانستند جیبرلین‌ها را شناسایی و معرفی کنند. پس از آن مشخص شد که جیبرلین‌ها در گیاهان نیز تولید می‌شوند و رشد و فعالیت‌های آنها را کنترل می‌کنند. این تنظیم‌کننده‌های رشد در افزایش طول ساقه از طریق تحریک رشد طولی یاخته و تقسیم آن، رشد میوه و رویش دانه‌ها نقش دارند؛ این هورمون گیاهی را برای تولید میوه‌های بدون دانه و درشت کردن میوه‌ها به کار می‌برند (شکل ۷).



ب) درشت شدن میوه

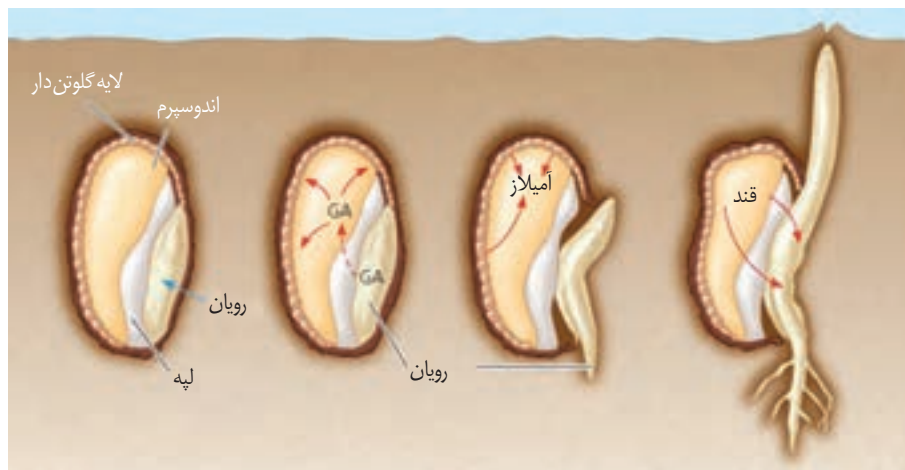


الف) افزایش طول ساقه

شکل ۷- اثر جیبرلین بر گیاهان بوته‌ای (الف) و میوه‌ها (ب).

جیبرلین ها و رویش بذر غلات: رویان غلات در هنگام رویش دانه، مقدار فراوانی جیبرلین می سازند. این هورمون بر خارجی ترین لایه آندوسپرم (لایه گلوتن دار) اثر می گذارد و سبب تولید و رهاشدن آنزیم های گوارشی در دانه می شود (شکل ۸). این آنزیم ها دیواره یاخته ها و ذخایر آندوسپرم را تجزیه می کنند. نشاسته یکی از این ذخایر است که بر اثر آنزیم آمیلاز تجزیه می شود.

شکل ۸- جیبرلین ها در تجزیه ذخایر رویان غلات نقش دارند. GA: جیبرلیک اسید



بیشتر بدانید

نام گذاری نادرست

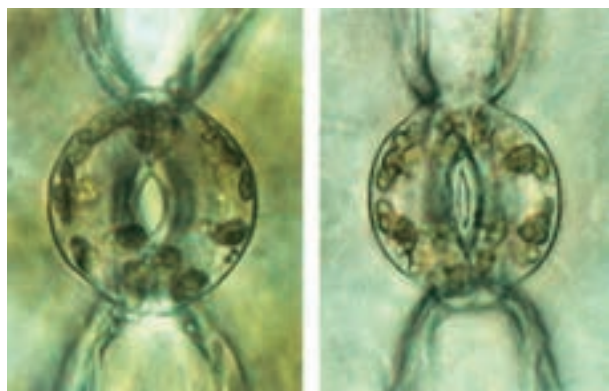
آبسزیک اسید از واژه Abscission به معنای ریزش گرفته شده است. پژوهشگران ابتدا بر این باور بودند که این ماده عامل ریزش برگ هاست. پژوهش های بیشتر نشان داد که این ترکیب نقشی در ریزش برگ ها ندارد؛ اما نام آبسزیک اسید برای این تنظیم کننده رشد باقی ماند.

بازدارنده های رشد

آبسزیک اسید و اتیلن دو تنظیم کننده رشدند که در فرایندهای متفاوتی مانند مقاومت گیاه در شرایط سخت، رسیدگی میوه ها، ریزش برگ و میوه نقش دارند.

آبسزیک اسید: مقابله با شرایط نامساعد

فرض کنید محیط رطوبت کافی برای تأمین آب مورد نیاز برای رشد دانه رُست را نداشته باشد. اگر دانه در این شرایط رویش یابد، چه بر سر دانه رُست می آید؟ اگر گیاه در شرایط خشکی قرار گیرد و روزنه ها همچنان باز بمانند چه چیزی رُخ می دهد؟ شرایط نامساعد محیط مانند خشکی، تولید آبسزیک اسید را در گیاهان تحریک می کند. آبسزیک اسید سبب بسته شدن روزنه ها و در نتیجه حفظ آب گیاه و همچنین مانع رویش دانه و رشد جوانه ها در شرایط نامساعد می شود. به طور کلی این تنظیم کننده، رشد گیاهان را در پاسخ به شرایط نامساعد، کاهش می دهد (شکل ۹).



روزنه باز

روزنه بسته

شکل ۹- حفظ آب گیاه با بسته شدن روزنه ها.

اتیلن: رسیدن میوه ها

شاید شما هم شنیده باشید که برای رسیدن میوه های نارس می توانید در پاکت میوه ها، یک سیب یا

بیشتر بدانید

تغییر در ژن‌ها

این گل‌های اطلسی در یک زمان چیده شده و به مدت ۱۸ ساعت در محیط اتیلن‌دار قرار گرفته‌اند. همان‌طور که می‌بینید بعضی پژمرده و بعضی همچنان شاداب‌اند. گل‌های شاداب متعلق به گیاهی است که با دستکاری ژنی، نسبت به اتیلن غیرحساس شده‌اند.



شکل ۱۰- گوجه فرنگی‌های هر دو جعبه در یک زمان چیده شده، اما گوجه فرنگی‌های سمت راست، سه روز در محیط اتیلن‌دار بوده‌اند.

موز رسیده قرار دهید. از میوه رسیده چه چیزی خارج می‌شود که باعث رسیدگی میوه‌های نارس می‌شود؟ دانشمندان در پژوهش‌های خود دریافتند که از میوه‌های رسیده اتیلن آزاد می‌شود و مقدار اتیلن با رسیدن میوه افزایش می‌یابد. اتیلن گازی است که از سوخت‌های فسیلی نیز رها می‌شود. سال‌ها قبل از آنکه دانشمندان بدانند گیاهان اتیلن تولید می‌کنند، معلوم شده بود که اتیلن حاصل از سوخت‌های فسیلی باعث ریزش برگ درختان می‌شود. اتیلن در ریزش میوه نیز نقش دارد. بافت‌های آسیب دیده گیاهان نیز اتیلن تولید می‌کنند. گاهی میوه‌ها را نارس می‌چینند و زمانی که می‌خواهند آنها را در بازار پخش کنند، به مدت مشخصی، در محیط اتیلن‌دار قرار می‌دهند تا رسیده شوند (شکل ۱۰).



ردپای اتیلن در چیرگی رأسی

دیدید که اکسین، عامل چیرگی رأسی است و مانع رشد جوانه‌های جانبی در حضور جوانه رأسی یا انتهایی می‌شود. اکسین جوانه رأسی، تولید اتیلن در جوانه‌های جانبی را تحریک می‌کند و در نتیجه با افزایش اتیلن در جوانه‌های جانبی، رشد آنها متوقف می‌شود.

ریزش برگ

برگ هنگامی می‌ریزد که ارتباط آن با شاخه قطع شده باشد. با توجه به شناختی که از ساختار یاخته‌ها و بافت‌های گیاهی دارید آیا می‌توانید تغییراتی را که در ساختار برگ رخ می‌دهد، پیش‌بینی کنید؟ اگر بنا باشد که ارتباط برگ با شاخه قطع شود باید یاخته‌ها از هم جدا شوند. مشاهدات میکروسکوپی نشان می‌دهد که در قاعده دم‌برگ در محل اتصال به شاخه، لایه جداکننده تشکیل می‌شود. یاخته‌ها در این منطقه به علت فعالیت آنزیم‌های تجزیه‌کننده از هم جدا می‌شوند و به تدریج از بین می‌روند، در

بیشتر بدانید

تنظیم‌کننده‌های دیگر

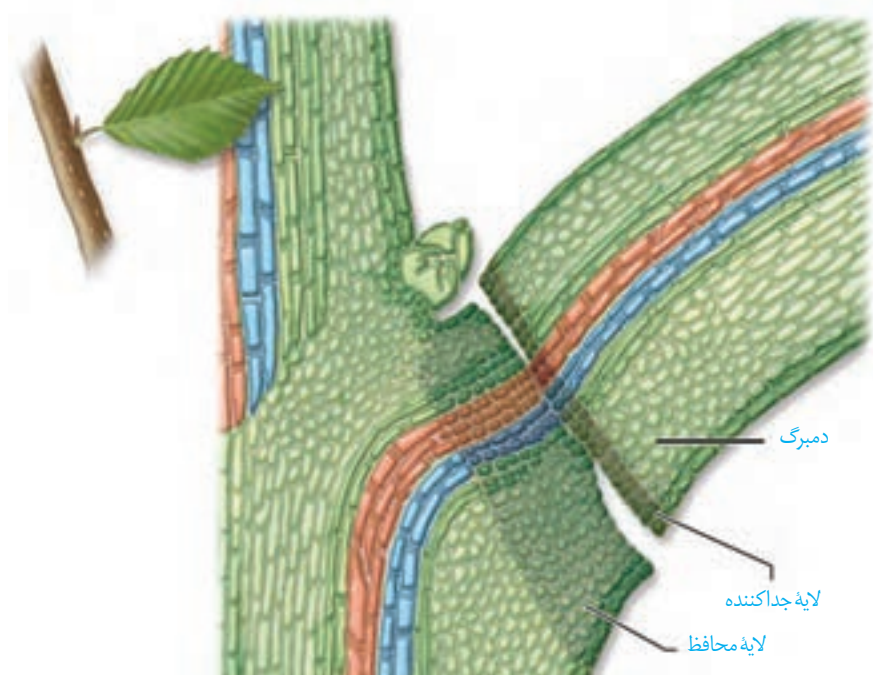
انواع دیگری از ترکیبات تنظیم‌کننده در گیاهان وجود دارد. براسینو استروئیدها، جاسمونات‌ها و سالیسیلیک اسید از این ترکیبات‌اند.

بیشتر بدانید

ترکیباتی مشابه هورمون‌های جانوری

ترکیباتی در سویا وجود دارد که شبیه هورمون‌های جنسی‌اند. یکی از آنها ترکیبات شبه استروژنی است. پژوهش‌ها نشان می‌دهد که سرطان پروستات در کشورهای شرق دور که استفاده فراوانی از فرآورده‌های غذایی سویا (لوبیای روغنی) دارند، کمتر از کشورهای دیگر است. همچنین از فرآورده‌های سویا داروهایی برای کاهش علائم یائسگی ساخته می‌شود.

نتیجه برگ از شاخه جدا می‌شود. با چوب پنبه‌ای شدن یاخته‌هایی از شاخه که در محل اتصال به دم‌برگ قرار دارند، لایه محافظی در برابر محیط بیرون ایجاد می‌شود (شکل ۱۱). مشخص شده است که برگ در پاسخ به افزایش نسبت اتیلن به اکسین، آنزیم‌های تجزیه‌کننده دیواره را تولید می‌کند.



شکل ۱۱- ریزش برگ با تشکیل لایه جداکننده.

فعالیت ۲

یکی از دلایل خراب شدن میوه‌ها هنگام ذخیره یا انتقال، تولید اتیلن در آنهاست. برای رفع این مشکل، ترکیباتی به کار می‌برند که با اتصال به گیرنده‌های اتیلن که در یاخته وجود دارند، سبب توقف فرایند رسیدگی می‌شوند. اکنون زیست‌شناسان در تلاش‌اند با تغییر در ژن، گیاهان را نسبت به اتیلن غیر حساس کنند. به نظر شما این ایده برای گیاهان میوه‌دار مناسب است؟ برای پاسخ خود دلیل ارائه دهید.

فعالیت ۳

با توجه به اینکه فرمول شیمیایی تنظیم‌کننده‌های رشد گیاهی شناخته شده است، این ترکیبات به طور مصنوعی ساخته می‌شوند و برای تولید و نگهداری محصولات کشاورزی به کار می‌روند. به نظر شما آیا این ترکیبات می‌توانند سلامت انسان و محیط زیست را تهدید کنند؟

شاید توجه کرده باشید که درختان با کاهش سرما گل می‌دهند، یا اینکه گلبرگ‌های بعضی گیاهان در شب بسته می‌شوند. آیا می‌توانید مثال‌های دیگری نیز دربارهٔ پاسخ گیاهان به شرایط محیطی ارائه دهید؟ در ادامه انواعی از این پاسخ‌ها را بررسی می‌کنیم.

پاسخ به نور

دیدیم که ساقه به سمت نور یک جنبه خم می‌شود. آیا پاسخ ریشه به نور یک جنبه، همانند ساقه است؟

فعالیت ۴

الف) پیش‌بینی می‌کنید که پاسخ ریشه به نور یک جنبه چه باشد؟

ب) برای بررسی درستی پیش‌بینی خود، آزمایشی طراحی کنید.

پ) آزمایشی را که طراحی کرده‌اید با چند گیاه انجام و نتیجه را گزارش دهید.

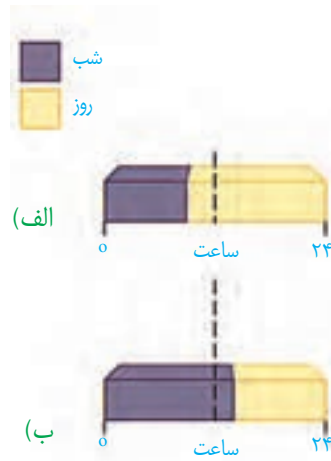
می‌دانید که نقش نور در گیاهان، حیاتی است؛ اما نور افزون بر نقشی که در فتوسنتز دارد، فرایندهای متفاوتی را در گیاهان تنظیم می‌کند. گل‌دهی یکی از این فرایندهاست که در ادامه به آن می‌پردازیم.

گل‌دهی در گیاهان

گیاهانی که در محل زندگی خود می‌بینید، در چه فصل یا فصل‌هایی گل می‌دهند؟ چرا بعضی گیاهان در فصلی خاص و بعضی در همهٔ فصل‌ها گل می‌دهند؟ اگر بخواهیم گیاهی را که در تابستان گل می‌دهد، مثلاً در پاییز و اواخر بهار گل‌دهی کنیم، آن را باید در چه شرایطی قرار دهیم؟ گیاه‌هنگامی گل می‌دهد که سرلادرویشی که در جوانه قرار دارد، به سرلادگل یا زایشی تبدیل شود. این تبدیل به شرایط محیطی مانند دما و طول روز و شب وابسته است.

گیاهان را براساس نیاز به نور، برای گل‌دهی در سه دستهٔ **روز کوتاه، روز بلند و بی‌تفاوت** قرار می‌دهند. گیاه داوودی در روزهای کوتاه پاییز گل می‌دهد. در واقع این گیاه برای گل‌دادن به شب‌های طولانی نیاز دارد و زمانی گل می‌دهد که طول شب از حدی کمتر نباشد. شیدر که در تابستان گل می‌دهد، روز بلند است. این گیاه برای گل‌دادن به شب‌های کوتاه نیاز دارد و زمانی گل می‌دهد که طول شب از حدی بیشتر نباشد (شکل ۱۲). آگاهی از تأثیر نور بر گل‌دهی به پرورش‌دهندگان گل امکان داد تا با ایجاد شرایط نوری مصنوعی بتوانند در همهٔ فصل‌ها، گل‌هایی با نیازهای نوری متفاوت پرورش دهند.

به هر حال گل‌دادن بعضی گیاهان وابسته به طول شب و روز نیست. چنین گیاهانی را **بی‌تفاوت** می‌نامند؛ گیاه گوجه‌فرنگی از این گروه است.



فعالیت ۵

باتوجه به شکل مقابل و شکل ۱۲-ب توضیح دهید که شکستن شب با یک جرعه نوری چه تأثیری بر گل دهی گیاه روز کوتاه دارد.




پاسخ به دما

گیاهان هر دمایی را نمی‌توانند تحمل کنند. مثلاً سرمای شدید می‌تواند مانع از رویش دانه‌ها و جوانه‌ها شود. برگ بعضی درختان با کاهش دما در فصل پاییز می‌ریزد و جوانه‌ها با برگ‌های پولک ماندنی حفظ می‌شوند. دیدیم که گیاهان برای گل دادن نیازهای نوری متفاوتی دارند. بعضی گیاهان برای گل دادن نیاز به گذراندن یک دوره سرما نیز دارند. مثلاً برای نوعی گیاه گندم مشاهده شده است که اگر بذر آن را مرطوب کنیم و در سرما قرار دهیم، دوره رویشی آن کوتاه می‌شود و زودتر گل می‌دهد. کشف این ویژگی در گیاهان، امکان بهره‌برداری از زمین‌هایی را فراهم کرد که اکثر سال با برف و یخ پوشیده شده‌اند.

پاسخ به گرانش زمین

آیا گرانش زمین بر جهت رشد ساقه و ریشه اثر دارد؟ به شکل ۱۳ نگاه کنید. همان‌طور که می‌بینید ساقه در خلاف جهت گرانش و ریشه در جهت گرانش زمین رشد می‌کند. رشد جهت‌دار اندام‌های گیاه به گرانش زمین، **زمین‌گرایی** نامیده می‌شود. می‌توانید با طراحی و اجرای آزمایش‌هایی، زمین‌گرایی را در انواعی از دانه‌رست‌ها بررسی کنید.



شکل ۱۳- تأثیر گرانش زمین بر جهت رشد ریشه و ساقه.

پاسخ به تماس

در شکل ۱۴ مثال هایی از پاسخ گیاهان به تماس را مشاهده می کنید. شاید بعضی گیاهان را دیده باشید که به دور گیاهان دیگر یا یک پایه می پیچند. مثلاً ساقه درخت مو در تماس با درختی دیگر و یا پایه، به دور آن می پیچد. پیچش به علت تفاوت رشد ساقه در بخش قرار گرفته روی تکیه گاه و سمت مقابل آن ایجاد می شود؛ به طوری که رشد یاخته ها در محل تماس کاهش می یابد. ضربه زدن به برگ گیاه حساس، باعث تا شدن برگ می شود. این پاسخ به علت تغییر فشار تورژانس در یاخته هایی رخ می دهد که در قاعده برگ قرار دارند. برگ تله مانند گیاه گوشتخوار کرک هایی دارد که با برخورد حشره به آنها تحریک و پیام هایی را به راه می اندازند که سبب بسته شدن برگ و در نتیجه به دام افتادن حشره می شود.



(الف)



(پ)

(ب)

شکل ۱۴- الف) پیچش ساقه مو،
ب) روی هم تا شدن برگچه های
گیاه حساس،
پ) بسته شدن برگ گیاه گوشت خوار
با برخورد حشره.

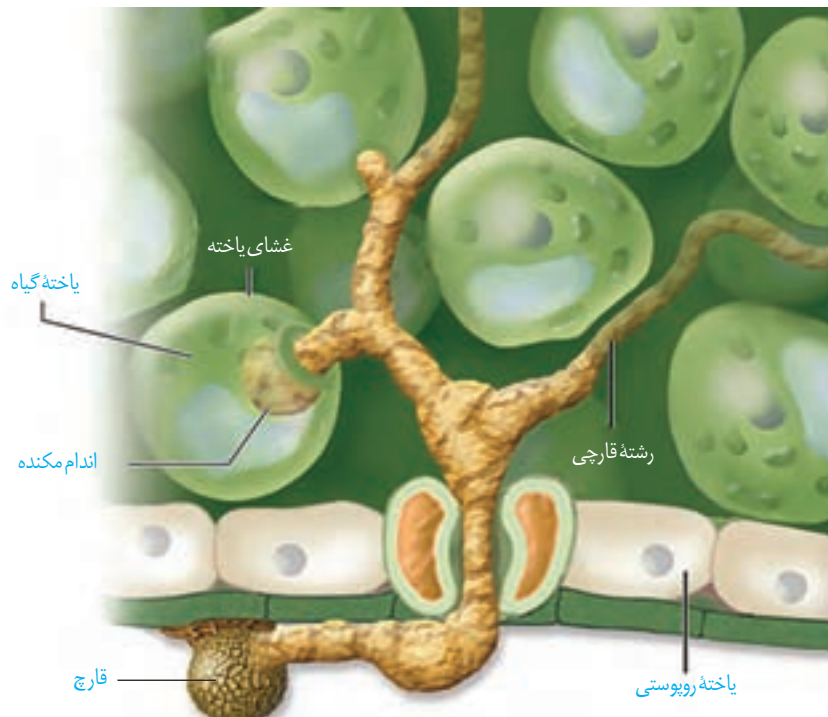
پاسخ هایی از جنس دفاع

گیاهان در معرض هجوم عوامل بیماری زا و جانوران گیاهخوار قرار دارند. شاید نام بیماری هایی مانند زنگ گندم یا سیاهک گندم را شنیده باشید. این عوامل سبب تخریب محصولات کشاورزی می شوند. به هر حال گیاهان در برابر آنها بی دفاع نیستند. به نظر شما گیاهان چگونه از خود دفاع می کنند؟

تلاش برای جلوگیری از ورود

می دانید روپوست، خارجی ترین سامانه بافتی در بخش های جوان گیاه است و در بخش های هوایی گیاه با پوستک پوشیده شده است. نقش پوستک را به یاد دارید؟ پوستک تا حدودی مانع از نفوذ عوامل بیماری زا به گیاه می شود. همچنین دیواره یاخته ای محکم است و عبور از آن کار آسانی نیست. وجود ترکیباتی مانند لیگنین یا سیلیس در دیواره به سخت شدن آن و در نتیجه افزایش توان

این سد فیزیکی کمک می‌کند. با این حال عوامل بیماری‌زایی می‌توانند با عبور از منفذ روزنه‌ها یا فضای بین یاخته‌ها از این سد بگذرند (شکل ۱۵).



شکل ۱۵- پوستک، سدی در برابر ورود عوامل بیماری‌زاست.

بافت چوب پنبه نیز در اندام‌های مسن گیاهان، علاوه بر حفظ آب، مانعی در برابر عوامل آسیب‌رسان است.

شکل ۱۶- الف) خارها گیاهان را از خورده شدن به وسیله گیاهخواران حفظ می‌کنند. ب) مواد چسبناک در سطح گیاه که به حشره چسبیده‌اند.

کرک و خار نیز در دفاع از گیاهان نقش دارند (شکل ۱۶). مثلاً حشره‌های کوچک نمی‌توانند روی برگ‌های کرک‌دار به راحتی حرکت کنند؛ همچنین اگر گیاه مواد چسبناک ترشح کند، حرکت حشره دشوارتر و گاه غیرممکن می‌شود.



(ب)



(الف)

بعضی گیاهان در پاسخ به زخم، ترکیباتی ترشح می کنند که در محافظت از آنها نقش دارند. گاه حجم این ترکیبات آن قدر زیاد است که حشره در آن به دام می افتد. با سخت شدن این ترکیبات، سنگواره هایی ایجاد می شود که حشره در آن حفظ شده است (شکل ۱۷).



شکل ۱۷- سنگواره تشکیل شده از ترشحات گیاه و حشره

بیشتر بدانید

گون سمی

گون ها گیاهانی بوته ای اند و در مراتع می رویند. نوعی گون که به گون سمی مشهور است، ترکیبات آکالوئیدی دارد که بر دستگاه عصبی تأثیر می گذارد. اگر دام ها از این گیاه تغذیه کنند، سُست می شوند و از غذا خوردن باز می مانند.



دفاع شیمیایی: گیاهان ترکیباتی تولید می کنند که سبب مرگ یا بیماری گیاه خواران می شوند. ترکیبات سیانید دار از این گروه اند که در تعدادی از گونه های گیاهی ساخته می شوند. سیانید تنفس یاخته ای را متوقف می کند.

آکالوئیدها در دور کردن گیاهخواران نقش دارند. نیکوتین که از آکالوئیدهاست، چنین نقشی در گیاه تنباکو دارد.

اگر ترکیباتی که گیاه می سازد، جانور را نکشد، آن را مسموم می کند و جانور از خوردن دوباره آن پرهیز می کند. جالب است که چنین ترکیباتی برای خود گیاه مرگبار نیستند؛ به نظر شما گیاه با چه سازوکاری خود را در برابر این ترکیبات حفظ می کند؟

مشخص شده است که گیاهان سازوکارهای متفاوتی برای جلوگیری از اثر این مواد بر فرایندهای یاخته ای خود دارند. یکی از این سازوکارها تولید ترکیباتی است که در خود گیاه سمی نیستند؛ بلکه در لوله گوارش جانوران تجزیه و به ماده سمی تبدیل می شوند. مثلاً گیاه ترکیب سیانید داری می سازد که تأثیری بر تنفس یاخته ای ندارد؛ اما وقتی جانور گیاه را می خورد، این ترکیب تجزیه و سیانید که سمی است از آن جدا می شود.

بعضی گیاهان با تولید موادی که برای گیاهان دیگر سمی اند، از رویش دانه یا رشد گیاهان دیگر در اطراف خود جلوگیری می کنند. به نظر شما این ویژگی چه نقشی در ماندگاری چنین گیاهانی دارد؟

فعالیت ۶

مرگ یاخته‌ای

مرگ یاخته‌ای یکی دیگر از پاسخ‌های دفاعی در گیاهان است. فرض کنید نوعی ویروس بیماری‌زا توانسته است به گیاه نفوذ کند. ورود ویروس در گیاه فرایندهایی را به راه می‌اندازد که نتیجه آن، مرگ یاخته‌های آلوده و قطع ارتباط آنها با بافت‌های سالم است. در نتیجه ویروس نمی‌تواند در بافت‌های سالم گیاه تکثیر یابد و گیاه فرصت پیدا می‌کند تا با سازوکارهای دیگری مانند تولید ترکیبات ضد ویروس با آن مقابله کند (شکل ۱۸). در مرگ یاخته‌ای، یاخته به وسیله آنزیم‌های خود گوارش می‌شود. سالیسیلیک اسید که از تنظیم‌کننده‌های رشد در گیاهان است در مرگ یاخته‌ای نقش دارد. یاخته گیاهی آلوده، این ترکیب را رها و مرگ یاخته‌ای را القا می‌کند.

بیشتر بدانید

گیاه کاساوا

این گیاه بومی آمریکای جنوبی است و پوست ریشه آن سرشار از ترکیب سیانیددار است. این ریشه نشاسته فراوان دارد و یکی از منابع غذایی است. مقدار اندکی ترکیب‌های سیانیددار در مغز دانه زردآلو نیز وجود دارد.



شکل ۱۸- با مرگ یاخته‌ها ارتباط یاخته‌های آلوده با سالم قطع می‌شود.



جانوران از گیاهان حفاظت می‌کنند

به شکل ۱۹ نگاه کنید! انبوهی از مورچه‌ها به حشره‌ای که قصد خوردن برگ‌های درخت آکاسیا را دارد، هجوم برده‌اند. بعید است که حشره بتواند از حمله‌های مرگبار این مورچه‌ها جان سالم به در برد. دیده شده است که این مورچه‌ها حتی به پستانداران کوچک و گیاهان دارزی نیز حمله می‌کنند. گیاهان دارزی، گیاهانی‌اند که روی درختان رشد می‌کنند. جالب است که گرده‌افشانی درخت

شکل ۱۹- این مورچه‌ها در حقیقت از محل زندگی خود محافظت می‌کنند.



آکاسیا وابسته به زنبورهاست. چه چیزی مانع از حمله مورچه‌ها به زنبورهای گرده‌افشان می‌شود؟ مشخص شده است وقتی گل‌های آکاسیا باز می‌شوند، نوعی ترکیب شیمیایی تولید و منتشر می‌کنند که با فراری دادن مورچه‌ها مانع از حمله آنها به زنبورهای گرده‌افشان می‌شود.

بعضی گیاهان در برابر حمله گیاه خواران، مواد فراری تولید و در هوا پخش می کنند که سبب جلب جانوران دیگر می شود. همین طور که در شکل ۲۰-الف می بینید، نوزاد کرمی شکلی حشره در حال خوردن برگ تنباکو است. از یاخته های آسیب دیده برگ، ترکیب فراری متصاعد می شود که نوعی زنبور وحشی آن را شناسایی می کند. زنبور ماده ای که در آن اطراف زندگی می کند، با ردیابی این مواد، خود را به نوزاد کرمی شکل می رساند و روی آن تخم می گذارد. نوزادان زنبور بعد از خروج از تخم از نوزاد کرمی شکل تغذیه می کنند و در نتیجه آن را می کشند. نتیجه این رویداد کاهش جمعیت حشره آفت است.



شکل ۲۰- چه روابطی بین این سه جاندار وجود دارد؟



ث) زنبور وحشی در حال تخم گذاری روی نوزاد کرمی شکل حشره

بیشتر بدانید

سم در گیاهان

ترکیبی به نام ریسین در پوسته دانه کرچک وجود دارد که از سیانید و سم مار کبری کشنده تر است. روغن کرچک از دانه بدون پوسته گرفته می شود.




فعالیت ۷

الف) فردی بر این باور است که امواج صوتی بر رشد و میزان محصول گیاهان تأثیر دارد. آیا شما با این نظر موافق اید؟ برای تأیید یا

ردّ این نظر چه آزمایشی طراحی می کنید؟

ب) نمونه هایی از سازوکارهای دفاعی در گیاهان محل زندگی خود و نیز ارتباط هایی که بین آنها و جانوران وجود دارد گزارش کنید.



فهرست منابع

- Raven Peter, Mason Kenneth, Losos Jonathan, Singer Susan, Biology, 11th Edition, McGraw-Hill, 2017.
- John E. Hall, Guyton and Hall Textbook of Medical Physiology , 13th Edition, Elsevier, 2016.
- Bruce Alberts, Alexander Johnson, Julian Lewis, David Morgan, Martin Ra, Keith Roberts, and Peter Walter, Molecular Biology of The Cell ,6th Edition, Garland Science, 2015.
- Neil A.Campbell,Biology A Global Approach,10 th Edition, Pearson Education,2015.
- Abul Abbas Andrew H.Lichtman, Shiv Pillai, Basic Immunology ,Functions and Disorders of the Immune System, 5th Edition, Elsevier, 2015.
- Solomon Eldera ,Berg Linda, Martin Diana, Biology, 10 Th Edition, Thomson, 2015.
- Hoefnagels Marielle, Biology, Concepts and Investigations, 3th Edition, McGraw-Hill, 2015.
- Abul Abbas, Andrew H.Lichtman, Shiv Pillai, Cellular and Molecular Immunology, 8th Edition, Elsevier, 2014.
- L. Mescher, Junqueira’s Basic Histology Anthony,13th Edition, Mc GrawHill ,2013.
- Eric P. Widmaier, Vander’s Human Physiology, 13th Edition, Mc GrawHill, 2013.
- Cecie Starr, Bilogy Today and Tomorrow with Physiology ,Broks/Cole,Cengage Learning, 4th Edition, 2013.
- Mader Sylvia &Windelspecht Michael, Biology,11Th Edition,McGraw-Hill, 2013.
- Russel Hertz Mcmillan, Biology The Dynamic Science, 2end Edition, Broks/Cole, Cengage Learning, 2011.
- Cleveland P. Hickman, Integrated Principles of Zoology, 14th Edition, M Graw-Hill, 2008.
- Linda Berg, Introductory Botany, Plants, People, and Environment, Thomson Brooks, 2008.



واژه های مصوب فرهنگستان زبان و ادب فارسی در
کتاب زیست شناسی ۲ پایه یازدهم

واژه به انگلیسی	واژه مصوب	واژه بیگانه	
Dendrite	دارینه	دندریت	فصل ۱
Axon	آسه	اکسون	
Synapse	همایه	سیناپس	
Limbic	کناره ای	لیمبیک	
Epiphysis	رومغزی	ایپی فیز	
Thalamus	نهنج	تالاموس	
Chiasma	چلیپا	کیاسما	فصل ۲
Thyroid	سپردیس	تیروئید	فصل ۴
Diapedesis	تراگذری	دیاپدز	فصل ۵
Antigen	پادگن	آنتی ژن	
Chromatin	فامینه	کروماتین	فصل ۶
Chromatid	فامینک	کروماتید	
Chromosome	فام تن	کروموزوم	
Nucleosome	هسته تن	نوکلئوزوم	
Diploid	دولاد	دیلوئید	
Haploid	تک لاد	هاپلوئید	
Polyploid	چندلاد	پلی پلوئید	
Mitosis	رشتمان	میتوز	
Meiosis	کاستمان	میوز	
Centriole	میانک	سانتریول	
Interphase	میان چهر	اینترفاز	
Prophase	پیش چهر	پروفاز	
Prometaphase	پیشا پس چهر	پرومتافاز	
Metaphase	پس چهر	متافاز	
Anaphase	پسین چهر	آنافاز	
Telophase	واپسین چهر	تلوفاز	
Metastasis	دگر نشینی	متاستاز	

Sperm	زامه	گامت نر (اسپرم)	فصل ۷	
Spermatogenesis	زامه‌زایی	اسپرم‌زایی (اسپرماتوژنز)		
Spermatogonium	زامه‌زا	اسپرماتوگونی		
Spermatocyte	زام‌یاخته	اسپرماتوسیت		
Spermatid	زام‌یاختک	اسپرماتید		
Epididymis	برخاگ	اپیدیدیم		
Acrosome	تازک‌تن	آکروزوم		
Hermaphrodite	نرماده	هرمافرودیت		
Seminal vesicle	گُشناب‌دان	وزیکول سمینال		
Follicle	انبانک	فولیکول		
Gamete	کامه	گامت		
Oocyte	مام‌یاخته	اووسیت		
Oogonium	مامه‌زا	اووگونی		
Vagina	زهره‌راه	واژن		
Sonography	صوت‌نگاری	سونوگرافی		
Amnion	درون‌شامه رویان	آمینون		
Chorion	برون‌شامه رویان	کوریون		
Endosperm	درون‌دانه	آندوسپرم		فصل ۸

سازمان پژوهش و برنامه‌ریزی آموزشی جهت ایفای نقش خطیر خود در اجرای سند تحول بنیادین در آموزش و پرورش و برنامه درسی ملی جمهوری اسلامی ایران، مشارکت معلمان را به‌عنوان یک سیاست اجرایی مهم دنبال می‌کند. برای تحقق این امر در اقدامی نوآورانه سامانه تعاملی بر خط اعتبارسنجی کتاب‌های درسی راه‌اندازی شد تا با دریافت نظرات معلمان درباره کتاب‌های درسی نونگاشت، کتاب‌های درسی را در اولین سال چاپ، با کمترین اشکال به دانش‌آموزان و معلمان ارجمند تقدیم نماید. در انجام مطلوب این فرایند، همکاران گروه تحلیل محتوای آموزشی و پرورشی استان‌ها، گروه‌های آموزشی، دبیرخانه راهبری دروس و مدیریت محترم پروژه آقای محسن باهو نقش سازنده‌ای را بر عهده داشتند. ضمن ارج نهادن به تلاش تمامی این همکاران، اسامی دبیران و هنرآموزانی که تلاش مضاعفی را در این زمینه داشته و با ارائه نظرات خود سازمان را در بهبود محتوای این کتاب یاری کرده‌اند به شرح زیر اعلام می‌شود.

کتاب زیست شناسی ۲ - کد ۱۱۱۲۱۶

ردیف	نام و نام خانوادگی	استان محل خدمت
۱	مهران داوری فر	گلستان
۲	مجید بقایی	شهر تهران
۳	مسعود خانمحمدی	آذربایجان شرقی
۴	فهیمه حاجی محمد سمیعی	البرز
۵	غلامرضا زمردی	همدان
۶	ملیحه نظام دوست	خراسان جنوبی
۷	مزگان نظری	کرمانشاه
۸	وحید لطفی	آذربایجان غربی
۹	سکینه طیبی	البرز
۱۰	شیوا خیرجوئی	آذربایجان غربی
۱۱	گیتی بلالی دهکردی	چهارمحال و بختیاری
۱۲	فرانک نصیرپور	آذربایجان شرقی
۱۳	گیتی علیزاده	اصفهان
۱۴	بتول جلیلی	خراسان جنوبی
۱۵	محبوبه فردوسی مکان	خراسان رضوی
۱۶	عفت نخعی سرودانی	کرمان
۱۷	زهرا جزایری	فارس
۱۸	علی مقدم	گیلان
۱۹	ماشالله درویشی	بوشهر
۲۰	منصوره ربیس دانا	شهر تهران
۲۱	مهناز هجران	شهر تهران

قم	منصوره بیان	۲۲
بوشهر	راضیه دانا	۲۳
فارس	خدابخش بهزادی	۲۴
کرمان	سیدرضا جعفری	۲۵
شهرستان‌های تهران	مهرانوش صفاریور	۲۶
قم	حمیدرضا قلیچ‌خانی	۲۷
آذربایجان شرقی	محسن هادی	۲۸
گیلان	علی صدق‌آمیز	۲۹
ایلام	صفا رشیدی	۳۰
همدان	سکینه حاجی‌ولیئی	۳۱
خراسان شمالی	ناهید منور	۳۲
چهارمحال و بختیاری	مختار حیدری	۳۳
سمنان	الهه صفاریه	۳۴
کردستان	ابوالفضل یاسائی	۳۵
قزوین	مسعود پارسامجد	۳۶
سمنان	فاطمه نبوی چاشمی	۳۷
مازندران	قدیر فتاحی کیاسری	۳۸
اصفهان	علیرضا شمس‌آبادی	۳۹
کهگیلویه و بویراحمد	مریم ستوده	۴۰
سیستان و بلوچستان	بهمن هرمزی	۴۱
لرستان	غلامحسین ویسکرمی	۴۲
خراسان شمالی	علیرضا حسین‌زاده	۴۳
هرمزگان	فخرالسادات قریشی	۴۴
زنجان	عارفه منظمی	۴۵
اردبیل	ثریا جلیلیان	۴۶
کردستان	ثریا کریمی	۴۷
ایلام	مهناز جابروند	۴۸
کرمانشاه	مهرداد فرخی	۴۹
یزد	مهدیه تقدیسی سیار	۵۰
یزد	جعفر پوراگرمی	۵۱
خوزستان	مریم قاسم‌زاده دهکردی	۵۲
خراسان رضوی	علیرضا لطفی	۵۳
مازندران	فاطمه یحیی‌زاده ساروی	۵۴

معلّمان محترم، صاحب نظران، دانش آموزان عزیز و اولیای آنان می توانند
نظر اصلاحی خود را درباره مطالب این کتاب از طریق نامه به نشانی تهران،
صندوق پستی ۱۵۸۷۵/۴۸۷۴، گروه درسی مربوطه یا پیام نگار (Email)
talif@talif.sch.ir ارسال نمایند.

دفتر تألیف کتاب های درسی عمومی و متوسطه نظری